



تا برابری ها

تألیف پرویز شهریاری



نابرابری‌ها

نوشته

پرویز شهریاری



تهران، ۱۳۷۲



انتشارات مجید

انتشارات فردوس: خیابان مجاهدین اسلام، شماره ۲۶۲ تلفن: ۳۱۲۴۵۳۳

تلفن: ۵۴۴۸۵۹

انتشارات مجید: ده متری ثقفی، شماره ۲۸



نابرابری ها

پرویز شهریاری

امور فنی: حسن نیک بخت

چاپ اول، ۱۳۷۲

چاپ: چاپخانه تابش

تیراژ: ۲۵۰۰ نسخه

همه حقوق محفوظ است.

فهرست

۵	مقدمه
۷	نخستین آشنایی‌ها
۲۵	فصل اول. عدد نپر
۳۸	فصل دوم. نابرابری‌های مربوط به واسطه‌ها
	§ ۱. واسطه حسابی، واسطه هندسی، واسطه توافقی و
۳۸	واسطه مرتبعی دو عدد
۴۴	§ ۲. نابرابری کوشی
۵۸	§ ۳. واسطه‌های دیگر
۷۰	§ ۴. تعبیر هندسی
۸۰	فصل سوم. نابرابری‌های دیگر
۱۰۸	فصل چهارم. روش‌ها و کاربردها
۱۰۸	§ ۱. روش‌های اثبات نابرابری‌ها
۱۱۵	§ ۲. کاربردها
۱۳۰	حل تمرین‌ها

مقدمه

۱. بسیاری از مؤلفان کتاب‌های ریاضی، برابری را «معادله» می‌نامند و، آن وقت، تعریف می‌کنند: معادله بردوگونه است، معادله اتحادی و معادله غیراتحادی. در کتاب‌های فارسی معمول است که معادله اتحادی را اتحاد، و معادله غیراتحادی را معادله می‌نامند (که ما هم در این کتاب، از همین نام‌گذاری اخیر، استفاده کرده‌ایم).

به‌همین ترتیب، تقریباً در همه کتاب‌های بیگانه، هر رابطه‌ای را که با یکی از علامت‌های $<$ یا $>$ مشخص شده باشد، «نا برابری» می‌خوانند و آن‌ها را به دو گروه «نا برابری اتحادی» و «نا برابری غیر اتحادی» تقسیم می‌کنند.

در این کتاب، همان‌طور که در بیشتر کتاب‌های فارسی معمول است، به جای «نا برابری اتحادی» اصطلاح «نا برابری» و به جای اصطلاح «نا برابری غیر اتحادی»، اصطلاح «نامعادله» را به کار برده‌ایم.

۲. در آغاز نظر بر این بود که، در این کتاب، هم از نا برابری‌ها صحبت شود و هم از نامعادله‌ها؛ ولی به دلیل حجم بزرگی که کتاب به خود می‌گرفت، نامعادله‌ها به جلد دیگری از کتاب موکول شد.

۳. همان‌طور که روال کار من در تهیه این گونه کتاب‌هاست، در این جا هم، خیلی از مفهوم‌ها یا قضیه‌ها را ضمن حل تمرین‌ها آورده‌ام و، بنابراین، برای استفاده کامل از کتاب، باید به حل تمرین‌ها هم توجه شود.

۴. اگر ضمن مرور کتاب، به مسأله‌ها یا قضیه‌های دشواری برخوردید،

می‌توانید، درد را اول، از آن‌ها صرف نظر کنید و، بعد، در دوردوم، دوباره به آن‌ها بپردازید؛ ولی در هر حال، تلاش کنید، ابتدا خودتان تمرین‌ها را حل کنید، و بعد - چه به نتیجه رسیده‌اید یا نرسیده‌اید - به بخش حل مراجعه و کار خود را مورد ارزیابی قرار دهید. ادعا نمی‌شود که، راه حل‌های این کتاب برای تمرین‌ها، بهترین راه حل‌هاست و، چه بسا، شما بتوانید راه حل‌های زیباتری پیدا کنید.

۵. کتاب را از روی یادداشت‌های جداگانه‌ای که در طول سال‌ها تهیه شده بودند، آماده کرده‌ام و، به همین مناسبت، ضمن، آخرین بازدید مطالب، متوجه شدم، تعداد اندکی از مسأله‌ها، در جاهای مختلف تکرار شده‌اند. ولی از آن جا که، این وضع، هیچ لطمه‌ای به کار وارد نمی‌کرد، از حذف آن‌ها خودداری کردم.

۶. کتاب وقتی می‌تواند کامل و جامع شود که مورد عنایت همکاران و دانش‌آموزانی قرار بگیرم که بایادآوری‌ها خود، مرا برای چاپ‌های بعدی کتاب راهنمایی کنند.

مؤلف

نخستین آشنائی‌ها

۰۱ می‌دانیم عدد π برابر است با نسبت طول محیط دایره بر طول قطر آن. ولی طول محیط دایره را چگونه باید محاسبه کرد؟ ادمیدس، ریاضی‌دان یونانی با انتخاب ۹۶ ضلعی منتظم محاط در دایره به جای خود دایره، نتیجه

گرفت که عدد π بین دو عدد $\frac{223}{71}$ و $\frac{22}{7}$ است، یعنی

$$\frac{223}{71} < \pi < \frac{22}{7} \Rightarrow 3/14083 < \pi < 3/14285$$

و $\frac{22}{7} = 3\frac{1}{7}$ را تقریب خوبی برای عدد π می‌دانست. نابرابری‌های ادمیدس برای عدد π درست است و از آن می‌توان نتیجه گرفت که عدد π تا دو رقم بعد از ممیز برابر است با $3/14$.

غیاث‌الدین جمشید کاشانی، ریاضی‌دان بزرگ ایرانی همین روش را در پیش می‌گیرد و با آغاز از شش ضلعی‌های محاطی و محیطی، خود را به 3×2^8 ضلعی (یعنی 805306368 ضلعی) منتظم محاطی و محیطی می‌رساند، و در نتیجه، عدد π را تا ۱۷ رقم درست بعد از ممیز به دست می‌آورد. کاشانی، برای محیط دایره، واسطه حسابی محیط‌های 3×2^8 ضلعی منتظم محاطی و 3×2^8 ضلعی منتظم محیطی را در نظر می‌گیرد.

همچنین ابوالوفا بوزجانی، ریاضی‌دان دیگر ایرانی، برای محاسبه

سینوس نیم درجه، با استفاده از نابرابری‌های

$$\frac{2}{3}\sin\left(\frac{15}{32}\right)^{\circ} + \frac{1}{3}\sin\left(\frac{18}{32}\right)^{\circ} < \sin 30' < \frac{4}{3}\sin\left(\frac{15}{32}\right)^{\circ} - \frac{1}{3}\sin\left(\frac{12}{32}\right)^{\circ}$$

واسطه حسابی مقدارهای دوطرف را به دست می‌آورد.

۴. اکنون به این مسأله از «حساب» توجه کنیم.

می‌خواهیم تعدادی دانش‌آموز را، برای بازدید از شهری باستانی، با اتوبوس به سفر ببریم. اگر اتوبوس‌های با ظرفیت ۸۰ نفر را انتخاب کنیم، در یکی از اتوبوس‌ها چند صندلی خالی باقی می‌ماند. اگر از اتوبوس‌های ۶۰ نفری استفاده کنیم، باید ۸ اتوبوس بیشتر در نظر بگیریم، در ضمن، با هم یکی از اتوبوس‌ها با ظرفیت کامل پر نمی‌شود. ولی اگر با اضافه کردن ۵ اتوبوس دیگر از اتوبوس‌های با ظرفیت ۵۰ نفر استفاده کنیم، همه اتوبوس‌ها پر می‌شوند و صندلی خالی باقی نمی‌ماند، آیا می‌توانید تعداد دانش‌آموزان را پیدا کنید؟

حل مسأله دشوار نیست ولی، ضمن آن، ناچاریم از نابرابری و ویژگی‌های آن استفاده کنیم. تعداد اتوبوس‌های ۵۰ نفری را n می‌گیریم ($n \in \mathbb{N}$ ؛ یعنی n ، عددی درست و مثبت است). بنابراین، تعداد دانش‌آموزان برابر است با $50n$.

تعداد اتوبوس‌های ۶۰ نفری، ۵ واحد از تعداد اتوبوس‌های ۵۰ نفری کمتر و برابر $(n-5)$ است. چون در این حالت، یکی از اتوبوس‌ها کاملاً پر نشده است، بنابراین باید داشته باشیم:

$$60(n-5) > 50n \quad \text{و} \quad 60(n-6) < 50n$$

از این دونا نابرابری، به سادگی به دست می‌آید: $30 < n < 36$ ؛ یعنی n برابر با یکی از عددهای درست از ۳۱ تا ۳۵ است.

با توجه به صورت مسأله، تعداد اتوبوس‌های ۸۰ نفری برابر است با $n-13$ ؛ و چون یکی از اتوبوس‌ها پر نمی‌شود، باید داشته باشیم:

$$80(n-13) > 50n \quad , \quad 80(n-14) < 50n$$

از این دو نابرابری به دست می آید $\frac{104}{3} < n < \frac{112}{3}$ و یا

$$34\frac{2}{3} < n < 37\frac{1}{3}$$

و چون n ، عددی درست است، بنا بر این می تواند یکی از سه عدد ۳۵، ۳۶ یا ۳۷ باشد. ولی قبلاً دیدیم که n نمی تواند از ۳۵ بزرگتر باشد و تنها $n = 35$ قابل قبول است. تعداد دانش آموزان برابر 50×35 یعنی ۱۷۵۰ نفر است.

۳۰ می دانیم وقتی در تابع های مثلثاتی، نامی از واحد کمان نبرند، به - معنای آن است که با واحد «رادیان» سروکار داریم: $tg 5$ ، یعنی تانژانت ۵ رادیان

و $\sin\left(\cos\frac{\pi}{3}\right)$ ، یعنی سینوس نیم رادیان (زیرا $\frac{1}{3} = \cos\frac{\pi}{3}$ ، در ضمن واحد

اندازه گیری در دایره مثلثاتی، شعاع دایره است، پس $\frac{1}{3}$ یعنی $\frac{1}{3}$

شعاع و طول $\frac{1}{3}$ شعاع، وقتی بر کمان دایره منتقل شود، برابر $\frac{1}{3}$ رادیان است). اکنون این مسأله را حل کنید.

کدام بزرگترند: $\sin 1$ یا $\cos 1$ ؟

یک رادیان برابر است با $\frac{180}{\pi}$ درجه، یعنی کمان یک رادیان از کمان

۶۰ درجه کوچکتر است (یک رادیان، اندکی بیشتر از ۵۷ درجه است)، پس

$$\sin 1 < \sin\frac{\pi}{3} = \frac{\sqrt{3}}{2}$$

کسینوس، در ربع اول دایره مثلثاتی نزولی است، بنا بر این

$$\cos 1 > \cos\frac{\sqrt{3}}{2} > \cos\frac{\pi}{3} = \frac{1}{2} \quad (1)$$

به همین ترتیب داریم:

$$\cos 1 > \cos\frac{\pi}{3} = \frac{1}{2}$$

سینوس، در ربع اول دایره مثلثاتی صعودی است، بنابراین

$$\sin \cos 1 < \sin \frac{1}{2} < \sin \frac{\pi}{6} = \frac{1}{2} \quad (2)$$

به این ترتیب با توجه به (۱) و (۲) داریم:

$$\cos \sin 1 > \frac{1}{2} \quad \text{و} \quad \sin \cos 1 < \frac{1}{2}$$

یعنی $\sin \cos 1 < \cos \sin 1$. [در تمرین ۰۹-۱۶]، حالت کلی این مساله را خواهید دید.

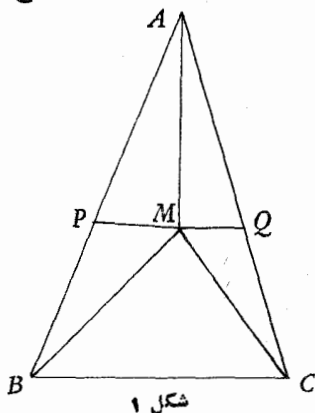
۴۰. در آغاز هندسه دیده ایم که، اگر نقطه‌ای در درون مثلث انتخاب و از آن جا به سه رأس مثلث وصل کنیم، مجموع طول‌های سه پاره خط راست حاصل، از مجموع طول‌های سه ضلع مثلث کوچکتر است. ولی در واقع، می‌توان حکم قوی‌تری را ثابت کرد: مجموع طول‌های سه پاره خط راست حاصل، نه تنها از مجموع طول‌های سه ضلع، بلکه از مجموع طول‌های دو ضلع بزرگتر مثلث، کوچکتر است.

در مثلث ABC (شکل ۱) می‌دانیم:

$$|BC| < |AC| < |AB|$$

M نقطه‌ای در درون مثلث است. می‌خواهیم ثابت کنیم

$$|MA| + |MB| + |MC| < |AB| + |AC|$$



در شکل ۱، PQ را که از M

گذشته است، موازی با BC (ضلع کوچکتر مثلث) رسم کرده ایم. مثلث APQ با مثلث ABC متشابه است و بنابراین

$$|PQ| < |AQ| < |AP| \quad (1)$$

اگر در مثلثی، از یک رأس به نقطه‌ای از ضلع روبرو وصل کنیم، پاره -

خط راستی که به دست می آید، نمی تواند از هر دو ضلعی که به این رأس رسیده اند بزرگتر باشد (چرا؟) و، دست کم، از ضلع بزرگتر، کوچکتر است، یعنی

$$|AM| < |AP| \quad (۲)$$

در ضمن، از نابرابری های (۱) داریم:

$$|PM| + |MQ| < |AQ| \quad (۳)$$

درستی دونا برابری زیر هم روشن اند:

$$|MC| < |MQ| + |QC| \quad (۴)$$

$$|MB| < |BP| + |PM| \quad (۵)$$

اکنون، از مجموع نابرابری های (۲) تا (۵)، بعد از ساده کردن، به - دست می آید:

$$|MA| + |MB| + |MC| < |AB| + |AC|$$

۵. در سال ۱۳۷۱ به سر می بریم (سال تألیف این کتاب کوچک). در دایره ای به شعاع یک متر، ۱۳۷۱ نقطه به صورتی دلخواه قرار داده ایم. ثابت کنید دست کم یک مثلث با رأس های سه نقطه از این ۱۳۷۱ نقطه وجود دارد، به نحوی که مساحت آن کمتر از ۱۵ سانتی متر مربع باشد.

محیط دایره را به ۶۸۵ بخش برابر، تقسیم و از نقطه های تقسیم به مرکز دایره وصل می کنیم؛ ۶۸۵ قطاع برابر به دست می آید. مساحت دایره، برابر یک متر مربع یا ۱۰۰۰۰ سانتی متر مربع است، بنابراین، مساحت هر یک از این قطاع ها، برابر است با

$$۱۰۰۰۰ : ۶۸۵ = ۱۴ / ۵۹ \dots < ۱۵ \text{ (سانتی متر مربع)}$$

دست کم یک قطاع پیدا می شود که شامل سه نقطه (در درون یا روی مرزهای آن) باشد، زیرا اگر هیچ قطاعی شامل بیش از دو نقطه نباشد، آن وقت تعداد کل نقطه ها از ۶۸۵×۲ ، یعنی ۱۳۷۰ تجاوز نمی کند، در حالی که تعداد نقطه های ما برابر ۱۳۷۱ می باشد. اکنون اگر سه نقطه ای را که متعلق به یک قطاع هستند، رأس های یک مثلث به حساب آوریم، روشن است که مساحت آن

از مساحت قطاع کوچکتر و، بنابراین از ۱۵ سانتی متر مربع کمتر می شود.
 ۶. ممکن است تصور شود که دست کم برای حل معادله‌ها، نیازی به -
 استفاده از نابرابری نداریم. اکنون به این مسأله توجه کنید.
 چه مقدارهایی از x ، در این معادله صدق می کنند:

$$\left[\frac{x-3}{2} \right] = \left[\frac{x-2}{3} \right] \quad (1)$$

منظور از $[a]$ ، بخش درست عدد a است.

شرط لازم برای این که بخش‌های درست دو عدد با هم برابر باشند، این است که قدرمطلق تفاضل آن‌ها، از واحد کوچکتر باشد:

$$\left| \frac{x-3}{2} - \frac{x-2}{3} \right| < 1 \quad (2)$$

این نامعادله به سادگی حل می شود و به جواب $1 < x < 11$ می رسد.
 یعنی جواب‌های معادله (۱) را باید در بین عددهایی جست و جو کرد که در بازه $(1, 11)$ قرار دارند.

ولی شرط (۲)، برای معادله (۱) کافی نیست. علاوه بر شرط (۲)، برای برقراری معادله (۱)، باید بخش درست عددهای $\frac{x-2}{3}$ و $\frac{x-3}{2}$ یکی باشد، یعنی درفاصله بین آن‌ها، عدد درستی واقع نباشد. قدرمطلق تفاضل دو عدد $2/1$ و $1/7$ یا دو عدد $4/1$ و $3/5$ از واحد کوچکتر است، در حالی که بخش درست آن‌ها، یکی نیست. دو حالت در نظر می گیریم:

$$(1) \quad \frac{x-3}{2} < \frac{x-2}{3} \quad \text{از این نامعادله به دست می آید } x < 5 \text{ . با}$$

توجه به جواب نامعادله (۲)، باید روشن کنیم، در حالت $1 < x < 5$ - به -
 ازای چه مقدارهایی از x ، عدد درستی بین دو عدد $\frac{x-2}{3}$ و $\frac{x-3}{2}$
 قرار می گیرد! $k \in \mathbb{Z}$ می گیریم و فرض می کنیم:

$$\frac{x-3}{2} < k \leq \frac{x-2}{3}$$

که از آن، به سادگی به دست می آید:

$$3k + 2 \leq x < 2k + 3 \quad (3)$$

از نابرابری $3k + 2 < 2k + 3$ نتیجه می شود $k < 1$ و با در نظر گرفتن $x \in (-1, 5)$ ، به دست می آید: $k = 0$ یا $k = -1$. به ازای این مقادیرهای k ، به ترتیب، از (3) نتیجه می شود:

$$2 \leq x < 3 \quad \text{و} \quad -1 < x < 1$$

یعنی بازه های $[2, 3)$ و $(-1, 1)$ را باید از جواب نامعادله (2) کنار گذاشت.

$$(2) \quad \frac{x-2}{3} < \frac{x-3}{2}, \quad \text{که از آن به دست می آید } x > 5. \quad \text{بنابراین}$$

باید روشن کنیم، در حالت $5 < x < 11$ ، به ازای چه مقدارهایی از x ، عدد درستی بین دو عدد $\frac{x-2}{3}$ و $\frac{x-3}{2}$ قرار می گیرد! با استدلالی شبیه حالت قبل، معلوم می شود که بازه های $(7, 8)$ و $(9, 11)$ باید از جواب نامعادله (2) کنار گذاشته شوند.

به این ترتیب، مجموعه جواب معادله (1) به دست می آید:

$$[1, 2) \cup [3, 7) \cup [8, 9)$$

۷. پی بردن به ویژگی های چندضلعی ها، نه تنها در خود ریاضیات، بلکه در ضمن، در بسیاری از کارهای عملی و صنعتی اهمیت دارد؛ و بسیاری از این ویژگی ها را با نابرابری می توان نشان داد. به این مسأله توجه کنید. ثابت کنید، در هر چندضلعی، دست کم دو ضلع به طول های a و b وجود دارد، به نحوی که

$$1 \leq \frac{a}{b} < 2$$

طول ضلع های n ضلعی را، نه به ردیف قرار گرفتن آنها، بلکه به ردیف اندازه طول های آنها، برابر a_1, a_2, \dots, a_n می گیریم:

$$a_1 \geq a_2 \geq \dots \geq a_n$$

از برهان خلف استفاده می‌کنیم و فرض را بر این می‌گیریم که، برای

$i = 1, 2, \dots, n-1$ داشته باشیم: $\frac{a_i}{a_{i+1}} \geq 2$. در این صورت

خواهیم داشت:

$$a_2 \leq \frac{1}{2} a_1, \quad a_3 \leq \frac{1}{4} a_1, \quad \dots, \quad a_n \leq \frac{1}{2^{n-1}} a_1$$

که از مجموع آن‌ها به دست می‌آید:

$$a_2 + a_3 + \dots + a_n \leq a_1 \left(\frac{1}{2} + \frac{1}{4} + \dots + \frac{1}{2^{n-1}} \right) < a_1$$

که نمی‌تواند درست باشد (در هر چند ضلعی، طول یک ضلع، از مجموع طول‌های ضلع‌های دیگر، کوچکتر است).

۸. از ویژگی‌های نابرابری‌ها، برای حل مسأله‌های مربوط به ماکزیمم

و می‌نیمم هم می‌توان استفاده کرد (چه در جبر و چه در هندسه). به این مسأله هندسی توجه کنید:

در هرم $SABCD$ ، SD بر صفحه قاعده $ABCD$ عمود است؛

$ABCD$ یک مستطیل است و داریم: $|BC| = |SC| = 1$ و $\widehat{SBA} = \alpha$. به-

ازای چه مقداری از α ، حجم هرم به

حداکثر مقدار خود می‌رسد؟

بنابر فرض، $[SD]$ ارتفاع هرم

است (شکل ۲) و همه وجه‌ها، مثلث‌هایی

قائم‌الزاویه‌اند (قائم‌الزاویه بودن وجه‌های

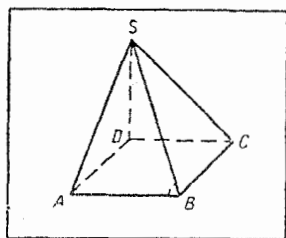
SDA و SDC واضح است؛ از طرف

دیگر، چون $[SD] \perp [DC]$ و

$[DC] \perp [BC]$ ، پس بنا بر قضیه سه عمود $[SC] \perp [BC]$ و به همین ترتیب

$[SA] \perp [AB]$ و وجه‌های SAB و SBC قائم‌الزاویه‌اند). چون

$$|AB| = |DC| < |SC| = 1 \quad \text{و} \quad |SB| = \sqrt{2}$$



شکل ۲

بنابراین $\frac{\pi}{4} < \alpha < \frac{\pi}{2}$ و $\cos \alpha = |AB| : |SB| < 1 : \sqrt{2}$

حجم هرم برابر است با $V = \frac{\sqrt{2}}{3} \cos \alpha \sqrt{1 - 2 \cos^2 \alpha}$ (محاسبه)

کنید).

به این ترتیب، برای این که حجم هرم به حداکثر مقدار خود برسد، باید

$\cos \alpha \sqrt{1 - 2 \cos^2 \alpha}$ و یا $\cos^2 \alpha (1 - 2 \cos^2 \alpha)$ ماکزیمم شود. داریم:

$$\cos^2 \alpha (1 - 2 \cos^2 \alpha) = -2 \left(\cos^4 \alpha - \frac{1}{2} \cos^2 \alpha \right) =$$

$$= -2 \left(\cos^2 \alpha - \frac{1}{2} \right)^2 + \frac{1}{2} \leq \frac{1}{2}$$

حداکثر $\cos \alpha \sqrt{1 - 2 \cos^2 \alpha}$ به ازای $\cos^2 \alpha = \frac{1}{2}$ ، یعنی $\alpha = \frac{\pi}{4}$ به دست

می آید که، در این صورت، حجم هرم برابر $\frac{1}{6}$ واحد مکعب می شود.

مسئله را، بدون محاسبه حجم هرم هم می توان حل کرد. حجم هرم برابر

است با

$$V = \frac{1}{3} |BC| \cdot |DC| \cdot |SD| = \frac{1}{3} |DC| \cdot |SD|$$

حاصل ضرب $|DC| \cdot |SD|$ دو برابر مساحت مثلث SDC است. برای وتر

این مثلث، داریم: $|SC| = 1$. بنابراین، مساحت آن وقتی به حداکثر مقدار

خود می رسد که مثلث متساوی الساقین باشد:

$$|SD| = |DC| = \frac{\sqrt{2}}{2}$$

و در این حالت به دست می آید:

$$\cos \alpha = |AB| : |SB| = \frac{1}{2} \Rightarrow \alpha = \frac{\pi}{3}$$

۹. از نابرابری‌ها، برای تعریف حد و محاسبه آن نیز می‌توان استفاده کرد. نمونه‌ای برای آن می‌آوریم:

$$\lim_{n \rightarrow \infty} \left(\frac{1}{2} + \frac{1}{4} + \dots + \frac{1}{2^n} \right) = 1 \quad \text{ثابت کنید}$$

مقدار درون پرانتز را A_n می‌نامیم:

$$A_n = \frac{1}{2} + \frac{1}{4} + \dots + \frac{1}{2^n}$$

باید ثابت کنیم، مقدار A_n ، با بزرگ شدن n ، به واحد نزدیک می‌شود، به نحوی که می‌توان n را طوری پیدا کرد که تفاضل $(1 - A_n)$ از هر عدد کوچک و دلخواه از پیش تعیین شده‌ای، کمتر باشد. مثلاً، بینیم، n را چگونه انتخاب کنیم که، برای آن، داشته باشیم:

$$1 - A_n < \frac{1}{10^6}$$

با توجه به محاسبه مجموع حدها در تصاعد هندسی داریم:

$$A_n = \frac{1}{2} \cdot \frac{1 - \left(\frac{1}{2}\right)^{n+1}}{1 - \frac{1}{2}} = 1 - \frac{1}{2^{n+1}}; \quad 1 - A_n = \frac{1}{2^{n+1}}$$

$$\frac{1}{2^{n+1}} < \frac{1}{10^6} \Rightarrow 2^{n+1} > 10^6 \quad \text{بنابراین، باید داشته باشیم:}$$

و چون $2^{20} = 1048576 < 1000000 < 2^{21} = 2097152$ ، بنابراین اگر 2^{n+1} از 2^{20} بزرگتر و یا برابر با آن باشد، به خودی خود از 10^6 بزرگتر می‌شود:

$$2^{n+1} \geq 2^{20} \Rightarrow n+1 \geq 20 \Rightarrow n \geq 19$$

و به ازای $n = 19$ داریم:

$$1 - A_{19} = \frac{1}{2^{20}} = \frac{1}{1048576} < \frac{1}{10^6}$$

□

با همین نمونه‌ها، روشن می‌شود که بهینه کاربرد نابرابری‌ها تا چه حد

گسترده است. حقیقت این است که، نابرابری‌ها، در همه شاخه‌های ریاضیات و ریاضیات کاربردی (نظریه عددها، جبر، مثلثات، برنامه‌ریزی خطی، هندسه، نظریه احتمال، معادله‌های دیفرانسیلی، نظریه تابع‌ها، ...) کاربردی گسترده دارد و، بنابراین، آشنایی با آن‌ها و نحوه استفاده از آن‌ها، برای هر کسی که با ریاضیات کار می‌کند، ضروری است.

در این کتاب کوچک، با اثبات مهم‌ترین نابرابری‌ها و ذکر روش حل برخی نامعادله‌ها، تکیه اصلی بر حل مسأله‌هاست، زیرا در حل مسأله، در هر مورد خاص، باید راه حل خاص آن را جست و جو کرد و، جز در مورد برخی نابرابری‌های سنتی، نمی‌توان راه حلی کلی پیدا کرد که برای اثبات هر نابرابری دلخواه قابل استفاده باشد. همچون دیگر کتاب‌های کوچک ریاضی در این کتاب هم، بسیاری از نکته‌ها و اشاره‌ها، ضمن حل مسأله‌ها آمده است و، به همین جهت، به خواننده پیشنهاد می‌شود که ابتدا، خود تلاش کند تا مسأله‌ها را، بدون مراجعه به راه حل آنها در پایان کتاب، حل کند، ولی در هر حال، برای بازرسی راه حل خود، به راه حلی هم که در این کتاب آمده است مراجعه و راه حل خود را با آن مقایسه کند. هیچ ادعائی نداریم، که راه حل‌های این کتاب بهترین و زیباترین آنها باشد و چه بسا، خواننده بتواند راه حل‌های زیباتری پیدا کند.

از ذکر ویژگی‌های ساده مربوط به نابرابری‌ها، که در همه کتاب‌های درسی موجودند، صرف نظر کرده‌ایم و در این جا، تنها به مهم‌ترین آن‌ها اشاره می‌کنیم:

۱) دو طرف یک نابرابری را می‌توان در عددی مخالف صفر ضرب یا بر عددی مخالف صفر تقسیم کرد، به شرطی که در حالت منفی بودن عدد، جهت نابرابری را تغییر دهیم.

۲) اگر عددهای واقع در دو طرف علامت نابرابری، هر دو مثبت یا هر دو منفی باشند، می‌توان دو طرف نابرابری را به توان عددی طبیعی رساند، به شرطی که در حالت منفی بودن عددها و توان‌های زوج، جهت علامت نابرابری را عوض کنیم.

در حالتی که عددهای دو طرف علامت نابرابری، یکی مثبت و دیگری

منفی باشد، نمی توان دو طرف را به توان عددی زوج رساند.

(۳) از دو طرف نابرابری می توان ریشه فرد گرفت، ولی برای گرفتن ریشه زوج، باید عددهای دو طرف علامت نابرابری مثبت باشند.

(۴) از دو طرف نابرابری می توان لگاریتم گرفت، به شرطی که عددهای دو طرف علامت نابرابری مثبت و مبنای لگاریتم بزرگتر از واحد باشد. در حالتی که عددهای دو طرف علامت نابرابری مثبت و مبنای لگاریتم، عددی مثبت و کوچکتر از واحد باشد، با لگاریتم گرفتن از دو طرف، جهت نابرابری عوض می شود.

تمرین

۰۱ کدام بزرگترند:

(۱) 17^{14} یا 31^{11} ؛ (۲) $2\sqrt{500}$ یا $\sqrt{501} + \sqrt{499}$ ؛

(۳) $\frac{10^{1370} + 1}{10^{1371} + 1}$ یا $\frac{10^{1369} + 1}{10^{1370} + 1}$ ؛

(۴) $2\sqrt{500}$ یا $\sqrt{501} + \sqrt{499}$ ؛

(۵) $\sqrt{5} + \sqrt{6}$ یا $\sqrt{4} + \sqrt{7}$ ؛

(۶) $\frac{2}{201}$ یا $\ln \frac{101}{100}$ ، یعنی $\log_e a$ که لگاریتم طبیعی عدد a

نامیده می شود؛ $\left(1 + \frac{1}{n}\right)^n \approx 2.718$ ؛ $e = \lim_{n \rightarrow \infty} \left(1 + \frac{1}{n}\right)^n$ ؛ فصل اول را ببیند؛

(۷) $2\sqrt{1} + 2\sqrt{3} + 2\sqrt{5} + 2\sqrt{7} + 2\sqrt{9}$ یا

$2\sqrt{2} + 2\sqrt{4} + 2\sqrt{6} + 2\sqrt{8} + \sqrt{10}$ ؛

(۸) $\sqrt[5]{17}$ یا $\log_{17} 71$ ؛ (۹) $\tan 55^\circ$ یا $\frac{7}{5}$

(۱۰) $\cos \frac{\sqrt{3}}{2} - \sin \frac{1}{2}$ یا $\frac{1}{8}$ ؛ (۱۱) $\sqrt[4]{8}$ یا $\sqrt[4]{9}$ ؛

(۱۲) x یا $\sqrt{x-1} + \sqrt{x(\sqrt{x}-1)}$ (با شرط $x > 1$)؛

$$: 300! \text{ یا } 100^{300} \quad (14 : 101^n \text{ یا } 99^n + 100^n \quad (13$$

$$\text{یا } \frac{1+a+a^2+\dots+a^{n-1}}{1+a+a^2+\dots+a^n} \quad (15$$

$$: (a > b > 0) \frac{1+b+b^2+\dots+b^{n-1}}{1+b+b^2+\dots+b^n}$$

$$: 2 \text{ یا } \frac{1}{\log_{\sqrt{2}} \pi} + \frac{1}{\log_{\pi} 2} \quad 17 \quad : \quad \cos \sin x \text{ یا } \sin \cos x \quad (16$$

$$: 2 \text{ یا } \frac{1}{\log_{\sqrt{2}} \pi} + \frac{1}{\log_{\Delta} \pi} \quad (18$$

$$: \left(0 < \alpha < \beta < \frac{\pi}{2}\right) \beta - \sin \beta \text{ یا } \alpha - \sin \alpha \quad (19$$

$$: \left(0 < \alpha < \beta < \frac{\pi}{2}\right) \text{tg} \beta - \beta \text{ یا } \text{tg} \alpha - \alpha \quad (20$$

$$: \left(0 < \alpha < \beta < \frac{\pi}{2}\right) \frac{1}{\beta} \text{tg} \beta \text{ یا } \frac{1}{\alpha} \text{tg} \alpha \quad (21$$

$$? \left(0 < \alpha < \frac{\pi}{2}\right) \text{tg} \alpha - \alpha \text{ یا } \alpha - \sin \alpha \quad (22$$

۲. این عددها را به ردیف صعودی (از کوچکتر به بزرگتر) بنویسید:

$$: \frac{627}{727}, \frac{511}{655}, \frac{5}{7}, \frac{55}{69}, \frac{5}{6} \quad (1$$

$$: \sin 7, \sin 6, \sin 5, \sin 4, \sin 3, \sin 2, \sin 1 \quad (2$$

$$\cdot \sqrt[3]{3} + \sqrt[3]{9}, \sqrt[3]{44}, \sqrt[3]{43} \quad (3$$

۳. به کمک رقم‌های از ۰ تا ۹، پنج عدد دورقمی درست کنید، به نحوی

که حاصل ضرب آن‌ها، حداکثر مقدار ممکن باشد (از هر رقم، تنها یک بار استفاده کنید).

۴. در بسط $(\sqrt{30} + \sqrt{4320})^{102}$ ، بزرگترین جمله را پیدا کنید.

۰۵. a, b و c طول ضلع‌های يك مثلث و p برابر نصف محیط آن است، ثابت کنید:

$$\sqrt{p} < \sqrt{p-a} + \sqrt{p-b} + \sqrt{p-c} \leq \sqrt{3p}$$

۰۶. a, b و c سه عدد مثبت اند. ثابت کنید:

$$(a+b-c)(b+c-a)(c+a-b) \leq abc$$

۰۷. برای $t > 1$ ثابت کنید: $\frac{t^3+1}{t-1} > 2(2+\sqrt{3})$

۰۸. حاصل ضرب چهار عدد مثبت a, b, c و d برابر واحد است. ثابت کنید:

$$\sum a^2 + \sum ab \geq 10$$

۰۹. دنباله $\{a_n\}$ با شرط‌های $a_0 = a_n = 0$ و

$$a_{k-1} - 2a_k + a_{k+1} \geq 0, \quad (k = 1, 2, \dots, n-1)$$

مفروض است. ثابت کنید، عددهای a_1, a_2, \dots, a_{n-1} غیر مثبت اند.

۱۰. به شرط غیر منفی بودن a و b و c ، ثابت کنید:

$$a^3 + b^3 + c^3 \geq a^2\sqrt{bc} + b^2\sqrt{ca} + c^2\sqrt{ab}$$

۱۱. با فرض $a^3 + b^3 = 2$ ، ثابت کنید: $a + b \leq 2$.

۱۲. می‌دانیم $a > c$ و $b > d$. ثابت کنید:

$$(a+b+c+d)^2 > 8(ad+bc)$$

۱۳. در اردوی دانش آموزان، که روی هم ۱۸ نفر بودند، دو گروه تشکیل شد. در طول سه شبانه روزی که اردو برپا بود، همیشه يك نفر نگهبانی می‌داد. گروه اول، دوشبانه روز اول را نگهبانی دادند که این زمان را به‌طور برابر بین خود تقسیم کرده بودند. در گروه دوم، سه دختر بود که هر کدام تنها يك ساعت نگهبانی دادند و بقیه ساعت‌های نگهبانی، به‌طور برابر، بین بقیه تقسیم شد. اگر مجموع ساعت‌های نگهبانی هر پسر از گروه دوم و هر عضو از گروه اول، از ۹ ساعت کمتر باشد، در هر گروه چند نفر بوده‌اند؟

۱۴. در دو جعبه بیش از ۲۹ قطعه یکسان وجود دارد. اگر ۲ عدد از قطعه‌های جعبه اول را برداریم. آنچه می‌ماند، از سه برابر قطعه‌های جعبه دوم بیشتر است. اگر به دو برابر قطعه‌های جعبه دوم ۶۰ قطعه اضافه کنیم، تعداد آنها از سه برابر تعداد قطعه‌های جعبه اول بیشتر می‌شود. در هر جعبه چند قطعه وجود دارد؟

۱۵. قدرت تولید کارخانه اتومبیل سازی اول، از ۹۵۰ اتومبیل در شبانه‌روز تجاوز نمی‌کند. قدرت کارخانه دوم، ابتدا، برابر ۹۵ درصد قدرت تولید کارخانه اول بود، ولی بعد از به‌راه افتادن خط تازه تولید در کارخانه دوم، قدرت تولید آن به اندازه ۲۳ درصد قدرت تولید کارخانه اول بیشتر شد و به بیش از ۱۰۰۰ اتومبیل در شبانه‌روز رسید. قبل از بازسازی کارخانه دوم، هر یک از کارخانه‌ها، چند اتومبیل در شبانه‌روز تولید می‌کرده‌اند؟ فرض بر این است که تعداد اتومبیل‌های تولیدی هر کارخانه در شبانه‌روز، عددی درست است.

۱۶. سه آلیاژ داریم. آلیاژ اول شامل ۳۰٪ نیکل و ۷۰٪ مس، آلیاژ دوم شامل ۱۰٪ مس و ۹۰٪ منگنز و آلیاژ سوم شامل ۱۵٪ نیکل، ۲۵٪ مس و ۶۰٪ منگنز است. می‌خواهیم از این سه آلیاژ، آلیاژ تازه‌ای درست کنیم که شامل ۴۰٪ منگنز باشد. حداقل و حداکثر درصد مس، در آلیاژ تازه، چقدر می‌تواند باشد؟

۱۷. می‌نیمم تابع $f(x) = x^3 - 2x|x - 2|$ را در بازه $[0, 3]$ و، همچنین، حداکثر مقدار تابع را در همین بازه پیدا کنید.

۱۸. O را مرکز دایره محاطی مثلث ABC و R را شعاع دایره محیطی مثلث می‌گیریم. اگر R_1, R_2, R_3 ، به ترتیب، شعاع دایره‌های محیطی مثلث‌های BOC, COA, AOB باشند، ثابت کنید:

$$R_1^2 + R_2^2 + R_3^2 \geq 3R^2$$

۱۹. بخش درست هر یک از این عددها را پیدا کنید:

$$1) A = 1 + \frac{1}{\sqrt{2}} + \frac{1}{\sqrt{3}} + \frac{1}{\sqrt{4}} + \frac{1}{\sqrt{5}} + \frac{1}{\sqrt{6}}$$

$$۲) B = 1 + \frac{1}{\sqrt{2}} + \frac{1}{\sqrt{3}} + \frac{1}{\sqrt{4}} + \dots + \frac{1}{\sqrt{1000000}}$$

$$۳) C = 50 \left(\frac{1}{\sqrt{100000}} + \frac{1}{\sqrt{100001}} + \dots + \frac{1}{\sqrt{10000000}} \right)$$

۲۰. کوچکترین عدد طبیعی n را پیدا کنید که، برای آن، داشته باشیم:

$$\frac{۳}{۱۰} < \{ \sqrt{n} \} < \frac{۱}{۳}$$

$\{x\} = x - [x]$ ، بخش کسری عدد x است.

۲۱. درستی این نابرابری‌ها را ثابت کنید:

$$۱) \frac{1}{۲} < \frac{1}{n+1} + \frac{1}{n+2} + \dots + \frac{1}{۲n} < \frac{۳}{۴}$$

$$۲) ۱ < \frac{1}{n+1} + \frac{1}{n+2} + \dots + \frac{1}{۳n+1} < ۲$$

$$۳) ۱ + \frac{1}{۴} + \frac{1}{۹} + \frac{1}{۱۶} + \dots + \frac{1}{n^2} < ۱\frac{۳}{۴}$$

$$۴) \frac{۱۳۵}{۲۴۶} \dots \frac{۹۹}{۱۰۰} < \frac{۱}{۱۰}$$

$$۵) \frac{۱۳۵}{۲۴۶} \dots \frac{۲n-1}{۲n} < \frac{1}{\sqrt{۳n+1}}$$

$$۶) ۲\sqrt{n+1} - ۲\sqrt{m} < \frac{1}{\sqrt{m}} + \frac{1}{\sqrt{m+1}} + \dots + \frac{1}{\sqrt{n}} < ۲\sqrt{n} - ۲\sqrt{m-1}$$

m و n عددهایی طبیعی اند و، در ضمن $m < n$.

۲۲. (مسأله پنوموسی در کتاب «مساحت شکل‌های مسطح و کروی»).

در دایره به مرکز O و قطر $AB = 2R$ ، C را نقطه برخورد دایره با شعاعی می‌گیریم که بر قطر AB عمود شده است. کمان BC را به سه بخش برابر تقسیم می‌کنیم و نقطه‌های تقسیم را F و H می‌نامیم. وتر کمان HC (یک سوم کمان BC) را رسم می‌کنیم و نقطه برخورد امتداد آن را با امتداد قطر AB ، D می‌نامیم. از نقطه‌های F و H ، وترهای FE و HG را موازی قطر AB و از نقطه O (مرکز دایره) عمود OM را بر وتر HC رسم می‌کنیم. ثابت کنید:

$$|OD| = |EF| + |GH| + R \quad (1)$$

$$|OM|^2 < \frac{1}{4} |HC| \cdot |OD| < R^2 \quad (2)$$

۲۳. در یک چهاروجهی، طول یکی و تنها یکی از یال‌ها از واحد بزرگتر

است. ثابت کنید، حجم چهاروجهی، از $\frac{1}{8}$ تجاوز نمی‌کند.

۲۴. دنباله غیر صعودی عددهای مثبت a_1, a_2, \dots, a_n مفروض است.

می‌دانیم

$$a_1 + a_2 + \dots + a_n = 1$$

و بزرگترین جمله دنباله، برابر $\frac{1}{2k}$ است ($k \in \mathbf{N}$). ثابت کنید، می‌توان k

عدد متوالی از دنباله را طوری انتخاب کرد که، کوچکترین آن‌ها، از نصف

بزرگترین آن‌ها، بزرگتر باشد.

۲۵. بخش درست این عدد را پیدا کنید:

$$A = \frac{1}{\sqrt{4}} + \frac{1}{\sqrt{5}} + \frac{1}{\sqrt{6}} + \dots + \frac{1}{\sqrt{1000000}}$$

۲۶. در مجموع $1 + \frac{1}{2} + \frac{1}{3} + \dots + \frac{1}{n}$ ، همه کسرهایی را که در

مخرج خود، رقم ۹ دارند، حذف کرده‌ایم. ثابت کنید مجموع کسرهای باقی -

مانده، به ازای هر مقدار $n \in \mathbf{N}$ از ۸۰ کوچکتر است.

$$a_1 - 2a_2 + 3a_3 \geq 0$$

$$a_2 - 2a_3 + 3a_4 \geq 0$$

$$a_3 - 2a_4 + 3a_5 \geq 0$$

.....

$$a_{98} - 2a_{99} + 3a_{100} \geq 0$$

$$a_{99} - 2a_{100} + 3a_1 \geq 0$$

$$a_{100} - 2a_1 + 3a_2 \geq 0$$

به شرط $a_1 = 10$ ، مقدارهای a_2, a_3, \dots, a_{100} را پیدا کنید.

۰۴۸ (۱) در مثلث ABC ، می دانیم $\sin \frac{\hat{B}}{2} \sin \frac{\hat{C}}{2} = m$ ($m > 0$)

زاویه های B و C را، بر حسب زاویه A پیدا کنید.

(۲) ثابت کنید، در هر مثلث ABC ، داریم:

$$\sin \frac{\hat{A}}{2} \sin \frac{\hat{B}}{2} \sin \frac{\hat{C}}{2} \leq \frac{1}{8} \quad (\text{الف})$$

(ب)

$$\cos^2 \frac{A}{2} + \cos^2 \frac{B}{2} + \cos^2 \frac{C}{2} \leq \frac{9}{4} \quad \text{و} \quad \sin^2 \frac{\hat{A}}{2} + \sin^2 \frac{\hat{B}}{2} + \sin^2 \frac{\hat{C}}{2} \geq \frac{3}{4}$$

۰۴۹ می دانیم $0 < x < \frac{\pi}{2}$. ثابت کنید:

$$\sin x > \operatorname{tg} x - \frac{1}{2} \operatorname{tg}^2 x$$

۰۳۵ α, β و γ زاویه هایی حاده و مثبت به مجموع $\frac{\pi}{2}$ هستند. ثابت

کنید:

$$\sin \alpha + \sin \beta + \sin \gamma + \operatorname{tg} \alpha + \operatorname{tg} \beta + \operatorname{tg} \gamma > \pi$$

فصل اول

عدد نپر

قضیه ۱. ثابت کنید، به ازای $n \in \mathbb{N}$ و $n \geq 2$ همیشه داریم:

$$2 < \left(1 + \frac{1}{n}\right)^n < 3 \quad (1)$$

اثبات. از آن جا که n عددی طبیعی است، با استفاده از قانون بسط دو

جمله ای داریم:

$$\begin{aligned} \left(1 + \frac{1}{n}\right)^n &= 1 + n \cdot \frac{1}{n} + \frac{n(n-1)}{2} \cdot \frac{1}{n^2} + \dots = \\ &= 2 + \frac{n(n-1)}{2} \cdot \frac{1}{n^2} + \dots > 2 \end{aligned}$$

(همه جمله های بعد از ۲، عددهایی مثبت اند). نابرابری سمت چپ ثابت شد. برای اثبات نابرابری سمت راست، همان بسط دو جمله ای را دوباره در نظر می گیریم:

$$\left(1 + \frac{1}{n}\right)^n = 2 + \frac{1}{2!} \cdot \frac{n(n-1)}{n^2} + \frac{1}{3!} \cdot \frac{n(n-1)(n-2)}{n^3} + \dots$$

چون کسره‌های $\frac{n(n-1)}{n^2}, \frac{n(n-1)(n-2)}{n^3}, \dots$ از واحد کوچکترند، بنا بر این:

$$\left(1 + \frac{1}{n}\right)^n < 2 + \frac{1}{2!} + \frac{1}{3!} + \dots < 2 + \frac{1}{2} + \frac{1}{4} + \frac{1}{8} + \dots < 3$$

به این ترتیب، برای $n > 2$ می‌توان نوشت:

$$2 < \left(1 + \frac{1}{n}\right)^n < 3 \leq n \quad (2)$$

مسئله ۱. (دومین ۱۱۰۱) ثابت کردیم $\sqrt[9]{9} < \sqrt[8]{8}$. اکنون ثابت

کنید، برای $n \in \mathbb{N}$ و $n \geq 3$ همیشه داریم: $\sqrt[n+1]{n+1} < \sqrt[n]{n}$

حل. به ازای $n=3$ باید ثابت کنیم: $\sqrt[4]{4} < \sqrt[3]{3}$ یا $\sqrt[2]{2} < \sqrt[3]{3}$

(که در ضمن، نشان می‌دهد، نابرابری مورد نظر، برای $n=2$ برقرار نیست).

اگر دوطرف این نابرابری را به توان ۶ برسانیم، به نابرابری روشن $8 < 9$ می‌رسیم.

اکنون $n > 3$ می‌گیریم. نابرابری مطلوب را می‌توان این‌طور نوشت:

$$(n+1)^n < n^{n+1}$$

اگر دوطرف آن را بر n^n تقسیم کنیم، به نابرابری $\left(1 + \frac{1}{n}\right)^n < n$ می‌رسیم

که، بنا بر (۲) درست است.

یادداشت. $\sqrt[3]{3}$ از واحد بزرگتر است و، در ضمن، دنبالهٔ عددهای

$$\sqrt[3]{3}, \sqrt[4]{4}, \sqrt[5]{5}, \dots, \sqrt[n]{n}, \dots$$

دنباله‌ای نزولی است و اگر توجه کنیم که: $\lim_{n \rightarrow \infty} \frac{n-1}{n} = 1$ ، آن وقت

$$\lim_{n \rightarrow \infty} \sqrt[n]{n} = \lim_{n \rightarrow \infty} \frac{n}{\sqrt[n]{n^n - 1}} = \lim_{n \rightarrow \infty} \frac{n}{n \frac{n-1}{n}} = 1$$

مسأله ۲. ثابت کنید، برای $n \in \mathbf{N}$ و $n > 1$ ، معادله $x^n = x + n$ یک ریشه و تنها یک ریشه در بازه $[1, 2]$ دارد و تحقیق کنید، دنباله این ریشه‌ها، وقتی n دنباله عددهای طبیعی را بپیماید، دنباله‌ای نزولی است و به سمت واحد میل می‌کند.

حل. فرض می‌کنیم $f_n(x) = x^n - x - n$ ($n = 2, 3, 4, \dots$).

داریم:

$$x^n - x = x(x-1)(x^{n-2} + x^{n-3} + \dots + 1)$$

یعنی، هر تابع $f_n(x)$ ، به ازای $x > 1$ صعودی است [می‌توانستیم با استفاده از مشتق تابع $f_n(x)$ ، یعنی $f'_n(x) = nx^{n-1} - 1$ ، قانع شویم که برای $x > 1$: $f'_n(x) > 0$ و در نتیجه $f_n(x)$ صعودی است]. در ضمن داریم:

$$f_n(2) = 2(2^{n-2} + 2^{n-3} + \dots + 1) - n \geq 0;$$

$$f_n(1) = -n < 0$$

[به یاری استقرای ریاضی هم، می‌توان به سادگی ثابت کرد $2^n \geq n + 2$ برای $n > 1$]. به این ترتیب، معادله $f_n(x) = 0$ در بازه $[1, 2]$ تنها یک ریشه دارد، این ریشه را x_n می‌نامیم. برای بخش دوم مسأله، ابتدا ثابت می‌کنیم:

$$\sqrt[n]{n+1} < x_n < \sqrt[n]{n} \quad (n > 2) \quad (3)$$

روشن است که $\sqrt[n]{n} > 1 > \sqrt[n]{n-1}$ ، یعنی $\sqrt[n]{n+1} < 0$ ، از طرف دیگر

$$f_n(\sqrt[n]{n+1}) = (n+1) - \sqrt[n]{n+1} - n = 1 - \sqrt[n]{n+1} < 0$$

نا برابری سمت چپ (۳) ثابت شد (زیرا تابع $f_n(x)$ در بازه $[1, 2]$ صعودی است و، بنا بر این، وقتی $f_n(\sqrt[n]{n+1}) < f_n(x_n)$ آن وقت

$$(\sqrt[n]{n+1}) < x_n$$

برای اثبات نابرابری سمت راست (۳)، ابتدا نابرابری (۲) را در

نظر می‌گیریم:

$$\left(1 + \frac{1}{n-1}\right)^{n-1} < n-1, \quad (n \geq 3)$$

این نابرابری را، به ترتیب، می‌توان چنین نوشت:

$$\frac{n}{n-1} < \sqrt[n-1]{n-1} \Leftrightarrow (n-1) \sqrt[n-1]{n-1} - n > 0$$

و به طور طبیعی $(n-1) \sqrt[n-1]{n-1} - n > 0$. از طرف دیگر داریم:

$$f(\sqrt[n]{n}) = \sqrt[n-1]{n^n} - \sqrt[n-1]{n} - n = (n-1) \sqrt[n-1]{n} - n > 0$$

بنابراین $x_n < \sqrt[n]{n}$. نابرابری سمت راست (۳) هم ثابت شد. به این ترتیب، با توجه به (۳) می‌توان نوشت:

$$\dots < \sqrt[n+1]{n+2} < x_{n+1} < \sqrt[n]{n+1} < x_n < \sqrt[n-1]{n} < \dots$$

یعنی، دنباله ریشه‌های x_n ، دنباله‌ای نزولی است و چون (یادداشت مسأله ۱ را ببینید)

$$\lim_{n \rightarrow \infty} \sqrt[n]{n+1} = \lim_{n \rightarrow \infty} \sqrt[n-1]{n} = 1$$

پس $\lim_{n \rightarrow \infty} x_n = 1$. در ضمن، چون $x_1 = 2$ ، بنابراین نتیجه می‌گیریم که x_n

از $x = 2$ (به ازای $n = 2$) آغاز می‌کند و به تدریج، با بزرگ شدن n ، به سمت واحد میل می‌کند.

□

قضیه ۲. ثابت کنید، دنباله‌های $\left(1 + \frac{1}{n}\right)^n$ ، دنباله‌ای صعودی

است، یعنی

$$\left(1 + \frac{1}{n+1}\right)^{n+1} > \left(1 + \frac{1}{n}\right)^n \quad (۲)$$

اثبات. بسط هر يك از دو جمله‌ای‌ها را، به این صورت درمی‌آوریم:

$$\begin{aligned} \left(1 + \frac{1}{n}\right)^n &= ۲ + \frac{n(n-1)}{۲!} \cdot \frac{۱}{n^۲} + \frac{n(n-1)(n-۲)}{۳!} \cdot \frac{۱}{n^۳} + \dots + \\ &+ \frac{n(n-1)(n-۲) \dots ۲}{(n-۱)!} \cdot \frac{۱}{n^{n-۱}} + \frac{n(n-1)(n-۲) \dots ۲ \cdot ۱}{n!} \cdot \frac{۱}{n^n} = \\ &= ۲ + \frac{۱}{۲!} \left(1 - \frac{1}{n}\right) + \frac{۱}{۳!} \left(1 - \frac{1}{n}\right) \left(1 - \frac{۲}{n}\right) + \dots + \\ &+ \frac{۱}{n!} \left(1 - \frac{1}{n}\right) \left(1 - \frac{۲}{n}\right) \dots \left(1 - \frac{n-1}{n}\right) \end{aligned}$$

به همین ترتیب

$$\begin{aligned} \left(1 + \frac{1}{n+1}\right)^{n+1} &= ۲ + \frac{۱}{۲!} \left(1 - \frac{1}{n+1}\right) + \\ &+ \frac{۱}{۳!} \left(1 - \frac{1}{n+1}\right) \left(1 - \frac{۲}{n+1}\right) + \dots + \\ &+ \frac{۱}{n!} \left(1 - \frac{1}{n+1}\right) \left(1 - \frac{۲}{n+1}\right) \dots \left(1 - \frac{n-1}{n+1}\right) + \\ &+ \frac{۱}{(n+1)!} \left(1 - \frac{1}{n+1}\right) \left(1 - \frac{۲}{n+1}\right) \dots \\ &\dots \left(1 - \frac{n-1}{n+1}\right) \left(1 - \frac{n}{n+1}\right) \end{aligned}$$

اگر جمله‌های نتیجه این دو بسط را با هم مقایسه کنیم، روشن می‌شود که

$$\left(1 + \frac{1}{n+1}\right)^{n+1} > \left(1 + \frac{1}{n}\right)^n$$

$$(1+1)^1 < \left(1+\frac{1}{2}\right)^2 < \left(1+\frac{1}{3}\right)^3 < \dots < \left(1+\frac{1}{n}\right)^n < \dots < 3$$

روشن است که، این قضیه را، می توان به صورت کلی تری بیان کرد:

اگر m و n دو عدد طبیعی و $m > n$ ، آن وقت

$$\left(1+\frac{1}{m}\right)^m > \left(1+\frac{1}{n}\right)^n$$

یادداشت. با روشی مشابه، می توان ثابت کرد که، دنباله عددهای

$\left(1-\frac{1}{n}\right)^n$ هم، وقتی n عددهای طبیعی $n > 1$ را می بیناید، دنباله ای صعودی

است، یعنی

$$\left(1-\frac{1}{n+1}\right)^{n+1} > \left(1-\frac{1}{n}\right)^n \quad (5)$$

قضیه ۳. ثابت کنید، دنباله عددهای $\left(1+\frac{1}{n}\right)^{n+1}$ ، دنباله ای نزولی

است، یعنی با بزرگ شدن n ، کوچک می شود:

$$\left(1+\frac{1}{n+1}\right)^{n+2} < \left(1+\frac{1}{n}\right)^{n+1} \quad (6)$$

اثبات. به ترتیب داریم:

$$\left(1+\frac{1}{n}\right)^{n+1} = \left(\frac{n+1}{n}\right)^{n+1} = \frac{1}{\left(\frac{n}{n+1}\right)^{n+1}} = \frac{1}{\left(1-\frac{1}{n+1}\right)^{n+1}}$$

عددهای $\left(1-\frac{1}{n+1}\right)^{n+1}$ ، دنباله ای صعودی را تشکیل می دهند

(یادداشت قضیه ۲ را ببینید)، بنابراین، عکس این عددها، دنباله ای نزولی را خواهند ساخت.

اثبات این قضیه را، به طریق دیگری هم می توان داد. نسبت زیر را تشکیل

می دهیم:

$$\begin{aligned} \left(1 + \frac{1}{n}\right)^{n+1} : \left(1 + \frac{1}{n+1}\right)^n &= \frac{(n+1)^{n+1} \cdot (n-1)^n}{n^{2n+1}} = \\ &= \frac{(n+1)^n (n-1)^n (n+1)}{n^{2n+1}} = \left(\frac{n^2-1}{n^2}\right)^n \cdot \frac{n+1}{n} = \\ &= \left(1 - \frac{1}{n^2}\right)^n \left(1 + \frac{1}{n}\right) \end{aligned}$$

برای عامل اول این نتیجه داریم:

$$\begin{aligned} \left(1 - \frac{1}{n^2}\right)^n &= 1 - \frac{1}{n} + \frac{1}{2} \cdot \frac{n-1}{n^2} - \frac{1}{3!} \left(1 - \frac{1}{n}\right) \left(1 - \frac{2}{n}\right) \cdot \frac{1}{n^3} + \\ &+ \dots \leq 1 - \frac{1}{n} + \frac{1}{2} \cdot \frac{1}{n^2} - \frac{1}{2} \cdot \frac{1}{n^3} + \dots \end{aligned}$$

در ضمن روشن است که

$$\begin{aligned} \left(1 - \frac{1}{n} + \frac{1}{2} \cdot \frac{1}{n^2} - \frac{1}{2} \cdot \frac{1}{n^3}\right) \left(1 + \frac{1}{n}\right) &= 1 - \frac{1}{2} \cdot \frac{1}{n^2} - \frac{1}{2} \cdot \frac{1}{n^3} < 1 \\ \left(1 + \frac{1}{n}\right)^{n+1} : \left(1 + \frac{1}{n-1}\right)^n &< 1 \text{ یعنی } \left(1 - \frac{1}{n^2}\right) \left(1 + \frac{1}{n}\right) < 1 \text{ به این ترتیب} \\ \left(1 + \frac{1}{n}\right)^{n+1} &< \left(1 + \frac{1}{n-1}\right)^n \end{aligned}$$

این قضیه را هم، می توان به صورت کلی تری بیان کرد:

به شرط طبیعی بودن عددهای m و n و $m > n \geq 2$ ، همیشه داریم:

$$\left(1 + \frac{1}{m}\right)^{m+1} < \left(1 + \frac{1}{n}\right)^{n+1}$$

□

در قضیه (۱) ثابت کردیم:

$$2 < \left(1 + \frac{1}{n}\right)^n < 3, \quad n > 1$$

در ضمن، روشن شد که دنباله عددهای

$$\left(1 + \frac{1}{2}\right)^2, \left(1 + \frac{1}{3}\right)^3, \left(1 + \frac{1}{4}\right)^4, \dots, \left(1 + \frac{1}{n}\right)^n, \dots \quad (7)$$

دنباله‌ای صعودی است. بنا بر این $\left(1 + \frac{1}{n}\right)^n$ دارای حدی است که بین ۲ و ۳ قرار دارد. این حد را، که به عدد نپیر معروف است با حرف e نشان می‌دهند:

$$e = \lim_{n \rightarrow \infty} \left(1 + \frac{1}{n}\right)^n$$

$$\text{در ضمن } 2 < e < 3. \left(1 + \frac{1}{n}\right)^n < e < 3$$

همچنین، با توجه به نابرابری (۶)، دنباله عددهای

$$\left(1 + \frac{1}{2}\right)^3, \left(1 + \frac{1}{3}\right)^4, \left(1 + \frac{1}{4}\right)^5, \dots, \left(1 + \frac{1}{n}\right)^{n+1}, \dots \quad (8)$$

دنباله‌ای نزولی است و، در ضمن، هر جمله دنباله (۸)، با بزرگ شدن n ، به سمت جمله نظیر خود در دنباله (۷) میل می‌کند. یعنی دنباله (۸) هم به سمت همان عدد e میل می‌کند. در واقع

$$\lim_{n \rightarrow \infty} \left(1 + \frac{1}{n}\right)^{n+1} = \lim_{n \rightarrow \infty} \left(1 + \frac{1}{n}\right)^n \left(1 + \frac{1}{n}\right) = e \cdot 1 = e$$

در ضمن $e < \left(1 + \frac{1}{n}\right)^{n+1}$. مثلاً از آن جا که

$$\left(1 + \frac{1}{5}\right)^5 = 2/488832 \quad \text{و} \quad \left(1 + \frac{1}{5}\right)^6 = 2/988984$$

$$\text{بنا بر این } 2/488832 < e < 2/988984$$

e ، عددی است گنگ و غیر جبری، یعنی نمی‌تواند ریشه معادله‌ای با ضریب‌های گویا باشد. این عدد، که به تقریب برابر است با $e \approx 2/7182818$ ، نقشی بسیار اساسی در ریاضیات دارد. مثلاً مبنای لگاریتم طبیعی عددها، همین عدد e است که با نماد \ln نشان داده می‌شود: $\ln x = \log_e x$.

$$41. \text{ برای } n \in \mathbf{N} \text{ و } n \geq 2, \text{ ثابت کنید } \sum_{k=1}^n \frac{1}{k^2} > \frac{3n}{2n+1}$$

$$42. \text{ با شرط } 0 < \alpha < \frac{\pi}{2}, \text{ ثابت کنید (نا برابری هیوگنس):}$$

$$2 \sin \alpha + \operatorname{tg} \alpha > 3 \alpha$$

43. طول ضلع‌های یک چهارضلعی را a, b, c, d می‌نامیم. ثابت کنید،

در هر حال داریم:

$$a^2 + b^2 + c^2 > \frac{1}{3} d^2$$

44. ثابت کنید، به شرط $\hat{C} \geq 90^\circ$ ، در مثلث ABC داریم:

$$|CD| + |AB| > |AC| + |BC|$$

D ، پای ارتفاع وارد از راس C بر قاعده AB است.

45. برای عددهای مثبت α, β, a, b ، می‌دانیم:

$$\alpha < \beta, \alpha + \beta < \pi, a + b < \pi, \frac{\sin \alpha}{\sin b} \leq \frac{\sin \alpha}{\sin \beta}$$

ثابت کنید: $a < b$.

46. یال‌های دو به دو متناظر یک چهاروجهی، به ترتیب دارای طول‌های

a_1, a, b_1, b, c_1, c هستند. در ضمن می‌دانیم از مجموع‌های $a_1^2 + a^2, b_1^2 + b^2$

و $c_1^2 + c^2$ ، مجموع $c^2 + c_1^2$ از دو مجموع دیگر بزرگتر است. ثابت کنید:

$$a^2 + a_1^2 + b^2 + b_1^2 > c^2 + c_1^2$$

47. این دستگاه دو معادله دو مجهولی را حل کنید.

$$\frac{x}{\sqrt{y}} + \frac{y}{\sqrt{x}} = xy, \quad x^\alpha + y^\alpha = \lambda (xy)^{\frac{\alpha-2}{2}}, \quad (\alpha \in \mathbf{R})$$

48. a, b و c ، عددهایی مثبت و حقیقی اند، ثابت کنید:

$$\frac{1}{a^2 + b^2 + abc} + \frac{1}{b^2 + c^2 + abc} + \frac{1}{c^2 + a^2 + abc} \leq \frac{1}{abc}$$

49. ثابت کنید، در هر چهارضلعی محدب، مجموع طول‌های دو قطر از

محیط چهارضلعی کوچکتر و از نصف محیط آن بزرگتر است.

۵۵. به شرط $a+b > 2$ ، ثابت کنید $a^4 + b^4 > 2$.

۵۱. a و b و c طول‌های سه ضلع يك مثلث اند. ثابت کنید، برای

$n \in \mathbf{N}$ و $n \geq 2$ ، عددهای $\sqrt[n]{a}$ و $\sqrt[n]{b}$ و $\sqrt[n]{c}$ هم می‌توانند طول‌های سه ضلع يك مثلث باشند.

۵۲. نقطه دلخواهی در درون مثلث ABC و p نصف محیط مثلث است. ثابت کنید:

$$|OA| \cdot \cos \frac{\widehat{BAC}}{2} + |OB| \cdot \cos \frac{\widehat{CBA}}{2} + |OC| \cdot \cos \frac{\widehat{ACB}}{2} \geq p$$

علامت برابری، در چه حالتی پیش می‌آید؟

۵۳. به شرط $n \in \mathbf{N}$ ثابت کنید: $\sum_{n=1}^{\infty} \frac{\sin \frac{1}{n+1}}{n(n+1)} < \frac{1}{2}$

۵۴. نقطه‌های C_1, A_1, B_1 را، به ترتیب، روی ضلع‌های BC, CA, AB از مثلث ABC انتخاب می‌کنیم، به نحوی که داشته باشیم:

$$|AC_1| : |C_1B| = |BA_1| : |A_1C| = |CB_1| : |B_1A| = 1 : 3$$

اگر P محیط مثلث ABC و p محیط مثلث $A_1B_1C_1$ باشد، ثابت کنید:

$$\frac{1}{4}P < p < \frac{3}{4}P$$

۵۵. x و y عددهایی مثبت اند و در معادله $x^3 + y^3 = x - y$ صدق می‌کنند. ثابت کنید: $x^2 + y^2 < 1$.

۵۶. درباره عددهای a و b می‌دانیم که نامعادله

$$a \cos x + b \cos^3 x > 1$$

جواب ندارد، ثابت کنید: $|b| \leq 1$.

۵۷. این دستگاه را حل کنید:

$$\begin{cases} \operatorname{tg} x_1 + 3 \operatorname{cotg} x_1 = 2 \operatorname{tg} x_2 \\ \operatorname{tg} x_2 + 3 \operatorname{cotg} x_2 = 2 \operatorname{tg} x_3 \\ \dots \dots \dots \\ \operatorname{tg} x_{n-1} + 3 \operatorname{cotg} x_{n-1} = 2 \operatorname{tg} x_n \\ \operatorname{tg} x_n + 3 \operatorname{cotg} x_n = 2 \operatorname{tg} x_1 \end{cases}$$

۵۸. ثابت کنید: $\int_0^1 \frac{x}{\cos x} dx < \ln 2$

۵۹. دایره‌ای به شعاع R مفروض است. محیط n ضلعی منتظم محاط در این دایره را p_n و محیط n ضلعی منتظم محیط بر آن را P_n می‌نامیم. ثابت کنید: $\frac{1}{4}(p_n + P_n) > 2\pi R$ ؛ یعنی واسطهٔ عددی محیط‌های n ضلعی‌های منتظم محاطی و محیطی، از محیط دایره بزرگتر است.

۶۰. تحقیق کنید $e^6 > \pi^4 + \pi^5$. بزرگترین عدد طبیعی n را پیدا کنید که در نابرابری $10^{-n} < e^6 - \pi^4 - \pi^5$ صدق کند. (منظور تحقیق به کمک ماشین حساب است، ولی ماشین حسابی را در نظر بگیرید که تنها ۸ رقم عدد رامی‌تواند نشان دهد. در این ماشین حساب، عدد π به صورت $3/1415926$ و عدد e به صورت $2/7182818$ ، یعنی تا ۷ رقم بعد از ممیز و با تقریب نقصانی نشان داده می‌شود.)

فصل دوم

نابرابری‌های مربوط به واسطه‌ها

§ ۱. واسطه حسابی، واسطه هندسی، واسطه توافقی و واسطه مربعی دو عدد

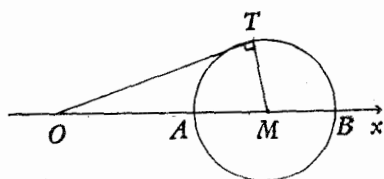
قضیه ۱. برای دو عدد مثبت a و b ، واسطه حسابی از واسطه هندسی کوچکتر نیست یعنی

$$\frac{a+b}{2} \geq \sqrt{ab} \quad (1)$$

در ضمن، حالت برابری، تنها برای $a = b$ پیش می‌آید. اثبات این قضیه بسیار ساده است. نابرابری به سادگی به نابرابری روشن

$$(\sqrt{a} - \sqrt{b})^2 \geq 0$$

منجر می‌شود که در حالت $a = b$ ، باید برابری سر و کار خواهیم داشت. این نابرابری را به سادگی می‌توان تعبیر هندسی کرد. روی نیم-خط Ox (شکل ۳) فرض می‌کنیم:



شکل ۳

روشن است که اگر M را وسط دو نقطه A و B بگیریم، داریم:

$$|OM| = \frac{|OA| + |OB|}{2} = \frac{a+b}{2}$$

دایره به قطر AB را در نظر می‌گیریم OT را بر آن مماس می‌کنیم (T ، نقطه تماس است) داریم:

$$|OT|^2 = |OA| \cdot |OB| = ab \Rightarrow |OT| = \sqrt{ab}$$

به این ترتیب، طول پاره خط راست OM برابر واسطه حسابی دو عدد a و b و طول پاره خط راست OT برابر واسطه هندسی این دو عدد است و روشن است که $|OM| \geq |OT|$) در مثل قائم‌الزاویه OMT ، وتر OM و وتر OT (یکی از ضلع‌های مجاور به زاویه قائمه است). حالت برابری، مربوط به زمانی است که A و B بر هم، منطبق باشند که، در این صورت نقطه‌های M و T هم بر آن‌ها منطبق می‌شوند.

نتیجه ۱. برای هر عدد حقیقی $x > 0$ ، مجموع $x + \frac{1}{x}$ همیشه از ۲ بزرگتر و یا با ۲ برابر است.

درواقع، بنا بر نابرابری (۱) داریم:

$$x + \frac{1}{x} \geq 2 \sqrt{x \cdot \frac{1}{x}} = 2$$

حالت برابری، برای $x = \frac{1}{x}$ ، یعنی $x = 1$ است.

یادداشت. در حالت $x < 0$ به دست می‌آید: $x + \frac{1}{x} \leq -2$ ، بنا بر این،

نتیجه ۱ را می‌توان به این صورت بیان کرد: مجموع هر عدد حقیقی با

عکس خود، از لحاظ قدر مطلق، از ۲ کوچکتر نیست: $\left| x + \frac{1}{x} \right| \geq 2$

نتیجه ۲. اگر مجموع دو عدد مثبت، مقداری ثابت باشد، حاصل ضرب

آن‌ها، وقتی به حداکثر خود می‌رسد که این دو عدد با هم برابر باشند.

برای دو عدد مثبت x و y فرض می‌کنیم: $x + y = a$ (مقداری

است ثابت). در این صورت، بنا بر نابرابری (۱) داریم:

$$\sqrt{xy} \leq \frac{x+y}{2} = \frac{a}{2} \Rightarrow xy \leq \frac{a^2}{4}$$

حداکثر مقدار xy برابر با $\frac{a^2}{4}$ است و به ازای $x=y$ به دست می آید.

نتیجه ۳. (تعمیم نتیجه ۱). اگر دو عدد مثبت، حاصل ضرب ثابتی داشته باشند، مجموع آن‌ها وقتی به حداقل مقدار خود می رسد که این دو عدد با هم برابر باشند.

برای دو عدد مثبت x و y فرض می کنیم $xy = p$. در این صورت، بنا بر (۱)

$$\frac{x+y}{2} \geq \sqrt{xy} = \sqrt{p} \Rightarrow x+y \geq 2\sqrt{p}$$

حداقل مقدار $x+y$ برابر است با $2\sqrt{p}$ و وقتی به دست می آید که $x=y$ باشیم.

مسئله ۱. ثابت کنید، برای هر $a > 1$ داریم

$$\log_a + \log_a 10 \geq 2$$

(یعنی $\log a$).

حل. می دانیم $\log_B A \cdot \log_A B = 1$ بنا بر این $\log_a 10 = \frac{1}{\log_a 10}$ و

$$\log a + \log_a 10 = \log a + \frac{1}{\log a} \geq 2$$

حالت برابری وقتی پیش می آید که داشته باشیم $a = 10$.

مسئله ۲. قطعه زمینی مستطیل شکل با محیط برابر $2p$ طوری انتخاب کنید که مساحت آن، حداکثر مقدار ممکن باشد.

حل. طول و عرض زمین را a و b می گیریم، باید داشته باشیم: $a+b=p$ و بنا بر نابرابری (۱) داریم:

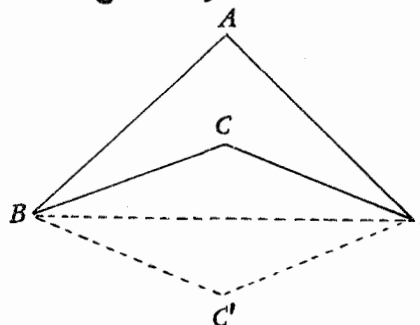
$$S = ab = (\sqrt{ab})^2 \leq \left(\frac{a+b}{2}\right)^2 = \frac{p^2}{4}$$

حداکثر مساحت زمین برابر $\frac{P^2}{4}$ است و وقتی به این مساحت می‌رسد که داشته

باشیم $a = b = \frac{P}{2}$. یعنی زمین را مربعی انتخاب کنیم.

یادداشت. مسأله را می‌توان به صورتی کلی‌تر طرح و حل کرد: اذین

چهار ضلعی‌های با محیط برابر $2p$ ، مساحت کدامیک حداکثر مقدار ممکن است؟



شکل ۴

روشن است که چهار ضلعی

باید محدب باشد، زیرا برای چهار-

ضلعی مقعر $ABCD$ می‌توان (با پیدا

کردن قسرینه خط شکسته BCD

نسبت به خط راست BD) چهار-

ضلعی محدب $ABC'D$ را با همان

محیط پیدا کرده که مساحتی بزرگتر

داشته باشد.

در چهارضلعی محدب $ABCD$ فرض می‌کنیم:

$$|AB| = a, |BC| = b, |CD| = c, |DA| = d, S_{ABCD} = S$$

روشن است که

$$2S = ab \sin \hat{B} + cd \sin \hat{D} \leq ab + cd,$$

$$2S = ad \sin \hat{A} + bc \sin \hat{C} \leq ad + bc$$

علامت‌های برابری وقتی پیش می‌آید که داشته باشیم:

$$\hat{A} = \hat{B} = \hat{C} = \hat{D} = 90^\circ$$

از مجموع این دو نابرابری به دست می‌آید:

$$2S \leq ab + cd + ad + bc = (a+c)(b+d) \leq$$

$$\leq \left[\frac{(a+b) + (b+d)}{2} \right]^2 = p^2$$

یعنی $S \leq \frac{p^2}{4}$ و حالت برابری وقتی پیش می‌آید که در مستطیل $ABCD$

داشته باشیم $a+c=b+d$ ، یعنی وقتی که مربع باشد.

مسئله ۳. a و b عددهایی مثبت اند، حداقل $(a+b)\left(\frac{1}{a}+\frac{1}{b}\right)$ چقدر

است؟

حل. بنا بر نابرابری (۱) داریم:

$$a+b \geq 2\sqrt{ab}, \quad \frac{1}{a}+\frac{1}{b} \geq 2\sqrt{\frac{1}{ab}}$$

که از ضرب آن‌ها در یکدیگر به دست می‌آید: $(a+b)\left(\frac{1}{a}+\frac{1}{b}\right) \geq 4$ ؛ در ضمن، به این حداقل در حالت $a=b$ می‌رسیم.

مسئله ۴. ثابت کنید، برای عددهای مثبت a و b داریم:

$$\sqrt{ab} \geq \frac{2}{\frac{1}{a}+\frac{1}{b}}$$

$\left(\frac{2}{\frac{1}{a}+\frac{1}{b}}\right)$ را واسطهٔ توافقی در عدد a و b گویند.

حل. نابرابری مفروض به سادگی به این صورت در می‌آید:

$$1 \geq \frac{\sqrt{ab}}{\frac{a+b}{2}} \quad \text{که درستی آن روشن است (در سمت راست نابرابری، بنا بر}$$

(۱)، صورت از مخرج بزرگتر نیست).

به این ترتیب، برای واسطهٔ حسابی، واسطهٔ هندسی و واسطهٔ توافقی دو

عدد مثبت a و b ، همیشه داریم:

$$\frac{a+b}{2} \geq \sqrt{ab} \geq \frac{2}{\frac{1}{a}+\frac{1}{b}} \quad (2)$$

مسئله ۵. ثابت کنید: $\sqrt{\frac{a^2+b^2}{2}} \cdot \sqrt{\frac{a^2+b^2}{2}} \geq \frac{a+b}{2}$ را

واسطه مربعی دو عدد a و b گویند.

حل. اگر دو طرف نابرابری مفروض را مجذور کنیم و همه جمله‌ها را به

سمت چپ نابرابری بیاوریم، به سادگی به نابرابری روشن زیر می‌رسیم:

$$\frac{1}{4}(a-b)^2 \geq 0$$

به این ترتیب، برای هر دو عدد مثبت a و b ، همیشه داریم:

$$\sqrt{\frac{a^2+b^2}{2}} \geq \frac{a+b}{2} \geq \sqrt{ab} \geq \frac{2}{\frac{1}{a}+\frac{1}{b}} \quad (3)$$

که برای $a=b$ ، همه نابرابری‌ها، به برابری تبدیل می‌شوند.

مسئله ۶. ابتدا ثابت کنید، برای عددهای مثبت a_1, a_2, b_1, b_2 داریم

$$\sqrt{a_1^2+b_1^2} + \sqrt{a_2^2+b_2^2} \geq \sqrt{(a_1+a_2)^2 + (b_1+b_2)^2} \quad (4)$$

سپس، با استفاده از نابرابری (۴)، از بین مثلث‌های با قاعده مشترک AB که ارتفاعی برابر h داشته باشند، آن را پیدا کنید که محیط آن، حداقل مقدار ممکن باشد.

حل. اگر دو طرف نابرابری (۴) را مجذور کنیم، بعد از ساده کردن به

دست می‌آید:

$$\sqrt{(a_1^2+b_1^2)(a_2^2+b_2^2)} \geq a_1a_2 + b_1b_2$$

دوباره دو طرف نابرابری را مجذور می‌کنیم، پس از ساده کردن، به نابرابری روشن زیر می‌رسیم:

$$(a_1b_2 - a_2b_1)^2 \geq 0$$

علامت برابری وقتی به دست می‌آید که $a_1b_2 = a_2b_1$ یا $\frac{a_1}{b_1} = \frac{a_2}{b_2}$.

اکنون به حل مسئله هندسی می‌پردازیم. پای ارتفاع وارد از رأس C

بر قاعده AB را H می‌گیریم و فرض می‌کنیم: $|AB| = c$ ، $|CH| = h$ ،

$|AH| = x$ و $BH = y$. با توجه به نابرابری (۴) می‌توان نوشت:

$$|CA| + |CB| = \sqrt{x^2+h^2} + \sqrt{y^2+h^2} \geq$$

$$\geq \sqrt{(x+y)^2 + 4h^2} = \sqrt{c^2 + 4h^2}$$

یعنی حداقل محیط برابر $c + \sqrt{c^2 + 4h^2}$ است و وقتی به دست می آید که داشته باشیم $x = y$ ، یعنی وقتی که مثلث ABC متساوی الساقین باشد. مسئله ۴. ثابت کنید:

$$(a_1^2 + a_2^2)(b_1^2 + b_2^2) \geq (a_1 b_1 + a_2 b_2)^2 \quad (5)$$

حل. با باز کردن پرانتزها، به نابرابری روشن زیر می رسم:

$$(a_1 b_2 - a_2 b_1)^2 \geq 0$$

در این جا هم، حالت برابری وقتی پیش می آید که داشته باشیم:

$$\frac{a_1}{b_1} = \frac{a_2}{b_2}$$

۴.۵. نابرابری کوشی

در نابرابری (۱) بند قبل دیدیم $\frac{a+b}{2} \geq \sqrt{ab}$ ، یعنی واسطه حسابی

دو عدد مثبت، از واسطه هندسی آن ها کوچکتر نیست. این حکم برای n عدد مثبت هم درست است، یعنی اگر برای عددهای مثبت a_1, a_2, \dots, a_n فرض کنیم:

$$A_n = \frac{a_1 + a_2 + \dots + a_n}{n}, \quad G_n = \sqrt[n]{a_1 a_2 \dots a_n}$$

آن وقت $A_n \geq G_n$ و در حالت $a_1 = a_2 = \dots = a_n$ به دست می آید $A_n = G_n$.

نابرابری $A_n \geq G_n$ (که نابرابری کوشی نامیده می شود)، یکی از مهم ترین نابرابری هاست و در اغلب شاخه های ریاضی کاربرد دارد. در این جا روش های گوناگونی را برای اثبات این نابرابری می آوریم و این، بیشتر بدان جهت است که خواننده، باشیوه های مختلف اثبات نابرابری ها آشنا شود. علاوه بر این، در بخش های بعدی (و مثلاً در بخش کاربرد مشتق برای اثبات نابرابری ها) هم، باروش های اثبات دیگری آشنا خواهیم شد.

اثبات اول (بر اساس يك منطق ساده). ابتدا يك حقيقت ساده را ثابت می‌کنیم: اگر مجموع دو عدد مثبت، مقدار ثابتی باشد، هرچه دو عدد به هم نزدیکتر باشند، حاصل ضرب آن‌ها بزرگتر است. این قضیه، در واقع، تعمیمی از نتیجه ۲ بند قبل و اثبات دیگری برای آن است.

a و b را دو عدد مثبت و $a < b$ می‌گیریم. اگر فرض کنیم $0 < \varepsilon < b - a$ آن وقت

$$(a + \varepsilon)(b - \varepsilon) = ab + \varepsilon(b - a - \varepsilon) > ab$$

دو عدد a و b را طوری تغییر دادیم که، بدون تغییر مجموع آن‌ها، به هم نزدیکتر شوند، در این صورت، حاصل ضرب آن‌ها بزرگتر شد.

اکنون ثابت می‌کنیم $(a_1, a_2, \dots, a_n > 0)$:

$$A_n = \frac{a_1 + a_2 + \dots + a_n}{n} \geq \sqrt[n]{a_1 a_2 \dots a_n} = G_n \quad (6)$$

اگر همه عددهای a_i با هم برابر باشند، به سادگی به دست می‌آید $A_n = G_n$. بنا بر این فرض می‌کنیم، بین این عددها، عددهای نابرابر وجود داشته باشد. اگر مثلاً a_1 را کوچکترین و a_p را بزرگترین عدد، در بین عددهای a_1, a_2, \dots, a_n بگیریم، روشن است که $a_1 < A_n$ و $a_p > A_n$.

به جای a_1 ، عدد A_n و به جای a_p عدد $a_1 + a_p - A_n$ را در نظر می‌گیریم؛ در این صورت، بدون این که مجموع آن‌ها تغییر کند، به هم نزدیکتر شده‌اند. بنا بر این، واسطه حسابی A_n تغییر نمی‌کند، در حالی که واسطه هندسی G_n بزرگتر می‌شود. اگر باز هم، در بین عددهای جدید، عددهای نابرابر وجود داشته باشد، همین عمل را تکرار می‌کنیم. از آن‌جا که در هر گام، تعداد عددهای برابر A_n ، افزایش می‌یابد، بعد از چند گام (که تعداد آن‌ها محدود است)، همه عددها با هم برابر (و برابر A_n) می‌شوند و به حالتی می‌رسیم که، واسطه حسابی آن‌ها، با واسطه هندسی آن‌ها برابر می‌شود. ولی در هر گام، واسطه حسابی عددها بی‌تغییر می‌ماند، در حالی که واسطه هندسی آن‌ها بزرگتر می‌شود،

یعنی در انتخاب نخستین عددها، واسطهٔ حسابی از واسطهٔ هندسی بزرگتر است. یادداشت. همین استدلال، در واقع، قضیهٔ دیگری را هم ثابت می‌کند که در واقع، تعمیم نتیجهٔ ۲ از بند قبل است: اگر مجموع n عدد مثبت مقداری ثابت باشد، حاصل ضرب آن‌ها وقتی به حداکثر مقدار خود می‌رسد که همهٔ این عددها، با هم برابر باشند.

اثبات دوم (بر اساس استقرای ریاضی*). ابتدا يك پیش‌قضیه را ثابت

می‌کنیم.

پیش‌قضیه. اگر حاصل ضرب n عدد مثبت، برابر واحد باشد، مجموع آن‌ها از n کمتر نیست (و این، در واقع تعمیمی از نتیجهٔ ۱ بند قبل است). پیش‌قضیه، برای $n = 2$ درست است (نتیجهٔ ۱ بند قبل را ببینید). فرض می‌کنیم، برای $n = k$ و با شرط $a_1 a_2 \dots a_k = 1$ داشته باشیم:

$$a_1 + a_2 + \dots + a_k \geq k$$

(فرض استقرا) و ثابت می‌کنیم، در این صورت، با شرط $a_1 a_2 \dots a_k a_{k+1} = 1$ داریم:

$$a_1 + a_2 + \dots + a_k + a_{k+1} \geq k + 1$$

اگر همهٔ عددهای $a_1, a_2, \dots, a_k, a_{k+1}$ برابر باشند:

$$a_1 = a_2 = \dots = a_k = a_{k+1} = 1$$

آن وقت، مجموع آن‌ها برابر $k + 1$ می‌شود و پیش‌قضیه درست است. حالتی را در نظر می‌گیریم که، در بین عددهای از a_1 تا a_{k+1} ، عددهای نابرابر وجود داشته باشد، در این صورت، در بین این عددها، دست کم يك عدد کوچکتر از واحد و يك عدد بزرگتر از واحد پیدا می‌شود (چرا؟). فرض می‌کنیم، مثلاً، $a_1 < 1$ و $a_{k+1} > 1$ داریم:

$$(a_1 a_{k+1}) \cdot a_2 a_3 \dots a_k = 1$$

(* برای آشنایی بیشتر با این روش، «روش استقرای ریاضی» را در شماره ۸ کتاب‌های کوچک ریاضی» ببینید.

اگر $a_1 a_{k+1} > 1$ را یک عدد به حساب آوریم، بنا بر فرض استقرا باید داشته باشیم:

$$a_1 a_{k+1} + a_2 + a_3 + \dots + a_k \geq k$$

از این جا می توان نوشت:

$$a_1 + a_2 + \dots + a_k + a_{k+1} =$$

$$= (a_1 a_{k+1} + a_2 + a_3 + \dots + a_k) + a_{k+1} - a_1 a_{k+1} + a_1 \geq$$

$$\geq k + a_{k+1} - a_1 a_{k+1} + a_1 = (k+1) + a_{k+1} - a_1 a_{k+1} +$$

$$+ a_1 - 1 = (k+1) + (a_{k+1} - 1)(1 - a_1) > k+1$$

زیرا $a_1 < 1$ و $a_{k+1} > 1$ و بنا بر این $(a_{k+1} - 1)(1 - a_1) > 0$. پیش-
قضیه ثابت شد.

اکنون به اثبات حکم اصلی می پردازیم. داریم: $G_n = \sqrt[n]{a_1 a_2 \dots a_n}$

یعنی

$$1 = \sqrt[n]{\frac{a_1}{G_n} \cdot \frac{a_2}{G_n} \dots \frac{a_n}{G_n}} \implies \frac{a_1}{G_n} \cdot \frac{a_2}{G_n} \dots \frac{a_n}{G_n} = 1$$

حاصل ضرب n عدد مثبت، برابر واحد شده است، بنا بر این طبق پیش-
قضیه ای که ثابت کردیم، باید داشته باشیم:

$$\frac{a_1}{G_n} + \frac{a_2}{G_n} + \dots + \frac{G_n}{G_n} \geq n$$

یعنی $\frac{a_1 + a_2 + \dots + a_n}{n} \geq G_n$ یا $A_n \geq G_n$. و روشن است که

علامت برابری، وقتی برقرار است که

$$\frac{a_1}{G_n} = \frac{a_2}{G_n} = \dots = \frac{G_n}{G_n} \implies a_1 = a_2 = \dots = a_n$$

اثبات سوم (باز هم به کمک استقرا ریاضی). وقتی نابرابری

$A_n \geq G_n$ برای $n=2$ برقرار باشد، برای $n=4$ هم برقرار است، زیرا

$$\frac{a_1 + a_2 + a_3 + a_4}{4} = \frac{\frac{a_1 + a_2}{2} + \frac{a_3 + a_4}{2}}{2} \geq$$

$$\geq \sqrt{\frac{a_1 + a_2}{2} \cdot \frac{a_3 + a_4}{2}} \geq \sqrt{\sqrt{a_1 a_2} \cdot \sqrt{a_3 a_4}} = \sqrt[4]{a_1 a_2 a_3 a_4}$$

به همین ترتیب، می توان ثابت کرد؛ اگر $A_k \geq G_k$ ، آن وقت $A_{2k} \geq G_{2k}$. بنا بر این نابرابری $A_n \geq G_n$ برای هر عدد n که توانی از ۲ باشد، برقرار است.

در حالت کلی فرض می کنیم $n + p = 2^m$ ، در این صورت، برای هر $n + p$ عدد، نابرابری کوشی برقرار است. از این $n + p$ عدد لازم، n عدد a_1, a_2, \dots, a_n و p عدد دیگر را برابر یکدیگر و برابر A_n می گیریم. در نتیجه داریم:

$$\frac{a_1 + a_2 + \dots + a_n + pA_n}{n + p} \geq \sqrt[n+p]{a_1 a_2 \dots a_n \cdot A_n^p}$$

که به این صورت درمی آید:

$$\frac{nA_n + pA_n}{n + p} = A_n \geq \sqrt[n+p]{G_n^n \cdot A_n^p}$$

که اگر دو طرف نابرابری را به توان $n + p$ برسانیم، بعد از ساده کردن به دست می آید:

$$A_n^n \geq G_n^n \implies A_n \geq G_n$$

اثبات چهارم (اثبات یک نابرابری قوی تر از نابرابری کوشی). ثابت می کنیم:

$$\left(\frac{A_{k+1}}{G_{k+1}}\right)^{k+1} \geq \left(\frac{A_k}{G_k}\right)^k \quad (7)$$

روشن است که از نابرابری (۷) می توان نابرابری (۶) (یعنی نابرابری کوشی) را، با ردیف نابرابری های زیر به دست آورد:

$$\left(\frac{A_n}{G_n}\right)^n \geq \left(\frac{A_{n-1}}{G_{n-1}}\right)^{n-1} \geq \dots \geq \frac{A_1}{G_1} = 1$$

(طبق تعریف $A_1 = a_1$ و $G_1 = a_1$ ، در واقع، $A_1 = \frac{a_1}{1} = a_1$)

$$(G_1 = (a_1)^{\frac{1}{1}} = a_1)$$

برای اثبات (۷)، ابتدا توجه می‌کنیم که $A_{k+1} = \frac{kA_k + a_{k+1}}{k+1}$ و

$$G_{k+1}^{k+1} = G_k^k a_{k+1} \text{ به ترتیب داریم:}$$

$$\left(\frac{A_{k+1}}{G_{k+1}}\right)^{k+1} = \left(\frac{kA_k + a_{k+1}}{k+1}\right)^{k+1} \cdot \frac{1}{G_k^k \cdot a_{k+1}} =$$

$$= \left(\frac{A_k}{G_k}\right)^k \cdot \frac{A_k}{a_{k+1}} \left(\frac{k + \frac{a_{k+1}}{A_k}}{k+1}\right)^{k+1}$$

فرض می‌کنیم $\frac{a_{k+1}}{A_k} = \alpha$ ، در این صورت

$$\left(\frac{k+\alpha}{k+1}\right)^{k+1} = \left(1 + \frac{\alpha-1}{k+1}\right)^{k+1} \geq 1 + (k+1) \frac{\alpha-1}{k+1} = \alpha$$

(از نابرابری روشن $(1+x)^n \geq 1+nx$ استفاده کرده‌ایم). بنابراین

$$\left(\frac{A_{k+1}}{G_{k+1}}\right)^{k+1} = \left(\frac{A_k}{G_k}\right)^k \cdot \frac{1}{\alpha} \left(\frac{k+\alpha}{k+1}\right)^{k+1} \geq \left(\frac{A_k}{G_k}\right)^k$$

اثبات پنجم (استفاده از استقرای ریاضی به‌طور مستقیم). نابرابری

$A_n \geq G_n$ برای $n=2$ برقرار است. فرض می‌کنیم $A_k \geq G_k$ ($k > 2$) و

ثابت می‌کنیم، در این صورت $A_{k+1} \geq G_{k+1}$

با استفاده از نابرابری کوشی برای k عدد مثبت داریم:

$$A = \frac{a_{k+1} + (k-1)A_{k+1}}{k} \geq \sqrt[k]{a_{k+1} \cdot A_{k+1}^{k-1}} = G$$

یادآوری می‌کنیم که، با توجه به برابری سمت چپ داریم:

$$A_{k+1} = \frac{A_k + A}{2} \quad \text{در نتیجه}$$

$$\begin{aligned} A_{k+1} &= \frac{A_k + A}{2} \geq \sqrt{A_k \cdot A} \geq \sqrt{G_k \cdot G} = \\ &= \sqrt{G_{k+1}^{2k} \cdot A_{k+1}^{2k}} \geq \sqrt{G_{k+1}^{2k} \cdot G_{k+1}^{2k}} = G_{k+1} \end{aligned}$$

اثبات ششم (به کمک بسط دو جمله‌ای). فرض می‌کنیم نابرابری کوشی برای $n = m$ برقرار باشد، یعنی $A_m \geq G_m$. اکنون $m+1$ عدد $a_1, a_2, \dots, a_m, a_{m+1}$ را در نظر می‌گیریم و فرض می‌کنیم a_{m+1} بزرگترین آن‌ها باشد (از بین این $m+1$ عدد، آن را که از همه بزرگتر است a_{m+1} می‌نامیم). چون

$$A_{m+1} = \frac{mA_m + a_{m+1}}{m+1} \quad \text{و} \quad a_{m+1} = A_m + b \quad (b > 0)$$

پس $A_{m+1} = A_m + \frac{b}{m+1}$ یعنی

$$\begin{aligned} A_{m+1}^{m+1} &= \left(A_m + \frac{b}{m+1} \right)^{m+1} \geq A_m^{m+1} + (m+1)A_m^m \cdot \frac{b}{m+1} = \\ &= A_m^m (A_m + b) = a_m^m \cdot a_{m+1} \geq G_m^m \cdot a_{m+1} = G_{m+1}^{m+1} \end{aligned}$$

اثبات هفتم (استقرای ریاضی). فرض می‌کنیم $a_i = x_i^n$ ($i = 1, 2, \dots, n$) در این صورت، فرض استقرای یعنی

$$a_1 + a_2 + \dots + a_m \geq m \sqrt[m]{a_1 a_2 \dots a_m}$$

به صورت $x_1^m + x_2^m + \dots + x_m^m \geq m x_1 x_2 \dots x_m$ درمی‌آید و باید ثابت کنیم:

$$x_1^{m+1} + x_2^{m+1} + \dots + x_{m+1}^{m+1} \geq (m+1) x_1 x_2 \dots x_{m+1}$$

با توجه به نابرابری روشن $(a^n - b^n)(a - b) \geq 0$ برای دو

عدد مثبت a و b داریم:

$$a^n + b^n \geq a^{n-1}b + ab^{n-1} \quad (*)$$

برای هر دو عدد x_i و x_j ($1 \leq i < j \leq m+1$)، نابرابری (*) را به ازای $n = m+1$ می نویسیم، و سپس، نابرابری های حاصل را با هم جمع می کنیم. به دست می آید:

$$m(x_1^{m+1} + x_2^{m+1} + \dots + x_{m+1}^{m+1}) \geq x_1(x_2^m + x_3^m + \dots + x_{m+1}^m) + x_2(x_1^m + x_3^m + \dots + x_{m+1}^m) + \dots + x_{m+1}(x_1^m + x_2^m + \dots + x_m^m) \geq x_1 \cdot m x_2 x_3 \dots x_{m+1} + x_2 \cdot m x_1 x_3 \dots x_{m+1} + \dots + x_{m+1} \cdot m x_1 x_2 \dots x_m = m(m+1)x_1 x_2 \dots x_{m+1}$$

که از آن جا، به نابرابری مورد نظر می رسیم.

مسئله ۸. ثابت کنید نابرابری $\frac{x^2+5}{\sqrt{x^2+1}} \geq 4$ برای $x \in \mathbb{R}$ همیشه

برقرار است.

حل. کسر سمت چپ نابرابری را تبدیل می کنیم:

$$\frac{x^2+5}{\sqrt{x^2+1}} = \frac{x^2+1}{\sqrt{x^2+1}} + \frac{4}{\sqrt{x^2+1}} = \sqrt{x^2+1} + \frac{4}{\sqrt{x^2+1}} \geq 2\sqrt{\sqrt{x^2+1} \times \frac{4}{\sqrt{x^2+1}}} = 2 \times 2 = 4$$

علامت برابری، وقتی به دست می آید که داشته باشیم:

$$\sqrt{x^2+1} = \frac{4}{\sqrt{x^2+1}} \iff x^2 = 3 \text{ یا } x = \pm\sqrt{3}$$

مسئله ۹. حداکثر مقدار کسر $\frac{x^n}{1+x^{2n}}$ را برای $x > 0$ پیدا کنید.

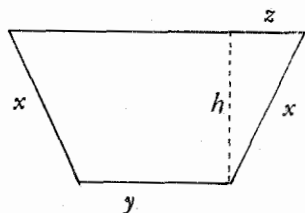
حل. داریم:

$$\frac{x^n}{1+x^{2n}} = \frac{1}{\frac{1}{x^n} + x^n}$$

که با توجه به نابرابری $x^n + \frac{1}{x^n} \geq 2$ ، به دست می آید $\frac{x^n}{1+x^{2n}} \leq \frac{1}{2}$

(علامت برابری، برای $x = 1$ است).

مسئله ۰۹۵. از بین دوزنقه‌های متساوی‌الساقینی که، در آن‌ها، مجموع طول‌های دوساق و قاعده کوچکتر مقداری ثابت است، کدامیک حداکثر مساحت را دارد؟



شکل ۵

حل. طول هر یک از ساق‌ها را x و طول قاعده کوچکتر را y می‌گیریم. بنا بر فرض مسأله، مجموع $2x + y$ مقدار ثابتی است، آن را a می‌نامیم:

$$2x + y = a$$

اگر تفاوت طول‌های دو قاعده را

z ، ارتفاع دوزنقه را h و مساحت آن را S بنامیم، داریم:

$$4S^2 = [y + (y + 2z)]^2 \cdot h^2 = (2y + 2z)^2 (x^2 - z^2) =$$

$$= 4(y + z)^2 (x + z)(x - z) = \frac{4}{3}(y + z)(y + z)(x + z)(3x - 3z)$$

چهار عامل عبارت اخیر، مجموع ثابتی دارند:

$$(y + z) + (y + z) + (x + z) + (3x - 3z) = 2(2x + y) = 2a$$

بنابراین، حاصل ضرب آن‌ها وقتی به حداکثر مقدار خود می‌رسد (یادداشت اثبات اول را ببینید)، که با هم برابر باشند. از آن جا به سادگی به دست می‌آید: $x = y = 2z$. با توجه به مقدار z معلوم می‌شود که، هر یک از زاویه‌های مجاور به قاعده کوچکتر دوزنقه برابر 120° درجه می‌شود، یعنی دوزنقه عبارت است از نیمه‌ای از یک شش ضلعی منتظم.

یادداشت. ضمن حل مسأله از این قضیه استفاده کردیم که: حاصل ضرب چند عدد مثبتی که مجموعی ثابت داشته باشند، وقتی به حداکثر خود می‌رسد که این عددها با هم برابر باشند. در واقع برای عددهای مثبت a_1, a_2, \dots, a_n همیشه داریم (نابرابری کوشی):

$$a_1 a_2 \dots a_n \leq \left(\frac{a_1 + a_2 + \dots + a_n}{n} \right)^n = \left(\frac{A}{n} \right)^n$$

(مجموع عددها را A گرفته ایم). حاصل ضرب عددها، همیشه از $\left(\frac{A}{n}\right)^n$ کوچکتر است و تنها در حالت برابری عددها با آن برابر می شود: حداکثر حاصل ضرب برابر است با $\left(\frac{A}{n}\right)^n$ و وقتی به دست می آید که داشته باشیم

$$a_1 = a_2 = \dots = a_n$$

عکس این قضیه هم درست است: اگر حاصل ضرب چند عدد مثبت مقدار ثابتی باشد، مجموع آن ها وقتی به حداقل مقدار خود می رسد که این عددها با هم برابر باشند.

در واقع، اگر حاصل ضرب n عدد مثبت a_1, a_2, \dots, a_n را q بگیریم، داریم:

$$a_1 + a_2 + \dots + a_n \geq n \sqrt[n]{a_1 a_2 \dots a_n} = n \sqrt[n]{q}$$

حداقل مجموع برابر $n \sqrt[n]{q}$ است و وقتی به دست می آید که a_i ها با هم برابر باشند.

مسئله ۱۱. ثابت کنید، برای عدد های مثبت a_1, a_2, \dots, a_n همیشه

داریم:

$$(a_1 + a_2 + \dots + a_n) \left(\frac{1}{a_1} + \frac{1}{a_2} + \dots + \frac{1}{a_n} \right) \geq n^2$$

حل. به ترتیب داریم:

$$a_1 + a_2 + \dots + a_n \geq n \sqrt[n]{a_1 a_2 \dots a_n}$$

$$\frac{1}{a_1} + \frac{1}{a_2} + \dots + \frac{1}{a_n} \geq n \sqrt[n]{\frac{1}{a_1} \cdot \frac{1}{a_2} \dots \frac{1}{a_n}}$$

که از ضرب آن ها در یکدیگر، به نابرابری مورد نظر می رسیم (حالت برابری،

موقعی پیش می آید که همه عددهای a_1, \dots, a_n با هم برابر باشند).
 مسأله ۱۲. حداکثر مقدار تابع $y = x(9-x)^2$ را، با شرط $0 < x < 9$ پیدا کنید.

حل. داریم: $2y = 2x(9-x)(9-x)$. عامل های $2x, 9-x$ و $9-x$ ، با توجه به شرط مسأله، مقدارهایی مثبت اند و مجموعی ثابت دارند:

$$2x + (9-x) + (9-x) = 18$$

بنابراین حاصل ضرب آن‌ها، وقتی به حداکثر مقدار خود می رسد که این عامل‌ها با هم برابر باشند:

$$2x = 9 - x \Rightarrow x = 3$$

تابع y در بازه $(0, 9)$ ، به ازای $x = 3$ به حداکثر مقدار خود می رسد و این حداکثر برابر است با ۱۰۸.

مسأله ۱۳. به شرط $\alpha + \beta + \gamma = \frac{\pi}{2}$ ثابت کنید:

$$\frac{1}{\sin^2 \alpha} + \frac{1}{\sin^2 \beta} + \frac{1}{\sin^2 \gamma} \geq 12$$

حل. در ترمین ۲۸ ثابت کردیم، به شرط $\alpha + \beta + \gamma = \frac{\pi}{2}$ داریم:

$$\sin \alpha \sin \beta \sin \gamma \leq \frac{1}{8} \Rightarrow \frac{1}{\sin^2 \alpha \sin^2 \beta \sin^2 \gamma} \geq \frac{1}{64}$$

و با توجه به نابرابری کوشی به دست می آید:

$$\frac{1}{\sin^2 \alpha} + \frac{1}{\sin^2 \beta} + \frac{1}{\sin^2 \gamma} \geq 3 \sqrt[3]{\frac{1}{\sin^2 \alpha \sin^2 \beta \sin^2 \gamma}} \geq 3 \sqrt[3]{64} = 12$$

در حالت $\alpha = \beta = \gamma = \frac{\pi}{6}$ ، نابرابری به برابری تبدیل می شود.

مسأله ۱۴. با استفاده از نابرابری کوشی، درستی نابرابری‌های زیر را ثابت کنید (قضیه ۱ فصل اول را ببینید).

$$2 < \left(1 + \frac{1}{n}\right)^n < 3, \quad n = 2, 3, 4, \dots$$

حل. نابرابری‌های کلی‌تری را ثابت می‌کنیم که نابرابری‌های نپس نتیجه‌ای از آنهاست:

به شرط $k \in \mathbb{N}$ و $n \in \mathbb{N}$ ، $k \leq n$ این نابرابری‌ها برقرارند:

$$\left(1 + \frac{1}{k}\right)^k \leq \left(1 + \frac{1}{n}\right)^n < \left(1 + \frac{1}{k}\right)^{k+1} \quad (*)$$

ابتدا، نابرابری سمت چپ را ثابت می‌کنیم. این n عدد را در نظر می‌گیریم:

$$\underbrace{1 + \frac{1}{k}, 1 + \frac{1}{k}, \dots, 1 + \frac{1}{k}}_{k \text{ مرتبه}} \quad \underbrace{1, 1, \dots, 1}_{(n-k) \text{ مرتبه}}$$

و نابرابری کوشی را درباره آن‌ها می‌نویسیم:

$$\sqrt[n]{\left(1 + \frac{1}{k}\right)^k \cdot 1^{n-k}} \leq \frac{k\left(1 + \frac{1}{k}\right) + n - k}{n}$$

و یا بعد از ساده کردن

$$\sqrt[n]{\left(1 + \frac{1}{k}\right)^k} \leq 1 + \frac{1}{n} \Rightarrow \left(1 + \frac{1}{k}\right)^k \leq \left(1 + \frac{1}{n}\right)^n$$

برای اثبات نابرابری سمت راست (*)، نابرابری کوشی را برای عدد $n+k+1$

$$\underbrace{\frac{k}{k+1}, \frac{k}{k+1}, \dots, \frac{k}{k+1}}_{(k+1) \text{ مرتبه}} \quad \underbrace{1 + \frac{1}{n}, 1 + \frac{1}{n}, \dots, 1 + \frac{1}{n}}_n$$

می‌نویسیم که به دست می‌آید:

$$\sqrt[k+n+1]{\left(\frac{k}{k+1}\right)^{k+1} \cdot \left(1+\frac{1}{n}\right)^n} < \frac{(k+1)\frac{k}{k+1} + n\left(1+\frac{1}{n}\right)}{k+n+1} = 1$$

یعنی

$$\left(\frac{k}{k+1}\right)^{k+1} \cdot \left(1+\frac{1}{n}\right)^n < 1 \Rightarrow \left(1+\frac{1}{n}\right)^n < \left(1+\frac{1}{k}\right)^{k+1}$$

که برای عددهای طبیعی و دلخواه k و n برقرار است.

اکنون، اگر در نابرابری سمت چپ (*)، فرض کنیم $k=2$ ، به دست

می آید:

$$\left(1+\frac{1}{n}\right)^n > 2, \quad n=2, 3, 4, \dots$$

و اگر در نابرابری سمت راست (*)، $k=5$ بگیریم:

$$\left(1+\frac{1}{n}\right)^n < \left(\frac{6}{5}\right)^6 < 3, \quad n \in \mathbb{N}$$

و چون $e = \lim_{n \rightarrow \infty} \left(1+\frac{1}{n}\right)^n$ ، با توجه به این نابرابری‌ها، خواهیم داشت:

$$\left(1+\frac{1}{k}\right)^k < e < \left(1+\frac{1}{k}\right)^{k+1}, \quad k \in \mathbb{N}$$

مثلاً با فرض $k=200$ ، با استفاده از جدول‌های لگاریتمی پنج رقمی، به دست

می آید:

$$2/718 < e < 2/719$$

مسئله ۱۵. وجه‌های یک چهار وجهی، هم‌ارزند (مساحت‌هایی برابر

دارند). اگر زاویه‌های دو وجهی مجاور به یکی از وجه‌ها α ، β ، و γ بنامیم

ثابت کنید:

$$۱) \cos \alpha \cos \beta \cos \gamma \leq \frac{1}{27}, \quad ۲) \cos^2 \alpha + \cos^2 \beta + \cos^2 \gamma \geq \frac{1}{3}$$

حل. تصویر رأس D از چهاروجهی $ABCD$ را بوجه ABC با حرف D_1 نشان می‌دهیم و مثلث‌های BCD_1 ، CAD_1 ، ABD_1 را در نظر می‌گیریم. بنا بر فرض داریم:

$$S_{BCD_1} = S_{BCD} \cos \alpha, \quad S_{CAD_1} = S_{CAD} \cos \beta, \quad S_{ABD_1} = S_{ABD} \cos \gamma$$

از مجموع این سه برابری، با توجه به این که چهاروجه این چهاروجهی مساحت‌هایی برابر دارند، به دست می‌آید:

$$\cos \alpha + \cos \beta + \cos \gamma = 1$$

(اگر مساحت مثلث‌های جهت‌دار BCD_1 ، CAD_1 ، ABD_1 را در نظر بگیریم، تصویر نقطه D ، یعنی D_1 ، به هر وضعی باشد، این برابری درست است). اگر α ، β و γ ، زاویه‌هایی حاده باشند، آن وقت $\cos \alpha > 0$ ، $\cos \beta > 0$ ، $\cos \gamma > 0$ ، و با استفاده از نابرابری کوشی به دست می‌آید:

$$\sqrt{\cos \alpha \cos \beta \cos \gamma} \leq \frac{\cos \alpha + \cos \beta + \cos \gamma}{3} = \frac{1}{3}$$

$$\cos \alpha \cos \beta \cos \gamma \leq \frac{1}{27}$$

یعنی

در حالت منفرجه بودن یکی از زاویه‌های α ، β ، و γ ، درستی نابرابری روشن است، زیرا سمت چپ نابرابری منفی می‌شود. برای اثبات درستی نابرابری دوم، ابتدا ثابت می‌کنیم، برای هر سه عدد مثبت a ، b و c همیشه داریم:

$$\sqrt{\frac{a^2 + b^2 + c^2}{3}} \geq \frac{a + b + c}{3} \quad (**)$$

(یعنی واسطه مربعی سه عدد مثبت، از واسطه حسابی آنها، کوچکتر نیست). اگر دو طرف نابرابری (***) را مجذور کنیم و همه جمله‌ها را به سمت چپ نابرابری بیاوریم، سرانجام به نابرابری روشن زیر می‌رسیم:

$$(a-b)^2 + (b-c)^2 + (c-a)^2 \geq 0$$

که حالت تساوی برای $a = b = c$ پیش می‌آید.

با توجه به نابرابری (***) می توان نوشت:

$$\sqrt{\frac{\cos^2 \alpha + \cos^2 \beta + \cos^2 \gamma}{3}} \geq \frac{\cos \alpha + \cos \beta + \cos \gamma}{3} = \frac{1}{3}$$

$$\cdot \cos^2 \alpha + \cos^2 \beta + \cos^2 \gamma \geq \frac{1}{3} \text{ و یا}$$

اگر مثلاً $\gamma > 90^\circ$ ، آن وقت

$$\text{و } \cos \alpha + \cos \beta + (-\cos \gamma) = 1 - 2 \cos \gamma$$

$$\sqrt{\frac{\cos^2 \alpha + \cos^2 \beta + \cos^2 \gamma}{3}} > \frac{\cos \alpha + \cos \beta + (-\cos \gamma)}{3} =$$

$$= \frac{1 - 2 \cos \gamma}{3} > \frac{1}{3}$$

از آن جا که نقطه D_1 بر محل برخورد سه ارتفاع مثلث $A_1 B_1 C_1$ - که از گسترده چهاروجهی مفروض به دست می آید - قرار دارد و از آن جا که این گسترده تنها می تواند مثلثی بازایه های حاده باشد، بنابراین، بین زاویه های α ، β و γ ، نمی تواند دوزاویه منفرجه وجود داشته باشد. در حالت خاصی هم که یکی از سه زاویه دووجهی قائمه باشد، هر دو نابرابری برقرارند.

§ ۳. واسطه های دیگر

اگر در عدد حقیقی a و b ($a < b$) را در نظر بگیریم، بی نهایت عدد حقیقی x وجود دارد، به نحوی که داشته باشیم: $a < x < b$. هر یک از این عددهای x ، واسطه ای برای دو عدد a و b به شمار می روند. به طور کلی: برای n عدد حقیقی a_1, a_2, \dots, a_n ، هر مقداری که بین کوچکترین و بزرگترین این عددها باشد، واسطه آن ها گویند (که البته، این واسطه در حالت خاص، می تواند بر یکی از این n عدد و از جمله، کوچکترین یا بزرگترین آن ها هم منطبق باشد). اگر در بین این n عدد، دست کم دو عدد مختلف وجود داشته باشد، تعداد واسطه ها بی نهایت می شود. ولی در بیسن این بی نهایت عدد واسطه، آن هایی اهمیت دارند که ضمن انجام عمل هایی روی خود n عدد به دست آیند. مشهورترین

این واسطه‌ها، واسطه‌توانی است که با این دستور معین می‌شود:

$$C_\alpha = C_\alpha(a_1, a_2, \dots, a_n) = \left(\frac{a_1^\alpha + a_2^\alpha + \dots + a_n^\alpha}{n} \right)^{\frac{1}{\alpha}}$$

که در آن، α عددی است حقیقی و مخالف صفر.

حالت‌های خاصی از واسطه‌توانی، نسبت به بقیه، به علت کاربردهای خود، شهرت بیشتری پیدا کرده‌اند و آن‌ها را واسطه‌های کلاسیک می‌نامند. مثلاً

$$C_1 = \frac{a_1 + a_2 + \dots + a_n}{n}, \quad C_{-1} = \frac{n}{\frac{1}{a_1} + \frac{1}{a_2} + \dots + \frac{1}{a_n}},$$

$$C_\gamma = \sqrt[\gamma]{\frac{a_1^\gamma + a_2^\gamma + \dots + a_n^\gamma}{n}}$$

از جمله واسطه‌های کلاسیک اند که، به ترتیب، واسطه حسابی، واسطه توافقی و واسطه مربعی نامیده می‌شوند. یکی دیگر از واسطه‌های کلاسیک مشهور، واسطه هندسی است که آن را با C_0 نشان می‌دهند و این، به دلیل آن است که

$$\sqrt[n]{a_1 a_2 \dots a_n} = \lim_{\alpha \rightarrow 0} C_\alpha$$

اثبات درستی این حد دشوار نیست، تنها به این شرط که مشتق تابع‌های $\ln u$ را بدانیم:

$$y = a^x \Rightarrow y' = a^x \cdot \ln a$$

$$y = \ln u \Rightarrow y' = \frac{u'}{u}$$

اکنون اگر از رابطه C_α لگاریتم بگیریم (درمبنای طبیعی) به دست

می‌آید:

$$\ln C_\alpha = \frac{\ln(a_1^\alpha + a_2^\alpha + \dots + a_n^\alpha) - \ln n}{\alpha}$$

وقتی α به سمت صفر میل کند، این کسر به صورت مبهم $\frac{0}{0}$ درمی آید که می توان با استفاده از قاعده هوییتال، از آن رفع ابهام کرد. داریم:

$$\lim_{\alpha \rightarrow 0} \ln C_{\alpha} = \lim_{\alpha \rightarrow 0} \frac{a_1^{\alpha} \ln a_1 + a_2^{\alpha} \ln a_2 + \dots + a_n^{\alpha} \ln a_n}{a_1^{\alpha} + a_2^{\alpha} + \dots + a_n^{\alpha}} =$$

$$= \frac{\ln a_1 + \ln a_2 + \dots + \ln a_n}{n} = \frac{1}{n} \ln(a_1 a_2 \dots a_n)$$

و بنا بر این $\lim_{\alpha \rightarrow 0} C_{\alpha} = \sqrt[n]{a_1 a_2 \dots a_n}$

مقدارهای واسطه‌ای اغلب و ضمن حل بسیاری از مسأله‌های ریاضی، فیزیک و سایر دانش‌ها، حتی در تازه‌ترین دانش‌های امروزی پدید می‌آیند. درباره واسطه حسابی، بسیار برخورد کرده‌اید: معدل نمره‌های امتحانی، میانگین درجه حرارت،... در این جا، چند موردی را نام می‌بریم که، در آن‌ها، با واسطه توافقی برخورد می‌کنیم.

(۱) اگر از محل برخورد دو قطر ذوزنقه‌ای خط راستی موازی دو قاعده آن رسم کنیم تا دوساق ذوزنقه را در نقطه‌های M و N قطع کند، آن وقت

$$|MN| = \frac{r}{\frac{1}{a} + \frac{1}{b}}$$

که در آن، a و b را طول دو قاعده ذوزنقه گرفته‌ایم.

در ضمن می‌دانید، اگر وسط دوساق را به هم وصل می‌کردیم، پاره خط راستی به دست می‌آمد که طول آن، برابر واسطه حسابی طول‌های دو قاعده می‌شد.

(۲) اگر اتومبیلی فاصله از A تا B را با سرعت ثابت v_1 و در برگشت فاصله از B تا A را با سرعت ثابت v_2 پیماید، آن وقت سرعت متوسط حرکت اتومبیل برابر است با

$$\frac{2}{\frac{1}{v_1} + \frac{1}{v_2}}$$

(۳) اگر تراکتور اول، زمینی را در مدت t_1 ساعت و تراکتور دوم، همان زمین را در مدت t_2 ساعت شخم کند، آن وقت به اندازه

$$t = \frac{2}{\frac{1}{t_1} + \frac{1}{t_2}}$$

ساعت وقت لازم است تا دو تراکتور، ضمن کار هم زمان، بتوانند زمینی را شخم بزنند.

(۴) دو وزنه به وزنهای m_1 و m_2 به وسیله نخى به هم وصل شده اند، نخ را از روی قورقه‌ای گذرانده ایم. اگر نخ کش دار نباشد، آن وقت نیروی کشش نخ به همان اندازه‌ای است که در دوسر آن وزنه‌های برابر، قرار داشته باشد، به نحوی که وزن هر وزنه برابر با واسطهٔ توافقی m_1 و m_2 باشد.

(۵) جداری ازدو تیغه با ضخامت برابر و مماس بر هم تشکیل شده است. جنس تیغه‌ها، متفاوت و ضریب قابلیت هدایت گرما در آنها، به ترتیب، برابر k_1 و k_2 است. در این صورت، ضریب قابلیت هدایت گرما در جدار برابر

$$\text{است با } \frac{2}{\frac{1}{k_1} + \frac{1}{k_2}}$$

□

اکنون به مقایسهٔ واسطه‌های مختلف می‌پردازیم.

قضیهٔ ۱. ثابت کنید، به شرط $\alpha \leq \beta$ داریم $C_\alpha \leq C_\beta$. در ضمن برابری $C_\alpha = C_\beta$ وقتی، و تنها وقتی برقرار است که داشته باشیم $a_1 = a_2 = \dots = a_n$ (a_i ها، عددهایی مثبت اند).

اثبات. قضیه را در سه حالت جداگانه ثابت می‌کنیم.

حالت اول: $\alpha < 0$ و $\beta > 0$. واسطهٔ هندسی n عدد مثبت، از واسطهٔ

حسابی آنها، بزرگتر نیست، یعنی

$$\sqrt[n]{a_1^\alpha a_2^\alpha \dots a_n^\alpha} \leq \frac{a_1^\alpha + a_2^\alpha + \dots + a_n^\alpha}{n} \quad (*)$$

دو طرف این نابرابری را به توان $\frac{1}{\alpha}$ می‌رسانیم؛ از آن جا که $\frac{1}{\alpha} < 0$ ، بنا بر این

$$\sqrt[n]{a_1 a_2 \dots a_n} \geq \left(\frac{a_1^\alpha + a_2^\alpha + \dots + a_n^\alpha}{n} \right)^{\frac{1}{\alpha}} = C_\alpha$$

اکنون نابرابری (*) را برای β می‌نویسیم:

$$\sqrt[n]{a_1^\beta a_2^\beta \dots a_n^\beta} \leq \frac{a_1^\beta + a_2^\beta + \dots + a_n^\beta}{n}$$

β عددی است مثبت، بنا بر این، اگر دو طرف این نابرابری را به توان $\frac{1}{\beta}$ برسانیم، به دست می‌آید:

$$\sqrt[n]{a_1 a_2 \dots a_n} \leq \left(\frac{a_1^\beta + a_2^\beta + \dots + a_n^\beta}{n} \right)^{\frac{1}{\beta}} = C_\beta$$

به این ترتیب، برای $\alpha < 0$ و $\beta > 0$ ، C_α از واسطه هندسی کوچکتر و C_β از واسطه هندسی بزرگتر است، یعنی $C_\alpha \leq C_\beta$.

حالت دوم: $0 < \alpha < \beta$. ثابت می‌کنیم $\frac{C_\beta}{C_\alpha} \geq 1$ داریم:

$$\frac{C_\beta}{C_\alpha} = \left[\frac{\left(\frac{a_1}{C_\alpha}\right)^\beta + \left(\frac{a_2}{C_\alpha}\right)^\beta + \dots + \left(\frac{a_n}{C_\alpha}\right)^\beta}{n} \right]^{\frac{1}{\beta}}$$

که اگر فرض کنیم: $t_1 = \left(\frac{a_1}{C_\alpha}\right)^\alpha$ ، $t_2 = \left(\frac{a_2}{C_\alpha}\right)^\alpha$ ، $t_n = \left(\frac{a_n}{C_\alpha}\right)^\alpha$ -

دست می‌آید:

$$\frac{C_\beta}{C_\alpha} = \left(\frac{t_1^{\frac{\beta}{\alpha}} + t_2^{\frac{\beta}{\alpha}} + \dots + t_n^{\frac{\beta}{\alpha}}}{n} \right)^{\frac{1}{\beta}} \quad (I)$$

از طرف دیگر داریم:

$$\left(\frac{t_1 + t_2 + \dots + t_n}{n}\right)^{\frac{1}{\alpha}} = \left[\frac{\left(\frac{a_1}{C_\alpha}\right)^\alpha + \left(\frac{a_2}{C_\alpha}\right)^\alpha + \dots + \left(\frac{a_n}{C_\alpha}\right)^\alpha}{n}\right]^{\frac{1}{\alpha}} =$$

$$= \frac{1}{C_\alpha} \left(\frac{a_1^\alpha + a_2^\alpha + \dots + a_n^\alpha}{n}\right)^{\frac{1}{\alpha}} = \frac{1}{C_\alpha} \cdot C_\alpha = 1$$

بنابراین $t_1 + t_2 + \dots + t_n = n$ اگر فرض کنیم:

$$t_1 = 1 + x_1, t_2 = 1 + x_2, \dots, t_n = 1 + x_n$$

با توجه به برابری $t_1 + t_2 + \dots + t_n = n$ نتیجه می شود:

$$x_1 + x_2 + \dots + x_n = 0 \quad \text{چون } \frac{\beta}{\alpha} > 1 \text{ و } x_i > -1 \text{، بنابراین (یادداشت}$$

را در پایان اثبات ببینید):

$$\left\{ \begin{array}{l} t_1^{\frac{\beta}{\alpha}} = (1 + x_1)^{\frac{\beta}{\alpha}} \geq 1 + \frac{\beta}{\alpha} x_1 \\ t_2^{\frac{\beta}{\alpha}} = (1 + x_2)^{\frac{\beta}{\alpha}} \geq 1 + \frac{\beta}{\alpha} x_2 \\ \dots \dots \dots \\ t_n^{\frac{\beta}{\alpha}} = (1 + x_n)^{\frac{\beta}{\alpha}} \geq 1 + \frac{\beta}{\alpha} x_n \end{array} \right. \quad (*)$$

که از مجموع آن‌ها به دست می آید:

$$t_1^{\frac{\beta}{\alpha}} + t_2^{\frac{\beta}{\alpha}} + \dots + t_n^{\frac{\beta}{\alpha}} \geq n + \frac{\beta}{\alpha} (x_1 + x_2 + \dots + x_n) = n \quad (II)$$

اکنون از (I) و (II) نتیجه می شود:

$$\frac{C_\beta}{C_\alpha} \geq \left(\frac{n}{n}\right)^{\frac{1}{\beta}} = 1 \Rightarrow C_\beta \geq C_\alpha$$

حالت سوم: $0 < \beta < \alpha$. استدلال کاملاً شبیه حالت دوم است، تنها

در این جا به دلیل $0 < \frac{\beta}{\alpha} < 1$ ، نابرابری‌های (*) در جهت عکس برقرارند

و، بنابراین، به دست می‌آید:

$$t_1^{\frac{\beta}{\alpha}} + t_2^{\frac{\beta}{\alpha}} + \dots + t_n^{\frac{\beta}{\alpha}} \leq n$$

و از آن جا، با توجه به منفی بودن β :

$$\frac{C_\beta}{C_\alpha} = \left(\frac{t_1^{\frac{\beta}{\alpha}} + t_2^{\frac{\beta}{\alpha}} + \dots + t_n^{\frac{\beta}{\alpha}}}{n} \right)^{\frac{1}{\beta}} \geq \left(\frac{n}{n} \right)^{\frac{1}{\beta}} = 1 \Rightarrow C_\beta \geq C_\alpha$$

از قضیه‌ای که ثابت کردیم، نتیجه می‌شود:

$$C_{-1} \leq C_0 \leq C_1 \leq C_2$$

مثلاً، برای دو عدد مثبت a و b و با شرط $a \leq b$ ، همیشه داریم:

$$a \leq \frac{2}{\frac{1}{a} + \frac{1}{b}} \leq \sqrt{ab} \leq \frac{a+b}{2} \leq \sqrt{\frac{a^2+b^2}{2}} \leq b$$

که در حالت $a = b$ ، نابرابری‌ها، به برابری تبدیل می‌شوند.

یادداشت. ضمن اثبات قضیه، از نابرابری‌های (*) و نابرابری‌های مشابه

آن استفاده کردیم که نیاز به اثبات دارند. مسألهٔ زیر، این نیاز را برطرف می‌کند.

مسأله ۱۶. با فرض $x \geq -1$ ثابت کنید، به شرط $0 < \alpha < 1$ داریم:

$$(1+x)^\alpha \leq 1+\alpha x$$

و به شرط $\alpha < 0$ یا $\alpha > 1$ داریم:

$$(1+x)^\alpha \geq 1+\alpha x$$

علامت برابری، در هر دو حالت، برای $x = 0$ است.

حل. ابتدا $\alpha = \frac{m}{n}$ و m و n را عددهای طبیعی و $1 \leq m < n$

می‌گیریم. با توجه به شرط $1+x \geq 0$ داریم:

$$\begin{aligned} (1+x)^\alpha &= (1+x)^{\frac{m}{n}} = \sqrt[n]{(1+x)^m} = \\ &= \sqrt[n]{\underbrace{(1+x)(1+x) \dots (1+x)}_{m \text{ مرتبه}} \cdot \underbrace{1 \cdot 1 \cdot \dots \cdot 1}_{n-m \text{ مرتبه}}} \leq \\ &\leq \frac{(1+x) + (1+x) + \dots + (1+x) + 1 + 1 + 1 + \dots + 1}{n} \\ &= \frac{m(1+x) + n - m}{n} = \frac{n + mx}{n} = 1 + \frac{m}{n}x = 1 + \alpha x \end{aligned}$$

و علامت برابری، تنها وقتی پیش می‌آید که داشته باشیم: $1+x=1$ یا $x=0$.

به حالتی می‌پردازیم که α عددی گنگ باشد و $0 < \alpha < 1$. دنبالهٔ عددهای گویای

$$r_1, r_2, \dots, r_n, \dots$$

را با شرط $0 < r_n < 1$ ، طوری در نظر می‌گیریم که حدی برابر α داشته باشد. چون r_n عددی گویاست، بنابراین

$$(1+x)^{r_n} \leq 1+r_n x, \quad (x \geq -1, n=1, 2, 3, \dots)$$

در نتیجه

$$(1+x)^\alpha = \lim_{r_n \rightarrow \alpha} (1+x)^{r_n} \leq \lim_{r_n \rightarrow \alpha} (1+r_n x) = 1 + \alpha x$$

در این جا، برای کامل بودن اثبات، هنوز باید ثابت کنیم، اگر α عددی گنگ، $0 < \alpha < 1$ و $x \neq 0$ ، آن‌گاه $(1+x)^\alpha < 1 + \alpha x$ که در این

صورت علامت برابری تنها برای $x = 0$ باقی می‌ماند. عدد گویای r را با شرط $0 < r < 1$ در نظر می‌گیریم. داریم:

$$(1+x)^\alpha = [(1+x)^{\frac{\alpha}{r}}]^r$$

چون $0 < \frac{\alpha}{r} < 1$ ، به ترتیب داریم:

$$(1+x)^\alpha = [(1+x)^{\frac{\alpha}{r}}]^r \leq \left[\left(1 + \frac{\alpha}{r}x \right) \right]^r <$$

$$< 1 + r \cdot \frac{\alpha}{r}x = 1 + \alpha x$$

اکنون باید بخش دوم مسأله را حل کنیم، یعنی فرض می‌کنیم $\alpha > 1$ یا $\alpha < 0$.

اگر $0 < \alpha < 1$ ، آن وقت نابرابری $(1+x)^\alpha \geq 1 + \alpha x$ ، برای هر دو حالت $\alpha < 0$ و $\alpha > 1$ روشن است. بنابراین باید به حالت $1 + \alpha x \geq 0$ یا $\alpha x \geq -1$ بپردازیم.

اگر $\alpha > 1$ ، آن وقت با توجه به بخش قبلی مسأله داریم:

$$(1+\alpha x)^{\frac{1}{\alpha}} \leq 1 + \frac{1}{\alpha} \cdot \alpha x = 1 + x$$

که اگر دو طرف آن را به توان α برسانیم، به دست می‌آید:

$$(1+x)^\alpha \geq 1 + \alpha x$$

اگر $\alpha < 0$ آن وقت عدد طبیعی n را طوری انتخاب می‌کنیم که داشته

باشیم $1 < -\frac{\alpha}{n}$. در این صورت، با توجه به بخش اول مسأله داریم:

$$(1+x)^{-\frac{\alpha}{n}} \leq 1 - \frac{\alpha}{n}x$$

دو طرف این نابرابری را معکوس می‌کنیم، با توجه به نابرابری روشن

$\frac{\alpha^2}{n^2} \geq 1 - \frac{\alpha^2}{n^2}$ ، به دست می آید:

$$(1+x)^{\frac{\alpha}{n}} \geq \frac{1}{1-\frac{\alpha}{n}x} \geq 1 + \frac{\alpha}{n}x$$

که اگر دو طرف آن را به توان n برسانیم، به نابرابری مطلوب می رسیم:

$$(1+x)^{\alpha} \geq \left(1 + \frac{\alpha}{n}x\right)^n \geq 1 + n \cdot \frac{\alpha}{n}x = 1 + \alpha x$$

و در همه این موردها، علامت برابری تنها به ازای $x=0$ برقرار است.

□

کلاس دیگری از مقدارهای واسطه ای را مورد بررسی قرار می دهیم که، به نوبه خود، کمتر از کلاس C_{α} جالب نیست و، به ویژه، در رابطه با آن، می توان به نتیجه های جالبی رسید. این کلاس، با این دستور داده می شود:

$$d_{\alpha} = d_{\alpha}(a_1, a_2, \dots, a_n) = \frac{a_1^{\alpha} + a_2^{\alpha} + \dots + a_n^{\alpha}}{a_1^{\alpha-1} + a_2^{\alpha-1} + \dots + a_n^{\alpha-1}}$$

که در آن، a_1, a_2, \dots, a_n عددهایی مثبت اند و $\alpha \in \mathbf{R}$. در ضمن، توجه می کنیم که

$$d_1 = \frac{a_1 + a_2 + \dots + a_n}{n} = C_1,$$

$$d_0 = \frac{n}{\frac{1}{a_1} + \frac{1}{a_2} + \dots + \frac{1}{a_n}} = C_{-1}$$

ابتدا باید ثابت کنیم که d_{α} ، در واقع یک مقدار واسطه است؛ یعنی اگر a_1 کوچکترین و a_n بزرگترین عدد از بین عددهای a_1, a_2, \dots, a_n باشند، داریم:

$$a_1 \leq \frac{a_1^{\alpha} + a_2^{\alpha} + \dots + a_n^{\alpha}}{a_1^{\alpha-1} + a_2^{\alpha-1} + \dots + a_n^{\alpha-1}} \leq a_n$$

که به دلیل سادگی، اثبات آن را به عهده خواننده می گذاریم.

مثل C_α ، کلاس واسطه‌های d_α هم، دارای ویژگی یکنواستی است، یعنی قضیه ۴. با شرط $\alpha < \beta$ ، نابرابری $d_\alpha \leq d_\beta$ برقرار است؛ در ضمن علامت برابری وقتی، و تنها وقتی برقرار است که داشته باشیم:

$$a_1 = a_2 = \dots = a_n$$

اثبات. چون $\beta - \alpha > 0$ ، بنابراین به شرط $a_i \neq a_j$ ، تفاضل‌های $a_i - a_j$ و $a_i^{\beta-\alpha} - a_j^{\beta-\alpha}$ ، علامت مختلفی دارند و در نتیجه

$$(a_i \cdot a_j)^{\alpha-1} (a_i - a_j) (a_j^{\beta-\alpha} - a_i^{\beta-\alpha}) \leq 0$$

که از آن به دست می‌آید: $a_i^\alpha a_j^{\beta-1} + a_j^\alpha a_i^{\beta-1} \leq a_i^\beta a_j^{\alpha-1} + a_j^\beta a_i^{\alpha-1}$

$$\frac{1}{\gamma} \sum_{i,j=1}^n (a_i^\alpha a_j^{\beta-1} + a_j^\alpha a_i^{\beta-1}) \leq \frac{1}{\gamma} \sum_{i,j=1}^n (a_i^\beta a_j^{\alpha-1} + a_j^\beta a_i^{\alpha-1})$$

که در واقع، به معنای درستی نابرابری زیر است:

$$(a_1^\alpha + a_2^\alpha + \dots + a_n^\alpha) (a_1^{\beta-1} + a_2^{\beta-1} + \dots + a_n^{\beta-1}) \leq$$

$$\leq (a_1^\beta + a_2^\beta + \dots + a_n^\beta) (a_1^{\alpha-1} + a_2^{\alpha-1} + \dots + a_n^{\alpha-1})$$

از آن جا نتیجه می‌شود: $d_\alpha \leq d_\beta$ و علامت برابری برای

$$a_1 = a_2 = \dots = a_n$$

قضیه ۳. اگر $\alpha \leq 0$ ، آن وقت $d_\alpha \leq C_{\alpha-1}$ ؛ اگر $0 < \alpha < 1$ ، آن

وقت $C_{\alpha-1} \leq d_\alpha \leq C_\alpha$ ؛ اگر $\alpha > 1$ ، آن وقت $C_\alpha \leq d_\alpha$. علامت‌های

برابری، وقتی و تنها وقتی پیش می‌آید که یا $\alpha = 0$ ، یا $\alpha = 1$ و یا

$$a_1 = a_2 = \dots = a_n$$

اثبات. این دوبرابری واضح‌اند:

$$\frac{(C_\alpha)^\alpha}{(C_{\alpha-1})^{\alpha-1}} = d_\alpha \quad \text{و} \quad \left(\frac{C_\alpha}{C_{\alpha-1}}\right)^{\alpha-1} \cdot C_\alpha = d_\alpha$$

بنابراین قضیه ۱، $0 < C_{\alpha-1} \leq C_\alpha$ ، یا $\frac{C_\alpha}{C_{\alpha-1}} \geq 1$. از آن جا

اگر $\alpha < 1$ ، آن وقت $0 < \left(\frac{C_\alpha}{C_{\alpha-1}}\right)^{\alpha-1} \leq 1$ و بنابراین $C_\alpha \geq d_\alpha$ ؛

اگر $\alpha > 1$ ، آن وقت $\left(\frac{C_\alpha}{C_{\alpha-1}}\right)^{\alpha-1} \geq 1$ و بنا بر این $C_\alpha \leq d_\alpha$

علاوه بر این، اگر $\alpha < 0$ آن وقت $\left(\frac{C_\alpha}{C_{\alpha-1}}\right)^\alpha \geq 1$ و از آنجا

$$\frac{(C_\alpha)^\alpha}{(C_{\alpha-1})^{\alpha-1}} \leq C_{\alpha-1} \implies d_\alpha \leq C_{\alpha-1};$$

و اگر $\alpha > 0$ ، با استدلال مشابهی به دست می آید: $d_\alpha \leq C_{\alpha-1}$. در همه حالات، علامت برابری، تنها برای موردهایی پیش می آید که در صورت قضیه آمده است.

از همین قضیه می توان نتیجه گرفت که عدد ε ، با شرط $0 \leq \varepsilon \leq 1$ ، وجود دارد، به نحوی که داشته باشیم $d_\varepsilon = C_0$. مثلاً، برای حالت $n=2$ داریم: $d_{\frac{1}{2}} = C_0$.

اکنون، با توجه به قضیه‌هایی که ثابت کردیم، برای حالت $n=2$ ، این رشته نابرابری‌ها را خواهیم داشت:

$$d_{-1} \leq C_{-2} \leq C_{-1} = d_0 \leq d_{\frac{1}{2}} = C_0 \leq d_1 = C_1 \leq C_2 \leq d_2 \leq d_3 \dots$$

یعنی، برای عددهای مثبت a و b و با شرط $a \leq b$ داریم:

$$a \leq \frac{ab(a+b)}{a^2+b^2} \leq \frac{ab}{\sqrt{\frac{a^2+b^2}{2}}} \leq \frac{2}{\frac{1}{a} + \frac{1}{b}} \leq \sqrt{ab} \leq$$

$$\leq \frac{a+b}{2} \leq \sqrt{\frac{a^2+b^2}{2}} \leq \frac{a^2+b^2}{a+b} \leq \frac{a^3+b^3}{a^2+b^2} \leq b \quad (7)$$

قضیه ۴. ثابت کنید، برای هر α و هر دو عدد مثبت a و b داریم:

$$d_{\alpha+1} + d_{1-\alpha} = a + b, \quad d_{\alpha+1} \cdot d_{-\alpha} = ab, \quad C_\alpha \cdot C_{-\alpha} = ab$$

اثبات ساده است و خودتان آن را به دست بیاورید.

□

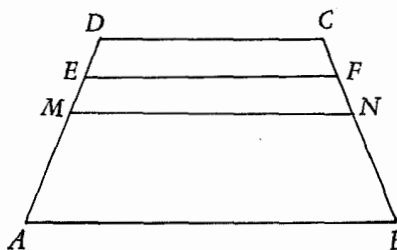
به جز C_α و d_α می توان دستوره های دیگری هم، برای محاسبه مقدار واسطه ها پیدا کرد. یکی از این دستورها را می آوریم. فرض کنید:

$$f_{\alpha, \beta} = \frac{(a_1^\alpha + a_2^\alpha + \dots + a_n^\alpha)^{\frac{1}{\alpha - \beta}}}{(a_1^\beta + a_2^\beta + \dots + a_n^\beta)}$$

که در آن $\alpha \neq \beta$ و a_1, a_2, \dots, a_n عددهایی مثبت اند. به سادگی می توان ثابت کرد (وازش خواننده می خواهیم، این اثبات را پیدا کند) که: $f_{\alpha, \beta}$ ، کلاسی از واسطه ها است، یعنی اگر a_1 کوچکترین و a_n بزرگترین عدد از بین عددهای a_1, a_2, \dots, a_n باشند، آن وقت $a_1 \leq f_{\alpha, \beta} \leq a_n$ (۲) کلاس های C_α و d_α حالت های خاصی از کلاس $f_{\alpha, \beta}$ هستند؛ (۳) $f_{\alpha, \beta}$ نسبت به α (با ثابت بودن β) و نسبت به β (با ثابت بودن α)، تابعی یکنوا (مونوتون) است.

۴.۴ تعبیر هندسی

نا برابری های (۷) را می توان تعبیر هندسی کرد. نمونه ای از تعبیر هندسی نا برابری $\frac{a+b}{2} \geq \sqrt{ab}$ را دیدیم، و در این جا به بقیه نا برابری های (۷) می پردازیم.



شکل ۶

ابتدا این مسأله ساده هندسی را حل کنید:
مسأله. پاره خط های راست MN و EF را در درون ذوزنقه $ABCD$ ، محدود به دوساق و موازی با قاعده های CD و AB (سم) کرده ایم.

ثابت کنید: (۱) شرط لازم و کافی، برای متشابه بودن ذوزنقه $ABFE$ و $MNCD$ ، همچنین، تشابه دو ذوزنقه $ABNM$ و $EFCD$ این است که

$$|EF| \cdot |MN| = |AB| \cdot |CD|$$

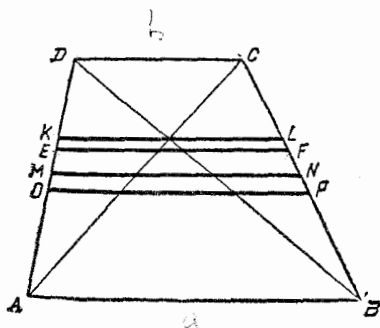
(۲) شرط لازم و کافی برای برابری فاصله بین $[AB]$ و $[EF]$ با فاصله بین $[MN]$ و $[CD]$ این است که داشته باشیم:

$$|EF| + |MN| = |AB| + |CD|$$

اکنون به تعبیر هندسی نابرابری‌های (۷) می‌پردازیم. برای نابرابری‌های

$$\frac{2}{\frac{1}{a} + \frac{1}{b}} \leq \sqrt{ab} \leq \frac{a+b}{2} \leq \sqrt{\frac{a^2+b^2}{2}} \quad (۸)$$

اغلب از روش زیر استفاده می‌کنند. دوزنقه $ABCD$ را با قاعده‌های $|CD| = b$ و $|AB| = a$ در نظر می‌گیریم (شکل ۷). اگر پاره‌خط راست EF را موازی با قاعده‌های دوزنقه، طوری رسم کنیم که دو دوزنقه متشابه به دست آید، آن وقت



شکل ۷

$$\begin{aligned} |EF| \cdot |EF| = ab &\Rightarrow \\ \Rightarrow |EF| = \sqrt{ab} \end{aligned}$$

سپس، اگر M و N ، به ترتیب، وسط ساق‌های AD و BC باشند، آن وقت $|MN| = \frac{a+b}{2}$. اگر پاره‌خط راست KL را موازی دو قاعده از محل

برخورد قطر‌ها بگذارانیم، داریم: $|KL| = \frac{2}{\frac{1}{a} + \frac{1}{b}}$ (چرا؟). چون

$|MN| \cdot |KL| = ab$ ، بنابراین، دو زوج دوزنقه متشابه به دست می‌آید و، در نتیجه، $[EF]$ بین $[MN]$ و $[KL]$ قرار می‌گیرد. سرانجام، پاره‌خط راست OP را موازی دو قاعده طوری می‌رسانیم که داشته باشیم

و این برابری‌ها را ثابت می‌کنیم:

$$|KR| = d_{-1}, |ER| = C_{-2}, |EL| = d_0, |EF| = d_{\frac{1}{2}}$$

$$|ON| = d_1, |MN| = C_2, |MS| = d_2, |PT| = d_3,$$

$$\widehat{ERL} = \widehat{MNS} = 90^\circ$$

برای اثبات، (RG) و (BQ) را موازی (AD) رسم می‌کنیم. برابری

$|ON| = d_1$ ، از خود ساختمان آن نتیجه می‌شود. به جز آن

$$|BN| = |NC| = \frac{1}{2}|BC| = \frac{1}{2}\sqrt{|BQ|^2 + |QC|^2} = \sqrt{\frac{a^2 + b^2}{2}},$$

$$|AB|^2 = |BN| \cdot |BR|$$

$$|BR| = \frac{a^2}{\sqrt{\frac{a^2 + b^2}{2}}} \text{ و بنا بر این } a^2 = \sqrt{\frac{a^2 + b^2}{2}} \cdot |BR| \text{ از آنجا}$$

با توجه به تشابه مثلث‌های BCQ و BRV

$$\frac{|KR| - |KV|}{|CQ|} = \frac{|BR|}{|BC|} \Rightarrow \frac{|KR| - a}{b - a} = \frac{\frac{a^2}{\sqrt{\frac{a^2 + b^2}{2}}}}{\frac{1}{2}\sqrt{\frac{a^2 + b^2}{2}}}$$

$$|KR| = \frac{ab(a+b)}{a^2 + b^2} = d_{-1} \text{ در نتیجه}$$

به همین ترتیب، از تشابه دو مثلث BCQ و BLH به دست می‌آید:

$$\frac{|EL| - |EH|}{|BH|} = \frac{|CQ|}{|RQ|} \Rightarrow \frac{|EL| - a}{a} = \frac{b - a}{a + b}$$

$$|EL| = \frac{2ab}{a+b} = \frac{2}{\frac{1}{a} + \frac{1}{b}} = d_0 \text{ از آنجا}$$

سپس، با توجه به تشابه مثلث‌های BCQ و RLG نتیجه می‌شود:

$$\frac{|LG|}{|RG|} = \frac{|CQ|}{|BQ|} \Rightarrow \frac{d_0 - d_{-1}}{|RG|} = \frac{b-a}{a+b}$$

از آن جا $|RG| = \frac{ab(b-a)}{a^2+b^2}$ چون $|RG| = |KE|$ ، بنابراین

$$|ER| = \sqrt{|KR|^2 + |KE|^2} = \frac{ab}{\sqrt{\frac{a^2+b^2}{2}}} = C_{-2}$$

از مثلث ONM به دست می آید:

$$\begin{aligned} |MN| &= \sqrt{|ON|^2 + |OM|^2} = \sqrt{\left(\frac{a+b}{2}\right)^2 + \left(\frac{b-a}{2}\right)^2} = \\ &= \sqrt{\frac{a^2+b^2}{2}} = C_2 \end{aligned}$$

از تعبیر هندسی، به یاد می آوریم که

$$|EF| = \sqrt{|AE| \cdot |ED|} = \sqrt{ab} = d_{\frac{1}{2}}$$

با توجه به قضیه ۴ و مسأله هندسی آغاز § ۴، نتیجه می شود:

$$|MS| = d_{\frac{1}{2}} \text{ و } |PT| = d_{\frac{1}{2}}$$

برابری مربوط به زاویه‌ها را ثابت می کنیم. چون دو مثلث ABM و DMC برابرند (در دو ضلع مجاور به زاویه قائمه)، پس $|BM| = |MC|$ ، یعنی دو مثلث CMN و BMN (در سه ضلع) برابرند و بنابراین $\widehat{MNB} = \widehat{MNC} = 90^\circ$. سپس، چون $\frac{|KR|}{|KE|} = \frac{|RE|}{|EF|}$ (که با محاسبه

مستقیم تایید می شود) و $\widehat{KRE} = \widehat{REF}$ ، بنابراین دو مثلث KRE و REL متشابه‌اند و در این صورت

$$\widehat{LRE} = \widehat{RKE} = 90^\circ$$

به این ترتیب، با توجه به شکل ۸، همه مقادیرهای زنجیره نایبرای‌های (۷) و درستی آنها، نشان داده شد.

توجه به این نکته هم جالب است که، روی شکل ۸، چهارضلعی $ABRE$ با چهارضلعی‌های $ABNM$ و $MNCD$ (که با هم برابرند) متشابه است (چرا؟). علاوه بر این، در این شکل می‌توان چند زوج دوزنقه‌های متشابه هم پیدا کرد (پیدا کنید!).

نمرین

۶۱. از بین مکعب مستطیل‌هایی که، مجموع سه یال دوجه دو عمود برهم در آنها، مقداری ثابت باشد، کدامیک حداکثر حجم را دارد؟
 ۶۲. a و b عددهایی مثبت‌اند و $a \neq b$. ثابت کنید:

$$\sqrt[n+1]{ab^n} < \frac{a+nb}{n+1}$$

۶۳. برای عددهای مثبت a_1, a_2, \dots, a_n ثابت کنید:

$$a_1 a_2 \dots a_n \leq \frac{a_1^n + a_2^n + \dots + a_n^n}{n}$$

۶۴. برای عددهای مثبت x و y می‌دانیم $x^2 + y^2 = a$. حداکثر هر یک از مقادیرهای $x+y$ و $x^2 + y^2$ چقدر است؟
 ۶۵. برای عددهای مثبت x و y و z می‌دانیم: $x+y+z=6$. حداقل مقدار $x^2 + y^2 + z^2$ را پیدا کنید.

۶۶. a_1, a_2, \dots, a_n عددهایی مثبت‌اند. ثابت کنید به شرط $\alpha \geq 1$

$$(a_1 + a_2 + \dots + a_n)^\alpha \leq n^{\alpha-1} (a_1^\alpha + a_2^\alpha + \dots + a_n^\alpha)$$

و به شرط $0 \leq \alpha \leq 1$

$$(a_1 + a_2 + \dots + a_n)^\alpha \geq n^{\alpha-1} (a_1^\alpha + a_2^\alpha + \dots + a_n^\alpha)$$

۶۷. x و y و z عددهایی مثبت‌اند و می‌دانیم $x^2 + y^2 + z^2 = 81$.

ثابت کنید:

$$x + y + z \leq 9$$

۶۸. به شرط $0 < \alpha < 1$ ثابت کنید:

$$\frac{(n+1)^{\alpha+1} - n^{\alpha+1}}{\alpha+1} < n^{\alpha} < \frac{n^{\alpha+1} - (n-1)^{\alpha+1}}{\alpha+1}$$

۶۹. حداقل مقدار تابع $x^{\alpha} - ax$ را با شرط $a > 0$ و $x \geq 0$ و $\alpha > 1$ پیدا کنید.

۷۰. برای $x \in \mathbb{R}$ ثابت کنید: $\sin x \sin 2x \leq \frac{4}{9} \sqrt{3}$.

۷۱. حداقل مقدار تابع $x^{\alpha} + ax$ را با شرط $a > 0$ و $x > 0$ و $\alpha < 0$ پیدا کنید.

۷۲. حداکثر تابع $x^{\alpha} - ax$ را با شرط $a > 0$ و $x \geq 0$ و $0 < \alpha < 1$ پیدا کنید.

۷۳. کدام بزرگترند: $\sqrt[n]{n}$ یا $1 + \frac{1}{\sqrt{n}}$ ؟ (n عددی طبیعی است).

۷۴. به شرط طبیعی بودن n ، کدام بزرگترند: $\frac{1}{\sqrt{n}}$ یا $\sqrt{n+1} - \sqrt{n-1}$ ؟

$$\sqrt{n+1} - \sqrt{n-1}$$

۷۵. زاویه‌های یک مثلث را α ، β و γ می‌نامیم. ثابت کنید، به شرط

حاده بودن همه زاویه‌ها، داریم:

$$1) \quad \operatorname{tg} \alpha \operatorname{tg} \beta + \operatorname{tg} \beta \operatorname{tg} \gamma + \operatorname{tg} \gamma \operatorname{tg} \alpha \geq 9$$

$$2) \quad \operatorname{cotg} \alpha \operatorname{cotg} \beta \operatorname{cotg} \gamma \leq \frac{\sqrt{3}}{9}$$

۷۶. x و y و z عددهایی مثبت اند، ثابت کنید:

$$\frac{(x+y)(y+z)(z+x)}{xyz} \geq 8$$

۷۷. a و b و c را طول ضلع‌ها، S را مساحت و R و r را به ترتیب

طول شعاع دایره‌های محیطی و محاطی مثلث می‌گیریم. ثابت کنید:

$$a^3 + b^3 + c^3 \geq 3S(2R - r)$$

۷۸. a_1, a_2, \dots, a_n عددهایی طبیعی اند، ثابت کنید:

$$|a_1 + a_2 + \dots + a_n| \leq |a_1| + |a_2| + \dots + |a_n|$$

۷۹. A, B, C را سه زاویه حاده يك مثلث می گیریم. ثابت کنید:

$$\operatorname{tg}^n A + \operatorname{tg}^n B + \operatorname{tg}^n C > 3 + \frac{3^n}{2} \quad (n \in \mathbf{N})$$

۸۰. می دانیم $0 \leq \alpha \leq \frac{\pi}{3}$. ثابت کنید:

$$\frac{1}{\sin\left(\frac{\pi}{3} + \alpha\right)} + \frac{1}{\sin\left(\frac{\pi}{3} - \alpha\right)} \geq \frac{4\sqrt{3}}{3}$$

۸۱. a, b و c را طول ضلع ها و S را مساحت مثلث می گیریم. ثابت

کنید:

$$ab + bc + ca \geq 2S\sqrt{3}$$

۸۲. آیا عددهای a, b و c وجود دارند، به نحوی که داشته باشیم:

$$\sqrt{a-1} + \sqrt{b-1} + \sqrt{c-1} > \sqrt{c(ab+1)}$$

۸۳. ضریب های a, b و c را در چند جمله ای

$$x^5 - 10x^4 + ax^3 + bx^2 + cx - 32$$

طوری پیدا کنید که همه ریشه های آن حقیقی و مثبت باشند.

۸۴. ثابت کنید در هر مثلث ABC ، داریم:

$$\sqrt{\frac{R}{2S^2}} \leq \frac{1}{3} \left(\frac{1}{h_a} + \frac{1}{h_b} + \frac{1}{h_c} \right)$$

که در آن، S مساحت، R شعاع دایره محیطی و h_a, h_b و h_c ارتفاع های مثلث اند.

۰۸۵ عدد سه رقمی \overline{xyz} را پیدا کنید به شرطی که

$$\overline{xyz} = xyz(x+y+z)$$

۰۸۶ n عددی طبیعی است. ثابت کنید:

$$\sqrt[n]{n + \sqrt[n]{n}} + \sqrt[n]{n - \sqrt[n]{n}} \leq 2\sqrt[n]{n}$$

۰۸۷ ثابت کنید:

$$\frac{1}{2^{k-1}} \leq (\sin x)^{2k} + (\cos x)^{2k} \leq 1 \quad (k \in \mathbf{N})$$

۰۸۸ محلول يك نمك را در دو ظرف مختلف ریخته ایم: در ظرف اول ۵ کیلوگرم و در ظرف دوم ۲۰ کیلوگرم. ضمن بخار شدن آب، درصد نمك در ظرف اول p برابر و در ظرف دوم q برابر شده است و می دانیم $pq = 9$. حداکثر چه مقدار آب ممکن است از این دو ظرف بخار شده باشد؟

۰۸۹ $C_\alpha(a, b)$ را واسطه توانی بین دو عدد مثبت a و b می گیریم. ثابت کنید:

$$1) C_\alpha(a, b) \cdot C_{-\alpha}(a, b) = C_0^2(a, b);$$

$$2) C_\alpha(a, b) : C_\alpha\left(\frac{1}{a}, \frac{1}{b}\right) = C_0^2(a, b)$$

۱۰۹۰) به شرط $x \geq 1$ و $n \in \mathbf{N}$ ثابت کنید:

$$x^n \geq nx - n + 1;$$

۲) به شرط $0 < a_1 \leq a_2 \leq \dots \leq a_n$ برای $1 < k \leq n$ داریم:

$$\text{الف) } A_{k-1} \leq A_k; \quad \text{ب) } A_n \leq a_n; \quad \text{ج) } a_k \leq \frac{A_k^k}{A_{k-1}^{k-1}}$$

که در آن‌ها $n \in \mathbf{N}$ ، $k \in \mathbf{N}$ و A_n به معنای واسطه حسابی بین n عدد از a_1 تا a_n است.

۳) اگر G_n را واسطه هندسی بین n عدد مثبت $a_1 \leq a_2 \leq \dots \leq a_n$

بگیریم، ثابت کنید، برای $1 < k \leq n$ داریم:

الف) $G_{k-1} \leq G_k$; ب) $G_n \leq a_n$; ج) $kG_k - (k-1)G_{k-1} \leq a_k$

۴) اگر a_1, a_2, \dots, a_n عددهایی غیر منفی و r_1, r_2, \dots, r_n عددهایی

گویا و بزرگتر از واحد و $\frac{1}{r_1} + \frac{1}{r_2} + \dots + \frac{1}{r_n} = 1$ ثابت کنید:

$$\frac{a_1^{r_1}}{r_1} + \frac{a_2^{r_2}}{r_2} + \dots + \frac{a_n^{r_n}}{r_n} \geq a_1 a_2 \dots a_n$$

فصل سوم

نابرابری‌های دیگر

۱. نابرابری دیگری از کوشی. در فصل دوم، § ۱، مسأله ۷ ثابت کردیم:

$$(a_1^2 + a_2^2)(b_1^2 + b_2^2) \geq (a_1 b_1 + a_2 b_2)^2$$

این نابرابری را می‌توان تعمیم داد و برای n عدد حقیقی a_1, a_2, \dots, a_n و n عدد حقیقی b_1, b_2, \dots, b_n نوشت:

$$(a_1^2 + a_2^2 + \dots + a_n^2)(b_1^2 + b_2^2 + \dots + b_n^2) \geq (a_1 b_1 + a_2 b_2 + \dots + a_n b_n)^2$$

این نابرابری را هم، برای نخستین بار، کوشی ثابت کرد و، به همین مناسبت، نام او را بر خود دارد. نابرابری کوشی را می‌توان به این ترتیب تنظیم کرد:

قضیه ۱۰۱. اگر a_i و b_i عددهایی حقیقی باشند ($i = 1, 2, \dots, n$)، ثابت

کنید:

$$\sum_{i=1}^n a_i^2 \times \sum_{i=1}^n b_i^2 \geq \left(\sum_{i=1}^n a_i b_i \right)^2 \quad (1)$$

در ضمن، علامت برابری، تنها وقتی پیش می‌آید که داشته باشیم:

$$\frac{a_1}{b_1} = \frac{a_2}{b_2} = \dots = \frac{a_n}{b_n}$$

یعنی وقتی که a_i ها با b_i ها متناسب باشند.

اثبات. درمسأله ۷ فصل اول دیدیم که نابرابری

$$(a_1^2 + a_2^2)(b_1^2 + b_2^2) - (a_1 b_1 + a_2 b_2)^2 \geq 0$$

به نابرابری روشن زیر منجر می شود: $(a_1 b_2 - a_2 b_1)^2 \geq 0$

و علامت برابری، برای $a_1 b_2 = a_2 b_1$ یا $\frac{a_1}{b_1} = \frac{a_2}{b_2}$ پیش می آید.

اگر $n = 3$ بگیریم، باز هم به سادگی به دست می آید:

$$\begin{aligned} & (a_1^2 + a_2^2 + a_3^2)(b_1^2 + b_2^2 + b_3^2) - (a_1 b_1 + a_2 b_2 + a_3 b_3)^2 = \\ & = (a_1 b_2 - a_2 b_1)^2 + (a_1 b_3 - a_3 b_1)^2 + (a_2 b_3 - a_3 b_2)^2 \geq 0 \end{aligned}$$

و برای این که علامت برابری برقرار باشد، باید داشته باشیم:

$$a_1 b_2 - a_2 b_1 = a_1 b_3 - a_3 b_1 = a_2 b_3 - a_3 b_2 = 0$$

$$\text{و یا } \frac{a_1}{b_1} = \frac{a_2}{b_2} = \frac{a_3}{b_3}$$

در حالت کلی هم، با اندکی محاسبه و دقت، به دست می آید:

$$\begin{aligned} & (a_1^2 + a_2^2 + \dots + a_n^2)(b_1^2 + b_2^2 + \dots + b_n^2) - (a_1 b_1 + a_2 b_2 + \dots \\ & \dots + a_n b_n)^2 = \dots + a_n b_n)^2 - (a_1 b_1 + a_2 b_2 + \dots + a_n b_n)^2 + \dots \\ & = (a_1 a_2 - a_2 b_1)^2 + (a_1 b_3 - a_3 b_1)^2 + \dots + \\ & \quad + (a_{n-1} b_n - a_n b_{n-1})^2 \end{aligned}$$

در پرازنزهای مجذور کامل سمت راست برابری، باید همه حالت های ممکن انتخاب و دواندیس مختلف را در نظر گرفت. این تعداد برابر است با

$$C_n^2 = \frac{n(n-1)}{2}; \text{ یعنی در سمت راست برابری، به تعداد } \frac{n(n-1)}{2} \text{ مجذور}$$

کامل وجود دارد. روشن است که این مجموع همیشه مثبت است، مگر وقتی که داشته باشیم:

$$\frac{a_1}{b_1} = \frac{a_2}{b_2} = \dots = \frac{a_n}{b_n}$$

مسئله ۱۷. نقطه $M(x, y)$ را روی دایره $x^2 + y^2 = 1$ طوری پیدا کنید که مقدار $12x + 5y$ به حداکثر مقدار خود و یا به حداقل مقدار خود برسد.

حل. در واقع، مسأله می‌خواهد به شرط $x^2 + y^2 = 1$ ، حداکثر و حداقل مقدار $12x + 5y$ را پیدا کند.

نا برابری کوشی را برای $n = 2$ در نظر می‌گیریم و فرض می‌کنیم:

$$a_1 = 12, a_2 = 5, b_1 = x, b_2 = y.$$

در این صورت داریم:

$$(12^2 + 5^2)(x^2 + y^2) \geq (12x + 5y)^2 \Rightarrow (12x + 5y)^2 \leq 169$$

که از آن جا به دست می‌آید: $-13 \leq 12x + 5y \leq 13$.

حداکثر مقدار ممکن برای $12x + 5y$ برابر ۱۳ و حداقل ممکن برای آن برابر -13 است؛ و می‌دانیم، این حداکثر و یا حداقل، وقتی به دست می‌آید که داشته باشیم:

$$\frac{x}{12} = \frac{y}{5}$$

که با توجه به معادله $x^2 + y^2 = 1$ به دست می‌آید:

$$M_1\left(\frac{12}{13}, \frac{5}{13}\right), M_2\left(-\frac{12}{13}, -\frac{5}{13}\right)$$

حداکثر مقدار $12x + 5y$ روی دایره $x^2 + y^2 = 1$ در نقطه M_1 و حداقل آن در روی دایره، در نقطه M_2 خواهد بود.

۰۴ درمسأله ۶ فصل اول ثابت کردیم:

$$\sqrt{a_1^2 + b_1^2} + \sqrt{a_2^2 + b_2^2} \geq \sqrt{(a_1 + a_2)^2 + (b_1 + b_2)^2}$$

اکنون آن را برای n عدد a_i و n عدد b_i تعمیم می‌دهیم.

قضیه ۴. ثابت کنید، برای عددهای مثبت a_1, a_2, \dots, a_n و b_1, b_2, \dots, b_n

b_n, \dots همیشه داریم:

$$\sqrt{a_1^2 + b_1^2} \sqrt{a_2^2 + b_2^2} + \dots + \sqrt{a_n^2 + b_n^2} \geq \sqrt{a^2 + b^2} \quad (2)$$

که در آن $a = a_1 + a_2 + \dots + a_n$ و $b = b_1 + b_2 + \dots + b_n$. علامت برابری، تنها برای وقتی است که داشته باشیم:

$$\frac{a_1}{b_1} = \frac{a_2}{b_2} = \dots = \frac{a_n}{b_n}$$

اثبات. خط شکسته $A_0 A_1 \dots A_n$ را روی صفحه و در دستگاه محورها

قائم مختصات طوری در نظر می‌گیریم که بردار $\overrightarrow{A_0 A_1}$ به مختصات (a_1, b_1) ،

بردار $\overrightarrow{A_1 A_2}$ به مختصات (a_2, b_2) ، و به طور کلی، بردار $\overrightarrow{A_{i-1} A_i}$ به مختصات (a_i, b_i) باشد. در ضمن، روشن است که

$$\overrightarrow{A_0 A_n} = \overrightarrow{A_0 A_1} + \overrightarrow{A_1 A_2} + \dots + \overrightarrow{A_{n-1} A_n}$$

یعنی مختصات بردار $\overrightarrow{A_0 A_n}$ چنین است:

$$(a_1 + a_2 + \dots + a_n, b_1 + b_2 + \dots + b_n) = (a, b)$$

طول بردارها را محاسبه می‌کنیم:

$$|A_0 A_1| = \sqrt{a_1^2 + b_1^2}, |A_1 A_2| = \sqrt{a_2^2 + b_2^2}, \dots,$$

$$|A_{n-1} A_n| = \sqrt{a_n^2 + b_n^2}; |A_0 A_n| = \sqrt{a^2 + b^2}$$

می‌دانیم طول یک خط شکسته از طول پاره خط راستی که دو انتهای آن

را به هم وصل می‌کند، بزرگتر است، یعنی

$$\sum_{i=1}^n \sqrt{a_i^2 + b_i^2} \geq \sqrt{a^2 + b^2}$$

در ضمن، علامت برابری، تنها وقتی برقرار است که بردارهای $\overrightarrow{A_0 A_1}$ ،

$\overrightarrow{A_1 A_2}$ ، \dots ، $\overrightarrow{A_{n-1} A_n}$ هم جهت باشند، یعنی داشته باشیم:

$$\frac{a_1}{b_1} = \frac{a_2}{b_2} = \dots = \frac{a_n}{b_n}$$

یادداشت. اگر $i = \sqrt{-1}$ و $x + iy$ را عدد مختلط در نظر بگیریم،

می‌دانیم

$$|x + iy| = \sqrt{x^2 + y^2}$$

به این ترتیب، می‌توانیم نابرابری قضیه ۲ را به این صورت بنویسیم:

$$\begin{aligned} & |a_1 + ib_1| + |a_2 + ib_2| + \dots + |a_n + ib_n| \geq \\ & \geq |(a_1 + a_2 + \dots + a_n) + i(b_1 + b_2 + \dots + b_n)| \end{aligned}$$

۳. دو نابرابری دیگر

قضیه ۳. برای عددهای مثبت a_1, a_2, \dots, a_n و b_1, b_2, \dots, b_n و با

فرض $b = b_1 + b_2 + \dots + b_n$ ، $a = a_1 + a_2 + \dots + a_n$ داریم:

$$\sqrt{a_1 b_1} + \sqrt{a_2 b_2} + \dots + \sqrt{a_n b_n} \leq \sqrt{ab} \quad (3)$$

$$\frac{a_1}{b_1} = \frac{a_2}{b_2} = \dots = \frac{a_n}{b_n} \text{ برای آنها}$$

اثبات. با توجه به نابرابری بین واسطه‌های حسابی و هندسی داریم:

$$\frac{a_1}{a} + \frac{b_1}{b} \geq 2\sqrt{\frac{a_1 b_1}{ab}}$$

$$\frac{a_2}{a} + \frac{b_2}{b} \geq 2\sqrt{\frac{a_2 b_2}{ab}}$$

.....

$$\frac{a_n}{a} + \frac{b_n}{b} \geq 2\sqrt{\frac{a_n b_n}{ab}}$$

اکنون اگر $a_1 + a_2 + \dots + a_n = a$ و $b_1 + b_2 + \dots + b_n = b$ بگیریم،

از مجموع این نابرابری‌ها، به همان نابرابری (۳) می‌رسیم. در ضمن، برای

این که همه جا علامت برابری داشته باشیم، باید

$$\frac{a_1}{b_1} = \frac{a_2}{b_2} = \dots = \frac{a_n}{b_n} = \frac{a}{b}$$

قضیه ۴. با همان شرط‌های قضیه ۳، ثابت کنید

$$\frac{a_1 b_1}{a_1 + b_1} + \frac{a_2 b_2}{a_2 + b_2} + \dots + \frac{a_n b_n}{a_n + b_n} \leq \frac{ab}{a+b} \quad (۲)$$

و برابری برای $\frac{a_1}{b_1} = \frac{a_2}{b_2} = \dots = \frac{a_n}{b_n}$

داده‌مایی. این نابرابری به‌ازای $n=2$ به‌صورت

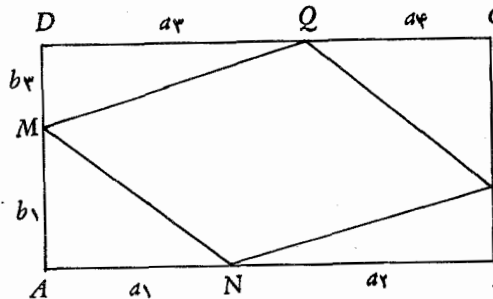
$$\frac{a_1 b_1}{a_1 + b_1} + \frac{a_2 b_2}{a_2 + b_2} \leq \frac{(a_1 + a_2)(b_1 + b_2)}{a_1 + a_2 + b_1 + b_2}$$

درمی‌آید که منجر به نابرابری روشن $(a_1 b_2 - a_2 b_1)^2 \geq 0$ می‌شود. برای اثبات در حالت کلی، می‌توانید از روش استقرای ریاضی استفاده کنید.

مسئله ۱۸. در مستطیلی که طول قطر آن برابر است با d ، یک چهار-

ضلعی محاط کنید که حداقل ممکن محیط را داشته باشد.

حل. فرض می‌کنیم،



شکل ۹

چهارضلعی $MNPQ$ را در

مستطیل $ABCD$ محاط کرده b_4

باشیم (شکل ۹). پاره خط-

های راستی که به‌وسیله رأس P -

های چهارضلعی، روی ضلع b_2

های مستطیل پدید می‌آید،

مطابق شکل، نام‌گذاری

می‌کنیم. اگر طول مستطیل را a و عرض آن را b بگیریم، داریم:

$$a_1 + a_2 = a_3 + a_4 = a \quad , \quad b_1 + b_3 = b_2 + b_4 = b ;$$

$$a_1 + a_2 + a_3 + a_4 = 2a \quad , \quad b_1 + b_2 + b_3 + b_4 = 2b$$

اگر محیط چهارضلعی را با P نشان دهیم، روشن است که

$$P = \sqrt{a_1^2 + b_1^2} + \sqrt{a_2^2 + b_2^2} + \sqrt{a_3^2 + b_3^2} + \sqrt{a_4^2 + b_4^2}$$

و بنابراین، با توجه به نابرابری (۲) داریم:

$$P \geq \sqrt{(a_1 + a_2 + a_3 + a_4)^2 + (b_1 + b_2 + b_3 + b_4)^2} = \\ = \sqrt{(2a)^2 + (2b)^2} = 2\sqrt{a^2 + b^2} = 2d$$

یعنی حداقل محیط چهارضلعی محاطی برابر $2d$ است و وقتی به این حداقل می‌رسد که داشته باشیم:

$$\frac{a_1}{b_1} = \frac{a_2}{b_2} = \frac{a_3}{b_3} = \frac{a_4}{b_4} = \frac{a}{b}$$

به این ترتیب، هر چهارمثلث واقع در گوشه‌های مستطیل باهم و با مثلث ABC متشابه می‌شوند، یعنی ضلع‌های روبه‌رو در چهارضلعی $MNPQ$ باهم موازی و، در نتیجه، چهارضلعی $MNPQ$ یک متوازی‌الاضلاع می‌شود.

اگر بخواهیم چهارضلعی را با حداقل محیط در مستطیل به قطر d محاط کنیم، باید چهارضلعی را به صورت متوازی‌الاضلاع در نظر بگیریم.

۴. نابرابری چه بیشف.

قضیه ۴.۴. می‌دانیم: $x_1 \geq x_2 \geq \dots \geq x_n$ و $y_1 \geq y_2 \geq \dots \geq y_n$

ثابت کنید:

$$\sum_{i=1}^n (x_i y_i) \geq \frac{1}{n} \sum_{i=1}^n x_i \sum_{i=1}^n y_i \quad (5)$$

علامت برابری برای $n=1$ یا $x_1 = x_2 = \dots = x_n$ و یا $y_1 = y_2 = \dots = y_n$ اثبات. در واقع، با توجه به شرط‌های قضیه، باید ثابت کنیم:

$$x_1 y_1 + x_2 y_2 + \dots + x_n y_n \geq \\ \geq \frac{1}{n} (x_1 + x_2 + \dots + x_n) (y_1 + y_2 + \dots + y_n)$$

در حالت $n=1$ به برابری $x_1 y_1 = x_1 y_1$ و در حالت برابری x_i ها و برابری y_i ها به برابری $n x_1 y_1 = n x_1 y_1$ می‌رسیم. در ضمن، در حالت خاص $n=2$ به این نابرابری می‌رسیم:

$$x_1 y_1 + x_2 y_2 \geq \frac{1}{2} (x_1 + x_2) (y_1 + y_2)$$

که بعد از تبدیل‌های لازم، به نابرابری روشن $(x_1 - x_2)(y_1 - y_2) \geq 0$

منجر می شود.

برای اثبات نابرابری (۵) در حالت کلی، توجه می کنیم که برای واسطه حسابی عددهای x_1, x_2, \dots, x_n داریم: $x_1 \geq A_n \geq x_n$ که در آن

$$A_n = \frac{x_1 + x_2 + \dots + x_n}{n}$$

بنابراین، مقدار A_n در جایی بین x_n و x_1 قرار دارد:

$$x_1 \geq x_2 \geq \dots \geq x_k \geq A_n \geq x_{k+1} \geq \dots \geq x_n$$

از این جا می توان نتیجه گرفت

$$(x_i - A_n)(y_i - y_k) \geq 0 \quad (i = 1, 2, \dots, n) \quad (*)$$

اگر $i < k$ ، آن وقت $x_i > A_n$ و $y_i > y_k$ و اگر $i > k$ ، آن وقت $x_i < A_n$ و $y_i < y_k$ و

اگر در نابرابری (*)، i را به ترتیب برابر ۱، ۲، ...، n بگیریم و نابرابری های حاصل را با هم جمع کنیم، به دست می آید:

$$\begin{aligned} & \sum_{i=1}^n (x_i - A_n)(y_i - y_k) = \\ & = \sum_{i=1}^n x_i y_i - A_n \sum_{i=1}^n y_i + n A_n y_k - y_k \sum_{i=1}^n x_i \geq 0 \end{aligned}$$

از طرف دیگر داریم:

$$n A_n y_k = y_k (x_1 + x_2 + \dots + x_n),$$

$$y_k \sum_{i=1}^n x_i = y_k (x_1 + x_2 + \dots + x_n)$$

یعنی $n A_n y_k = y_k \sum_{i=1}^n x_i$ و بنابراین

$$\sum_{i=1}^n x_i y_i - A_n \sum_{i=1}^n y_i \geq 0$$

که با توجه به مقدار A_n به دست می آید:

$$\sum_{i=1}^n x_i y_i \geq \frac{1}{n} \sum_{i=1}^n x_i \sum_{i=1}^n y_i$$

روشن است که حالت برابری وقتی پیش می آید که داشته باشیم:
 $x_i - A_n = 0$ و یا $y_i - y_k = 0$ که از آن جا نتیجه می شود:

$$x_1 = x_2 = \dots = x_n \quad \text{یا} \quad y_1 = y_2 = \dots = y_n$$

یادداشت. در فرض نابرابری چه بیشف، می توان فرض کرد:

$$x_1 \leq x_2 \leq \dots \leq x_n \quad \text{و} \quad y_1 \leq y_2 \leq \dots \leq y_n$$

که در این صورت، بازهم نابرابری به قوت خود باقی است.

وقتی که دودنباله $\{x_n\}$ و $\{y_n\}$ چنان باشند که به شرط $i < j$ داشته باشیم $x_i \geq x_j$ و $y_i \geq y_j$ یا $x_i \leq x_j$ و $y_i \leq y_j$ ، آن وقت، دودنباله را، متشابه الترتیب گویند. بنابراین در شرط نابرابری چه بیشف، تنها باید دودنباله $\{x_n\}$ و $\{y_n\}$ متشابه الترتیب باشند. اگر نابرابری چه بیشف را، برای دو دنباله ای از اعداد بنویسیم که متقابل الترتیب باشند (یعنی با فرض $i < j$ داشته باشیم $x_i > x_j$ و $y_i < y_j$ یا $x_i < x_j$ و $y_i > y_j$)، آن وقت ممکن است به یک نابرابری نادرست برسیم.

مسأله ۱۹. ثابت کنید، برای $n \in \mathbf{N}$ داریم:

$$2n(6^n - 1) \geq 5(2^n - 1)(3^n - 1)$$

حل. فرض می کنیم $x_i = 2^i$ و $y_i = 3^{i-1}$ و این دودنباله محدود را در نظر می گیریم:

$$2, 4, 8, \dots, 2^n$$

$$1, 3, 9, \dots, 3^{n-1}$$

که دودنباله متشابه الترتیب اند. بنابراین

$$\sum_{i=1}^n x_i y_i \geq \frac{1}{n} \sum_{i=1}^n x_i \cdot \sum_{i=1}^n y_i \quad (*)$$

از طرف دیگر داریم:

$$\sum_{i=1}^n x_i y_i = 2 + 12 + 72 + \dots + 2^n \cdot 3^{n-1} =$$

$$= \frac{1}{3} (6 + 6^2 + \dots + 6^n) = \frac{1}{3} \cdot \frac{6(6^n - 1)}{6 - 1} = \frac{2}{5} (6^n - 1);$$

$$\sum_{i=1}^n x_i = 2 + 4 + \dots + 2^n = \frac{2(2^n - 1)}{2 - 1} = 2(2^n - 1);$$

$$\sum_{i=1}^n y_i = 1 + 3 + \dots + 3^{n-1} = \frac{3^n - 1}{3 - 1} = \frac{1}{2} (3^n - 1);$$

$$\frac{1}{n} \sum_{i=1}^n x_i \cdot \sum_{i=1}^n y_i = \frac{1}{n} \cdot 2(2^n - 1) \cdot \frac{1}{2} (3^n - 1) = \frac{(2^n - 1)(3^n - 1)}{n}$$

و اگر مقادیرهای حاصل را در نابرابری چه بیشف (*) قرار دهیم، به نابرابری مطلوب می‌رسیم. علامت برابری، تنها برای $n = 1$ به دست می‌آید.

۵. یک نابرابری در مثلث. در مثلث نابرابری‌های زیادی وجود دارد

که بعضی از آن‌ها را، ضمن مسأله‌ها و تمرین‌ها آورده‌ایم. ولی یکی از این نابرابری‌ها، تاریخچه جالبی دارد و، به همین مناسبت، از آن، در این بند، به طور مستقل یاد می‌کنیم.

قضیه ۵. ثابت کنید، در هر مثلث، نابرابری زیر برقرار است:

$$a^2 + b^2 + c^2 \geq 4S\sqrt{3} \quad (6)$$

که در آن، a, b, c طول ضلع‌ها و S مساحت مثلث است. علامت برابری برای مثلث متساوی‌الاضلاع پیش می‌آید.

اثبات. مثلث غیرمستقیم ABC را، با شرط $|BC| = a, |AC| = b$

و $|AB| = c$ ؛ $\hat{A} = \alpha$ ، $\hat{B} = \beta$ و $\hat{C} = \gamma$ و مساحت S در نظر می‌گیریم. خط

راست AB ، صفحه را به دو نیم صفحه تقسیم می‌کند. روی ضلع AB و در نیم

صفحه‌ای که شامل رأس C است، مثلث متساوی‌الاضلاع ABC_1 را می‌سازیم.

در هر حال خواهیم داشت:

$$|CC_1|^2 = a^2 + c^2 - 2ac \cos(\beta - 60^\circ) =$$

$$= a^2 + c^2 - ac(\cos\beta + \sqrt{3}\sin\beta);$$

که اگر از برابری‌های $\sin\beta = \frac{2S}{ac}$ و $\cos\beta = \frac{a^2 - b^2 + c^2}{2ac}$ استفاده کنیم، به دست می‌آید:

$$|CC_1|^2 = a^2 + c^2 - \frac{a^2 - b^2 + c^2}{2} - 2S\sqrt{3} =$$

$$= \frac{a^2 + b^2 + c^2}{2} - 2S\sqrt{3}$$

که از آنجا، با توجه به غیرمنفی بودن طول $|CC_1|$ نتیجه می‌شود:

$$a^2 + b^2 + c^2 \geq 4S\sqrt{3}$$

مسئله ۲۰. ثابت کنید، در هر مثلث باز زاویه‌های α ، β و γ داریم:

$$\cot\alpha + \cot\beta + \cot\gamma \geq \sqrt{3}$$

حل. با توجه به برابری‌های $ab = \frac{2S}{\sin\gamma}$ و $ac = \frac{2S}{\sin\beta}$ ، $bc = \frac{2S}{\sin\alpha}$

داریم:

$$a^2 = b^2 + c^2 - 2bc \cos\alpha = b^2 + c^2 - 4S \cot\alpha,$$

$$b^2 = c^2 + a^2 - 4S \cot\beta, \quad c^2 = a^2 + b^2 - 4S \cot\gamma$$

که از مجموع آن‌ها، به دست می‌آید:

$$a^2 + b^2 + c^2 = 4S(\cot\alpha + \cot\beta + \cot\gamma)$$

بنابراین، با توجه به نابرابری (۶)

$$4S(\cot\alpha + \cot\beta + \cot\gamma) \geq 4S\sqrt{3} \Rightarrow$$

$$\Rightarrow \cot\alpha + \cot\beta + \cot\gamma \geq \sqrt{3}$$

علامت برابری برای $\alpha = \beta = \gamma = 60^\circ$ ، یعنی مثلث متساوی‌الاضلاع.

□

نا برابری (۶) را می توان دقیق تر کرد. در سال ۱۹۳۸، دوریاضی دان،

فینسلر و هادویگر ثابت کردند:

$$a^2 + b^2 + c^2 \geq 4S\sqrt{3} + Q \quad (7)$$

که در آن $Q = (a-b)^2 + (b-c)^2 + (c-a)^2$. این نابرابری را ثابت می کنیم.

اثبات نابرابری (۷). مرکز دایره های محاطی بیرونی مثلث ABC را I_a, I_b, I_c و مساحت مثلث $I_a I_b I_c$ را S' می نامیم (I_a مرکز دایره مماس بر ضلع a (یعنی BC) و امتداد ضلع های AB و AC است و غیره).

می خواهیم نابرابری (۶) را برای مثلث $I_a I_b I_c$ بنویسیم. برای این منظور، باید مقادیرهای S' و $|I_a I_b|^2 + |I_b I_c|^2 + |I_c I_a|^2$ را پیدا کنیم.

اگر از نقطه I_a عمود $I_a D$ را بر خط راست AB فرود آوریم، روشن است که

$$|AD| = p \quad \text{و} \quad |AI_a| = \frac{p}{\cos \frac{A}{2}}$$

($p = \frac{a+b+c}{2}$ ، نصف محیط مثلث ABC است). از طرف دیگر توجه

می کنیم، دایره های که از سه رأس مثلث ABC می گذرد، همان دایره ۹ نقطه برای مثلث $I_a I_b I_c$ است، یعنی اگر شعاع دایره محیطی مثلث ABC برابر R باشد، شعاع دایره محیطی مثلث $I_a I_b I_c$ برابر $2R$ است. بنابراین، با توجه به رابطه سینوس ها در مثلث $I_a I_b I_c$ داریم:

$$|I_b I_c| = 2R \sin \widehat{I_a I_b I_c} = 2R \sin \left(90^\circ - \frac{\hat{A}}{2} \right) = 2R \cos \frac{A}{2}$$

اگر در مثلث $I_a I_b I_c$ ، قاعده را $I_b I_c$ بگیریم، پاره خط راست AI_a ارتفاع آن می شود، در نتیجه

$$S' = |I_b I_c| \cdot \frac{1}{2} |AI_a| = 2R \cos \frac{A}{2} \cdot \frac{p}{2 \cos \frac{A}{2}} = 2pR = \frac{2SR}{r}$$

از طرف دیگر داریم:

$$r_b + r_c = p \left(\operatorname{tg} \frac{B}{\gamma} + \operatorname{tg} \frac{C}{\gamma} \right) = \frac{p \sin \frac{B+C}{\gamma}}{\cos \frac{B}{\gamma} \cos \frac{C}{\gamma}} = \frac{\gamma p \cos^2 \frac{A}{\gamma}}{\gamma \cos \frac{A}{\gamma} \cos \frac{B}{\gamma} \cos \frac{C}{\gamma}} =$$

$$= \frac{\gamma(a+b+c) \cos^2 \frac{A}{\gamma}}{\sin A + \sin B + \sin C} = \frac{\gamma R(a+b+c) \cos^2 \frac{A}{\gamma}}{a+b+c} = \gamma R \cos^2 \frac{A}{\gamma}$$

به این ترتیب، با توجه به مقداری که برای $|I_b I_c|$ پیدا کرده‌ایم، داریم:

$$|I_b I_c|^2 = 16 R^2 \cos^2 \frac{A}{\gamma} = 4R \cdot 4R \cos^2 \frac{A}{\gamma} = 4R(r_b + r_c)$$

که اگر مقادیرهای مشابه دوضلع دیگر مثلث $I_a I_b I_c$ را هم در نظر بگیریم، به دست می‌آید:

$$|I_a I_b|^2 + |I_b I_c|^2 + |I_c I_a|^2 = 8R(r_a + r_b + r_c)$$

اکنون می‌توانیم نابرابری (۶) را برای مثلث $I_a I_b I_c$ بنویسیم:

$$|I_a I_b|^2 + |I_b I_c|^2 + |I_c I_a|^2 \geq 4S' \sqrt{3}$$

از آن جا

$$8R(r_a + r_b + r_c) \geq \frac{8SR\sqrt{3}}{r} \Rightarrow 4r(r_a + r_b + r_c) \geq 4S\sqrt{3}$$

مقدار سمت چپ نابرابری اخیر را، با توجه به دستورهای

$$r = \frac{S}{p}, \quad r_a = \frac{S}{p-a}, \quad r_b = \frac{S}{p-b}, \quad r_c = \frac{S}{p-c}$$

محاسبه می‌کنیم:

$$4r(r_a + r_b + r_c) = 4 \left[\frac{S^2}{p(p-a)} + \frac{S^2}{p(p-b)} + \frac{S^2}{p(p-c)} \right] =$$

$$= 4[(p-b)(p-c) + (p-a)(p-c) + (p-a)(p-b)] =$$

$$\begin{aligned}
 &= 4[p^2 - (b+c)p + bc + p^2 - (a+c)p + ac + p^2 - \\
 &\quad - (a+b)p + ab] = -4p^2 + 4ab + 4bc + 4ca = \\
 &= -a^2 - b^2 - c^2 + 2ab + 2bc + 2ca = a^2 + b^2 + c^2 - \\
 &\quad - [(a-b)^2 + (b-c)^2 + (c-a)^2]
 \end{aligned}$$

از آن جا، به این نابرابری می‌رسیم:

$$a^2 + b^2 + c^2 \geq 4S\sqrt{3} + (a-b)^2 + (b-c)^2 + (c-a)^2$$

(علامت برابری، برای $a=b=c$) که همان نابرابری فینسلر- هادویگر است.

۶. محاسبه حداکثر. در یادداشت پایان اثبات اول نابرابری کوشی

(§ ۲ از فصل دوم) دیدیم: اگر n عدد مثبت، مجموعی ثابت داشته باشند،

حداکثر حاصل ضرب آنها وقتی به دست می‌آید که این عددها با هم برابر باشند.

خود این مقدار حداکثر را، به سادگی می‌توان به دست آورد. در واقع، اگر

برای مقدارهای مثبت a_1, a_2, \dots, a_n داشته باشیم:

$$a_1 + a_2 + \dots + a_n = A$$

(A ، مقداری است ثابت)، آن وقت، بنا بر نابرابری بین واسطه‌های حسابی و

هندسی

$$a_1 a_2 \dots a_n \leq \left(\frac{a_1 + a_2 + \dots + a_n}{n} \right)^n = \frac{A^n}{n^n}$$

یعنی حداکثر حاصل ضرب، بر $\frac{1}{n^n} A^n$ است.

این قضیه را می‌توان تعمیم داد:

قضیه ۶. اگر برای کمیت‌های مثبت a_1, a_2, \dots, a_n داشته باشیم:

$$a_1 + a_2 + \dots + a_n = A$$

(A مقداری ثابت است) آن وقت حداکثر مقدار $a_1^\alpha \cdot a_2^\beta \dots a_n^\gamma$ وقتی به دست

می‌آید که کمیت‌های a_1, a_2, \dots, a_n با توان‌های خود متناسب باشند، یعنی

داشته باشیم:

$$\frac{a_1}{\alpha} = \frac{a_2}{\beta} = \dots = \frac{a_n}{\gamma}$$

اثبات. مقدارهایی از a_1, a_2, \dots, a_n که حاصل ضرب $a_1^\alpha a_2^\beta \dots a_n^\gamma$ را به حداکثر برسانند، حاصل ضرب $\frac{a_1^\alpha}{\alpha^\alpha} \cdot \frac{a_2^\beta}{\beta^\beta} \dots \frac{a_n^\gamma}{\gamma^\gamma}$ را هم به حداکثر خود می‌رسانند و برای عبارت اخیر، با توجه به نابرابری بین واسطه‌های هندسی و حسابی داریم:

$$\frac{a_1^\alpha}{\alpha^\alpha} \cdot \frac{a_2^\beta}{\beta^\beta} \dots \frac{a_n^\gamma}{\gamma^\gamma} = \underbrace{\frac{a_1}{\alpha} \cdot \frac{a_1}{\alpha} \dots \frac{a_1}{\alpha}}_{\text{مرتبه } \alpha} \cdot \underbrace{\frac{a_2}{\beta} \cdot \frac{a_2}{\beta} \dots \frac{a_2}{\beta}}_{\text{مرتبه } \beta} \dots$$

$$\dots \underbrace{\frac{a_n}{\gamma} \cdot \frac{a_n}{\gamma} \dots \frac{a_n}{\gamma}}_{\text{مرتبه } \gamma} \leq \left(\frac{\alpha \cdot \frac{a_1}{\alpha} + \beta \cdot \frac{a_2}{\beta} + \dots + \gamma \frac{a_n}{\gamma}}{\alpha + \beta + \dots + \gamma} \right)^{\alpha + \beta + \dots + \gamma} =$$

$$= \left(\frac{a_1 + a_2 + \dots + a_n}{\alpha + \beta + \dots + \gamma} \right)^{\alpha + \beta + \dots + \gamma} = \left(\frac{A}{\alpha + \beta + \dots + \gamma} \right)^{\alpha + \beta + \dots + \gamma} = M$$

به این ترتیب، حداکثر مقدار $a_1^\alpha a_2^\beta \dots a_n^\gamma$ برابر $M \cdot \alpha^\alpha \cdot \beta^\beta \dots \gamma^\gamma$ است و وقتی به این حداکثر خود می‌رسد که داشته باشیم:

$$\frac{a_1}{\alpha} = \frac{a_2}{\beta} = \dots = \frac{a_n}{\gamma}$$

مسئله ۰۴۱. به شرط $x \geq -1$ ، حداکثر مقدار $y = (13-x)^3 \sqrt{1+x}$ را پیدا کنید.

حل. داریم $y = (13-x)^3 (1+x)^{\frac{1}{2}}$ مجموع پایه‌ها برابر $14 = (13-x) + (1+x)$ مقداری است ثابت، بنابراین عبارت y وقتی به حداکثر خود می‌رسد که داشته باشیم:

$$\frac{13-x}{3} = \frac{1+x}{\frac{1}{2}} \Rightarrow x=1 \text{ و } y_{\max} = 12\sqrt{4}$$

مسأله ۲۲. از صفحه ای دایره ای شکل، قطاعی با زاویه مرکزی α درجه جدا کرده و با باقی مانده دایره، مخروطی ساخته ایم. α را چند درجه بگیریم تا حجم مخروط حاصل، حداکثر مقدار ممکن باشد.

حل. طول کمان قطاع بزرگتر، که مخروط را با آن ساخته ایم، x می گیریم. این کمان، محیط قاعده مخروط را تشکیل می دهد، بنابراین شعاع

قاعده مخروط، برابر $\frac{x}{2\pi}$ و ارتفاع مخروط، برابر $\sqrt{R^2 - \frac{x^2}{4\pi^2}}$ یا

$\frac{1}{2\pi} \sqrt{4\pi^2 R^2 - x^2}$ می شود (R ، شعاع دایره اصلی و، در ضمن، مولد

مخروط است). به این ترتیب، مقدار V ، حجم مخروط، برابر است با

$$V = \frac{1}{3} \cdot \frac{x^2}{4\pi} \cdot \frac{1}{2\pi} \sqrt{4\pi^2 R^2 - x^2} = \frac{1}{24\pi^2} x^2 (4\pi^2 R^2 - x^2)^{\frac{1}{2}}$$

و این مقدار، با توجه به ثابت بودن مجموع x^2 و $4\pi^2 R^2 - x^2$ وقتی به حداکثر خود می رسد که داشته باشیم:

$$x = 2\pi R \sqrt{\frac{2}{3}} \quad \text{یا} \quad \frac{x^2}{1} = \frac{4\pi^2 R^2 - x^2}{\frac{1}{2}}$$

به این ترتیب، زاویه α باید برابر $2\pi R \left(1 - \sqrt{\frac{2}{3}}\right)$ رادیان و یا، به

تقریب، برابر ۶۶ درجه ۳۵ دقیقه انتخاب شود.

۷. محاسبه حداقل. اگر a_1, a_2, \dots, a_n کمیت هایی مثبت باشند و در

ضمن، حاصل ضرب آنها، مقداری ثابت باشد:

$$a_1 a_2 \dots a_n = P$$

(P مقدار ثابتی است)، آن وقت با توجه به نابرابری بین واسطه های حسابی

و هندسی

$$a_1 + a_2 + \dots + a_n \geq n \sqrt[n]{a_1 a_2 \dots a_n} = n \sqrt[n]{P}$$

یعنی با شرط ثابت بودن حاصل ضرب چند کمیت مثبت، حداقل مجموع آنها

برابر $n\sqrt[n]{P}$ است و وقتی به دست می آید که داشته باشیم: $a_1 = a_2 = \dots = a_n$.
مسئله ۲۳. می خواهیم یک لوزی، بر دایره ای به شعاع R محیط کنیم.

لوزی را چگونه بگیریم تا مساحت آن، حداقل مقدار ممکن باشد؟

حل. اگر قطرهای لوزی محیطی را رسم کنیم، چهار مثلث قائم الزویه با مساحت های برابر به دست می آید. برای این که مساحت لوزی حداقل باشد، باید مساحت یکی از این مثلث ها، به حداقل خود برسد. وتر این مثلث، ضلع لوزی است که به وسیله نقطه تماس به دو پاره خط راست تقسیم شده است. اگر این دو پاره خط راست را به طول های x_1 و x_2 و زاویه ای از لوزی را که مجاور x_1 است با 2α نشان دهیم، داریم:

$$x_1 = R \cot \alpha, \quad x_2 = R \tan \alpha$$

بنابراین مساحت مثلث قائم الزویه با وتر $x_1 + x_2$ چنین است:

$$S = \frac{1}{4} R^2 (\tan \alpha + \cot \alpha)$$

حاصل ضرب $\tan \alpha \cot \alpha$ ، مقداری ثابت و برابر واحد است، بنا بر این مجموع آنها وقتی به حداقل مقدار خود می رسد که داشته باشیم: $\tan \alpha = \cot \alpha$ ، که با

توجه به شرط $0 < \alpha \leq \frac{\pi}{2}$ ، به دست می آید $\alpha = \frac{\pi}{4}$ یا $2\alpha = \frac{\pi}{2}$. یعنی لوزی باید به صورت یک مربع در آید.

قضیه ای را که در بالا، درباره حداقل مجموع، آوردیم، می توان تعمیم

داد.

قضیه ۷. به شرط مثبت بودن کمیت های a_1, a_2, \dots, a_n و به شرطی که

حاصل ضرب $a_1^\alpha a_2^\beta \dots a_n^\gamma$ مقداری ثابت باشد، مجموع $a_1 + a_2 + \dots + a_n$ وقتی به حداقل مقدار خود می رسد که داشته باشیم:

$$\frac{a_1}{\alpha} = \frac{a_2}{\beta} = \dots = \frac{a_n}{\gamma}$$

اثبات. $a_1^\alpha a_2^\beta \dots a_n^\gamma$ ، همزمان با $\left(\frac{a_1}{\alpha}\right)^\alpha \left(\frac{a_2}{\beta}\right)^\beta \dots \left(\frac{a_n}{\gamma}\right)^\gamma$ مقداری

ثابت است. ولی حاصل ضرب اخیر شامل α عامل $\frac{a_1}{\alpha}$ ، β عامل

$\frac{a_2}{\beta}$ ، ...، γ عامل $\frac{a_n}{\gamma}$ است که مجموع آن‌ها، چنین است

$$\alpha \cdot \frac{a_1}{\alpha} + \beta \cdot \frac{a_2}{\beta} + \dots + \gamma \cdot \frac{a_n}{\gamma} = a_1 + a_2 + \dots + a_n$$

یعنی این مجموع، وقتی حداقل می‌شود که آن عامل‌ها با هم برابر باشند:

$$\frac{a_1}{\alpha} = \frac{a_2}{\beta} = \dots = \frac{a_n}{\gamma}$$

مسئله ۲۴. از بین مخروط‌های با حجم ثابت، سطح جانبی کدامیک، کمترین مقدار ممکن است؟

حل. اگر شعاع قاعده مخروط را x بگیریم، ارتفاع آن برابر

$\frac{3V}{\pi x^2}$ می‌شود و برای مولد آن (l) داریم:

$$l^2 = x^2 + \frac{9V^2}{\pi^2 x^4} \Rightarrow l = \sqrt{x^2 + \frac{9V^2}{\pi^2 x^4}}$$

(V را حجم ثابت مخروط گرفته‌ایم). بنابراین، سطح جانبی مخروط چنین است:

$$S = 2\pi x \cdot \frac{1}{2} \sqrt{x^2 + \frac{9V^2}{\pi^2 x^4}} \Rightarrow S^2 = \pi^2 x^4 + \frac{9V^2}{x^2}$$

چون حاصل ضرب $\left(\frac{9V^2}{x^2}\right)^2$ ، $\pi^2 x^4$ ، مقداری است ثابت، بنابراین S^2 (و در

نتیجه، S) وقتی به حداقل مقدار خود می‌رسد که داشته باشیم:

$$\pi^2 x^4 = \frac{9V^2}{2x^2} \Rightarrow x = \sqrt[3]{\frac{3V}{\pi\sqrt{2}}}$$

۸. نابرابری این سن. نابرابری این سن، در اساس، برای نابرابری‌های مثلثاتی است. ولی پیش از آن که به آن پردازیم، نابرابری‌های ساده‌ای از مثلثات را یادآوری می‌کنیم.

قضیه ۸. درستی نابرابری‌های زیر را ثابت کنید:

$$۱) \sin \alpha + \sin \beta \leq 2 \sin \frac{\alpha + \beta}{2}, \quad (0 \leq \alpha, \beta \leq \pi)$$

$$۲) \cos \alpha + \cos \beta \leq 2 \cos \frac{\alpha + \beta}{2}, \quad \left(-\frac{\pi}{2} \leq \alpha, \beta \leq \frac{\pi}{2}\right)$$

$$۳) \operatorname{tg} \alpha + \operatorname{tg} \beta \geq 2 \operatorname{tg} \frac{\alpha + \beta}{2}, \quad \left(0 \leq \alpha, \beta < \frac{\pi}{2}\right)$$

$$۴) \operatorname{cotg} \alpha + \operatorname{cotg} \beta \geq 2 \operatorname{cotg} \frac{\alpha + \beta}{2}, \quad \left(0 < \alpha, \beta \leq \frac{\pi}{2}\right)$$

اثبات. ۱) وقتی $0 \leq \alpha, \beta \leq \pi$ ، آن وقت $-\frac{\pi}{2} \leq \frac{\alpha - \beta}{2} \leq \frac{\pi}{2}$ و در

نتیجه $0 \leq \cos \frac{\alpha - \beta}{2}$ داریم:

$$\sin \alpha + \sin \beta = 2 \sin \frac{\alpha + \beta}{2} \cos \frac{\alpha - \beta}{2} \leq 2 \sin \frac{\alpha + \beta}{2}$$

زیرا $0 \leq \cos \frac{\alpha - \beta}{2} \leq 1$. روشن است که علامت برابری، برای $\alpha = \beta$ پیش می‌آید.

۲) کافی است در نابرابری $\sin \alpha + \sin \beta \leq 2 \sin \frac{\alpha + \beta}{2}$ ، به جای α

و β به ترتیب، $\alpha - \frac{\pi}{2}$ و $\beta - \frac{\pi}{2}$ قرار دهیم تا به نابرابری

$$\cos \alpha + \cos \beta \leq 2 \cos \frac{\alpha + \beta}{2}$$
 برسیم.

در این جا باید نابرابری‌های $0 \leq \frac{\pi}{2} - \beta$ و $\frac{\pi}{2} - \alpha \leq \pi$ برقرار

باشند که، در نتیجه، به شرط $-\frac{\pi}{4} \leq \alpha, \beta \leq \frac{\pi}{4}$ می‌رسیم.

(۳) $\alpha > \beta$ و $\lambda = \frac{\alpha + \beta}{2}$ می‌گیریم، یعنی $\alpha - \lambda = \lambda - \beta$ و

$$\sin \alpha \cos \lambda - \sin \alpha \sin \lambda = \sin \lambda \cos \beta - \cos \lambda \sin \beta \quad (*)$$

از شرط $\alpha > \beta$ نتیجه می‌شود $\cos \alpha < \cos \beta$ و

$$\cos \alpha \cos \lambda < \cos \beta \cos \lambda \Rightarrow \frac{1}{\cos \alpha \cos \lambda} > \frac{1}{\cos \beta \cos \lambda} \quad (**)$$

از ضرب رابطه‌های (۱) و (۲) در یکدیگر، به دست می‌آید:

$$tg \alpha - tg \lambda > tg \lambda - tg \beta \Rightarrow tg \alpha + tg \beta > 2tg \lambda = 2tg \frac{\alpha + \beta}{2}$$

(۴) کافی است در نابرابری $tg \alpha + tg \beta \geq 2tg \frac{\alpha + \beta}{2}$ ، مقدارهای α و

β را به ترتیب، به $\frac{\pi}{4} - \alpha$ و $\frac{\pi}{4} - \beta$ تبدیل کنیم.

با آزمایش روشن می‌شود که در هر چهار نابرابری قضیه ۸، علامت

برابری، برای $\alpha = \beta$ پیش می‌آید.

قضیه ۸ را می‌توان تعمیم داد و ما درباره سینوس‌ها، به صورت زیر

تنظیم می‌کنیم.

قضیه ۹. به شرط $0 \leq \alpha_1, \alpha_2, \dots, \alpha_n \leq \pi$ ثابت کنید:

$$\sin \alpha_1 + \sin \alpha_2 + \dots + \sin \alpha_n \leq n \sin \frac{\alpha_1 + \alpha_2 + \dots + \alpha_n}{n} \quad (۸)$$

برابری تنها برای $\alpha_1 = \alpha_2 = \dots = \alpha_n$.

اثبات. اثبات را با استقرای ریاضی و شبیه استدلالی که کوشی برای

نابرابری واسطه‌های حسابی و هندسی آورده بود (اثبات سوم، § ۲ از فصل

دوم) می‌آوریم.

نابرابری (۸)، برای $n = 2$ درست است (قضیه ۸)؛ ثابت می‌کنیم،

برای $n = 4$ هم برقرار است. به ترتیب داریم:

$$\begin{aligned} \sin \alpha_1 + \sin \alpha_2 + \sin \alpha_3 + \sin \alpha_4 &\leq 2 \left(\sin \frac{\alpha_1 + \alpha_2}{2} + \sin \frac{\alpha_3 + \alpha_4}{2} \right) \leq \\ &\leq 4 \sin \frac{\alpha_1 + \alpha_2 + \alpha_3 + \alpha_4}{4} \end{aligned}$$

درواقع، به این مناسبت توانستیم از نابرابری قضیه ۸، برای دوزاویه $\frac{\alpha_1 + \alpha_2}{2}$

و $\frac{\alpha_3 + \alpha_4}{2}$ استفاده کنیم که شرط $\frac{\alpha_2 + \alpha_4}{2} \leq \pi$ ، $\frac{\alpha_1 + \alpha_2}{2} \leq \pi$ برقرار است (چرا؟).

با همین روش می توان ثابت کرد: اگر نابرابری (۸) برای n برقرار باشد، برای $2n$ هم برقرار است و، در نتیجه، برای $n = 2^m$ (یعنی وقتی که n برابر توانی از ۲ باشد) برقرار است.

اکنون ثابت می کنیم، نابرابری (۸) برای هر n درست است. اگر n برآبر توانی از ۲ باشد، حکم ثابت است. درحالتی که n برابر توانی از ۲ نیست، کوچکترین توان ۲ را که از n بزرگتر باشد 2^m می نامیم و فرض می کنیم $n + q = 2^m$.

n زاویه $\alpha_1, \alpha_2, \dots, \alpha_n$ را با شرط $0 \leq \alpha_i \leq \pi$ و q زاویه برابر α را با شرط $\alpha = \frac{\alpha_1 + \alpha_2 + \dots + \alpha_n}{n}$ در نظر می گیریم؛ در ضمن توجه می کنیم که

$$\frac{\alpha_1 + \alpha_2 + \dots + \alpha_n + q\alpha}{n+q} = \frac{(n+q)\alpha}{n+q} = \alpha = \frac{\alpha_1 + \alpha_2 + \dots + \alpha_n}{n}$$

نابرابری (۸) را، برای $n+q = 2^m$ زاویه $\alpha_1, \alpha_2, \dots, \alpha_n$

$\underbrace{\alpha, \dots, \alpha}_{q \text{ مرتبه}}$ می نویسیم:

$$\sin \alpha_1 + \sin \alpha_2 + \dots + \sin \alpha_n + q \sin \alpha \leq$$

$$\leq (n+q) \sin \frac{\alpha_1 + \alpha_2 + \dots + \alpha_n + q\alpha}{n+q} = (n+q) \sin \alpha$$

که اگر از دو طرف نابرابری، مقدار $q \sin \alpha$ را حذف کنیم، به دست می آید:

$$\sin \alpha_1 + \sin \alpha_2 + \dots + \sin \alpha_n \leq n \sin \alpha = n \sin \frac{\alpha_1 + \alpha_2 + \dots + \alpha_n}{n}$$

در ضمن، روشن است که علامت برابری، تنها وقتی پیش می آید که

داشته باشیم:

$$\alpha_1 = \alpha_2 = \dots = \alpha_n$$

از خواننده می خواهیم، با همین روش، سه نابرابری دیگر قضیه ۸ را

تعمیم دهد و ثابت کند:

$$\begin{aligned} & \cos \alpha_1 + \cos \alpha_2 + \dots + \cos \alpha_n \leq \\ & \leq n \cos \frac{\alpha_1 + \dots + \alpha_n}{n}, \left(-\frac{\pi}{2} \leq \alpha_i \leq \frac{\pi}{2} \right) \end{aligned}$$

$$\operatorname{tg} \alpha_1 + \operatorname{tg} \alpha_2 + \dots + \operatorname{tg} \alpha_n \geq n \operatorname{tg} \frac{\alpha_1 + \dots + \alpha_n}{n}, \left(0 \leq \alpha_i < \frac{\pi}{2} \right)$$

$$\begin{aligned} & \operatorname{cotg} \alpha_1 + \operatorname{cotg} \alpha_2 + \dots + \operatorname{cotg} \alpha_n \geq \\ & \geq n \operatorname{cotg} \frac{\alpha_1 + \dots + \alpha_n}{n}, \left(0 < \alpha_i \leq \frac{\pi}{2} \right) \end{aligned}$$

(در همه موارد، علامت برابری، تنها برای $\alpha_1 = \alpha_2 = \dots = \alpha_n$)

از این نابرابری ها، به سادگی می توان نتیجه گرفت که در مثلث ABC

$$\sin A + \sin B + \sin C \leq 3 \sin \frac{A+B+C}{3} = 3 \sin 60^\circ = \frac{3\sqrt{3}}{2}$$

و در مثلث بازوهای حاده

$$\cos A + \cos B + \cos C \leq \frac{3}{2}; \operatorname{tg} A + \operatorname{tg} B + \operatorname{tg} C \geq 3\sqrt{3};$$

$$\operatorname{cotg} A + \operatorname{cotg} B + \operatorname{cotg} C \geq \sqrt{3}$$

علامت برابری، در هر چهار حالت، برای مثلث متساوی اضلاع).
مسئله ۲۵. اگر a, b, c و طول ضلع‌های يك مثلث باشند، ثابت کنید:

$$2abc < (a^2 + b^2 + c^2)(a + b + c) - 2(a^3 + b^3 + c^3) \leq 3abc$$

حل. ابتدا چند حکم لازم را ثابت می‌کنیم.

(۱) اگر α و β مجموعی برابر یا کوچکتر از $\frac{\pi}{2}$ داشته باشند، آن وقت

$$\sin \alpha \sin \beta \leq \frac{1}{2}$$

$\sin \alpha$ و $\sin \beta$ ، مقدارهایی مثبت‌اند، بنابراین با توجه به نابرابری بین
واسطه‌های هندسی و توافقی داریم:

$$\begin{aligned} \frac{2}{\frac{1}{\sin \alpha} + \frac{1}{\sin \beta}} &\leq \frac{1}{2}(\sin \alpha + \sin \beta) \Rightarrow \sin \alpha \sin \beta \leq \\ &\leq \frac{1}{4}(\sin \alpha + \sin \beta)^2 = \frac{1}{4} \left(2 \sin \frac{\alpha + \beta}{2} \cos \frac{\alpha - \beta}{2} \right)^2 = \\ &= \sin^2 \frac{\alpha + \beta}{2} \cos^2 \frac{\alpha - \beta}{2} \leq \sin^2 \frac{\alpha + \beta}{2} \leq \frac{1}{4} \end{aligned}$$

(۲) نابرابری $\cos A + \cos B + \cos C \leq \frac{3}{2}$ در هر مثلثی برقرار است
(یعنی لازم نیست، هر سه زاویه مثلث حاده باشند). یکی از زاویه‌های مثلث
 ABC ، مثلاً زاویه C را قائمه یا منفرجه می‌گیریم داریم:

$$\begin{aligned} \cos A + \cos B + \cos C &= \cos A + \cos B - \cos(A + B) = \cos A + \\ &+ \cos B - \cos A \cos B + \sin A \sin B = 1 + \sin A \sin B - \\ &- (1 - \cos A)(1 - \cos B) < 1 + \sin A \sin B \leq \frac{3}{2} \end{aligned}$$

(چون $\hat{A} + \hat{B} \leq 90^\circ$ ، پس $\sin A \sin B \leq \frac{1}{2}$ ؛ بخش ۱) را در حل
همین مسأله ببینید). بنابراین، برای درستی نابرابری

لازم $\cos A + \cos B + \cos C \leq \frac{3}{2}$ ، شرط حاده بودن همه زاویه‌های مثلث، لازم نیست.

(۳) در هر مثلث، مقدار $\cos A + \cos B + \cos C$ می‌تواند به دلخواه به واحد نزدیک شود، ولی برابر واحد (و به طور طبیعی، کوچکتر از واحد) نمی‌شود، یعنی در هر مثلث داریم: $\cos A + \cos B + \cos C > 1$.
خود نابرابری به سادگی به دست می‌آید. در واقع داریم:

$$\begin{aligned} \cos A + \cos B - (1 - \cos C) &= 2 \cos \frac{A+B}{2} \cos \frac{A-B}{2} - 2 \sin^2 \frac{C}{2} = \\ &= 2 \sin \frac{C}{2} \left(\cos \frac{A-B}{2} - \cos \frac{A+B}{2} \right) = 4 \sin \frac{A}{2} \sin \frac{B}{2} \sin \frac{C}{2} > 0 \end{aligned}$$

در ضمن، اگر فرض کنیم $\hat{C} = 90^\circ$ ، آن وقت $\hat{B} = 90^\circ - \hat{A}$ و هر چه زاویه A را کوچکتر بگیریم، مقدار $\cos A + \cos B + \cos C$ به واحد نزدیکتر می‌شود، ولی چون زاویه A نمی‌تواند برابر صفر باشد، این مجموع هم هرگز برابر واحد نمی‌شود.

اکنون به حل مسأله ۲۵ می‌پردازیم. در نابرابری‌های

$$1 < \cos A + \cos B + \cos C \leq \frac{3}{2}$$

که در هر مثلث ABC برقرار است، قرار دهید (قضیه کسینوس‌ها):

$$\cos A = \frac{b^2 + c^2 - a^2}{2bc}, \quad \cos B = \frac{c^2 + a^2 - b^2}{2ac},$$

$$\cos C = \frac{a^2 + b^2 - c^2}{2ab}$$

با اندکی عمل، نابرابری‌های مورد نظر به دست می‌آید.

□

حالا دیگر، همه چیز برای بیان و اثبات نابرابری پین سن آماده است.

ابتدا، يك تعريف را از هندسه تحلیلی به یاد می آوریم.
 تعريف. تابع $f(x)$ را در بازه $[a, b]$ محدب (یادقیق تر، با تحدیبی به سمت y های مثبت) گویند، وقتی که برای هر دو مقدار α و β از این بازه، داشته باشیم

$$f(\alpha) + f(\beta) \leq 2f\left(\frac{\alpha + \beta}{2}\right)$$

در حالت عکس، یعنی وقتی که برای هر دو مقدار α و β از بازه $[a, b]$ داشته باشیم:

$$f(\alpha) + f(\beta) \geq 2f\left(\frac{\alpha + \beta}{2}\right)$$

تابع $f(x)$ را در این بازه مقعر (یا با تحدیبی به سمت y های منفی) گویند.
 در هر دو حالت، برابری برای $\alpha = \beta$.

قضیه ۱۰ (قضیه ین سن). اگر $f(x)$ تابعی محدب در بازه $[a, b]$ ، و $\alpha_1, \alpha_2, \dots, \alpha_n$ عددهایی حقیقی از این بازه باشند، آن وقت

$$f(\alpha_1) + f(\alpha_2) + \dots + f(\alpha_n) \leq nf\left(\frac{\alpha_1 + \alpha_2 + \dots + \alpha_n}{n}\right)$$

و در حالت مقعر بودن تابع $f(x)$:

$$f(\alpha_1) + f(\alpha_2) + \dots + f(\alpha_n) \geq nf\left(\frac{\alpha_1 + \alpha_2 + \dots + \alpha_n}{n}\right)$$

در هر دو حالت، علامت برابری، برای $\alpha_1 = \alpha_2 = \dots = \alpha_n$.
 اثبات این قضیه را می توان با استقرای ریاضی و کاملاً شبیه اثبات قضیه ۹ انجام داد.

به کمک نابرابری ین سن می توان نابرابری های زیادی را به دست آورد.
 به این چند مثال توجه کنید.

مثال ۱. تابع $y = x^2$ در تمامی نقطه های محور عددی مقعر است، زیرا

$$\text{از نابرابری } f(a) + f(b) \geq 2f\left(\frac{a+b}{2}\right) \text{ به دست می آید:}$$

$$a^2 + b^2 \geq 2\left(\frac{a+b}{2}\right)^2 \Rightarrow (a-b)^2 \geq 0$$

که درستی آن روشن است و، درضمن، علامت برابری، تنها برای $a = b$ است. بنا بر این، با توجه به نابرابری ین سن برای تابع مقعر، نابرابری زیر، برای عددهای حقیقی a_1, a_2, \dots, a_n درست است:

$$a_1^2 + a_2^2 + \dots + a_n^2 \geq n \left(\frac{a_1 + a_2 + \dots + a_n}{n} \right)^2$$

مثال ۲. تابع $y = \sqrt{x}$ برای $x \geq 0$ محدب است (چرا؟). بنا بر این برای $a_i \geq 0$ این نابرابری درست است:

$$\sqrt{a_1} + \sqrt{a_2} + \dots + \sqrt{a_n} \leq n \sqrt{\frac{a_1 + a_2 + \dots + a_n}{n}}$$

مثال ۳. تابع $y = \log x$ برای $x > 0$ محدب است (چرا؟). بنا بر این

$$\log a_1 + \log a_2 + \dots + \log a_n \leq n \log \left(\frac{a_1 + a_2 + \dots + a_n}{n} \right), a_i > 0$$

که از آن می توان نتیجه گرفت

$$a_1 a_2 \dots a_n \leq \left(\frac{a_1 + a_2 + \dots + a_n}{n} \right)^n, a_i > 0$$

و این در واقع، همان نابرابری بین واسطه های حسابی و هندسی n عدد مثبت است.

تمرین

۹۱. اندازه های يك استخر روباز با حجم V چقدر باشد تا برای رنگ-

کردن دیواره ها و کف آن، حداقل رنگ مصرف شود؟

۹۲. از بین همه مکعب مستطیل هایی که قطری به طول d دارند، کدامیک

سطح جانبی بیشتری دارد؟

۹۳. دوزنقه ای بريك دایره محیط است. ثابت کنید طول قطر دایره،

از واسطه هندسی طول های دو قاعده دوزنقه تجاوز نمی کند. با چه شرطی، طول

قطر دایره، با واسطه هندسی طول های دو قاعده دوزنقه برابر می شود؟

۹۴. از بین همه چهاروجهی های $ABCD$ ، با قاعده مشترك ABC و

ارتفاع مفروض DH ، آن را پیدا کنید که مساحت کل آن، حداقل مقدار ممکن باشد.

۹۵. از دو نقطه A و B که در دو طرف خط راست d (واقع بر صفحه دو نقطه) قرار دارد، دایره‌ای بگذرانید که از خط راست d ، و تری با حداقل طول ممکن جدا کند.

۹۶. مستطیلی با حداکثر مساحت، در یک بیضی مفروض محاط کنید.

۹۷. روی ضلع‌های مستطیلی با محیط ثابت، نیم دایره‌هایی به قطر ضلع‌ها و در بیرون مستطیل رسم کرده‌ایم. حداقل مساحت شکل حاصل، برای کدام مستطیل است؟

۹۸. مثلث ABC مفروض است. از رأس A ، خط راست d را چنان بگذرانید که مجموع فاصله‌های از دو رأس B و C تا d ، حداقل یا حداکثر مقدار ممکن باشد.

۹۹. زاویه به رأس A و اندازه α مفروض است. می‌خواهیم دو نقطه B و C را روی ضلع‌های زاویه طوری انتخاب کنیم که مساحت مثلث ABC برابر مقدار مفروض S و طول ضلع BC ، حداقل مقدار ممکن باشد.

۱۰۰. a_1, a_2, \dots, a_n را عددهایی می‌گیریم که قدر مطلق هر کدام از آن‌ها، از واحد بزرگتر باشد. ($|a_i| > 1$). حداقل مجموع همه حاصل ضرب‌های دو به دو این عددها چقدر می‌تواند باشد؟

۱۰۱. α, β, γ زاویه‌های یک مثلث اند. حداقل

$$\frac{1}{\sin \alpha} + \frac{1}{\sin \beta} + \frac{1}{\sin \gamma}$$

چقدر است؟

۱۰۲. α, β, γ زاویه‌های یک مثلث اند. ثابت کنید:

$$\operatorname{tg} \frac{\alpha}{2} \cdot \operatorname{tg} \frac{\beta}{2} \cdot \operatorname{tg} \frac{\gamma}{2} \leq \frac{\sqrt{3}}{9}$$

۱۰۳. می‌دانیم $0^\circ < \alpha, \beta < 180^\circ$. حداکثر این عبارت را پیدا کنید:

$$\sin \alpha \sin \beta \sin(\alpha + \beta)$$

۱۰۴. A و B بر محیط دایره‌ای مفروض اند. نقطه C را روی محیط

دایره چگونه انتخاب کنیم که اولاً مساحت، ثانیاً محیط مثلث ABC حداکثر مقدار ممکن باشد.

۱۰۵. a, b و c عددهایی مثبت اند. مطلوب است حداقل تابع

$$y = \sqrt{x^2 + a} + \sqrt{(c-x)^2 + b}$$

۱۰۶. برای عددهای مثبت m, n, p و q می دانیم: $m < n$ و $p < q$.

حداقل مقدار تابع $y_1 = \sqrt{x^2 - 2mx + n^2} + \sqrt{x^2 - 2px + q^2}$ و

حداکثر مقدار تابع $y_2 = \sqrt{x^2 + 2mx + n^2} - \sqrt{x^2 - 2px + q^2}$ را

پیدا کنید.

۱۰۷. برای عدد مثبت a ، ثابت کنید: $100\sqrt{a^{99}} \geq 99a + 1$.

۱۰۸. ثابت کنید:

$$1) \quad 2 \times 4 \times 6 \times \dots \times (2n) < (n+1)^n,$$

$$2) \quad 1 \times 3 \times 5 \times \dots \times (2n-1) < n^n$$

فصل چهارم

روش‌ها و کاربردها

§ ۱. روش‌های اثبات نابرابری‌ها

همان‌طور که تا این‌جا دیده‌ایم، از همه روش‌ها و ابزارهای ریاضی می‌توان برای اثبات درستی نابرابری‌ها سود جست. مهم‌ترین و نیرومندترین این روش‌ها عبارت‌اند از: روش استقرای ریاضی، برهان خلف، روش مجذورهای کامل، روش هندسی، روش‌های هندسه تحلیلی، مشتق، انتگرال، ... درمساله‌ها و تمرین‌های گذشته، کم و بیش، از بیشتر این روش‌ها استفاده کرده‌ایم. در این‌جا، تنها به ذکر نمونه‌هایی می‌پردازیم که برای اثبات درستی نابرابری‌ها، از مشتق یا انتگرال استفاده می‌شود.



یکی از ساده‌ترین کاربردهای مشتق در اثبات نابرابری‌ها، به ویژگی تابع‌های صعودی یا نزولی و علامت مشتق آن‌ها مربوط می‌شود. قضیه لاگرانژ می‌گوید: اگر تابع f ، در هر نقطه بازه I ، مشتقی مثبت (منفی) داشته باشد، آن وقت f ، در این بازه صعودی (نزولی) است.

نتیجه روشن این قضیه (که در ضمن، تعمیم آن است) چنین است:

I . اگر در بازه (a, b) ، نابرابری $f'(x) < g'(x)$ برقرار باشد؛ در ضمن، تابع‌های f و g در نقطه a پیوسته باشند و داشته باشیم $f(a) \leq g(a)$ ، آن وقت در بازه (a, b) داریم: $f(x) < g(x)$.

قضیه اخیر را هم می توان به صورت زیر تعمیم داد:
 II. اگر در بازه (a, b) داشته باشیم: $f^{(n)}(x) < g^{(n)}(x)$ و در ضمن،
 تابع های f و g و مشتق های متوالی آنها تا مرتبه $(n-1)$ ، در نقطه a
 پیوسته باشند و داشته باشیم:

$$f(a) \leq g(a), f'(a) \leq g'(a), \dots, f^{(n-1)}(a) \leq g^{(n-1)}(a)$$

آن وقت در بازه (a, b) داریم: $f(x) < g(x)$.
 این قضیه، به خصوص، برای اثبات نابرابری هایی که، ضمن تبسديل
 تابع هایی مثل $\sin x, \cos x, e^{-x}, \ln(1+x)$ به رشته توانی، به دست می آیند،
 مفید است.

مثال ۱. ثابت کنید، معادله درجه چهارم

$$2x^4 - 4x^3 + 3x^2 + 4x + 1 = 0$$

برای $x > 0$ جواب ندارد.

حل. چند جمله ای سمت چپ برابری را $f(x)$ می نامیم. داریم:

$$f(x) = 2x^4 - 4x^3 + 3x^2 + 4x + 1,$$

$$f'(x) = 8x^3 - 12x^2 + 6x + 4,$$

$$f''(x) = 24x^2 - 24x + 6 = 6(2x - 1)^2 \geq 0$$

چون $f''(x)$ غیر منفی است، بنابراین $f'(x)$ صعودی است؛ در ضمن
 $f'(x)$ در نقطه $x = 0$ پیوسته است و داریم $f'(0) = 4 > 0$ ، بنا بر این
 $f'(x)$ ، به ازای مقدارهای مثبت x ، همیشه مثبت است. یعنی $f(x)$ ، در بازه
 $[0, \infty)$ صعودی است و چون $f(0) = 1 > 0$ ، پس $f(x)$ ، برای همه
 مقدارهای مثبت x ، مثبت است:

$$2x^4 - 4x^3 + 3x^2 + 4x + 1 > 0 \quad (x > 0)$$

و معادله $f(x) = 0$ ، ریشه مثبت ندارد.

مثال ۲. به شرط $x > 0$ ، درستی این نابرابری را ثابت کنید:

$$x - \frac{x^3}{3} < \arctg x$$

حل. فرض می‌کنیم $f(x) = x - \frac{x^3}{3}$ و $g(x) = \arctg x$. داریم:

$$f'(x) = 1 - x^2, \quad g'(x) = \frac{1}{1+x^2}$$

برای $x > 0$ داریم $1 - x^2 < \frac{1}{1+x^2}$ ، زیرا به سادگی منجر به نابرابری روشن

$x^4 > 0$ می‌شود. چون $f'(x) < g'(x)$ و چون $f(x)$ و $g(x)$ در نقطه

$x = 0$ پیوسته‌اند، بنا بر این، در بازه $(0, \infty)$ داریم: $f(x) < g(x)$.

□

در § ۲ فصل دوم، هفت روش اثبات، برای درستی نابرابری بین واسطه‌های حسابی و هندسی آورديم. اکنون چند اثبات دیگر، که بر اساس استفاده از ویژگی‌های مشتق قرار دارند، همچنین، اثبات تازه‌ای برای نابرابری ین‌سن، با استفاده از مشتق می‌آوریم.

۱. اثبات‌هایی برای درستی نابرابری واسطه‌های حسابی و هندسی.

اثبات هشتم. قبلاً دو نکته را یادآوری کنیم. تابع $f(x) = x^{\frac{1}{e}}$ ، برای $x > 0$ معین است و در نقطه $x = e$ به حداکثر مقدار خود می‌رسد. در واقع داریم:

$$\ln f(x) = \frac{1}{x} \ln x; \quad \frac{f'(x)}{f(x)} = -\frac{1}{x^2} \ln x + \frac{1}{x^2} = \frac{1}{x^2} (1 - \ln x)$$

چون $f(x) > 0$ ، پس اگر $f'(x) = 0$ ، آن وقت $\ln x = 1$ ، یعنی $x = e$. در ضمن اگر $x < e$ ، آن وقت $f'(x) > 0$ و اگر $x > e$ ، آن وقت $f'(x) < 0$.

چون به ازای $x = e$ ، به حداکثر مقدار تابع $f(x)$ می‌رسیم، می‌توان

نوشت:

$$f(e) \geq f(x) \implies e^{\frac{1}{e}} \geq x^{\frac{1}{x}} \implies e^* \geq x^e \quad (*)$$

n عدد مثبت a_1, a_2, \dots, a_n را در نظری می‌گیریم و، طبق معمول، واسطه حسابی آن‌ها را A_n و واسطه هندسی آن‌ها را G_n می‌نامیم. اکنون، در نابرابری (*)، به جای x ، به ترتیب $\frac{a_1 e}{G_n}$ ، $\frac{a_2 e}{G_n}$ ، \dots ، $\frac{a_n e}{G_n}$ قرار می‌دهیم. از حاصل ضرب نابرابری‌های حاصل، به دست می‌آید:

$$e^{\frac{a_1 e}{G_n} + \frac{a_2 e}{G_n} + \dots + \frac{a_n e}{G_n}} \geq \left(\frac{a_1 e}{G_n} \cdot \frac{a_2 e}{G_n} \dots \frac{a_n e}{G_n} \right)^e \quad (**)$$

از آن جا که $a_1 + a_2 + \dots + a_n = nA_n$ و $a_1 a_2 \dots a_n = G_n^n$ ، بنا بر این، نابرابری (***) به این صورت درمی‌آید:

$$e^{\frac{neA_n}{G_n}} \geq \left(\frac{e^n G_n^n}{G_n^n} \right)^e = e^{ne}$$

یعنی $\frac{neA_n}{G_n} \geq ne$ و از آن جا $A_n \geq G_n$. علامت برابری تنها وقتی برقرار است که همه مقادارهایی که به جای x در (*) گذاشته‌ایم، برابر e باشند، یعنی

$$\frac{a_1 e}{G_n} = \frac{a_2 e}{G_n} = \dots = \frac{a_n e}{G_n} = e \implies a_1 = a_2 = \dots = a_n$$

اثبات نهم. همان طور که در اثبات هشتم دیدیم، برای به کار گرفتن ویژگی‌های مشتق در اثبات نابرابری بین واسطه‌های حسابی و هندسی، باید از یک تابع کمکی یاری گرفت. این تابع را در نظری می‌گیریم:

$$\begin{aligned} f(x) &= \frac{1}{n} G_n \left[\left(\frac{a_1}{G_n} \right)^x + \left(\frac{a_2}{G_n} \right)^x + \dots + \left(\frac{a_n}{G_n} \right)^x \right] = \\ &= \frac{1}{n} G_n \sum_{i=1}^n \left(\frac{a_i}{G_n} \right)^x \end{aligned}$$

روشن است که، در این صورت داریم:

$$f(1) = \frac{1}{n} G_n \left(\frac{a_1 + a_2 + \dots + a_n}{G_n} \right) =$$

$$= \frac{a_1 + a_2 + \dots + a_n}{n} = A_n;$$

$$f(0) = \frac{1}{n} G_n (1 + 1 + \dots + 1) = G_n$$

به این ترتیب، باید ثابت کنیم: $f(1) \geq f(0)$;
از تابع $f(x)$ ، دو بار مشتق می‌گیریم:

$$f'(x) = \frac{1}{n} G_n \left[\left(\frac{a_1}{G_n} \right)^x \ln \left(\frac{a_1}{G_n} \right) + \left(\frac{a_2}{G_n} \right)^x \ln \left(\frac{a_2}{G_n} \right) + \dots \right. \\ \left. \dots + \left(\frac{a_n}{G_n} \right)^x \ln \left(\frac{a_n}{G_n} \right) \right] = \frac{1}{n} G_n \sum_{i=1}^n \left[\left(\frac{a_i}{G_n} \right)^x \ln \left(\frac{a_i}{G_n} \right) \right];$$

$$f''(x) = \frac{1}{n} G_n \sum_{i=1}^n \left[\left(\frac{a_i}{G_n} \right)^x \cdot \ln^2 \left(\frac{a_i}{G_n} \right) \right]$$

بنابراین روشن است که

$$f'(0) = \frac{1}{n} G_n \sum_{i=1}^n \ln \left(\frac{a_i}{G_n} \right) = \frac{1}{n} G_n \ln \frac{a_1 a_2 \dots a_n}{G_n^n} = \\ = \frac{1}{n} G_n \ln 1 = 0; \quad f''(x) \geq 0$$

چون f'' در بازه $[0, \infty)$ غیر منفی است، بنابراین f' در این بازه، صعودی است؛ ولی $f'(0) = 0$ ، یعنی $f'(x)$ در بازه $[0, \infty)$ غیر منفی است و این، به معنای آن است که تابع $f(x)$ ، در این بازه صعودی است و باید داشته باشیم: $f(1) \geq f(0)$.

۲. اثبات نابرابری یین سن به کمک مشتق

$f(x)$ را تابعی می‌گیریم که در بازه (a, b) تقری به سمت y های منفی داشته باشد، یعنی در این بازه داشته باشیم $f''(x) < 0$. بنابراین $f(x)$ در بازه (a, b) نزولی است. اکنون، با فرض $a < x_i < b$ و $A = \frac{1}{n} \sum_{i=1}^n x_i$

این تابع را در نظر می‌گیریم:

$$g(x) = f(x) - xf'(A)$$

برای مشتق این تابع داریم: $g'(x) = f'(x) - f'(A)$. چون $f'(x)$ نزولی است، $g'(x)$ هم نزولی می‌شود؛ در ضمن در نقطه $x = A$ داریم $g'(A) = 0$ ، یعنی $g(x)$ در نقطه $x = A$ به حداکثر مقدار خود، در بازه (a, b) ، می‌رسد. به این ترتیب

$$f(x) - xf'(A) \leq f(A) - Af'(A)$$

اکنون، اگر در این نابرابری، به ترتیب، مقادیرهای x_1, x_2, \dots, x_n را به جای x قرار دهیم ($a < x_i < b$) و نابرابری‌های حاصل را با هم جمع کنیم، به دست می‌آید:

$$\begin{aligned} f(x_1) + f(x_2) + \dots + f(x_n) - (x_1 + x_2 + \dots + x_n)f'(A) &\leq \\ &\leq nf(A) - nAf'(A) \end{aligned}$$

که با توجه به برابری $x_1 + x_2 + \dots + x_n = nA$ نتیجه می‌شود:

$$\frac{f(x_1) + f(x_2) + \dots + f(x_n)}{n} \leq f\left(\frac{x_1 + x_2 + \dots + x_n}{n}\right)$$

۳. یاری انتگرال به اثبات نابرابری‌ها

استفاده از مفهوم انتگرال در اثبات نابرابری‌ها، بر اساس قضیه ساده و روشن زیر است.

تابع‌های $f(x)$ و $g(x)$ در بازه $[a, b]$ پیوسته می‌گیریم و فرض می‌کنیم، همه جا، در این بازه داشته باشیم: $f(x) \leq g(x)$. در این صورت، به شرط $x \in [a, b]$ داریم:

$$\int_a^x f(t) dt \leq \int_a^x g(t) dt$$

اگر بدانیم، برای مقداری مثل x_0 از بازه $[a, b]$ ، نابرابری اکید $f(x_0) < g(x_0)$ برقرار باشد، آن وقت برای $x > x_0$ و $x \in [a, b]$ ،

خواهیم داشت.

$$\int_a^x f(t) dt < \int_a^x g(t) dt$$

بنابر این، اگر قرار باشد، نابرابری $F(x) \leq G(x)$ (با $a \leq x < b$) ثابت کنیم، می‌توان، ابتدا نابرابری مقناظر آن را برای $f(x) = F'(x)$ و $g(x) = G'(x)$ ثابت کرد که، در این صورت، خواهیم داشت:

$$\int_a^x f(t) dt \leq \int_a^x g(t) dt$$

سمت چپ و سمت راست نابرابری اخیر یا، به ترتیب، منطبق بر $F(x)$ و $G(x)$ هستند، و یا با آن‌ها در مقدار ثابتی اختلاف دارند. به مثال پردازیم. مثال. درستی این نابرابری‌ها را ثابت کنید:

$$1 - \frac{x^2}{2!} \leq \cos x \leq 1 - \frac{x^2}{2!} + \frac{x^4}{4!}$$

حل. می‌دانیم، برای $0 \leq x < \infty$ داریم $\sin x \leq x$. بنابر این

$$\int_0^x \sin t dt \leq \int_0^x t dt$$

که از آن جا به دست می‌آید:

$$-\cos t \Big|_0^x \leq \frac{1}{2} t^2 \Big|_0^x \Rightarrow -\cos x + 1 \leq \frac{x^2}{2}$$

یعنی $1 - \frac{x^2}{2} \leq \cos x$. نابرابری سمت چپ ثابت شد.

اگر از همین نابرابری، که ثابت کردیم، استفاده کنیم، باید داشته باشیم:

$$\int_0^x \cos t dt \geq \int_0^x \left(1 - \frac{t^2}{2}\right) dt$$

که از آن جا نتیجه می‌شود: $\sin x \geq x - \frac{x^3}{3!}$ (که خود، يك نابرابری جالب

است). با توجه به نابرابری اخیر، داریم:

$$\int_0^x \sin t dt \geq \int_0^x \left(t - \frac{t^3}{3!}\right) dt \Rightarrow \cos x \leq 1 - \frac{x^2}{2!} + \frac{x^4}{4!}$$

۲۵. کاربردها

نیازی به بحث طولانی درباره کاربرد نابرابری‌ها نیست. ضمن مساله‌ها، مثال‌ها، و تمرین‌ها دیدیم که، به کمک نابرابری‌ها، می‌توان کمیت‌ها را ارزیابی کرد، حداکثر یا حداقل تابع‌ها را به دست آورد، ضریب‌های معادله را به دست آورد، وجود یا عدم وجود ریشه را برای معادله‌ها پیش‌بینی کرد، در حل مساله‌های هندسی توانا تر بود، ...

مثال ۱. ثابت کنید: $\frac{1}{n+1} < \ln\left(1 + \frac{1}{n}\right) < \frac{1}{n}$

حل. به کمک این نابرابری، می‌توان مقدار بعضی لگاریتم‌ها را ارزیابی

کرد. مثلاً، برای $\ln 1/01$ به دست می‌آید: $\frac{1}{101} < \ln 1/01 < \frac{1}{100}$

برای اثبات، از نابرابری

$$\left(1 + \frac{1}{n}\right)^n < e < \left(1 + \frac{1}{n}\right)^{n+1}$$

(فصل اول را ببینید) استفاده می‌کنیم. از این نابرابری، با لگاریتم گرفتن به -

دست می‌آید:

$$n \ln\left(1 + \frac{1}{n}\right) < 1 < (n+1) \ln\left(1 + \frac{1}{n}\right)$$

که از نابرابری سمت چپ آن به دست می‌آید $\ln\left(1 + \frac{1}{n}\right) < \frac{1}{n}$ و از

نابرابری سمت راست آن $\frac{1}{n+1} < \ln\left(1 + \frac{1}{n}\right)$ ، یعنی

$$\frac{1}{n+1} < \ln\left(1 + \frac{1}{n}\right) < \frac{1}{n}$$

مثال ۲. دنباله $\{a_n\}$ را با این تعریف در نظر می‌گیریم:

$$a_1 = 1 + \frac{1}{2}, \quad a_2 = \frac{1}{2} + \frac{1}{3} + \frac{1}{4}, \quad a_3 = \frac{1}{3} + \frac{1}{4} + \frac{1}{5} + \frac{1}{6},$$

$$a_4 = \frac{1}{4} + \frac{1}{5} + \frac{1}{6} + \frac{1}{7} + \frac{1}{8}, \quad \dots, \quad a_n = \frac{1}{n} + \frac{1}{n+1} + \dots + \frac{1}{2n}$$

مطلوب است محاسبه a_n حد $n \rightarrow \infty$.

حل. از نابرابری سمت راست مثال قبلی، به دست می‌آید:

$$\ln \frac{n+1}{n} < \frac{1}{n}$$

و از نابرابری سمت چپ آن، با تبدیل n به $n-1$:

$$\frac{1}{n} < \ln \frac{n}{n-1}$$

$$\text{به این ترتیب: } \ln \frac{n+1}{n} < \frac{1}{n} < \ln \frac{n}{n-1}$$

اگر در این نابرابری‌ها، n را به ترتیب به $n+1, n+2, \dots, 2n$

تبدیل کنیم، این نابرابری‌ها به دست می‌آید:

$$\ln \frac{n+1}{n} < \frac{1}{n} < \ln \frac{n}{n-1}$$

$$\ln \frac{n+2}{n+1} < \frac{1}{n+1} < \ln \frac{n+1}{n}$$

$$\ln \frac{n+3}{n+2} < \frac{1}{n+2} < \ln \frac{n+2}{n+1}$$

.....

$$\ln \frac{2n+1}{2n} < \frac{1}{2n} < \ln \frac{2n}{2n-1}$$

از مجموع این نابرابری‌ها، با توجه به ویژگی مجموع لگاریتم‌ها (مجموع لگاریتم‌های چند عدد برابر است با لگاریتم حاصل ضرب آن‌ها)، پس از ساده کردن، به دست می‌آید:

$$\ln \frac{2n+1}{n} < a_n < \ln \frac{2n}{n-1}$$

از طرف دیگر داریم:

$$\lim_{n \rightarrow \infty} \frac{2n+1}{n} = 2 \quad , \quad \lim_{n \rightarrow \infty} \frac{2n}{n-1} = 2$$

در نتیجه، روشن است که $\lim_{n \rightarrow \infty} a_n = \ln 2$ یا

$$\lim_{n \rightarrow \infty} \left(\frac{1}{n} + \frac{1}{n+1} + \dots + \frac{1}{2n} \right) = \ln 2$$

مثال ۳. این مجموع را محاسبه کنید (مجموع جمله‌های یک رشته

نامتناهی):

$$S = 1 - \frac{1}{2} + \frac{1}{3} - \frac{1}{4} + \frac{1}{5} - \frac{1}{6} + \dots + (-1)^{n-1} \cdot \frac{1}{n} + \dots$$

حل. مجموع‌های جزئی این رشته را در نظر می‌گیریم:

$$x_1 = 1 \quad , \quad x_2 = 1 - \frac{1}{2} \quad , \quad x_3 = 1 - \frac{1}{2} + \frac{1}{3} \quad , \dots$$

$$\dots \quad x_n = 1 - \frac{1}{2} + \frac{1}{3} - \frac{1}{4} + \dots + \frac{(-1)^{n-1}}{n}$$

به این ترتیب: $S = \lim_{n \rightarrow \infty} x_n$. به ترتیب داریم:

$$x_{2n} = 1 - \frac{1}{2} + \frac{1}{3} - \frac{1}{4} + \dots + \frac{1}{2n-1} - \frac{1}{2n} = \left(1 + \frac{1}{2} + \frac{1}{3} + \dots \right. \\ \left. \dots + \frac{1}{2n} \right) - 2 \left(\frac{1}{2} + \frac{1}{4} + \frac{1}{6} + \dots + \frac{1}{2n} \right) = \left(1 + \frac{1}{2} + \frac{1}{3} + \dots + \frac{1}{2n} \right) -$$

$$-\left(1 + \frac{1}{2} + \frac{1}{3} + \dots + \frac{1}{n}\right) = \frac{1}{n+1} + \frac{1}{n+2} + \dots + \frac{1}{2n}$$

بنابراین، $x_{2n} = a_{2n} - \frac{1}{n}$ ، در آن

$$a_{2n} = \frac{1}{n} + \frac{1}{n+1} + \frac{1}{n+2} + \dots + \frac{1}{2n}$$

که با توجه به مثال ۲، به دست می آید $x_{2n} = \ln 2$ به همین ترتیب

$$\lim_{n \rightarrow \infty} x_{2n+1} = \lim_{n \rightarrow \infty} \left(x_{2n} + \frac{1}{2n+1}\right) = \ln 2$$

بنابراین $\lim_{n \rightarrow \infty} x_n = \ln 2 = S$.

مجموع S ، يك رشته مقادیر را تشکیل می دهد، زیرا حد آن برابر مقدار معین $\ln 2$ است.

یادداشت. به سادگی می توان ثابت کرد که رشته توافقی، یعنی

$$\sum_n = 1 + \frac{1}{2} + \frac{1}{3} + \dots + \frac{1}{n} + \dots$$

متباعد است، یعنی وقتی $n \rightarrow \infty$ ، به سمت حد معینی میل نمی کند. در واقع، اگر در نابرابری

$$\frac{1}{n} > \ln \frac{n+1}{n}$$

(مثال ۲ را ببینید)، به ترتیب عددهای ۱، ۲، ...، n را به جای n قرار دهیم و نابرابری های حاصل را باهم جمع کنیم، به دست می آید:

$$\sum_n = 1 + \frac{1}{2} + \frac{1}{3} + \dots + \frac{1}{n} > \ln(n+1)$$

و در نتیجه $\lim_{n \rightarrow \infty} \sum_n > \lim_{n \rightarrow \infty} \ln(n+1) = \infty$

درستی این نابرابری‌ها را ثابت کنید:

$$\cdot (x > a > 0) \sqrt[n]{x} - \sqrt[n]{a} < \sqrt[n]{x-a} \cdot 109$$

$$\cdot (0 \leq \alpha \leq 1 \text{ و } |x| < 1) (1+x)^\alpha + (1-x)^\alpha \geq 2 \cdot 110$$

$$\cdot (a \neq b \text{ و } a > b > 0) \left(\frac{a+b}{2} \right)^n < \frac{a^n + b^n}{2} \cdot 111$$

$$\cdot (x > 0) \ln(1+x) < x \cdot 112$$

$$\cdot (0 < x < 1) e^{2x} < \frac{1+x}{1-x} \cdot 113$$

$$\cdot (x > 0) 1 + \frac{x}{2} - \frac{x^2}{8} < \sqrt{1+x} < 1 + \frac{x}{2} \cdot 114$$

$$\cdot (x < 0) e^{-x} > 1 - x \cdot 115$$

$$\cdot \left(0 < x < \frac{\pi}{2} \right) x + \frac{x^3}{3} < \operatorname{tg} x \cdot 116$$

$$\cdot (x > 0) x - \frac{x^3}{3!} < \sin x < x - \frac{x^3}{3!} + \frac{x^5}{5!} \cdot 117$$

$$\cdot (x > 0) x - \frac{x^2}{2} < \ln(1+x) < x - \frac{x^2}{2} + \frac{x^3}{3} \cdot 118$$

$$\cdot \int_0^1 \frac{\operatorname{arctg} x}{\sin x} dx > \frac{1}{9} \quad \text{ثابت کنید: } 119$$

120. ثابت کنید، به شرط $\alpha > 1$ ، این رشته متقارب است

$$1 + \frac{1}{2^\alpha} + \frac{1}{3^\alpha} + \dots + \frac{1}{n^\alpha} + \dots$$

$$\cdot \ln(1+x) \geq \frac{2x}{x+2} \quad \text{برای } x \geq 0 \text{ ثابت کنید: } 121$$

۰۱۲۲. برای $x \geq 0$ ثابت کنید: $e^x \geq 1 + x + \frac{x^2}{2}$.

۰۱۲۳. برای $n \in \mathbb{Z}$ ، مطلوب است n ، به شرطی که داشته باشیم:

$$2n + 3 < \ln(n^2 + 9)$$

۰۱۲۴. آیا برای x در بازه $\left[0, \frac{\pi}{2}\right]$ می توان مقاداری پیدا کرد که

درنا برابری زیر صدق کند:

$$3x - \operatorname{tg} x > \frac{7}{4}$$

۰۱۲۵. کدام بزرگترند:

(۱) $2\sqrt{3}$ یا $\sqrt{3} + \sqrt{3} + \sqrt{3} - \sqrt{3}$

(۲) $\log_5 6$ یا $\log_6 5$

(۳) 10001000 یا 1000010001

(۴) $1 + \cos 1371$ یا $\cos 1370$

(۵) $3 \operatorname{tg} 6^\circ \operatorname{tg} 10^\circ$ یا $4 \operatorname{tg} 5^\circ \operatorname{tg} 9^\circ$

(۶) $\sin^2 2^\circ + \sin^2 3^\circ$ یا $\sin^2 1^\circ + \sin^2 4^\circ$ ؟

(۷) محیط مثلث یا مجموع میانه های آن؛

(۸) $\left(0 < \alpha < \frac{\pi}{2}\right)$ 12500 یا $7^7 \sin^4 \alpha \cos^1 \alpha$

(۹) 5553555 یا 555553 (۱۰) 2321 یا 2123

(۱۱) $e^{2\pi}$ یا $e^\pi \pi^\pi$

(۱۲) \sqrt{x} یا $\sqrt{x-1} + \sqrt{x(\sqrt{x-1})}$

(۱۳) $\left(0 < x < \frac{\pi}{2}\right) \frac{x}{\sin x}$ یا $\frac{\operatorname{tg} x}{x}$

$$\frac{1}{5} \text{ یا } \operatorname{tg} 11^\circ \quad (14)$$

$$\int_{-2}^2 \operatorname{arc} \operatorname{tg} x dx \quad \text{یا} \quad \int_{-2}^2 \operatorname{arc} \operatorname{tg} x dx \quad (15)$$

۰۱۲۶. به شرط $0 \leq x \leq \frac{\pi}{2}$ ثابت کنید:

$$x - \sin x \leq 1 - \cos x \leq x\sqrt{2} - \sin x$$

۰۱۲۷. به شرط $\frac{\pi}{6} < x < \frac{\pi}{2}$ ، ثابت کنید:

$$\ln(\sqrt{2} \sin x) > \frac{1}{2} x(\pi - x) - \frac{5}{22} \pi^2$$

۰۱۲۸. به شرط $x \geq 0$ ، ثابت کنید:

$$x - \frac{x^2}{2} + \frac{x^3}{3} - \dots + \frac{x^{2n+1}}{2n+1} - \frac{x^{2n+2}}{2n+2} \leq \ln(1+x) \leq$$

$$\leq x - \frac{x^2}{2} + \frac{x^3}{3} - \dots + \frac{x^{2n+1}}{2n+1}$$

۰۱۲۹. به شرط $0 \leq x < \frac{\pi}{2}$ ، ثابت کنید:

$$\ln \cos x \leq -\frac{1}{2} x^2$$

۰۱۳۰. به شرط $0 \leq x \leq \frac{\pi}{2}$ ، ثابت کنید:

$$\sin x \leq \frac{1}{2} x(\pi - x)$$

۰۱۳۱. به شرط $0 \leq x < \frac{\pi}{2}$ ، ثابت کنید:

$$\cos x + \ln \cos x \leq 1 - x^2$$

۱۳۲. می دانیم $a < \sqrt{N} < a+1$. ثابت کنید:

$$\frac{a(a^2 + 3N)}{3a^2 + N} < \sqrt{N} < \frac{(a+1)[(a+1)^2 + 3N]}{3(a+1)^2 + N}$$

۱۳۳. می دانیم $a < \sqrt[3]{N} < a+1$. ثابت کنید:

$$\frac{a(a^3 + 2N)}{2a^3 + N} < \sqrt[3]{N} < \frac{(a+1)[(a+1)^3 + 2N]}{2(a+1)^3 + N}$$

۱۳۴. می دانیم دوریسه از معادله با ضریب‌های درست

$$A_n x^n + A_{n-1} x^{n-1} + \dots + A_1 x + A_0 = 0$$

$x_1 = 1$ و $x_2 = 2$ است. ثابت کنید، دست کم یکی از ضریب‌های A_i ($i = 0, 1, 2, \dots, n$) از -2 تجاوز نمی‌کند.

۱۳۵. به شرط $x \geq 0$ ، ثابت کنید:

$$\frac{2x}{x+2} \leq \ln(x+1) \leq \frac{2(x+1)}{x+3}$$

۱۳۶. عددی طبیعی، دارای دو مقسوم علیه اول است؛ در ضمن بانصف

مجموع همه مقسوم علیه‌های خود، برابر شده است. همه این گونه عددها را پیدا کنید.

۱۳۷. ثابت کنید، برای عدد طبیعی $n \geq 2$ ، داریم:

$$\frac{2^3 + 1}{2^2 - 1} \cdot \frac{3^3 + 1}{3^2 - 1} \cdots \frac{n^3 + 1}{n^2 - 1} < \frac{3}{2}$$

۱۳۸. می دانیم $a_0, a_1, \dots, a_{2n+1}$ عددهایی مثبت‌اند و، در

ضمن، به همین ردیف، تشکیل یک تصاعد حسابی صعودی می‌دهند. ثابت کنید:

$$\frac{n}{a_1 a_{2n+1}} < \frac{1}{a_1 a_2} + \frac{1}{a_2 a_3} + \dots + \frac{1}{a_{2n-1} a_{2n}} < \frac{n}{a_0 a_{2n}}$$

۱۳۹. حداقل حجم مخروطی را پیدا کنید که بر کره مفروضی محیط

شده است.

۰۱۴۰. در هرم $SABC$ می‌دانیم: $|AB| = |AC| = |SB| = |SC|$ و $|BC| = |SA|$. مساحت مثلث ABC ، برابر است با ۱. زاویه \widehat{BAC} چقدر باشد تا حجم هرم، به حداکثر مقدار خود برسد؟

۰۱۴۱. در هرم منتظمی با قاعده مثلثی، هریال جانبی برابر ۱، و زاویه دو وجهی مجاور قاعده، برابر α است. به ازای چه مقداری از α ، حجم هرم به حداکثر مقدار خود می‌رسد؟

۰۱۴۲. در هرم $SABCD$ ، یال SD بر قاعده $ABCD$ عمود است، می‌دانیم $ABCD$ یک مستطیل است و $|BC| = |SC| = ۱$ و $\widehat{SBA} = \alpha$ حداکثر حجم هرم به ازای چه مقداری از α به دست می‌آید؟

۰۱۴۳. در چهار وجهی $SABC$ می‌دانسیم: $|AB| = |BC|$ ، $\widehat{ABC} = 2\alpha$. هریال جانبی هرم، با صفحه قاعده، زاویه‌ای برابر α می‌سازد و طولی برابر ۱ دارد. به ازای چه مقداری از α ، حداکثر حجم برای چهار وجهی به دست می‌آید؟

۰۱۴۴. در مثلث قائم الزاویه ABC ($\widehat{C} = 90^\circ$) می‌دانیم $\widehat{A} = 60^\circ$. مثلث متساوی‌الاضلاعی در این مثلث محاط کنید که طول ضلع آن، حداقل مقدار ممکن باشد (رأس‌های مثلث محاطی، روی ضلع‌های مختلف مثلث ABC است).
۰۱۴۵. می‌دانیم $1 = \log_{\frac{1}{3}} a \cdot \log_{\frac{1}{3}} b$ و $0 < a, b < 1$. حداقل و

حداکثر مقدار ab چقدر می‌تواند باشد؟

۰۱۴۶. می‌دانیم $x + y + z = 2$ و $xy + xz + yz = 1$. ثابت کنید، هریک از اعدادهای x ، y و z به بازه $\left[0, \frac{4}{3}\right]$ تعلق دارند.

۰۱۴۷. مطلوب است حداقل تابع $y = \frac{a - b \sin \alpha}{\cos \alpha}$ ($a > b > 0$)
$$0 < \alpha < \frac{\pi}{2}$$

۰۱۴۸. مطلوب است حداکثر تابع $y = a\sqrt{\sin \alpha} + b\sqrt{\cos \alpha}$
$$0 < \alpha < \frac{\pi}{2}; a, b > 0$$

۱۴۹. مطلوب است حداقل مقدار تابع $f(x, y) = \frac{y}{x}$ در مجموعه

نقطه‌های (x, y) ، که در معادله $\sqrt{x-1} + \sqrt{y-1} = 1$ صدق کنند.

۱۵۰. با شرط $x^4 + y^4 = 1$ ، به ازای چه عددهای x و y ، مقدار

$x^9 + y^9$ به حداکثر مقدار خود می‌رسد؟

۱۵۱. مطلوب است حداقل مقدار تابع $y = ax^m + \frac{b}{x^n}$ برای عددهای

مثبت x ($a, b > 0$; m و n عددهایی طبیعی).

۱۵۲. می‌دانیم $\sum_{i=1}^n a_i = 1$ ، $\sum_{i=1}^n b_i = 1$ و $a_i > 0$ ، $b_i > 0$

$(i = 1, 2, \dots, n)$. ثابت کنید $\sum_{i=1}^n \frac{a_i^2}{b_i} \geq 1$.

۱۵۳. مسیرهای AB و CB در نقطه B بهم رسیده‌اند و باهم زاویه‌ای

برابر β ساخته‌اند؛ در ضمن $|AB| = a$. متحرکی از A به طرف B با سرعت

v_1 ، و همزمان با او، متحرک دیگری از B به طرف C با سرعت v_2 به‌راه

افتادند. بعد از چه مدت، فاصله بین آنها، به حداقل مقدار خود می‌رسد؟

۱۵۴. مقطع عرضی يك کانال آب، به‌شکل ذوزنقه متساوی‌الساقینی است

که مساحتی برابر S و زاویه مجاور قاعده بزرگتر برابر α دارد. عمق کانال

چقدر باشد تا مقاومت اصطکاک جدار کانال در مقابل آب، حداقل مقدار ممکن

باشد؟

۱۵۵. عددی طبیعی است؛ مطلوب است حداقل مقدار تابع

$$f(x) = \left(\frac{1 + \sin^2 x}{\sin^2 x} \right)^n + \left(\frac{1 + \cos^2 x}{\cos^2 x} \right)^n$$

۱۵۶. می‌دانیم: $a_1 < a_2 < \dots < a_k < a_{k+1} < \dots < a_n$. ثابت

کنید:

$$\frac{a_1 + a_2 + \dots + a_k}{k} < \frac{a_1 + a_2 + \dots + a_n}{n} < \frac{a_{k+1} + a_{k+2} + \dots + a_n}{n-k}$$

۱۵۷. می‌دانیم $x+y+z=a$ و $xy+xz+yz=b$. ثابت کنید:

$$\max(x, y, z) - \min(x, y, z) \leq \frac{4}{3} \sqrt{a^2 - 3b}$$

۱۵۸. ثابت کنید، برای $0 < \alpha \leq \frac{\pi}{4}$ داریم:

$$\frac{2}{\alpha}(1 - \cos \alpha) < (2 - \sqrt{2}) \sin \frac{\alpha}{4} + \sin \alpha$$

$$\frac{\cos^2 \alpha + \cos^2 \beta}{\sin^2 \alpha + \sin^2 \beta} \leq \frac{1}{4} (\cot^2 \alpha + \cot^2 \beta) \quad \text{ثابت کنید: ۱۵۹}$$

۱۶۰. مطلوب است، حداقل مقدار تابع

$$y = (x-1)(x-2)(x-5)(x-6) + 9$$

۱۶۱. با فرض $0 < x < \frac{\pi}{4}$ ، ماکزیم و می‌نیم تابع $y = \frac{\operatorname{tg}^3 x}{\operatorname{tg}^3 x}$ را

پیدا کنید.

۱۶۲. α, β, γ زاویه‌های یک مثلث و زاویه‌هایی حاده‌اند. ثابت کنید:

$$1) \cos \alpha \cos \beta \cos \gamma \leq \frac{1}{8}; \quad 2) \frac{1}{\cos \alpha} + \frac{1}{\cos \beta} + \frac{1}{\cos \gamma} \geq 6;$$

$$3) \operatorname{tg}^2 \alpha + \operatorname{tg}^2 \beta + \operatorname{tg}^2 \gamma \geq 9$$

۱۶۳. روی صفحه مختصاتی، نقطه‌های با مختصات درست را علامت

گذاشته‌ایم. مرعی که شامل هیچ کدام از این نقطه‌ها نباشد، حداکثر چه مساحتی دارد؟

۱۶۴. باروش استقرای ریاضی ثابت کنید $(n \in \mathbb{N})$:

$$1) 2^n > n^2 \quad (n \geq 5); \quad 2) 2^n > n^3 \quad (n \geq 10);$$

$$3) \frac{1}{\sqrt{1}} + \frac{1}{\sqrt{2}} + \dots + \frac{1}{\sqrt{n}} > \sqrt{n} \quad (n > 1)$$

۱۶۵. قطاعی از دایره به شعاع R مفروض است. اگر زاویه مرکزی این

قطاع برابر α باشد، مستطیلی در آن محاط کنید که حداکثر مساحت را داشته باشد.

۱۶۶. a, b, c طول ضلع های يك مثلث غير مشخص اند. ثابت کنید:

$$a^2b(a-b) + b^2c(b-c) + c^2a(c-a) \geq 0$$

علامت برابری مربوط به چه مثلثی است؟

۱۶۷. يك چهارضلعی درعین حال می تواند در يك دایره محاط بر

دایره دیگری محیط شود. اگر p نصف محیط و S مساحت آن باشد، ثابت کنید $p^2 \geq 4S$.

۱۶۸. α, β و γ زاویه های يك مثلث اند. ثابت کنید:

$$\left(\sin \frac{\alpha}{2} + \sin \frac{\beta}{2} + \sin \frac{\gamma}{2} \right)^2 \leq \cos^2 \frac{\alpha}{2} + \cos^2 \frac{\beta}{2} + \cos^2 \frac{\gamma}{2}$$

۱۶۹. با شرط $0 < x < \frac{\pi}{2}$ ، ثابت کنید: $2^{\sin x} + 2^{\cos x} \geq 2^{x+1}$.

۱۷۰. با شرط $1 > a > b$ و $h > 0$ ثابت کنید:

$$\log_a b > \log_{a+k}(b+k)$$

۱۷۱. نقطه C روی پاره خط راست AB داده شده است. نیم دایره هایی

در يك طرف خط راست AB و، به ترتیب، به قطرهای $|AB|$ ، $|AC|$ و $|CB|$ رسم کرده ایم. اگر شعاع دایره ای را که بر این سه نیم دایره مماس است، R

بگیریم، ثابت کنید: $R \leq \frac{1}{6}|AB|$.

۱۷۲. شرط لازم و کافی، برای این که هر سه زاویه مثلث ABC حاده

باشند، این است که داشته باشیم: $\hat{tg} \hat{A} \hat{tg} \hat{B} > 1$.

۱۷۳. n عددی است طبیعی. ثابت کنید:

$$\sqrt[n]{n} + \sqrt[n+1]{n} + \dots + \sqrt[n-1]{n} \geq \sqrt[n]{n^2}$$

۱۷۴. برای متغیرهای x, y, z و t می دانیم:

$$1 \leq x \leq y \leq z \leq t \leq 100$$

حداقل مقدار $\frac{x}{y} + \frac{z}{t}$ چقدر است؟

۰۱۷۵. x, y و z عددهایی دلخواه و مثبت، و α, β, γ زاویه‌های یک

مثلث اند. ثابت کنید:

$$x^2 + y^2 + z^2 \geq 2yz \cos \alpha + 2zx \cos \beta + 2xy \cos \gamma$$

۰۱۷۶. چهاروجهی $ABCD$ در کره‌ای به مرکز O و شعاع برابر R

محاط شده است. خط‌های راست AO, BO, CO, DO را رسم کرده‌ایم تا وجه‌های متناظر را در نقطه‌های A_1, B_1, C_1, D_1 قطع کنند، ثابت کنید:

$$|AA_1| + |BB_1| + |CC_1| + |DD_1| \geq \frac{16}{3} R$$

۰۱۷۷. تابع $f(x) = a_1 \sin x + a_2 \sin 2x + \dots + a_n \sin nx$ داده

شده است و می‌دانیم، $a_i \in \mathbf{R}$ ($i = 1, 2, \dots, n$) و $|f(x)| \leq |\sin x|$ و $n \in \mathbf{N}$

(برای هر $x \in \mathbf{R}$). ثابت کنید: $|a_1 + 2a_2 + \dots + na_n| \leq 1$

۰۱۷۸. a_1, a_2, \dots, a_n عددهایی مثبت و b_1, b_2, \dots, b_n ترتیب

دلخواهی از همان عددهاست. ثابت کنید:

$$\frac{a_1}{b_1} + \frac{a_2}{b_2} + \dots + \frac{a_n}{b_n} \geq n$$

۰۱۷۹. از یک صفحه کاغذ مربعی شکل به ضلع برابر a ، گسترده هرم

منتظمی با قاعده مربعی را بریده‌ایم، به نحوی که با روی هم قرار دادن رأس‌های

مربع اصلی، رأس هرم به دست آید. ضلع قاعده هرم را چقدر انتخاب کنیم

تا حجم آن حداکثر مقدار ممکن باشد؟

۰۱۸۰. a, b, c, d و e ، عددهایی حقیقی و دلخواهند. ثابت کنید.

$$a^2 + b^2 + c^2 + d^2 + e^2 \geq a(b + c + d + e)$$

۰۱۸۱. برای عددهای غیرمنفی x, y, z و t می‌دانیم $x + z = 1$ و

$y + t = 1$. اگر a و b ، عددهای مثبت ثابتی باشند، حداقل و حداکثر مقدار

این تابع را پیدا کنید:

$$f(x, y, z, t) = \frac{ax^2 + by^2}{ax + by} + \frac{az^2 + bt^2}{az + bt}$$

۰۱۸۲. معادله $x^{37} + x^8 + 1 = 0$ چند ریشه حقیقی دارد؟

۰۱۸۳. به ازای چه مقدارهایی از عددهای طبیعی a و b ، عدد

$$4ab + 22a + 47b$$
 بر عدد $a^2 + 7b^2 + 111$ بخش پذیر است؟

۰۱۸۴. دو وتر AB و CD را، به ترتیب، به طولهای $2a$ و $2b$ و موازی

بایکدیگر، در دایره‌ای رسم کرده‌ایم. فاصله بین این دو وتر برابر است با d .

مطلوب است شرط لازم و کافی، برای این که مرکز دایره: (۱) در درون ذوزنقه

$(ABCD; 2)$ در بیرون آن باشد.

۰۱۸۵. a و b عددهایی طبیعی اند. ثابت کنید:

$$2 \sqrt{a^{a+b} b^{2a}} \leq a^2 + b^2$$

۰۱۸۶. در مثلث ABC داریم: $|AB| = c$ ، $|CA| = b$ ، $|BC| = a$

M نقطه‌ای دلخواه از فضا است و فرض می‌کنیم: $|MA| = a_1$ ، $|MB| = b_1$ ،

$|MC| = c_1$. ثابت کنید:

$$a \cdot a_1^2 + b \cdot b_1^2 + c \cdot c_1^2 \geq abc$$

۰۱۸۷. R و r را، به ترتیب، شعاع کره محیطی و شعاع کره محاطی هرم

منظمی با قاعده مثلثی می‌گیریم. ثابت کنید $R \geq 3r$.

۰۱۸۸. برای $n \in \mathbf{N}$ ثابت کنید:

$$\frac{1}{n+1} \left(1 + \frac{1}{3} + \dots + \frac{1}{2n-1} \right) > \frac{1}{n} \left(\frac{1}{2} + \frac{1}{4} + \dots + \frac{1}{2n} \right)$$

۰۱۸۹. با چه شرطی، نابرابری $a^4 + b^4 \geq 2ab^2$ برقرار است؟

۰۱۹۰. برای $n \in \mathbf{N}$ و $n \geq 2$ ثابت کنید:

$$\log_{n!} n + \log_{n!} (n-1) + \log_{n!} (n-2)! > \frac{1}{3}$$

۱۹۱. درستی نابرابری‌های ابوالوفا را ثابت کنید:

$$\frac{2}{3}\sin\left(\frac{15}{32}\right)^{\circ} + \frac{1}{3}\sin\left(\frac{18}{32}\right)^{\circ} < \sin\left(\frac{1}{2}\right)^{\circ} < \frac{4}{3}\sin\left(\frac{15}{32}\right)^{\circ} - \frac{1}{3}\sin\left(\frac{12}{32}\right)^{\circ}$$

۱۹۲. به ازای چه مقدارهایی از $a \in \mathbf{R}$ ، این معادله جواب دارد:

$$\sqrt{x+2} + \sqrt{8-2x} = a$$

۱۹۳. با بررسی تابع $f(x) = \sqrt{3x-2} - \sqrt{2x-1}$ ، ثابت کنید،

معادله $f(x) = 4$ تنها یک جواب دارد.

۱۹۴. این معادله را حل کنید: $|\epsilon x - 5| = 4 \sin \frac{\pi}{3} x$.

۱۹۵. به ازای چه مقدارهایی از $a \in \mathbf{R}$ ، این نامعادله جواب دارد:

$$\sqrt{2x-1} \geq x+a$$

۱۹۶. D, E و F را پای نیمسازهای داخلی مثلث ABC می‌گیریم.

ثابت کنید: $S_{DEF} \leq \frac{1}{4} S_{ABC}$.

حل تمرین‌ها

(۱۰) به ترتیب داریم:

$$۳۱۱۱ < ۳۲۱۱ = ۲۵۵ < ۲۵۶ = ۱۶۱۴ < ۱۷۱۴$$

پاسخ ۱۷۱۴ از ۳۱۱۱ بزرگتر است.

(۲) $A = ۲\sqrt{۵۰۰}$ و $B = \sqrt{۵۰۱} + \sqrt{۴۹۹}$ می‌گیریم. به ترتیب

داریم:

$$\begin{cases} A^2 = ۲۰۰۰ \\ B^2 = ۱۰۰۰ + ۲\sqrt{۵۰۱ \times ۴۹۹} \end{cases}; \begin{cases} \frac{A^2 - ۱۰۰۰}{۲} = ۵۰۰ \\ \frac{B^2 - ۱۰۰۰}{۲} = \sqrt{۵۰۱ \times ۴۹۹} \end{cases};$$

$$\left(\frac{A^2 - ۱۰۰۰}{۲}\right)^2 = ۲۵۰۰۰۰$$

$$\left(\frac{B^2 - ۱۰۰۰}{۲}\right)^2 = ۲۴۹۹۹۹$$

پاسخ $۲\sqrt{۵۰۰}$ از $\sqrt{۵۰۱} + \sqrt{۴۹۹}$ بزرگتر است.

(۳) اگر صورت و مخرج کسر $\frac{۱۰۱۳۶۹ + ۱}{۱۰۱۳۷۰ + ۱}$ را در $۱۰۱۳۷۱ + ۱$

ضرب کنیم، درستی ردیف عمل‌های زیر، به‌سادگی روشن می‌شود:

$$\frac{۱۰۱۳۶۹ + ۱}{۱۰۱۳۷۰ + ۱} = \frac{۱۰۱۳۶۹ + ۱۳۷۱ + ۱۰۱۳۷۱ + ۱۰۱۳۶۹ + ۱}{(۱۰۱۳۷۰ + ۱)(۱۰۱۳۷۱ + ۱)} =$$

$$= \frac{10^2 \times 10^{1270} + 10^{1270} \left(10 + \frac{1}{10}\right) + 1}{(10^{1270} + 1)(10^{1271} + 1)} >$$

$$> \frac{10^2 \times 10^{1270} + 2 \times 10^{1270} + 1}{(10^{1270} + 1)(10^{1271} + 1)} = \frac{(10^{1270} + 1)^2}{(10^{1270} + 1)(10^{1271} + 1)} =$$

$$= \frac{10^{1270} + 1}{10^{1271} + 1}$$

پاسخ. کسر $\frac{10^{1270} + 1}{10^{1271} + 1}$ بزرگتر است.

(۴) در این جا نمی توانیم از روشی که برای حل تمرین (۲، ۱) آوردیم، استفاده کنیم (آزمایش کنید!) مسأله را در حالت کلی حل می کنیم:

اگر $k > 1$ و $n \in \mathbf{N}$ ، ثابت کنید $\sqrt[n]{k} > \sqrt[n]{k+1} + \sqrt[n]{k-1}$.

دوره حل برای این مسأله می آوریم:

راه حل اول. نابرابری را به این صورت می نویسیم:

$$\sqrt[n]{k} - \sqrt[n]{k-1} > \sqrt[n]{k+1} - \sqrt[n]{k} \quad (1)$$

در هر طرف نابرابری، عبارتی به صورت $a - b$ وجود دارد؛ آن‌ها را به عنوان کسری بامخرج واحد در نظر می گیریم و در هر طرف، صورت ومخرج را در $a^{n-1} + a^{n-2}b + \dots + b^{n-1}$ ضرب می کنیم، نابرابری (۱) به این صورت درمی آید:

$$\frac{1}{\sqrt[n]{k^{n-1}} + \sqrt[n]{k^{n-2}(k-1)} + \dots + \sqrt[n]{(k-1)^{n-1}}} >$$

$$\frac{1}{\sqrt[n]{(k+1)^{n-1}} + \sqrt[n]{(k+1)^{n-2} \cdot k} + \dots + \sqrt[n]{k^{n-1}}}$$

در مخرج هر يك از کسرها n جمله وجود دارد و، به سادگی دیده می شود که، هر جمله از مخرج کسر سمت چپ، از جمله نظیر خود در مخرج کسر سمت راست،

کوچکتر است؛ در ضمن، از بین دو کسر، آن که مخرج کوچکتری دارد، بزرگتر است. درستی نابرابری (۱) و، در نتیجه، درستی نابرابری مورد نظر ثابت شد. مثلاً، نابرابری تمرین ۴۰۱، منجر به نابرابری روشن زیر می‌شود:

$$\frac{1}{\sqrt[3]{5002} + \sqrt[3]{500 \times 499} + \sqrt[3]{4992}} >$$

$$> \frac{1}{\sqrt[3]{5012} + \sqrt[3]{501 \times 500} + \sqrt[3]{5002}}$$

راه حل دوم. تابع $f(x) = \sqrt[n]{x+1} - \sqrt[n]{x}$ برای مقدارهای مثبت x ، تابعی نزولی است، زیرا برای مشتق آن داریم:

$$f'(x) = \frac{1}{n\sqrt[n]{(x+1)^{n-1}}} - \frac{1}{n\sqrt[n]{x^{n-1}}} < 0$$

(مخرج کسر اول، از مخرج کسر دوم بزرگتر است). اکنون اگر فرض کنیم $x_1 = k-1$ و $x_2 = k$ ($k > 1$)، چون $x_2 > x_1$ پس $f(x_2) < f(x_1)$ یعنی

$$\sqrt[n]{k+1} - \sqrt[n]{k} < \sqrt[n]{k} - \sqrt[n]{k-1} \Rightarrow \sqrt[n]{k+1} + \sqrt[n]{k-1} < 2\sqrt[n]{k}$$

که اگر $k=500$ و $n=3$ بگیریم، به جواب مسأله ۴۰۱ می‌رسیم:

$$\sqrt[3]{501} + \sqrt[3]{499} < 2\sqrt[3]{500}$$

(۵) در همان تابع نزولی $y = \sqrt[n]{x+1} - \sqrt[n]{x}$ ($x > 0$) از مسأله قبل $x_1 = 4$ و $x_2 = 6$ می‌گیریم. چون $x_1 < x_2$ پس $f(x_1) > f(x_2)$ یعنی به ازای $n=3$ داریم:

$$\sqrt[3]{5} - \sqrt[3]{4} > \sqrt[3]{7} - \sqrt[3]{6} \Rightarrow \sqrt[3]{5} + \sqrt[3]{6} > \sqrt[3]{4} + \sqrt[3]{7}$$

در ضمن، مسأله را باره حل اول مسأله قبل هم می‌توان حل کرد (چگونه؟).

(۶) تابع $f(x) = \ln(1+x) - \frac{2x}{x+2}$ را، که برای $x > -1$ معین

است، در نظر می گیریم. مشتق این تابع چنین است:

$$f'(x) = \frac{1}{1+x} - \frac{2}{(x+2)^2} = \frac{x^2}{(x+1)(x+2)^2}$$

که به ازای $x > -1$ مثبت است، یعنی $f(x)$ ، برای مقادیر قابل قبول x ، تابعی صعودی است. $x_1 = 0$ و $x_2 = \frac{1}{100}$ می گیریم. چون $x_2 > x_1$ پس $f(x_2) > f(x_1)$ ، یعنی

$$\ln\left(1 + \frac{1}{100}\right) - \frac{2}{201} > 0 \Rightarrow \ln \frac{101}{100} > \frac{2}{201}$$

(۷) در نابرابری روشن زیر (حل تمرین ۰۹) را ببینید):

$$\sqrt{n} - \sqrt{n-1} > \sqrt{n+1} - \sqrt{n}$$

به ترتیب عددهای ۱، ۳، ۵، ۷ و ۹ را به جای n قرار دهید و نابرابری های حاصل را باهم جمع کنید، به دست می آید:

$$\begin{aligned} & 2\sqrt{1} + 2\sqrt{3} + 2\sqrt{5} + 2\sqrt{7} + 2\sqrt{9} > \\ & > 2\sqrt{2} + 2\sqrt{4} + 2\sqrt{6} + 2\sqrt{8} + \sqrt{10} \end{aligned}$$

(۸) ثابت می کنیم: $\log_{17} 71 < \frac{3}{\sqrt[5]{17}} < 3$. نابرابری اول را می توان،

به ترتیب، به این صورت نوشت:

$$\sqrt[5]{17} < 3 \Rightarrow 2^7 \times 17 < 3^7 \Rightarrow 2176 < 2187$$

و نابرابری دوم، به این صورت درمی آید:

$$17^{\frac{3}{2}} < 71 \Rightarrow 17^3 < 71^2 \Rightarrow 4913 < 5041$$

پاسخ: $\sqrt[5]{17} < \log_{17} 71$.

(۹) داریم:

$$\operatorname{tg} 55^\circ = \operatorname{tg}(45^\circ + 10^\circ) = \frac{1 + \operatorname{tg} 10^\circ}{1 - \operatorname{tg} 10^\circ}$$

از طرف دیگر $\frac{\pi}{18} > \frac{\pi}{18} > \frac{1}{6}$ ؛ $\operatorname{tg} 10^\circ = \operatorname{tg} \frac{\pi}{18}$ و چون تابع $f(x) = \frac{1+x}{1-x}$ تابعی صعودی است، بنا بر این

$$\operatorname{tg} 55^\circ > \frac{1 + \frac{1}{6}}{1 - \frac{1}{6}} = \frac{7}{5}$$

(۱۰) $\frac{\sqrt{3}}{3}$ رادیان و $\frac{1}{4}$ رادیان، هر دو، کمان‌هایی بین ۰ و $\frac{\pi}{2}$ هستند و

برای هر کمان x که بین ۰ و $\frac{\pi}{2}$ باشد، داریم $\sin x < x$ ؛ بنا بر این

$$\cos \frac{\sqrt{3}}{3} - \sin \frac{1}{4} = 1 - 2 \sin \frac{\sqrt{3}}{4} - \sin \frac{1}{4} > 1 - \frac{3}{8} - \frac{1}{2} = \frac{1}{8}$$

$$\cos \frac{\sqrt{3}}{3} - \sin \frac{1}{4} > \frac{1}{8} \quad \text{پاسخ.}$$

(۱۱) ثابت می‌کنیم $\sqrt[8]{8} > \sqrt[9]{9}$. اگر دو طرف نابرابری را به توان ۷۲ برسانیم، به نابرابری $8^9 > 9^8$ یا $2^{27} > 3^{16}$ می‌رسیم که هم‌ارز نابرابری اصلی است. داریم:

$$2^{27} = (2^9)^3 = 512^3 > (2 \times 252)^3 = 8 \times 315 > 3 \times 315 = 316$$

(۱۲) ثابت می‌کنیم: $x > \sqrt{x-1} + \sqrt{x(\sqrt{x-1})}$ دو نابرابری

$$\frac{x}{2} \geq \sqrt{x-1} \quad \text{و} \quad \frac{x}{2} \geq \sqrt{x(\sqrt{x-1})} \quad (1)$$

همیشه (به‌ازای $x > 1$) برقرارند، زیرا، منجر به این دو نابرابری واضح می‌شوند.

$$(x-2)^2 \geq 0 \quad \text{و} \quad (\sqrt{x}-2)^2 \geq 0 \quad (2)$$

در ضمن، اولی به ازای $x=2$ و دومی به ازای $x=4$ ، به برابری تبدیل می شود. از مجموع دونا برابری (۱)، با توجه به این که علامت های برابری در (۲) به طور هم زمان پیش نمی آید، نتیجه می شود:

$$x > \sqrt{x-1} + \sqrt{x(\sqrt{x-1})}$$

(۱۳) در واقع باید ببینیم، از دو عدد 100^n و $101^n - 99^n$ کدام بزرگترند! این نسبت را بررسی می کنیم:

$$\begin{aligned} \frac{101^n - 99^n}{100^n} &= \frac{(100+1)^n - (100-1)^n}{100^n} \\ &= \frac{{}^nC_n \cdot 100^{n-1} + {}^nC_{n-2} \cdot 100^{n-2} + \dots}{100^n} \\ &= 2 \left(\frac{n}{100} + \frac{n(n-1)(n-2)}{3! \cdot 100^2} + \dots \right) \end{aligned}$$

ثابت می کنیم، این نسبت، به ازای $n=49$ بزرگتر از واحد و به ازای $n=48$ کوچکتر از واحد است (که در این صورت، به ازای هر عدد $n > 49$ از واحد بزرگتر و به ازای هر عدد $n < 48$ از واحد کوچکتر می شود). به ازای $n=49$ داریم:

$$\begin{aligned} 2 \left(\frac{49}{100} + \frac{49 \times 48 \times 47}{3! \cdot 100^2} + \dots \right) &> 2 \left(\frac{49}{100} + \frac{18424}{100^2} \right) > \\ &> 2 \left(\frac{49}{100} + \frac{100^2}{100^2} \right) = 1 \end{aligned}$$

و به ازای $n=48$:

$$\begin{aligned} 2 \left(\frac{48}{100} + \frac{48 \times 47 \times 46}{3! \cdot 100^2} + \frac{48 \times 47 \times 46 \times 45 \times 44}{5! \cdot 100^5} + \dots \right) &< \\ < 2 \left(\frac{48}{100} + \frac{48^2}{3! \cdot 100^2} + \frac{48^5}{(3!)^2 \cdot 100^5} + \frac{48^7}{(3!)^3 \cdot 100^7} + \dots \right) &= \end{aligned}$$

$$= 2 \times \frac{\frac{48}{100}}{1 - \frac{1}{6} \left(\frac{48}{100} \right)^2} = \frac{9600}{9616} < 1$$

پاسخ. عدد $99^n + 100^n$ ، برای $n \leq 48$ از 101^n بزرگتر و برای $n > 48$ از 101^n کوچکتر است.

(۱۴) دنباله n عدد درست متوالی را در نظر می‌گیریم:

$$a, a+1, a+2, \dots, a+n-1$$

دوجمله از این دنباله که به فاصله k از دو انتهای دنباله باشند (یعنی k امین جمله از ابتدا به انتها و k امین جمله از انتها به ابتدا)، چنین اند:

$$a+k-1 \text{ و } a+n-k$$

حاصل ضرب این دو عدد را به دست می‌آوریم:

$$(a+k-1)(a+n-k) = a^2 + an - a + (k-1)(n-k) \geq \\ \geq a^2 + an - a = a(a+n-1)$$

(برابری، تنها برای $k=1$ و $k=n$ پیش می‌آید). بنا بر این، حاصل ضرب دو عدد $a+n-k$ و $a+k-1$ (که در حالت فرد بودن n ، ممکن است برابر هم باشند)، از حاصل ضرب دو جمله اول و آخر دنباله (کوچکترین و بزرگترین جمله دنباله)، کمتر نیست. به این ترتیب، برای حاصل ضرب همه جمله‌های دنباله، داریم:

$$a(a+1)\dots(a+n-1) \geq [a(a+n-1)]^{\frac{n}{2}} = \sqrt{a^n(a+n-1)^n}$$

(برابری، تنها برای $n=1$ و $n=2$ پیش می‌آید). یعنی

پیش قضیه. برای $n > 2$ ، حاصل ضرب n عدد درست متوالی، همیشه

از ریشه دوم حاصل ضرب توان n کوچکترین و بزرگترین عدد، بزرگتر است.

با استفاده از این پیش قضیه، ثابت می‌کنیم: $100^{300} > 300!$. با توجه

به پیش قضیه‌ای که ثابت کردیم، داریم:

$$1 \times 2 \times 3 \times \dots \times 25 > \sqrt{25^{25}} = 5^{25};$$

$$26 \times 27 \times \dots \times 50 > (\sqrt{26 \times 50})^{25} > 35^{25};$$

$$51 \times 52 \times \dots \times 100 > (\sqrt{51 \times 100})^{50} > 75^{50};$$

$$101 \times 102 \times \dots \times 200 > \sqrt{1001^{100}} \cdot \sqrt{2001^{100}} = 10^{200} \cdot 2^{50};$$

$$201 \times 202 \times \dots \times 300 > \sqrt{2001^{100}} \cdot \sqrt{3001^{100}} = 10^{200} \cdot 2^{50} \cdot 3^{50}$$

که از ضرب آنها به دست می آید:

$$300! > 5^{25} \cdot 35^{25} \cdot 75^{50} \cdot 10^{400} \cdot 2^{100} \cdot 3^{50} =$$

$$= 10^{500} \cdot 2^{125} \cdot 4^{225} \cdot 14^{225} > 10^{500} \cdot 20^{225} \cdot 40^{225} \cdot 14^{225} =$$

$$= 10^{550} \cdot 2^{225} \cdot 4^{225} \cdot 14^{225} = 10^{550} \cdot 112^{225} > 10^{600} = 100^{300}$$

(۱۵) اگر عبارات‌های مفروض را A و B بنامیم، داریم:

$$\frac{1}{A} = \frac{(1+a+\dots+a^{n-1})+a^n}{1+a+\dots+a^{n-1}} = 1 + \frac{a^n}{1+a+\dots+a^{n-1}} =$$

$$= 1 + \frac{1}{\frac{1}{a^n} + \frac{1}{a^{n-1}} + \dots + \frac{1}{a}}; \quad \frac{1}{B} = 1 + \frac{1}{\frac{1}{b^n} + \frac{1}{b^{n-1}} + \dots + \frac{1}{b}}$$

به این ترتیب (با توجه به شرط $a > b > 0$) روشن است که

$$B > A \quad \text{یا} \quad \frac{1}{A} > \frac{1}{B}$$

(۱۶) درمسأله ۳ (صفحه ۹)، این تفسیرین را، برای حالت خاص

$x = 1$ حل کردیم. در این جا، با حالت کلی آن و برای x دلخواه سروکار داریم.

روشن است، راه حلی که برای این حالت کلی مورد استفاده قرار می گیرد،

برای هر حالت خاص هم می تواند کاربرد داشته باشد. داریم:

$$\cos \sin x - \sin \cos x = \cos \sin x + \cos \left(\frac{\pi}{2} + \sin x \right) =$$

$$= 2 \cos \frac{\frac{\pi}{2} + \cos x + \sin x}{2} \cos \frac{\frac{\pi}{2} + \cos x - \sin x}{2}$$

از طرف دیگر روشن است که

$$|\sin x + \cos x| = \sqrt{2} \left| \cos \left(\frac{\pi}{4} - x \right) \right| \leq \sqrt{2} \quad \text{و} \quad |\sin x - \cos x| \leq \sqrt{2}$$

(برابری در حالت اول برای $x = k\pi + \frac{\pi}{4}$ و در حالت دوم برای

$x = kn - \frac{\pi}{4}$ پیش می‌آید). در ضمن $\frac{\pi}{2} \approx 1/57$ و $\sqrt{2} \approx 1/41$ ، یعنی

$$\frac{\pi}{2} > \sqrt{2}$$

$$0 < \frac{\frac{\pi}{2} + \cos x + \sin x}{2} < \frac{\pi}{2} \quad \text{و} \quad 0 < \frac{\frac{\pi}{2} + \cos x - \sin x}{2} < \frac{\pi}{2}$$

به این ترتیب $\cos \sin x > \sin \cos x$ و $\cos \sin x - \sin \cos x > 0$

(۱۷) اگر فرض کنیم $a = \log_{\sqrt{2}} \pi$ و $b = \log_{\pi} 2$ به دست می‌آید:

$$\begin{cases} 2^a = \pi \\ \pi^b = 2 \end{cases} \Rightarrow \begin{cases} 2^a = \pi \\ 2^{\frac{1}{b}} = \pi \end{cases} \Rightarrow a = \frac{1}{b}$$

که از آن جا خواهیم داشت:

$$\frac{1}{\log_{\sqrt{2}} \pi} + \frac{1}{\log_{\pi} 2} = \frac{1}{a} + \frac{1}{\frac{1}{a}} = \frac{1}{a} + a = \frac{a^2 + 1}{a} > 2$$

(یعنی $a \neq 1$) $\log_{\sqrt{2}} \pi \neq 1$

$$\frac{1}{\log_{\sqrt{2}} \pi} + \frac{1}{\log_{\pi} 2} > 2 \quad \text{پاسخ}$$

(۱۸) با فرض $a = \log_{\sqrt{2}} \pi$ و $b = \log_{\pi} 2$ به دست می‌آید:

$$\begin{cases} 2^a = \pi \\ 5^b = \pi \end{cases} \Rightarrow \begin{cases} \pi^{\frac{1}{a}} = 2 \\ \pi^{\frac{1}{b}} = 5 \end{cases} \Rightarrow \pi^{\frac{1}{a}} \times \pi^{\frac{1}{b}} = 10$$

به این ترتیب

$$\frac{1}{\log_2 \pi} + \frac{1}{\log_5 \pi} = \frac{1}{a} + \frac{1}{b} > 2$$

$$\pi^2 < 10 \text{ و } \pi^{\frac{1}{a} + \frac{1}{b}} = 10$$

(۱۹) ثابت می‌کنیم، با شرط $0 < \alpha < \beta < \frac{\pi}{2}$ ، نابرابری

$\sin \beta - \sin \alpha > \beta - \alpha$ برقرار است. با توجه به این که در ربع اول دایره مثلثاتی $0 < \sin x < x$ و $0 < \cos x < 1$ داریم:

$$\sin \beta - \sin \alpha = 2 \sin \frac{\beta - \alpha}{2} \cos \frac{\beta + \alpha}{2} < 2 \cdot \frac{\beta - \alpha}{2} \cdot 1 = \beta - \alpha$$

پاسخ: $\alpha - \sin \alpha > \beta - \sin \beta$

(۲۰) ثابت می‌کنیم

$$\beta - \alpha < \operatorname{tg} \beta - \operatorname{tg} \alpha$$

در ربع اول دایره مثلثاتی داریم

$x < \operatorname{tg} x$ ، در نتیجه، با توجه به شرط

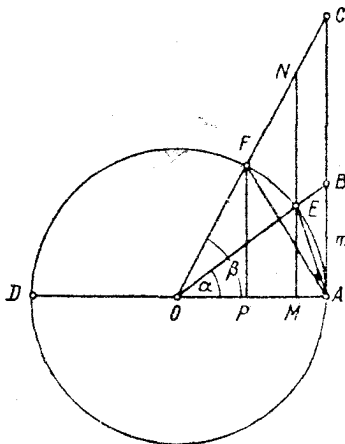
$0 < \alpha < \beta < \frac{\pi}{2}$ به دست می‌آید:

$$\beta - \alpha < \operatorname{tg}(\beta - \alpha) =$$

$$\frac{\operatorname{tg} \beta - \operatorname{tg} \alpha}{1 + \operatorname{tg} \beta \operatorname{tg} \alpha} < \operatorname{tg} \beta - \operatorname{tg} \alpha$$

پاسخ: $\operatorname{tg} \beta - \beta > \operatorname{tg} \alpha - \alpha$

(۲۱) با توجه به نام گذاری‌های



شکل ۱۰

$$\widehat{AE} = \alpha, \quad \widehat{AF} = \beta,$$

$$|AB| = tg\alpha, \quad |AC| = tg\beta$$

M و N ، به ترتیب، نقطه‌های برخورد خط‌های راست OA و OC با عمودی است که از E بر (OA) رسم شده است. این برابری‌ها روشن است:

$$S_{\Delta OAB} = \frac{1}{4}tg\alpha, \quad S_{\Delta OAC} = \frac{1}{4}tg\beta, \quad S_{\text{قطاع } OAE} = \frac{1}{4}\alpha, \quad S_{\text{قطاع } OAF} = \frac{1}{4}\beta$$

که از آن‌جا به دست می‌آید:

$$\frac{S_{\Delta OAB}}{S_{\text{قطاع } OAE}} = \frac{tg\alpha}{\alpha}, \quad \frac{S_{\Delta OAC}}{S_{\text{قطاع } OAF}} = \frac{tg\beta}{\beta}$$

از طرف دیگر، با استفاده از تشابه مثلث‌های OAB و OME ، همچنین، مثلث‌های OAC و OMN ، به سادگی می‌توان نتیجه گرفت:

$$\frac{S_{\Delta OAB}}{S_{\Delta OME}} = \frac{S_{\Delta OBC}}{S_{\Delta OEN}} \quad (۱)$$

در ضمن

$$\frac{S_{\Delta OAB}}{S_{\text{قطاع } OAE}} < \frac{S_{\Delta OAB}}{S_{\Delta OME}}, \quad \frac{S_{\Delta OBC}}{S_{\text{قطاع } OEF}} > \frac{S_{\Delta OBC}}{S_{\Delta OEN}} \quad (۲)$$

از (۱) و (۲) نتیجه می‌شود:

$$\frac{S_{\Delta OAB}}{S_{\text{قطاع } OAE}} < \frac{S_{\Delta OBC}}{S_{\text{قطاع } OEF}} \Rightarrow \frac{S_{\Delta OAB}}{S_{\text{قطاع } OAE}} < \frac{S_{\Delta OAB} + S_{\Delta OBC}}{S_{\text{قطاع } OAE} + S_{\text{قطاع } OEF}}$$

$$\frac{tg\alpha}{\alpha} < \frac{tg\beta}{\beta} \quad \text{یا} \quad \frac{S_{\Delta OAB}}{S_{\text{قطاع } OAE}} < \frac{S_{\Delta OAC}}{S_{\text{قطاع } OAF}} \quad \text{یعنی}$$

یادداشت. در اثبات تمرین ۱۰.۲۱) از این قضیهٔ مربوط به نابرابری‌ها استفاده کردیم: اگر a, b, c, d عددهایی مثبت باشد و برای آن‌ها داشته باشیم

$$\frac{a}{b} < \frac{c}{d}, \quad \text{آن وقت نابرابری} \quad \frac{a}{b} < \frac{a+c}{b+d} \quad \text{برقرار است.}$$

برای اثبات فرض می‌کنیم $\frac{a}{b} = k$ ، در این صورت $\frac{c}{d} = k + \alpha$

($\alpha > 0$)، زیرا $\frac{c}{d}$ از $\frac{a}{b}$ بزرگتر است. بنابراین

$$a = bk, \quad c = dk + d\alpha$$

از مجموع این دو برابری به دست می‌آید:

$$a + c = (b + d)k + d\alpha \Rightarrow \frac{a + c}{b + d} = k + \frac{d\alpha}{b + d} > k$$

$$k = \frac{a}{b} < \frac{a + c}{b + d} \quad \text{یعنی}$$

(۲۲) ثابت می‌کنیم $\sin \alpha + \operatorname{tg} \alpha < 2\alpha$. داریم:

$$\sin \alpha + \operatorname{tg} \alpha = \frac{2 \operatorname{tg} \frac{\alpha}{2}}{1 + \operatorname{tg}^2 \frac{\alpha}{2}} + \frac{2 \operatorname{tg} \frac{\alpha}{2}}{1 - \operatorname{tg}^2 \frac{\alpha}{2}} = \frac{2 \operatorname{tg} \frac{\alpha}{2}}{1 - \operatorname{tg}^4 \frac{\alpha}{2}} \quad (1)$$

روشن است که $1 - \operatorname{tg}^4 \frac{\alpha}{2} < 1$ ، در ضمن $0 < \frac{\alpha}{2} < \frac{\pi}{4}$ ، بنابراین $0 < \operatorname{tg}^4 \frac{\alpha}{2} < 1$

و $0 < 1 - \operatorname{tg}^4 \frac{\alpha}{2} < 1$ اگر دو طرف نابرابری را معکوس کنیم به

$$\frac{1}{1 - \operatorname{tg}^4 \frac{\alpha}{2}} > 1 \quad \text{نا برابری می‌رسیم. در نتیجه، با توجه به (۱):}$$

$$\sin \alpha + \operatorname{tg} \alpha > 2 \operatorname{tg} \frac{\alpha}{2} > 2 \times \frac{\alpha}{2} = 2\alpha$$

پاسخ: $\operatorname{tg} \alpha - \alpha > \alpha - \sin \alpha$

(۱۰۲) البته، بامخرج مشترك گرفتن می‌توان کسرها را با هم مقایسه کرد. ولی بامقایسهٔ دو به دوی کسرها هم می‌توان به نتیجه رسید. ابتدا يك پیش‌قضیه

را ثابت می‌کنیم.

پیش قضیه. اگر به صورت w و x کسر، عددی مثبت اضافه کنیم، کسر مفروض به واحد نزدیک‌تر می‌شود، یعنی درحالتی که کسر بزرگتر از واحد باشد، کوچکتر و درحالتی که کوچکتر از واحد باشد، بزرگتر می‌شود.

باید ثابت کنیم، برای $0 < a < b$ و $m > 0$ داریم:

$$\frac{a}{b} < \frac{a+m}{b+m}$$

اگر کسر سمت راست را، به سمت چپ نابرابری ببریم، بعد از تبدیل به w مخرج به دست می‌آید:

$$\frac{a}{b} - \frac{a+m}{b+m} = \frac{(a-b)m}{b(b+m)} < 0$$

$(a < b)$ ، یعنی $(a-b < 0)$.

به همین ترتیب، برای حالت $a > b > 0$ ، می‌توان به نتیجه رسید. اکنون به مقایسه کسرها می‌پردازیم.

$\frac{5}{6}$ را با $\frac{627}{727}$ مقایسه می‌کنیم. داریم:

$$\frac{5}{6} = \frac{500}{600} < \frac{500+127}{600+127} = \frac{627}{727} \Rightarrow \frac{5}{6} < \frac{627}{727}$$

می‌دانیم، اگر مخرج کسری را بزرگ کنیم، مقدار کسر کوچکتر می‌شود، بنا بر این

$$\frac{5}{6} = \frac{5 \times 11}{6 \times 11} = \frac{55}{66} > \frac{55}{69}$$

به این ترتیب تا این جا ثابت شد:

$$\frac{55}{69} < \frac{5}{6} < \frac{627}{727}$$

برای کسر $\frac{511}{655}$ داریم:

$$\frac{511}{655} < \frac{511+39}{655+39} = \frac{550}{694} < \frac{550}{690} = \frac{55}{69}$$

$$\frac{511}{655} < \frac{55}{69} < \frac{5}{6} < \frac{627}{727}$$

وسر انجام

$$\frac{511}{655} > \frac{511-11}{655-11} = \frac{500}{644} > \frac{500}{700} = \frac{5}{7}$$

$$\frac{5}{7} < \frac{511}{655} < \frac{55}{69} < \frac{5}{6} < \frac{627}{727} \quad \text{پاسخ:}$$

۲) اگر يك راديان را به تقريبات، برابر ۵۷ درجه و ۱۷ دقيقه و ۴۵

ثانيه بگيريم، به ترتيب دايم:

$$\text{راديان ۲ کمان} = 114^{\circ} 35' 30'' = 180^{\circ} - (65^{\circ} 24' 30''),$$

$$\text{راديان ۳ کمان} = 171^{\circ} 53' 15'' = 180^{\circ} - (8^{\circ} 6' 45''),$$

$$\text{راديان ۴ کمان} = 229^{\circ} 11' 0'' = 180^{\circ} + (49^{\circ} 11' 0''),$$

$$\text{راديان ۵ کمان} = 286^{\circ} 28' 45'' = 360^{\circ} - (73^{\circ} 31' 15''),$$

$$\text{راديان ۶ کمان} = 343^{\circ} 46' 30'' = 360^{\circ} - (16^{\circ} 13' 30''),$$

$$\text{راديان ۷ کمان} = 401^{\circ} 4' 15'' = 360^{\circ} + (41^{\circ} 4' 15'')$$

و ديگر روشن است که

$$\sin 5 < \sin 4 < \sin 6 < \sin 3 < \sin 7 < \sin 1 < \sin 2$$

۳) با فرض $x = \sqrt{3} + \sqrt{9}$ داريم:

$$x^2 = (\sqrt{3} + \sqrt{9})^2 = 12 + 2\sqrt{27}(\sqrt{3} + \sqrt{9}) = 12 + 9x$$

يعني $\sqrt{3} + \sqrt{9}$ ، ريشه عبارت درجه سوم $f(x) = x^2 - 9x - 12$ است.

در ضمن

$$f(\sqrt{43}) = 31 - 9\sqrt{43} < 0$$

درواقع، داريم:

$$(9\sqrt{43})^2 = 729 \times 43 > 700 \times 43 = 30100 > 29791 > 31^2$$

به همین ترتیب ثابت می شود $f(x), f(\sqrt[3]{44}) > 0$ در بازه $[3, 4]$ صعودی است و چون $f(\sqrt[3]{43}) < f(\sqrt[3]{3} + \sqrt[3]{9}) < f(\sqrt[3]{44})$ بنا بر این

$$\sqrt[3]{43} < \sqrt[3]{3} + \sqrt[3]{9} < \sqrt[3]{44}$$

۳. روشن است که در این پنج عدد، باید رقم دهگان هر عدد از رقم یکان آن بزرگتر باشد، زیرا، در صورت عکس، با عدد کوچکتری سروکار پیدا می کنیم. بنا بر این رقم ۹، در عدد مربوط به خودش، رقم دهگان عدد است. ثابت می کنیم، رقم یکان این عدد باید صفر باشد. رقم یکان این عدد را، برابر $a \neq 0$ می گیریم و صفر را رقم یکان عددی فرض می کنیم که، دهگان آن، برابر b است. حاصل ضرب این دو عدد، چنین می شود:

$$(90 + a)(10b + 0) = 900b + 10ab \quad (1)$$

ولی اگر صفر را یکان عددی بگیریم که، دهگان آن، برابر ۹ است، برای حاصل-ضرب دو عدد داریم:

$$(90 + 0)(10b + a) = 900b + 90a \quad (2)$$

(۱) و (۲) را مقایسه می کنیم. چون $b < 9$ ، پس $10b > 90$ و $10ab < 90a$ به این ترتیب، عدد (۱) از عدد (۲) کوچکتر است و برای این که حاصل ضرب عددها، حداکثر باشد، باید برای دهگان ۹، رقم یکان را برابر صفر گرفت.

اکنون باید به کمک رقم های از ۱ تا ۸، چهار عدد دو رقمی بسازیم که حاصل ضربی ماکزیم داشته باشند. شبیه حالت قبل، می توان ثابت کرد که، یکی از این عددها برابر ۸۱ است و غیره.

پاسخ: ۹۰، ۸۱، ۷۲، ۶۳، ۵۴.

۴. داریم:

$$(\sqrt{30} + \sqrt{4320})^{103} = [\sqrt{30}(1 + \sqrt{144})]^{103} =$$

$$= 30^{\frac{103}{2}} (1 + 12)^{103}$$

بنا بر این، باید بزرگترین جمله را در بسط $(1 + 12)^{103}$ پیدا کنیم. جمله $(k+1)ام$ بسط را، T_{k+1} می نامیم و آن را بزرگترین جمله بسط می گیریم.

باید داشته باشیم:

$$T_{k+1} \geq T_{k+2} \text{ و } T_{k+1} \geq T_k$$

که ما را به این دو نابرابری می‌رساند:

$$\begin{cases} \frac{103!}{k!(103-k)!} \cdot 12^k \geq \frac{103!}{(k+1)!(102-k)!} \cdot 12^{k+1} \\ \frac{103!}{k!(103-k)!} \cdot 12^k \geq \frac{103!}{(k-1)!(104-k)!} \cdot 12^{k-1} \end{cases}$$

که بعد از ساده کردن، به این صورت درمی‌آیند:

$$\begin{cases} \frac{1}{103-k} \geq \frac{12}{k+1} \\ \frac{12}{k} \geq \frac{1}{104-k} \end{cases} \Rightarrow \begin{cases} k \geq 95 \\ k \leq 96 \end{cases} \Rightarrow 95 \leq k \leq 96$$

یعنی جمله‌های ۱۹۶ و ۱۹۷ با هم برابرند و بزرگترین جمله‌های بسط را تشکیل می‌دهند.

۵. فرض می‌کنیم $\sqrt{p-a}=x$ ، $\sqrt{p-b}=y$ ، $\sqrt{p-c}=z$ در

این صورت، باید ثابت کنیم:

$$\sqrt{x^2+y^2+z^2} < x+y+z \leq \sqrt{3x^2+3y^2+3z^2}$$

زیرا

$$x^2+y^2+z^2 = (p-a) + (p-b) + (p-c) = 3p - 2p = p$$

نابرابری سمت چپ، منجر به نابرابری $2(xy+yz+xz) > 0$ می‌شود که روشن است (x و y و z ، مقادارهایی مثبت‌اند). نابرابری سمت راست هم، منجر به این نابرابری اتحادی می‌شود:

$$(x-y)^2 + (y-z)^2 + (z-x)^2 \geq 0$$

علامت برابری، برای $x = y = z$ ، یعنی $a = b = c$ (مثلث متساوی الاضلاع) پیش می آید.

۶. فرض می کنیم $0 < c \leq b \leq a$. اگر داشته باشیم $a \geq b + c$ ، درستی نابرابری روشن است، زیرا سمت راست نابرابری عددی مثبت و سمت چپ آن عددی غیر مثبت می شود بنا بر این، حالتی را در نظر می گیریم که $a < b + c$. در این حالت، همه عوامل های سمت چپ نابرابری غیر منفی هستند و داریم:

$$\begin{aligned} & (a+b-c)(b+c-a)(a+c-b) = \\ & = \sqrt{(b-c+a)(c+a-b)(c-a+b)(a+b-c)(a-b+c)(b+c-a)} \\ & = \sqrt{[a^2 - (b-c)^2][b^2 - (c-a)^2][c^2 - (a-b)^2]} \leq \\ & \leq \sqrt{a^2 b^2 c^2} = abc \end{aligned}$$

۷. به ترتیب داریم:

$$\begin{aligned} & \frac{t^3 + 1}{t - 1} - 4 - 2\sqrt{3} = \\ & = \frac{(t-1)^2 + [3t^2 - 2(3+\sqrt{3})t + 5 + 2\sqrt{3}]}{t-1} > 0 \end{aligned}$$

زیرا، در صورت کسر و در داخل کروهه، عبارت دوجه دومی با مبین منفی قرار دارد و با توجه به شرط $t > 1$ ، مخارج کسر هم مثبت است. بنا بر این

$$\frac{t^3 + 1}{t - 1} > 2(2 + \sqrt{3})$$

۸. روشن است که $a^2 + b^2 \geq 2ab$ و $c^2 + d^2 \geq 2cd$. همچنین، مجموع دو عدد عکس هم، وقتی مثبت باشند، از ۲ کوچکتر نیست، یعنی برای

$$x > 0 \text{ داریم: } x + \frac{1}{x} \geq 2$$

اکنون می نویسیم:

$$\begin{aligned} \sum a^2 + \sum ab &= a^2 + b^2 + c^2 + d^2 + ab + ac + ad + bc + \\ &+ bd + cd \geq 2(ab + cd) + (ac + bd) + (ad + bc) = \\ &= 2\left(ab + \frac{1}{ab}\right) + \left(ac + \frac{1}{ac}\right) + \left(ad + \frac{1}{ad}\right) \geq 6 + 2 + 2 = 10 \end{aligned}$$

(از برابری $abcd = 1$ استفاده کردیم).

۰۹. از برهان خلف استفاده می‌کنیم و a_k را نخستین جمله‌ای از آن

می‌گیریم که مثبت باشد:

$$a_k > 0, a_i \leq 0 \quad (i < k)$$

بنا بر فرض داریم:

$$a_{k-1} - 2a_k + a_{k+1} \geq 0$$

یعنی $0 < a_k - a_{k-1} \leq a_{k+1} - a_k$ (غیر مثبت و a_k مثبت است، بنا بر این تفاضل $a_k - a_{k-1}$ مثبت می‌شود)؛ که از آن جا به دست می‌آید: $a_{k+1} > a_k$ ، یعنی a_{k+1} هم باید مثبت باشد. با آغاز از a_{k+1} می‌توان نتیجه گرفت که a_{k+2} مثبت است. اگر به همین ترتیب ادامه دهیم، نتیجه می‌شود:

$$a_n > a_{n-1} > \dots > a_{k+1} > a_k > 0$$

در حالی که بنا بر فرض داریم $a_n = 0$. تناقض حاصل، درستی حکم مسأله را ثابت می‌کند.

۰۱۰. از نابرابری روشن $a^2 + b^2 \geq 2ab$ به دست می‌آید:

$a^2 - ab + b^2 \geq ab$. با ضرب دو طرف نابرابری اخیر در $a + b$ ، به این نابرابری می‌رسیم:

$$a^3 + b^3 \geq a^2b + b^2a \quad (1)$$

به همین ترتیب، دو نابرابری مشابه (۱) به دست می‌آید:

$$b^3 + c^3 \geq b^2c + c^2b \quad (2)$$

$$c^3 + a^3 \geq c^2a + a^2c \quad (3)$$

و از مجموع نابرابری‌های (۱) و (۲) و (۳):

$$\begin{aligned} 2(a^2 + b^2 + c^2) &\geq a^2(b+c) + b^2(c+a) + c^2(a+b) \geq \\ &\geq 2a^2\sqrt{bc} + 2b^2\sqrt{ca} + 2c^2\sqrt{ab} \end{aligned}$$

(از نابرابری روشن $x+y \geq 2\sqrt{xy}$ برای x و y مثبت، استفاده کردیم).
به این ترتیب

$$a^2 + b^2 + c^2 \geq a^2\sqrt{bc} + b^2\sqrt{ca} + c^2\sqrt{ab}$$

علامت برابری، برای حالت $a=b=c$ پیش می آید.

۱۱. اگر $a=1+\alpha$ و $b=1+\beta$ بگیریم، برابری $a^2+b^2=2$

به صورت

$$\begin{aligned} \alpha^2 + \beta^2 + 2(\alpha + \beta) + 2(\alpha^2 + \beta^2) &= \\ = (\alpha + \beta)(\alpha^2 + \beta\alpha + \beta^2 + 2) + 2(\alpha^2 + \beta^2) &= 0 \end{aligned}$$

درمی آید که در آن، جمله $2(\alpha^2 + \beta^2)$ غیر منفی است و، بنا بر این، باید جمله

$$(\alpha + \beta)(\alpha^2 + \beta\alpha + \beta^2 + 2) = (\alpha + \beta) \left[\left(\alpha + \frac{\beta}{2}\right)^2 + \frac{3\beta^2}{4} + 2 \right]$$

غیر مثبت باشد؛ ولی مقدار داخل کروشه مثبت است، یعنی باید داشته باشیم:

$$\alpha + \beta \leq 0 \implies (a-1) + (b-1) \leq 0 \implies a + b \leq 2$$

۱۲. این سه جمله ای درجه دوم را در نظر می گیریم:

$$f(x) = 2x^2 - (a+b+c+d)x + (ad+bc)$$

به سادگی به دست می آید:

$$f(a) = (a-b)(a-c), \quad f(b) = (b-a)(b-d)$$

از آن جا

$$f(a)f(b) = -(a-b)^2(a-c)(b-d)$$

و چون بنا بر فرض $a > c$ و $b > d$ ، بنا بر این

$$f(a) f(b) \leq 0$$

یعنی سه جمله‌ای درجه دوم $f(x)$ دارای دو ریشه حقیقی است و مبین آن باید مثبت باشد:

$$(a+b+c+d)^2 > 4(ad+bc)$$

۹۳. تعداد دانش‌آموزان گروه اول را x می‌گیریم. بنابراین تعداد دانش‌آموزان پسر در گروه دوم برابر $x-15$ می‌شود. گروه اول روی هم ۴۸ ساعت و، بنابراین، هر دانش‌آموز گروه اول $\frac{48}{x}$ ساعت نگهداری داده است. دانش‌آموزان پسر گروه دوم روی هم ۲۱ ساعت و، بنابراین، هر نفر $\frac{21}{15-x}$ ساعت به نگهداری مشغول بوده است. بنا بر شرط مسأله باید داشته باشیم:

$$\frac{21}{15-x} + \frac{48}{x} < 9 \Rightarrow \frac{(x-8)(x-1)}{x(15-x)} < 0$$

که به جواب $x < 0$ یا $8 < x < 10$ یا $x > 15$ می‌رسد. تعداد دانش‌آموزان گروه اول نمی‌تواند منفی یا بزرگتر از ۱۵ باشد، پس $8 < x < 10$ و چون x عددی درست است، بنا بر این $x=9$. در هر گروه ۹ دانش‌آموز بوده است. ۹۴. اگر تعداد قطعه‌های جعبه اول را x و تعداد قطعه‌های جعبه دوم را y بگیریم، باید داشته باشیم:

$$x+y > 29, \quad x-2 > 3y, \quad 2y+60 > 3x$$

که می‌توان آن‌ها را این‌طور نوشت:

$$x > 29 - y, \quad x > 3y + 2, \quad \frac{2}{3}y + 20 > x \quad (1)$$

یعنی $\frac{2}{3}y + 20 > 3y + 2$ و $\frac{2}{3}y + 20 > 29 - y$ ، که جواب

مشترک آن‌ها به صورت $7\frac{5}{7} < y < 5\frac{2}{5}$ درمی‌آید و چون y عددی درست

است، می‌تواند برابر ۶ یا ۷ باشد. $6 = y$ قابل قبول نیست، زیرا به ازای آن، از نامعادله‌های (۱) به دست می‌آید $x > 23$ ، $x > 20$ و $x < 24$ که، در نتیجه، برای x ، عدد درستی پیدا نمی‌شود. پس $y = 7$. و در این صورت، از نامعادله‌های (۱) خواهیم داشت:

$$x > 22, x > 23, x < 24\frac{2}{3}$$

که تنها $x = 24$ جواب مشترك آن‌هاست.

پاسخ: جعبه اول شامل ۲۴ قطعه و جعبه دوم شامل ۷ قطعه است.

۱۵. تعداد اتومبیل‌های کارخانه اول را در هر شبانه روز x می‌گیریم.

تعداد اتومبیل‌های تولیدی کارخانه دوم، قبل از بازسازی $\frac{95x}{100}$ و بعد از

بازسازی $\frac{95x}{100} + \frac{23x}{100}$ می‌شود. بنابراین

$$x \leq 950, \frac{95x}{100} + \frac{23x}{100} > 1000$$

که از آن جا به دست می‌آید: $847\frac{27}{59} < x \leq 950$. عددهای $\frac{23x}{100}$ و

$\frac{95x}{100}$ باید عددهای درستی باشند، یعنی x بر ۱۰۰ بخش پذیر است. بنابراین

$$x = 900$$

پاسخ: کارخانه اول ۹۰۰ و کارخانه دوم ۸۵۵ اتومبیل.

۱۶. فرض می‌کنیم، در آلیاژ جدید که ۴۰ درصد منگنز دارد، x کیلو-

گرم از آلیاژ اول، y کیلوگرم از آلیاژ دوم و z کیلوگرم از آلیاژ سوم مصرف شده باشد. بنابراین، با توجه به فرض مسأله، باید داشته باشیم:

$$0.9y + 0.6z = 0.4(x + y + z) \Rightarrow 4x = 5y + 2z \quad (1)$$

در آلیاژ جدید $(0.7x + 0.1y + 0.25z)$ کیلوگرم مس و در هر

کیلوگرم آن به اندازه

$$M = \frac{0.7x + 0.1y + 0.25z}{x + y + z}$$

کیلوگرم مس وجود دارد که، با توجه به (۱) به دست می آید:

$$M = \frac{13y + 8z}{30y + 20z}$$

در این رابطه، y و z می توانند مقادیرهای دلخواه غیر منفی را، به شرط $y^2 + z^2 \neq 0$ ، اختیار کنند. سه حالت در نظر می گیریم:

الف) $y = 0$ و $z \neq 0$ ؛ در این صورت $M = \frac{2}{5}$ ؛

ب) $y \neq 0$ و $z = 0$ ، در این صورت $M = \frac{13}{30}$ ؛

ج) $y \neq 0$ و $z \neq 0$ ، در این صورت

$$M = \frac{13 + \frac{8z}{y}}{30 + \frac{20z}{y}} = \frac{13 + \frac{8y}{z}}{30 + \frac{20y}{z}} + \frac{1}{30 + \frac{20y}{z}} =$$

$$= \frac{2}{5} + \frac{1}{30 + \frac{20y}{z}}$$

که از آن نتیجه می شود: $\frac{2}{5} < M < \frac{2}{5} + \frac{1}{30} = \frac{13}{30}$

پاسخ: حداکثر مقدار مس در آلیاژ جدید $43\frac{1}{3}$ درصد و حداقل آن ۴۰

درصد می تواند باشد.

۱۲. دو حالت در نظر می گیریم:

الف) $0 \leq x \leq 2$ ، یعنی $|x - 2| = -x + 2$ و

$$f(x) = x^2 + 2x^2 - 4x; \quad f'(x) = 3x^2 + 4x - 4$$

$f'(x) = 0$ دو جواب دارد: $x = -2$ و $x = \frac{2}{3}$ ، که تنها $x = \frac{2}{3}$ در بازه

$[0, 2]$ واقع است.

$f'(x)$ در نقطه $x = \frac{2}{3}$ تغییر علامت می دهد و از منفی به مثبت می رود،

بنا بر این $f(x)$ در نقطه $x = \frac{2}{3}$ می نیمم است.

ب) $2 < x \leq 3$ ، یعنی $|x - 2| = x - 2$ و

$$f(x) = x^3 - 2x^2 + 4x, \quad f'(x) = 3x^2 - 4x + 4 > 0$$

$f(x)$ در بازه $[2, 3]$ می نیمم نسبی ندارد.

برای پیدا کردن حداکثر مقدار تابع در بازه $[0, 3]$ ، باید مقدارهای

تابع را در نقطه های مرزی مقایسه کنیم:

$$f(0) = 0, \quad f(2) = 8, \quad f(3) = 21$$

حداکثر مقدار تابع در این بازه، برابر ۲۱ است.

۱۸. چون O مرکز دایره محاطی مثلث است، بنا بر این پاره خط های

راست OA ، OB و OC ، نیمسازهای زاویه های مثلث اند و مثلاً

$$\widehat{AOB} = 180^\circ - \frac{\widehat{A} + \widehat{B}}{2}$$

می دانیم، در هر مثلث، نسبت طول یک ضلع بر سینوس زاویه روبروی آن،

برابر با قطر دایره محیطی مثلث است. به این ترتیب، در مثلث های ABC و

ABO داریم:

$$|AB| = 2R \sin \widehat{C} = 2R \sin \frac{\widehat{C}}{2} \cos \frac{\widehat{C}}{2},$$

$$|AB| = 2R_p \sin \left(180^\circ - \frac{\widehat{A} + \widehat{B}}{2} \right) = 2R_p \sin \frac{\widehat{A} + \widehat{B}}{2} = 2R_p \cos \frac{\widehat{C}}{2}$$

از آن جا $2R_p \cos \frac{\widehat{C}}{2} = 2R \sin \frac{\widehat{C}}{2} \cos \frac{\widehat{C}}{2}$ ، یعنی $R_p = 2 \sin \frac{\widehat{C}}{2}$ به همین

ترتیب: $R_p = 2R \sin \frac{\widehat{A}}{2}$ و $R_p = 2R \sin \frac{\widehat{B}}{2}$ در نتیجه

$$R_1^2 + R_2^2 + R_3^2 = 2R^2 \left(\sin^2 \frac{\hat{A}}{2} + \sin^2 \frac{\hat{B}}{2} + \sin^2 \frac{\hat{C}}{2} \right) \geq \\ \geq 2R^2 \times \frac{3}{4} = 3R^2$$

(برای اثبات نابرابری $\sin^2 \frac{\hat{A}}{2} + \sin^2 \frac{\hat{B}}{2} + \sin^2 \frac{\hat{C}}{2} \geq \frac{3}{4}$ ، تمرین)

(۲۰۲۸) وحل آن را ببینید.

(۱۰۱۹) جذرتقریبی نقصانی و جذرتقریبی اضافی هر يك از جمله‌های

A را، تا $0/1$ تقریب، محاسبه می‌کنیم:

$$1 = 1, \quad 0/7 < \frac{1}{\sqrt{2}} < 0/8, \quad 0/5 < \frac{1}{\sqrt{3}} < 0/6,$$

$$\frac{1}{\sqrt{4}} = 0/5, \quad 0/4 < \frac{1}{\sqrt{5}} < 0/5, \quad 0/4 < \frac{1}{\sqrt{6}} < 0/5$$

که از مجموع آن‌ها به دست می‌آید: $3/5 < A < 3/9$ و بنا بر این $[A] = 3$.

(۲) این تمرین، با تمرین قبل تفاوت اساسی ندارد، با وجود این، به

علت زیادی تعداد جمله‌ها، نمی‌توان با محاسبه مستقیم به نتیجه رسید. ابتدا

يك پیش‌قضیه را ثابت می‌کنیم.

پیش‌قضیه. فرض می‌کنیم:

$$x = 1 + \frac{1}{\sqrt{2}} + \frac{1}{\sqrt{3}} + \frac{1}{\sqrt{4}} + \dots + \frac{1}{\sqrt{n}}$$

$$2\sqrt{n+1} - 2\sqrt{n} < \frac{1}{\sqrt{n}} < 2\sqrt{n} - 2\sqrt{n-1} \quad (1)$$

$$2\sqrt{n} - 2 < x < 2\sqrt{n} - 1 \quad (n > 1) \quad (2)$$

اثبات. درستی نابرابری‌های (۱) به سادگی به دست می‌آید:

$$2\sqrt{n+1} - 2\sqrt{n} = 2(\sqrt{n+1} - \sqrt{n}) =$$

$$= \frac{2}{\sqrt{n+1} + \sqrt{n}} < \frac{2}{2\sqrt{n}} = \frac{1}{\sqrt{n}}$$

$$2\sqrt{n} - 2\sqrt{n-1} = 2(\sqrt{n} - \sqrt{n-1}) =$$

$$= \frac{2}{\sqrt{n} + \sqrt{n-1}} > \frac{2}{2\sqrt{n}} = \frac{1}{\sqrt{n}}$$

برای اثبات نابرابری‌های (۲)، درنا برابری‌های (۱)، به جای n ، به ترتیب، عددهای ۲، ۳، ۴، ...، n را قرار می‌دهیم، به دست می‌آید:

$$2\sqrt{3} - 2\sqrt{2} < \frac{1}{\sqrt{2}} < 2\sqrt{2} - 2$$

$$2\sqrt{4} - 2\sqrt{3} < \frac{1}{\sqrt{3}} < 2\sqrt{3} - 2\sqrt{2}$$

$$2\sqrt{5} - 2\sqrt{4} < \frac{1}{\sqrt{4}} < 2\sqrt{4} - 2\sqrt{3}$$

.....

$$2\sqrt{n+1} - 2\sqrt{n} < \frac{1}{\sqrt{n}} < 2\sqrt{n} - 2\sqrt{n-1}$$

که از مجموع آن‌ها نتیجه می‌شود:

$$2\sqrt{n+1} - 2\sqrt{2} < x - 1 < 2\sqrt{n} - 2$$

یا، با اضافه کردن يك واحد به همه جمله‌ها

$$2\sqrt{n+1} - 2\sqrt{2} + 1 < x < 2\sqrt{n} - 1$$

چون $2\sqrt{2} < 3$ و $\sqrt{n+1} > \sqrt{n}$ ، از نابرابری‌های اخیر می‌توان نتیجه گرفت:

$$2\sqrt{n} - 2 < x < 2\sqrt{n} - 1$$

پیش‌قضیه ثابت شد.

اکنون، اگر درنا برابری‌های (۲)، قرار دهیم $n = 1000000$ ، به -

دست می آید:

$$2\sqrt{10000000} - 2 < B < 2\sqrt{10000000} - 1$$

و یا $1999 < B < 1988$ ، یعنی $[B] = 1998$.

۳) در پیش قضیه ای که هم اکنون در حل تمرین ۱۹.۲ آورديم، دیدیم:

$$2\sqrt{n+1} - 2\sqrt{n} < \frac{1}{\sqrt{n}} < 2\sqrt{n} - 2\sqrt{n-1}$$

این بستگی را می توان، به مفهومی، تعمیم داد $m < n$ می گیریم و در این نابرابری ها، به ترتیب n را برابر m ، $m+1$ ، $m+2$ ، ...، n فرض می کنیم و، سپس نابرابری های حاصل را با هم جمع می کنیم، به دست می آید:

$$2\sqrt{n+1} - 2\sqrt{m} < \frac{1}{\sqrt{m}} + \frac{1}{\sqrt{m+1}} + \dots + \frac{1}{\sqrt{n}} < \\ < 2\sqrt{n} - 2\sqrt{m-1}$$

اکنون اگر، $m = 10000$ و $n = 1000000$ بگیریم، خواهیم داشت:

$$2\sqrt{10000001} - 2\sqrt{10000} < \frac{C}{50} < 2\sqrt{10000000} - 2\sqrt{9999}$$

و چون داریم:

$$2\sqrt{10000001} > 2\sqrt{1000000} = 2000$$

$$2\sqrt{10000} = 2000, 2\sqrt{9999} = \sqrt{39996} > 199/98$$

به دست می آید:

$$1800 < \frac{C}{50} < 1800/2$$

و سرانجام، با ضرب همه جمله ها در ۵۰، خواهیم داشت:

$$90000 < C < 90001$$

یعنی $[C] = 90000$.

$\sqrt{n} = k + \alpha \cdot 20$ می‌گیریم که، در آن، k عددی است درست و $0 \leq \alpha < 1$ داریم:

$$\{\sqrt{n}\} = \sqrt{n} - [\sqrt{n}] = \sqrt{n} - k$$

نا برابری‌های فرض، به این صورت درمی‌آیند:

$$\frac{3}{10} < \sqrt{n} - k < \frac{1}{3} \iff \frac{3}{10} + k < \sqrt{n} < \frac{1}{3} + k$$

همه جمله‌ها مثبت اند و می‌توان آن‌ها را مجذور کرد:

$$k^2 + \frac{3}{5}k + \frac{9}{100} < n < k^2 + \frac{2}{3}k + \frac{1}{9}$$

اگر k را برابر ۵، ۱، ۲ بگیریم، برای n عدد درستی به دست نمی‌آید. به ازای $k = 3$ داریم:

$$10 + \frac{89}{100} < n < 11 + \frac{1}{9} \implies n = 11$$

$n = 11$ کوچکترین عدد طبیعی است که در شرط مسأله صدق می‌کند.

۱۰۲۱) داریم:

$$\frac{1}{n+1} + \frac{1}{n+2} + \dots + \frac{1}{2n} > \frac{1}{2n} + \frac{1}{2n} + \dots + \frac{1}{2n} = \frac{n}{2n} = \frac{1}{2}$$

نا برابری سمت چپ ثابت شد. برای نا برابری سمت راست، به ترتیب می‌نویسیم:

$$\begin{aligned} & \frac{1}{n} + \frac{1}{n+1} + \frac{1}{n+2} + \dots + \frac{1}{2n} = \\ & = \frac{1}{2} \left[\left(\frac{1}{n} + \frac{1}{2n} \right) + \left(\frac{1}{n+1} + \frac{1}{2n-1} \right) + \left(\frac{1}{n+2} + \frac{1}{2n-2} \right) + \dots + \left(\frac{1}{2n} + \frac{1}{n} \right) \right] = \frac{1}{2} \left[\frac{3n}{2n^2} + \frac{3n}{2n^2 + (n-1)} + \dots \right] \end{aligned}$$

$$\begin{aligned}
 & + \frac{3n}{2n^2 + 2(n-1)} + \dots + \frac{3n}{2n^2} \Big] < \\
 & < \frac{1}{2} \left(\frac{3n}{2n^2} + \frac{3n}{2n^2} + \dots + \frac{3n}{2n^2} \right) = \frac{1}{4} (n+1) \frac{3}{n} = \\
 & = \frac{3}{4} + \frac{3}{4n} < \frac{3}{4} + \frac{1}{n}
 \end{aligned}$$

$$\frac{1}{n+1} + \frac{1}{n+2} + \dots + \frac{1}{2n} < \frac{3}{4} \text{ بنابراین}$$

(۲) این نابرابری روشن است:

$$\frac{1}{3n} + \frac{1}{3n+1} < \frac{1}{2n} + \frac{1}{2n} = \frac{1}{n}$$

برای نابرابری سمت راست داریم:

$$\begin{aligned}
 & \frac{1}{n+1} + \frac{1}{n+2} + \dots + \frac{1}{3n-1} + \left(\frac{1}{3n} + \frac{1}{3n+1} \right) < \\
 & < \frac{1}{n} + \frac{1}{n} + \dots + \frac{1}{n} + \frac{1}{n} = \frac{2n}{n} = 2
 \end{aligned}$$

و برای نابرابری سمت چپ، به ترتیب می‌نویسیم:

$$\begin{aligned}
 & \frac{1}{n+1} + \frac{1}{n+2} + \dots + \frac{1}{3n+1} = \\
 & = \frac{1}{2} \left[\left(\frac{1}{n+1} + \frac{1}{3n+1} \right) + \left(\frac{1}{n+2} + \frac{1}{3n} \right) + \right. \\
 & \quad \left. + \dots + \left(\frac{1}{3n+1} + \frac{1}{n+1} \right) \right] = \\
 & = \frac{1}{2} \left[\frac{3n+2}{(3n+1)^2 - n^2} + \frac{3n+2}{(3n+1)^2 - (n-1)^2} + \right. \\
 & \quad \left. + \dots + \frac{3n+2}{(3n+1)^2 - n^2} \right] > \frac{1}{2} \left[\frac{3n+2}{(3n+1)^2} + \frac{3n+2}{(3n+1)^2} + \dots \right]
 \end{aligned}$$

$$\dots + \frac{2n+2}{(2n+1)^2} \Big] = \frac{1}{2}(2n+1) \frac{2n+2}{(2n+1)^2} = 1$$

(۳) با توجه به برابری روشن $\frac{1}{k(k+1)} = \frac{1}{k} - \frac{1}{k+1}$ داریم:

$$\frac{1}{1 \times 2} + \frac{1}{2 \times 3} + \frac{1}{3 \times 4} + \dots + \frac{1}{(n-1)n} = 1 - \frac{1}{n} < 1$$

اکنون، برای نابرابری مفروض می‌توان نوشت:

$$\begin{aligned} 1 + \frac{1}{4} + \frac{1}{9} + \frac{1}{16} + \dots + \frac{1}{n^2} &< 1 + \left(\frac{1}{1 \times 2} - \frac{1}{4} \right) + \frac{1}{2 \times 3} + \\ &+ \frac{1}{3 \times 4} + \frac{1}{4 \times 5} + \dots + \frac{1}{(n-1)n} = 1 - \frac{1}{4} + \left(1 - \frac{1}{n} \right) = \\ &= 1 \frac{3}{4} - \frac{1}{n} < 1 \frac{3}{4} \end{aligned}$$

(۴) فرض می‌کنیم:

$$a = \frac{1}{2} \cdot \frac{3}{4} \cdot \frac{5}{6} \dots \frac{99}{100}, \quad b = \frac{2}{3} \cdot \frac{4}{5} \cdot \frac{6}{7} \dots \frac{100}{101}$$

روشن است که $a < b$ ، زیرا هر عامل a از عامل متناظر خود در b کوچکتر است:

$$\frac{1}{2} < \frac{2}{3}, \quad \frac{3}{4} < \frac{4}{5}, \quad \frac{5}{6} < \frac{6}{7}, \quad \dots, \quad \frac{99}{100} < \frac{100}{101}$$

بنابراین $a^2 < ab$ و

$$a^2 < ab = \left(\frac{1}{2} \cdot \frac{2}{3} \right) \cdot \left(\frac{3}{4} \cdot \frac{4}{5} \right) \cdot \left(\frac{5}{6} \cdot \frac{6}{7} \right) \dots \left(\frac{99}{100} \cdot \frac{100}{101} \right) = \frac{1}{101}$$

$$a < \frac{1}{\sqrt{101}} < \frac{1}{10} \quad \text{و} \quad a^2 < \frac{1}{101}$$

(۵) نابرابری را با روش استقرای ریاضی ثابت می‌کنیم. نابرابری

به ازای $n=1$ به برابری تبدیل می‌شود: $\frac{1}{1} = \frac{1}{1}$ ، و به ازای $n=2$

$$\frac{1}{2} \times \frac{3}{4} < \frac{1}{\sqrt{7}} \Rightarrow \frac{3}{8} < \frac{1}{\sqrt{7}} \Rightarrow \frac{9}{64} < \frac{1}{7} \Rightarrow \frac{9}{64} < \frac{9}{63}$$

اکنون فرض می‌کنیم، نابرابری به‌ازای $n = k$ درست باشد:

$$\frac{1}{2} \cdot \frac{3}{4} \cdot \frac{5}{6} \cdots \frac{2k-1}{2k} < \frac{1}{\sqrt{3k+1}}$$

باضرب دوطرف این نابرابری در $\frac{2k+1}{2k+2}$ به‌دست می‌آید:

$$\frac{1}{2} \cdot \frac{3}{4} \cdots \frac{2k-1}{2k} \cdot \frac{2k+1}{2k+2} < \frac{1}{\sqrt{3k+1}} \cdot \frac{2k+1}{2k+2}$$

بنابراین، کافی است ثابت کنیم:

$$\frac{1}{\sqrt{3k+1}} \cdot \frac{2k+1}{2k+2} < \frac{1}{\sqrt{3k+4}}$$

اگر دوطرف این نابرابری را در $(2k+2)\sqrt{3k+1} \cdot \sqrt{3k+4}$ ضرب و سپس، دوطرف را مجذور کنیم، بعد از ساده کردن، به این صورت درمی‌آید:

$$12k^3 + 28k^2 + 19k + 4 < (12k^3 + 28k^2 + 19k + 4) + k$$

که درستی آن روشن است.

یادداشت. در تمرین (۲۰۴۱) ثابت کردیم:

$$\frac{1}{2} \cdot \frac{3}{4} \cdot \frac{5}{6} \cdots \frac{99}{100} < \frac{1}{10}$$

این نابرابری را می‌توان قوی‌تر کرد. اگر در نابرابری تمرین (۲۰۴۱) قرار دهیم $n = 50$ ، به‌دست می‌آید:

$$\frac{1}{2} \cdot \frac{3}{4} \cdot \frac{5}{6} \cdots \frac{99}{100} < \frac{1}{\sqrt{151}} < \frac{1}{\sqrt{144}} = \frac{1}{12}$$

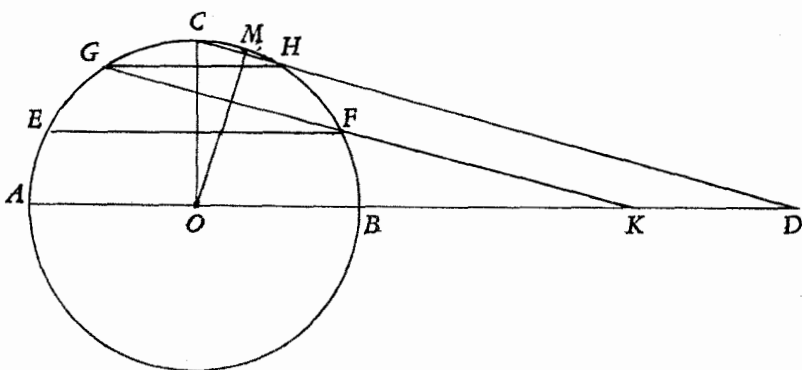
(۶) در تمرین (۲۰۹۹) ثابت کردیم (صفحه ۱۵۳):

$$2\sqrt{n+1} - 2\sqrt{n} < \frac{1}{\sqrt{n}} < 2\sqrt{n} - 2\sqrt{n-1} \quad (1)$$

اکنون، اگر در (۱)، مقدار n را، به ترتیب، برابر m ، $m+1$ ، $m+2$ ، ...، n بگیریم و، سپس، نابرابری‌های حاصل را باهم جمع کنیم، به دست می‌آید:

$$2\sqrt{n+1} - 2\sqrt{m} < \frac{1}{\sqrt{m}} + \frac{1}{\sqrt{m+1}} + \dots + \frac{1}{\sqrt{n}} < 2\sqrt{n} - 2\sqrt{m-1}$$

۱۰۴۲) نقطه برخورد خط راست GF را با $[OD]$ با حرف K نشان می‌دهیم و E را به B وصل می‌کنیم. به سادگی می‌توان ثابت کرد: $[CH] \parallel [GF] \parallel [EB]$ (شکل ۱۱ را ببینید). در نتیجه



شکل ۱۱

$$|GH| = |KD| \text{ و } |EF| = |BK|$$

$$|OD| = |EF| + |GH| + R \quad \text{و بنا بر این}$$

در کتاب «مساحت شکل‌های مسطحه و کروی»، فرزندان موسی بن شاکر (که در زمان مأمون خلیفه عباسی می‌زیسته‌اند)، این قضیه را برای حالتی ثابت کرده‌اند که، ربع دایره BC ، به سه بخش برابر تقسیم شده باشد (همان-

طور که در این جا ثابت شده است). ولی، همان طور که بنوموسی یادآوری می‌کنند، این قضیه در حالت کلی، وقتی که ربع دایره BC به n بخش برابر تقسیم شده باشد، درست است و همیشه با همین روش استدلال می‌توان ثابت کرد که:

(طول شعاع دایره) + (مجموع طول‌های وترهای موازی) $= |OD|$
 ۲) مثلث‌های قائم‌الزاویه OCM و OMD متشابه‌اند (چرا؟) و

بنابراین

$$\frac{|OC|}{|OD|} = \frac{|CM|}{|OM|} \Rightarrow |OM| \cdot |OC| = |CM| \cdot |OD| \quad (1)$$

$|OM| < |OC| = R$ و بنابراین

$$|OM|^2 < |OM| \cdot |OC| < R^2$$

اگر در این نابرابری‌ها، به جای $|OM| \cdot |OC|$ از رابطه (۱) قرار دهیم،

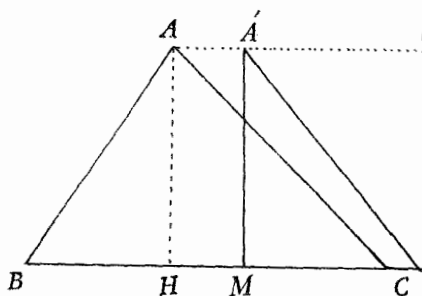
با توجه به $|CM| = \frac{1}{4}|CH|$ به دست می‌آید:

$$|OM|^2 < \frac{1}{4}|HC| \cdot |OD| < R^2$$

یادداشت. بنوموسی، بر اساس این دو قضیه و قضیه دیگری (که نتیجه‌ای از این دو قضیه است)، ثابت کرده‌اند که: الف) سطح کره برابر است با چهار برابر مساحت دایره عظیمه آن و ب) حجم کره برابر است با حاصل ضرب شعاع در یک سوم سطح آن.

۲۳. چهاروجهی را $SABC$

می‌گیریم و فرض می‌کنیم، طول همه یال‌های آن، به جز SA ، از واحد تجاوز نکند. ارتفاع AH در مثلث ABC (قاعده چهاروجهی) را h_1 می‌نامیم و از نقطه M ، وسط پاره‌خط راست BC ، عمودی به طول h_1 بر



شکل ۱۲

BC اخراج می‌کنیم (شکل ۱۲). روشن است که $|CA'| \leq |CA|$ ، بنا بر این

$$|CA'|^2 \leq |CA|^2 \Rightarrow h_1^2 + \frac{a^2}{4} \leq b^2 \Rightarrow h_1^2 \leq 1 - \frac{a^2}{4}$$

$A'MC$ الزاویه $\angle A'MC$ در مثلث قائم الزاویه $A'MC$ ، در ضمن، گرفته‌ایم؛ $b = |AC|$ ، $a = |BC|$

به دست می‌آید: $|CA'|^2 = h_1^2 + \frac{a^2}{4}$ ؛ نابرابری آخر به دلیل $b \leq 1$ درست

است). از این جا $h_1 \leq \sqrt{1 - \frac{a^2}{4}}$. به همین ترتیب اگر در مثلث SBC ، طول

ارتفاع وارد از رأس S بر ضلع BC را h_2 بنامیم، خواهیم داشت

$h_2 \leq \sqrt{1 - \frac{a^2}{4}}$ (در مثلث SBC هم، هیچ ضلعی از واحد تجاوز نمی‌کند).

در ضمن، در حالتی که مثلث‌های ABC و SBC متساوی‌الاضلاع باشند، به -

برابری‌های $h_2 = h_1$ و $h_1 = \sqrt{1 - \frac{a^2}{4}}$ می‌رسیم.

اکنون، اگر ارتفاع چهاروجهی را، که از رأس S بر صفحه‌ی قاعده ABC

فرود آمده است، h بگیریم، روشن است که $h \leq h_2$ و برای V ، حجم چهار -

وجهی داریم:

$$\begin{aligned} V &= \frac{1}{3} h \cdot S_{ABC} \leq \frac{1}{3} h_2 \cdot \left(\frac{1}{2} ah_1 \right) \leq \frac{1}{6} a \left(1 - \frac{a^2}{4} \right) = \\ &= \frac{1}{6} a \left(1 + \frac{a}{2} \right) \left(1 - \frac{a}{2} \right) \leq \frac{1}{6} a \cdot \frac{3}{2} \left(1 - \frac{a}{2} \right) = \frac{1}{8} (2a - a^2) = \\ &= \frac{1}{8} [1 - (a-1)^2] \leq \frac{1}{8} \end{aligned}$$

علامت برابری، وقتی به دست می‌آید که، اولاً $a = 1$ ، ثانیاً $h = h_2$

باشد، یعنی وقتی که همه‌ی یال‌های چهاروجهی، به جز SA ، برابر واحد باشند و

در ضمن، صفحه‌ی SBC بر صفحه‌ی ABC عمود باشد.

۲۴. چون دنباله غیر صعودی است، بنا بر این $a_k = \frac{1}{2^k}$ و چون مجموع

همه عددهای دنباله برابر واحد است، بنا بر این تعداد این عددها نمی تواند کمتر از $2k$ باشد. فرض می کنیم در k عدد اول دنباله، کوچکترین عدد، از نصف بزرگترین عدد، بزرگتر نباشد، یعنی $a_k \leq \frac{1}{2}a_1$ ؛ همچنین برای k عدد

$a_k, a_{k+1}, \dots, a_{2k-1}$ داشته باشیم $a_{2k-1} \leq \frac{1}{4}a_k \leq \frac{1}{8}a_1$ ؛ به همین ترتیب، اگر $n \geq 3k-1$ باشد، برای k عدد از a_{2k-1} تا a_{3k-2} ، نابرابری

$$a_{3k-2} \leq \frac{1}{4}a_{2k-1} \leq \frac{1}{8}a_1$$

برقرار می شود و غیره. بنا بر این

$$a_1 + a_k + a_{2k-1} + a_{3k-2} \leq \left(1 + \frac{1}{4} + \frac{1}{8} + \dots\right)a_1 < 2a_1$$

به همین ترتیب، اگر k عدد متوالی را، از a_1 آغاز کنیم، به دست می آید:

$$a_1 + a_{k+1} + a_{2k} + a_{3k-1} + \dots < 2a_1 < 2a_1$$

و با آغاز از a_1, a_4, \dots

$$a_1 + a_{k+2} + a_{2k+1} + a_{3k} + \dots < 2a_1$$

$$a_1 + a_{k+3} + a_{2k+2} + a_{3k+1} + \dots < 2a_1$$

.....

$$a_{k-1} + a_{2k-2} + a_{3k-3} + \dots < 2a_1$$

از مجموع همه این نابرابری ها (به تعداد $k-1$) نتیجه می شود:

$$a_1 + a_2 + \dots + a_n < k \times 2a_1 = 2k \cdot \frac{1}{2} = k$$

که شرط مسأله را نقض می کند. بنا بر این، دست کم، در یکی از این k جمله متوالی، باید کوچکترین عدد، از نصف بزرگترین عدد، بزرگتر باشد.

۲۵. ابتدا این نابرابری ها را، برای $n \in \mathbb{N}$ ، ثابت می کنیم:

$$\left(1 + \frac{2}{3n}\right)^2 > \left(1 + \frac{1}{n}\right)^2 \quad \text{و} \quad \left(1 - \frac{2}{3n}\right)^2 > \left(1 - \frac{1}{n}\right)^2 \quad (1)$$

داریم:

$$\left(1 + \frac{2}{3n}\right)^2 = 1 + \frac{2}{n} + \frac{4}{9n^2} + \frac{8}{27n^3}$$

$$\left(1 + \frac{1}{n}\right)^2 = 1 + \frac{2}{n} + \frac{1}{n^2}$$

که در دو جمله اول برابرند و، در ضمن، $\frac{4}{9n^2} = \frac{4}{3} \cdot \frac{1}{n^2} > \frac{1}{n^2}$ نابرابری سمت راست (1) هم، به همین ترتیب ثابت می شود.

از نابرابری سمت چپ (1) به دست می آید

$$1 + \frac{2}{3n} > \left(1 + \frac{1}{n}\right)^{\frac{2}{3}}$$

که اگر دو طرف آن را در $n^{\frac{2}{3}}$ ضرب کنیم:

$$n^{\frac{2}{3}} + \frac{2}{3n^{\frac{1}{3}}} > (n+1)^{\frac{2}{3}} \Rightarrow \frac{1}{\sqrt[3]{n}} > \frac{3}{2}(\sqrt[3]{(n+1)^2} - \sqrt[3]{n^2})$$

و باروشی مشابه، از نابرابری سمت راست (1) نتیجه می شود:

$$\frac{1}{\sqrt[3]{n}} < \frac{3}{2}(\sqrt[3]{n^2} - \sqrt[3]{(n-1)^2})$$

به این ترتیب:

$$\frac{3}{2}(\sqrt[3]{(n+1)^2} - \sqrt[3]{n^2}) < \frac{1}{\sqrt[3]{n}} < \frac{3}{2}(\sqrt[3]{n^2} - \sqrt[3]{(n-1)^2}) \quad (2)$$

بنابراین، از یک طرف، با توجه به نابرابری سمت راست (2) داریم:

$$\begin{aligned} & \frac{1}{\sqrt[3]{4}} + \frac{1}{\sqrt[3]{5}} + \dots + \frac{1}{\sqrt[3]{1000000}} > \frac{3}{2}[(\sqrt[3]{5^2} - \sqrt[3]{4^2}) + \\ & + (\sqrt[3]{6^2} - \sqrt[3]{5^2})] + \dots + (\sqrt[3]{1000000^{12}} - \sqrt[3]{1000000^2}) = \\ & = \frac{3}{2}(\sqrt[3]{1000000^{12}} - \sqrt[3]{16}) > \frac{3}{2} \times 100000 - \sqrt[3]{64} = \end{aligned}$$

$$= 15000 - 4 = 14996$$

واظرف دیگر، با توجه به نابرابری سمت راست (۲):

$$\frac{1}{\sqrt[4]{4}} + \frac{1}{\sqrt[4]{5}} + \dots + \frac{1}{\sqrt[4]{10000000}} < \frac{3}{2}(\sqrt[4]{10000000^2} - \sqrt[4]{9}) < \\ < \frac{3}{2}(100000 - 2) = 14997$$

و در نتیجه $[A] = 14996$.

۲۶. تعداد عددهای k رقمی را که شامل رقم ۹ نباشند، n_k می‌گیریم. روشن است که $n_1 = 8$ (صفر را به حساب نیاورده‌ایم، زیرا نمی‌تواند در مخارج قرار گیرد) و $n_2 = 8 \times 9$ ، زیرا در سمت راست هر عدد یک رقمی از ۱ تا ۸، تنها ۹ رقم از ۰ تا ۸ را می‌توان قرارداد و با عدد یک رقمی ۹ هم، نمی‌توان عدد دورقمی درست کرد (به یاد داشته باشیم که، در عددهای ما، نباید رقم ۹ وجود داشته باشد). به طور کلی، اگر $10^k < a < 10^{k+1}$ باشد، برای تعداد عددهای a (بدون رقم ۹) داریم:

$$n_{k+1} = 9n_k$$

زیرا، اگر یکی از عددهای $10^k < b < 10^{k+1}$ را، که بدون رقم ۹ است، در نظر بگیریم، تنها با گذاشتن یکی از رقم‌های ۰ تا ۸ در سمت راست آن، می‌توان به یکی از عددهای a رسید.

اکنون به مجموع مورد نظر می‌پردازیم و کسرها را تا $n < 10^m + 1$ در نظر می‌گیریم. از این کسرها، آن‌هایی را که در مخارج خود، رقم ۹ دارند، کنار می‌گذاریم و بقیه را به این صورت می‌نویسیم:

$$\left(1 + \frac{1}{2} + \dots + \frac{1}{8}\right) + \left(\frac{1}{10} + \frac{1}{11} + \dots + \frac{1}{88}\right) + \\ + \left(\frac{1}{100} + \frac{1}{101} + \dots + \frac{1}{888}\right) + \dots + \left(\frac{1}{10^m} + \frac{1}{10^m + 1} + \dots\right)$$

$$\begin{aligned}
 & \underbrace{\left(+ \frac{1}{\underbrace{88 \dots 88}_{m+1}} \right)}_{\text{مرتبه } m+1} \leq 1 \times n_1 + \frac{1}{10} \cdot n_2 + \frac{1}{100} \cdot n_3 + \dots + \\
 & \quad + \frac{1}{10^{m-1}} \cdot n_m + \frac{1}{10^m} n_{m+1}
 \end{aligned}$$

(روشن است که مقدار هر پرانتز، از حاصل ضرب بزرگترین جمله در تعداد جمله‌های آن کوچکتر است). از طرف دیگر داریم:

$$\begin{aligned}
 1 \times n_1 + \frac{1}{10} \times n_2 + \frac{1}{100} \times n_3 + \dots + \frac{1}{10^m} \cdot n_{m+1} &= \\
 = 8 \left(1 + \frac{9}{10} + \frac{9^2}{10^2} + \dots + \frac{9^m}{10^m} \right) &= \\
 = 8 \times \frac{1 - \frac{9^{m+1}}{10^{m+1}}}{1 - \frac{9}{10}} < 8 \times \frac{1}{1 - \frac{9}{10}} = 80
 \end{aligned}$$

۲۷. اگر همه نابرابری‌ها را با هم جمع کنیم، سمت چپ نابرابری، برابر صفر می‌شود، بنا بر این به ناچار، دستگاه نابرابری‌ها به دستگاه برابری‌ها تبدیل می‌شود:

$$a_1 - 2a_2 + 3a_3 = 0, \dots, a_{100} - 2a_1 + 3a_2 = 0$$

که می‌توان آن‌ها را به این صورت نوشت:

$$a_1 - a_2 = 3(a_2 - a_3), \quad a_2 - a_3 = 3(a_3 - a_4), \quad \dots$$

$$\dots, \quad a_{99} - a_{100} = 3(a_{100} - a_1), \quad a_{100} - a_1 = 3(a_1 - a_2)$$

یعنی

$$a_1 - a_2 = 3(a_2 - a_3) = 3^2(a_3 - a_4) = \dots = 3^{100}(a_1 - a_2)$$

برابری $a_1 - a_2 = 3^{100}(a_1 - a_2)$ ، تنها با شرط $a_1 = a_2$ برقرار است. ولی در این صورت، با توجه به برابری $a_1 - a_2 = 3(a_2 - a_3)$ به دست

می آید: $a_1 = a_2 = a_3 = \dots = a_{100} = 10$ تا آخر. دستگاه تنها وقتی برقرار است که داشته باشیم:

$$a_1 = a_2 = a_3 = \dots = a_{100} = 10$$

(۱۰۲۸) از برابری فرض، با تبدیل حاصل ضرب دو سینوس به تفاضل دو کسینوس، به دست می آید:

$$\cos \frac{\hat{B} - \hat{C}}{2} = 2m + \sin \frac{\hat{A}}{2}$$

اگر $2m + \sin \frac{\hat{A}}{2} = \cos \alpha$ و $0 \leq \alpha < \frac{\pi}{2}$ بگیریم (چون

$$\frac{\hat{B} - \hat{C}}{2} < \frac{\hat{B} + \hat{C}}{2} = \frac{\pi}{2} - \frac{\hat{A}}{2}$$

بنابراین، α زاویه ای است حاده (که البته، برابر صفر هم می تواند باشد)، داریم:

$$\hat{B} - \hat{C} = 2\alpha, \quad \hat{B} + \hat{C} = \pi - \hat{A}$$

$$\text{از آن جا } \hat{B} = \frac{\pi}{2} - \frac{\hat{A}}{2} + \alpha \text{ و } \hat{C} = \frac{\pi}{2} - \frac{\hat{A}}{2} - \alpha$$

برای این که مسئله جواب داشته باشد، باید داشته باشیم:

$$2m + \sin \frac{\hat{A}}{2} \leq 1 \text{ در ضمن از برابری } \alpha < \frac{\pi}{2} - \frac{\hat{A}}{2} \text{ به دست می آید:}$$

$$\sin \frac{\hat{A}}{2} < \cos \alpha. \text{ به این ترتیب، به نابرابری های زیر می رسیم:}$$

$$\sin \frac{\hat{A}}{2} < 2m + \sin \frac{\hat{A}}{2} \leq 1$$

و از نابرابری سمت راست، شرط وجود جواب به دست می آید:

$$m \leq \frac{1}{2} \left(1 - \sin \frac{\hat{A}}{2} \right) \quad (1)$$

(۲) الف) اگر در شرط (۱) از مسئله بالا، به جای m ، مقدار آن

$$\sin \frac{\hat{B}}{2} \sin \frac{\hat{C}}{2} \leq \frac{1}{2} \left(1 - \sin \frac{\hat{A}}{2} \right) \text{ به نابرابری را قرار دهیم، می-}$$

رسیم. اگر دوطرف این نابرابری را در مقدار مثبت $\sin \frac{\hat{A}}{2}$ ضرب کنیم، به -
ترتیب داریم:

$$\sin \frac{\hat{A}}{2} \sin \frac{\hat{B}}{2} \sin \frac{\hat{C}}{2} \leq \frac{1}{2} \left(\sin \frac{\hat{A}}{2} - \sin^2 \frac{\hat{A}}{2} \right) =$$

$$= \frac{1}{2} \left[\frac{1}{2} - \left(\frac{1}{2} - \sin \frac{\hat{A}}{2} \right)^2 \right] \leq \frac{1}{2} \times \frac{1}{2} = \frac{1}{8}$$

یعنی $\sin \frac{\hat{A}}{2} \sin \frac{\hat{B}}{2} \sin \frac{\hat{C}}{2} \leq \frac{1}{8}$ ؛ علامت برابری برای مثلث متساوی الاضلاع
است (چرا؟).

ب) داریم:

$$\sin^2 \frac{A}{2} + \sin^2 \frac{B}{2} + \sin^2 \frac{C}{2} = \frac{1 - \cos A}{2} + \frac{1 - \cos B}{2} + \sin^2 \frac{C}{2} =$$

$$= 1 - \cos \frac{A+B}{2} \cos \frac{A-B}{2} + \sin \frac{C}{2} \cos \frac{A+B}{2} =$$

$$= 1 - \sin \frac{C}{2} \left(\cos \frac{A-B}{2} - \cos \frac{A+B}{2} \right) =$$

$$= 1 - 2 \sin \frac{A}{2} \sin \frac{B}{2} \sin \frac{C}{2} > 1 - 2 \times \frac{1}{8} = \frac{3}{4};$$

$$\cos^2 \frac{A}{2} + \cos^2 \frac{B}{2} + \cos^2 \frac{C}{2} = 3 - \left(\sin^2 \frac{A}{2} + \sin^2 \frac{B}{2} + \sin^2 \frac{C}{2} \right) \leq$$

$$\leq 3 - \frac{3}{4} = \frac{9}{4}$$

۲۹. نابرابری مورد نظر را می توان، به ترتیب چنین نوشت:

$$2(\operatorname{tg} x - \sin x) < \operatorname{tg}^3 x \iff 2\operatorname{tg} x(1 - \cos x) < \operatorname{tg}^3 x \iff$$

$$2(1 - \cos x) < \frac{1 - \cos^3 x}{\cos^3 x} \iff 2\cos^3 x < 1 + \cos x$$

و این نابرابری، برای $0 < x < \frac{\pi}{2}$ ، همیشه برقرار است، زیرا در این بازه

$$\text{همیشه داریم } \cos^3 x < \cos x \text{ و } \cos^3 x < 1.$$

۳۰. با توجه به نابرابری $\operatorname{tg} x > x$ ($0 < x < \frac{\pi}{2}$) داریم:

$$\sin \alpha + \operatorname{tg} \alpha = \frac{2 \operatorname{tg} \frac{\alpha}{2}}{1 + \operatorname{tg}^2 \frac{\alpha}{2}} + \frac{2 \operatorname{tg} \frac{\alpha}{2}}{1 - \operatorname{tg}^2 \frac{\alpha}{2}} = \frac{2 \operatorname{tg} \frac{\alpha}{2}}{1 - \operatorname{tg}^2 \frac{\alpha}{2}} > 2 \operatorname{tg} \frac{\alpha}{2} > 2\alpha$$

به همین ترتیب $\sin \beta + \operatorname{tg} \beta > 2\beta$ و $\sin \gamma + \operatorname{tg} \gamma > 2\gamma$. از مجموع این سه نابرابری به دست می آید:

$$\sin \alpha + \sin \beta + \sin \gamma + \operatorname{tg} \alpha + \operatorname{tg} \beta + \operatorname{tg} \gamma > 2(\alpha + \beta + \gamma) = \pi$$

۳۱. الف) به ازای $n = 6$ ، نابرابری‌ها برقرارند:

$$\left(\frac{6}{3}\right)^6 = 64, \quad 6! = 720, \quad \left(\frac{6}{2}\right)^6 = 729$$

اثبات را با استقرای ریاضی می‌دهیم. فرض می‌کنیم نابرابری‌ها به -

ازای $n = k$ برقرار باشند و ثابت می‌کنیم:

$$\left(\frac{k+1}{3}\right)^{k+1} < (k+1)! < \left(\frac{k+1}{2}\right)^{k+1}$$

از تقسیم جمله‌های این نابرابری بر جمله‌های نظیر در نابرابری

$$\left(\frac{k}{3}\right)^k < k! < \left(\frac{k}{2}\right)^k$$

$$\left(\frac{k+1}{3}\right)^{k+1} : \left(\frac{k}{3}\right)^k < k+1 < \left(\frac{k+1}{2}\right)^{k+1} : \left(\frac{k}{2}\right)^k$$

و یا $(k+1) \frac{\left(1+\frac{1}{k}\right)^k}{3} < k+1 < (k+1) \frac{\left(1+\frac{1}{k}\right)^k}{2}$ و بعد از تقسیم همه جمله‌ها بر $(k+1)$:

$$\frac{\left(1+\frac{1}{k}\right)^k}{3} < 1 < \frac{\left(1+\frac{1}{k}\right)^k}{2}$$

که با توجه به نابرابری‌های $2 < \left(1+\frac{1}{n}\right)^n < 3$ درست است (قضیه ۰۱ را ببینید).

ب) این نابرابری‌ها هم، باروش استقرای ریاضی ثابت می‌شوند. نابرابری به ازای $n=1$ برقرار است. فرض می‌کنیم نابرابری سمت چپ به ازای $n=k$ برقرار باشد و ثابت می‌کنیم، در این صورت، به ازای $n=k+1$ هم برقرار است، یعنی

$$(k+1)! > \left(\frac{k+1}{e}\right)^{k+1} \quad (*)$$

به ترتیب داریم (از نابرابری $1 > \frac{e}{\left(1+\frac{1}{n}\right)^n}$ که نتیجه‌ای از نابرابری

$e > \left(1+\frac{1}{n}\right)^n$ است، استفاده کرده‌ایم؛ در متن درس این فصل ثابت کردیم

$$\left(1+\frac{1}{n}\right)^n < e < \left(1+\frac{1}{n}\right)^{n+1} \text{؛ صفحه ۳۲ را ببینید):}$$

$$(k+1)! = (k+1) \cdot k! > \left(\frac{k}{e}\right)^k \cdot (k+1) = \left(\frac{k+1}{e}\right)^{k+1} \times$$

$$\times \frac{k^k \cdot e}{(k+1)^k} = \left(\frac{k+1}{e}\right)^{k+1} \cdot \frac{e}{\left(1+\frac{1}{k}\right)^k} > \left(\frac{k+1}{e}\right)^{k+1}$$

اکنون به اثبات نابرابری سمت راست می‌پردازیم. نابرابری

$$n! < n \left(\frac{n}{e}\right)^n$$

به ازای $n=7$ برقرار است. در واقع باید ثابت کنیم

$$7! < 7 \left(\frac{7}{e}\right)^7 \quad \text{یا} \quad 6! < \left(\frac{7}{e}\right)^7$$

می‌گیریم:

$$\ln 6! = \ln 720 \approx 6.58 < \ln \left(\frac{7}{e}\right)^7 = 7(\ln 7 - 1) \approx 6.62$$

برای اثبات نابرابری (*)، ضمن استفاده از نابرابری

$$\frac{e}{\left(1 + \frac{1}{n}\right)^{n+1}} < 1$$

به ترتیب داریم:

$$(k+1)! = (k+1) \cdot k! < (k+1) \cdot k \left(\frac{k}{e}\right)^k =$$

$$= (k+1) \left(\frac{k+1}{e}\right)^{k+1} \cdot \frac{k^{k+1} \cdot e}{(k+1)^{k+1}} =$$

$$= (k+1) \left(\frac{k+1}{e}\right)^{k+1} \cdot \frac{e}{\left(1 + \frac{1}{k}\right)^{k+1}} < (k+1) \left(\frac{k+1}{e}\right)^{k+1}$$

یادداشت. نابرابری‌های مسأله ۳۱. ب) دقیق‌تر از نابرابری‌های مسأله

۳۱. الف) است، یعنی مقدار $n!$ را دقیق‌تر معین می‌کند. مثلاً اگر مقدار e

را در نابرابری سمت چپ $(2/72 > e)$ و در نابرابری سمت راست

$(2/71 < e)$ بگیریم، به دست می‌آید:

$$\left(\frac{n}{2/72}\right)^n < n! < n \left(\frac{n}{2/71}\right)^n$$

به کمک همین نابرابری‌های مسأله ۳۱. ب) می‌توان ثابت کرد:

$$n! \approx \sqrt{2\pi n} \left(\frac{n}{e}\right)^n \quad (**)$$

برابری تقریبی (***)، وقتی n بزرگتر باشد، دقیق‌تر می‌شود به -

نحوی که

$$\lim_{n \rightarrow \infty} \frac{n!}{\sqrt{2\pi n} \left(\frac{n}{e}\right)^n} = 1$$

(۱.۳۳) با توجه به نابرابری $\left(1 + \frac{1}{n}\right)^n > 2$ داریم:

$$(1/0000001)^{1000000} = \left(1 + \frac{1}{1000000}\right)^{1000000} > 2$$

(۲) نسبت دو عدد را تشکیل می‌دهیم. داریم:

$$\frac{1001^{999}}{1000^{1000}} = \left(\frac{1001}{1000}\right)^{1000} \cdot \frac{1}{1001} = \left(1 + \frac{1}{1000}\right)^{1000} \cdot \frac{1}{1001} <$$

$$< 3 \times \frac{1}{1001} < 1$$

به این ترتیب: $1000^{1000} > 1001^{999}$

(۳) مسأله‌ای کلی‌تر را در نظر می‌گیریم و ثابت می‌کنیم، برای $n \in \mathbb{N}$ و

$n > 2$ داریم:

$$(n+2)^n < n^{n+2} \quad (*)$$

نابرابری (*) را می‌توان به صورت $\left(1 + \frac{2}{n}\right)^n < n^2$ نوشت. با بسط دو-

جمله‌ای سمت چپ این نابرابری، به دست می‌آید:

$$\begin{aligned} \left(1 + \frac{2}{n}\right)^n &= \left[\left(1 + \frac{1}{n}\right) + \frac{1}{n}\right]^n = \left(1 + \frac{1}{n}\right)^n + \\ &+ n \left(1 + \frac{1}{n}\right)^{n-1} \cdot \frac{1}{n} + \frac{n(n-1)}{2!} \left(1 + \frac{1}{n}\right)^{n-2} \cdot \frac{1}{n^2} + \end{aligned}$$

$$\begin{aligned}
 & + \dots < \left(1 + \frac{1}{n}\right)^n + \left(1 + \frac{1}{n}\right)^{n-1} + \dots = \\
 & = \frac{\left(1 + \frac{1}{n}\right)^{n+1} - 1}{\left(1 + \frac{1}{n}\right) - 1} = n \left[\left(1 + \frac{1}{n}\right)^{n+1} - 1 \right] < \\
 & < n \left[2 \left(1 + \frac{1}{n}\right) - 1 \right] = n \left(2 + \frac{2}{n} \right) < n \cdot n = n^2
 \end{aligned}$$

(ضمن عمل، از نابرابری $\left(n + \frac{1}{n}\right)^n < 3$ استفاده کردیم). به این ترتیب

$$(n+2)^n < n^{n+2} \text{ که اگر } n = 997 \text{ بگیریم، به دست می آید:}$$

$$999997 < 997999$$

۳۳. نابرابری به ازای $n = 1$ ، به برابری تبدیل می شود و به ازای

$n = 2$ داریم:

$$\left(2 - \frac{1}{2}\right)^2 = \frac{9}{4} = 2/25 \text{ و } 2/25 > 2$$

چون دنباله $\left(2 - \frac{1}{n}\right)^n$ ، به ازای $n \in \mathbf{N}$ صعودی است (به شرط $n > 1$ داریم

$$2 - \frac{1}{n} > 1$$

بزرگتر می شود و، از طرف دیگر مقدار $\left(2 - \frac{1}{n}\right)^n$ افزایش می یابد)، بنا بر

این، اگر فرض کنیم $\left(2 - \frac{1}{n}\right)^n > n$ [فرض استقرا]، داریم:

$$\left(2 - \frac{1}{n+1}\right)^{n+1} > \left(2 - \frac{1}{n}\right)^{n+1} = \left(2 - \frac{1}{n}\right)^n \left(2 - \frac{1}{n}\right) >$$

$$> n \left(2 - \frac{1}{n}\right) > \frac{3}{2}n > n+1$$

زیرا، برای $n > 2$ ، اولاً $2 - \frac{1}{n} > \frac{3}{2}$ و ثانیاً $\frac{3}{2}n > n+1$. به این ترتیب،

به ازای مقدارهای $n \geq 2$ داریم $\left(2 - \frac{1}{n}\right)^n > n$ و به ازای $n = 1$:

$$\left(2 - \frac{1}{n}\right)^n = n$$

۳۴. ابتدا $f'(x)$ را پیدا می‌کنیم:

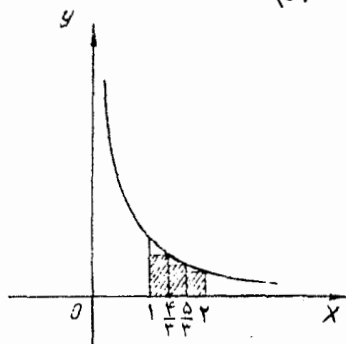
$$f'(x) = \frac{1}{n} [(x+1)(x-2) \dots (x+n)]^{n-1} \times \\ \times [(x+1)(x-2) \dots (x+n)]'$$

بنابراین، با توجه به فرد بودن n ، به دست می‌آید:

$$f'(0) = \frac{1}{n} (n!)^{n-1} \cdot \left(n! - \frac{n!}{2} + \frac{n!}{3} - \dots + \frac{n!}{n} \right) = \\ = \frac{\sqrt[n]{n!}}{n} \left(1 - \frac{1}{2} + \frac{1}{3} - \frac{1}{4} + \dots + \frac{1}{n} \right) > \frac{\sqrt[n]{n!}}{n} \ln 2$$

(دستور (۱۵) رادرهمین فصل ببینید). از طرف دیگر، در تفسیرین ۳۱. ب) ثابت کردیم:

$$n! > \left(\frac{n}{e}\right)^n \Rightarrow \frac{\sqrt[n]{n!}}{n} > \frac{1}{e} \quad (*)$$



شکل ۱۳

$\ln 2$ را می‌توان، به تقریب، از جدول لگاریتم‌های طبیعی به دست آورد:

$$\ln 2 \approx 0.693 > \frac{3}{5}$$

ولی، بدون استفاده از جدول هم، می‌توان مقدار $\ln 2$ را ارزیابی کرد. با توجه به شکل ۱۳ داریم:

$$\ln 2 = \int_1^2 \frac{1}{x} dx > \frac{1}{3} \left(\frac{3}{4} + \frac{3}{5} + \frac{1}{2} \right) = \frac{37}{60} > \frac{3}{5}$$

در نتیجه داریم:

$$f'(0) > \frac{\sqrt[n]{n!}}{n} \ln 2 > \frac{1}{e} \cdot \frac{3}{5} > \frac{3}{2 \cdot 75 \times 5} = \frac{12}{55}$$

۰.۳۵ فرض کنیم بخواهیم جدول سینوس‌ها را از ۰ درجه تا ۱۰ درجه،

تاسه رقم بعد از ممیز محاسبه کنیم. α درجه برابر $\frac{\pi\alpha}{180}$ رادیان است و،

بنا بر این، اگر نابرابری

$$\left| \frac{\pi\alpha}{180} - \sin \frac{\pi\alpha}{180} \right| < 0.0005$$

در بازه $\alpha \in [0, 10]$ برقرار باشد، چنین جدولی را می‌توان تشکیل داد، ولی

تابع $f(x) = x - \sin x$ در بازه $\left[0, \frac{\pi}{18} \right]$ صعودی است (مشتق آن مثبت

است)، بنا بر این کافی است ثابت کنیم:

$$\frac{\pi}{18} - \sin \frac{\pi}{18} < 0.0005$$

و این نابرابری درست نیست و می‌توان ثابت کرد:

$$\sin \frac{\pi}{18} < \frac{\pi}{18} - 0.0005$$

اگر عدد π را با رقم‌های بیشتری در نظر بگیریم، به سادگی می‌توان

تحقیق کرد که $\frac{\pi}{18} > 0.1745$ ، بنا بر این کافی است ثابت کنیم:

$$\sin \frac{\pi}{18} < 0.174 \quad (*)$$

اگر در برابری $\sin 3\alpha = 3 \sin \alpha - 4 \sin^3 \alpha$ قرار دهیم

$\alpha = \frac{\pi}{18}$ ، معلوم می‌شود که $\sin \frac{\pi}{18}$ ریشهٔ معادلهٔ درجه سوم

$0 = 1 - 6x + 8x^3$ است، که با انتخاب $y = 2x$ ، به این معادله می‌رسیم:

$$y^3 - 3y + 1 = 0$$

ریشهٔ این معادله، برابر است با $y_0 = 2 \sin \frac{\pi}{18}$.

به سادگی (و مثلاً به کمک مشتق) روشن می‌شود که تابع

$f(y) = y^3 - 3y + 1$ در بازهٔ $[0, 1]$ نزولی است و، بنا بر این، برای

اثبات نابرابری (*) کافی است ثابت کنیم $f(0/348) < 0$. درستی این

نابرابری، به‌طور مستقیم به‌دست می‌آید.

۰۳۶ می‌دانیم $4 < \pi < 3 < e < 2$. اگر مرز پایین عددهای e و π را

در نظر بگیریم، به‌دست می‌آید $2^3 < 3^2$ ؛ ولی اگر مرز بالای آن‌ها را به حساب

آوریم، به نابرابری $3^4 > 4^3$ می‌رسیم. به این ترتیب، ناچاریم دقیق‌تر

محاسبه کنیم.

برای این منظور، تابع $f(x) = \frac{\ln x}{x}$ را در نظر می‌گیریم. مشتق این

تابع $f'(x) = \frac{1 - \ln x}{x^2}$ ، برای $x > e$ منفی است، یعنی $f(x)$ در این

بازه نزولی است و چون $e < \pi$ ، پس

$$\frac{\ln e}{e} > \frac{\ln \pi}{\pi} \Rightarrow e^\pi > \pi^e$$

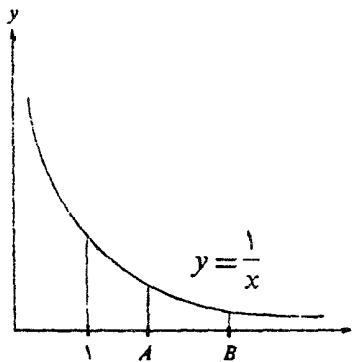
یادداشت. خودتان این دو برابری را ثابت کنید:

$$[\pi] + [\pi^e] = [e] + [e^\pi] \quad \text{و} \quad [\pi]^{[e]} + [e] = [e]^{[\pi]} + [\pi]$$

$[x]$ یعنی بخش درست عدد x .

ب) $a < b$ می‌گیریم و ثابت می‌کنیم، در حالت $e \leq a < b$ داریم

$$b^a > a^b \quad \text{و در حالت} \quad 1 < a < b \leq e \quad \text{برعکس} \quad b^a > a^b.$$



از این قضیه استفاده می‌کنیم که مساحت زیر منحنی $y = \frac{1}{x}$ در فاصله $1 \leq x \leq p$ برابر است با $\ln p$. به این ترتیب، اگر نقطه‌های A و B را، به ترتیب، با طول‌های a و b روی محور xx' انتخاب کنیم (شکل ۱۴)، داریم:

$$(b-a) \cdot \frac{1}{b} < \ln b - \ln a < (b-a) \cdot \frac{1}{a}$$

$$\frac{b-a}{b} + \ln a < \ln b < \frac{b-a}{a} + \ln a \quad (*)$$

حالت اول $a \geq e$. در این حالت $b-a \leq (b-a) \ln a$ و نابرابری سمت راست (*) را می‌توان این‌طور نوشت:

$$a \ln b < (b-a) \ln a + a \ln a$$

و پس از ساده کردن

$$a \ln b < b \ln a \Rightarrow b^a < a^b$$

حالت دوم $b \leq e$. در این حالت $b-a \geq (b-a) \ln b$ و نابرابری سمت چپ (*) به این صورت درمی‌آید:

$$(b-a) \ln b + b \ln a < b \ln b$$

و بعد از ساده کردن

$$b \ln a < a \ln b \Rightarrow a^b < b^a$$

یادداشت. تمرین ۳.۴۲) حالت خاصی از تمرین ۳.۴۶) است. در آن جا $a = ۹۹۷$ و $b = ۹۹۹$ و چون $a > e$ ، پس $۹۹۷^{۹۹۹} > ۹۹۹^{۹۹۷}$.

$$x = \sqrt[n]{n + \sqrt[n]{n}} \quad \text{و} \quad y = \sqrt[n]{n - \sqrt[n]{n}} \quad \text{می‌گیریم. در این صورت، نابرابری مورد نظر، چنین می‌شود:}$$

$$\frac{x+y}{2} \leq \sqrt[n]{\frac{x^n + y^n}{2}} \Rightarrow \left(\frac{x+y}{2}\right)^n \leq \frac{x^n + y^n}{2} \quad (*)$$

اثبات را به کمک استقرای ریاضی می‌دهیم. نابرابری $(*)$ ، به‌ازای $n=1$ و $n=2$ درست است (خودتان تحقیق کنید). فرض می‌کنیم، نابرابری $(*)$ به‌ازای $n=k$ درست باشد:

$$\left(\frac{x+y}{2}\right)^k \leq \frac{x^k + y^k}{2}$$

اگر دوطرف این نابرابری را در $\frac{x+y}{2}$ ضرب کنیم، به‌دست می‌آید:

$$\left(\frac{x+y}{2}\right)^{k+1} \leq \frac{x^k + y^k}{2} \cdot \frac{x+y}{2}$$

و برای این که، نابرابری مورد نظر، به‌ازای $n=k+1$ برقرار باشد، کافی است ثابت کنیم:

$$\frac{x^k + y^k}{2} \cdot \frac{x+y}{2} \leq \frac{x^{k+1} + y^{k+1}}{2}$$

ولی نابرابری اخیر، به‌سادگی، به‌نابرابری روشن زیر تبدیل می‌شود:

$$(x^k - y^k)(x - y) > 0$$

۳۸. با فرض $f_1(x) = x$ ، برای $n \in \mathbf{N}$ و $n > 1$ تعریف می‌کنیم:

$$f_{n+1}(x) = f_n(x) \left(f_n(x) + \frac{1}{n} \right)$$

که اگر آن را با دنباله مورد نظر مسأله مقایسه کنیم، به‌معنای $f_n(x) = x_n$ است در واقع، اگر $x_1 = f_1(x) = x$ بگیریم، داریم:

$$x_2 = f_2(x) = f_1(x) \left(f_1(x) + \frac{1}{n} \right) = x \left(x + \frac{1}{n} \right) = x^2 + \frac{1}{n} x;$$

$$\begin{aligned} x_3 = f_3(x) &= \left(x^2 + \frac{1}{n} x \right) \left(x^2 + \frac{1}{n} x + \frac{1}{n} \right) = \\ &= \left(x^2 + \frac{1}{n} x \right)^2 + \left(x^2 + \frac{1}{n} x \right); \dots \end{aligned}$$

درضمن، تابع $f_n(x)$ ، دارای این ویژگی‌هاست:

- (۱) یک چندجمله‌ای از درجه 2^{n-1} است، که مقدار ثابت ندارد؛
- (۲) ضریب‌های همه جمله‌های آن مثبت و، بنابراین، برای $x \geq 0$ ، تابعی صعودی است و جهت تحذب آن به سمت y ‌های منفی است؛
- (۳) $f_n(0) = 0$ و $f_n(1) \geq 1$.

در جست و جوی مقداری از x ($x = f_1(x) = x_1$) هستیم که، برای آن داشته باشیم: $0 < x_n < x_{n+1} < 1$ ، شرط $x_{n+1} > x_n$ به این صورت درمی‌آید:

$$\begin{aligned} x_{n+1} - x_n &= x_n \left(x_n + \frac{1}{n} \right) - x_n = x_n \left(x_n + \frac{1}{n} - 1 \right) > 0 \Rightarrow \\ &\Rightarrow x_n > 1 - \frac{1}{n} \end{aligned}$$

به این ترتیب، باید ثابت کنیم که، مقدار منحصر به فردی برای t وجود دارد، به نحوی که، به ازای هر مقدار n ، داشته باشیم:

$$1 - \frac{1}{n} < f_n(t) < 1 \quad (1)$$

(که درضمن، مثبت بودن $f_n(t)$ هم تأمین می‌شود).

تابع $f_n(t)$ ، برای $0 \leq t \leq 1$ ، پیوسته و صعودی است و مقدارهای از صفر تا عددی بزرگتر از واحد را می‌پذیرد. دو عدد a_n و b_n را طوری در نظر می‌گیریم که داشته باشیم:

$$a_n < b_n, \quad f_n(a_n) = 1 - \frac{1}{n}, \quad f_n(b_n) = 1$$

روشن است که a_n و b_n منحصر به فردند؛ در ضمن داریم:

$$f_{n+1}(a_n) = \left(1 - \frac{1}{n}\right) \left[\left(1 - \frac{1}{n}\right) + \frac{1}{n} \right] = 1 - \frac{1}{n};$$

$$f_{n+1}(a_{n+1}) = 1 - \frac{1}{n+1}$$

یعنی $a_n < a_{n+1}$. به همین ترتیب، چون $1 + \frac{1}{n}$ و $f_{n+1}(b_n) = 1 + \frac{1}{n}$

$$f_{n+1}(b_{n+1}) = 1, \quad \text{پس } b_n > b_{n+1}. \text{ به این ترتیب}$$

$$a_n < a_{n+1} < b_{n+1} < b_n$$

اگر $a = \lim_{n \rightarrow \infty} a_n$ و $b = \lim_{n \rightarrow \infty} b_n$ فرض کنیم، روشن است

که $a_n \leq b_n$. ثابت می‌کنیم $a = b$ ؛ f_n تابعی است محدب و چون

$$f_n(0) = 0 \quad \text{و} \quad f_n(b_n) = 1, \quad \text{به ازای } 0 \leq x \leq b_n \text{ داریم: } f_n(x) \leq \frac{x}{b_n}$$

یعنی $f_n(a_n) = 1 - \frac{1}{n} \leq \frac{a_n}{b_n}$. از نابرابری $1 - \frac{1}{n} \leq \frac{a_n}{b_n}$ نتیجه می‌شود

$$b_n - a_n \leq \frac{b_n}{n} \quad \text{و چون } b_n \leq 1 \text{ پس } b_n - a_n < \frac{1}{n}, \text{ یعنی } \lim_{n \rightarrow \infty} (b_n - a_n) = 0$$

و بنابراین $a = b$.

دنباله $\{a_n\}$ صعودی و دنباله $\{b_n\}$ نزولی است و هر دو به سمت عدد

منحصر به فرد a (یا b) میل می‌کنند و عدد $x_1 = a$ همان عددی است که در

جست و جوی آن بودیم.

۳۹. اگر n عددی زوج باشد ($n = 2k$)، به ترتیب داریم:

$$(a+b)^2 (a^n + b^n)^2 = (a^{n+1} + b^{n+1} + ab^n + a^n b)^2 <$$

$$(a^{n+1} + b^{n+1})^2 (a^2 + b^2)^2 (a^{n-1} + b^{n-1})^2 < (a^{n+1} + b^{n+1})^2$$

.....

$$\frac{1}{A} = 1 + \frac{a^n}{1+a+\dots+a^{n-1}} = 1 + \frac{1}{\frac{1}{a^n} + \frac{1}{a^{n-1}} + \dots + \frac{1}{a}}$$

$$\frac{1}{B} = 1 + \frac{1}{\frac{1}{b^n} + \frac{1}{b^{n-1}} + \dots + \frac{1}{b}}$$

چون $a > b$ ، پس $\frac{1}{a^k} < \frac{1}{b^k}$ و $\frac{1}{A} > \frac{1}{B}$ ، یعنی $A < B$.

۴۹. به سادگی معلوم می شود که $\frac{1}{3k^2-1} = \frac{k}{2k+1} - \frac{k-1}{2k-1}$ در.

ضمن، برای $k > 1$ داریم $3k^2 < 3k^2 - 1$ ، یعنی $\frac{1}{3k^2} > \frac{1}{3k^2 - 1}$.

اکنون درنا برابری

$$\frac{1}{3k^2} > \frac{k}{2k+1} - \frac{k-1}{2k-1}$$

به ترتیب، عددهای از ۱ تا n را قرار می دهیم و نابرابری حاصل را با هم جمع می کنیم، به دست می آید:

$$\frac{1}{3} \left(\frac{1}{1^2} + \frac{1}{2^2} + \dots + \frac{1}{n^2} \right) > \frac{n}{2n+1}$$

و یا $\frac{1}{1^2} + \frac{1}{2^2} + \frac{1}{3^2} + \dots + \frac{1}{n^2} > \frac{3n}{2n+1}$

۴۲. تابع $f(x) = 2\sin x + \operatorname{tg} x - 3x$ ، تابعی صعودی است، زیرا

$$f'(x) = 2\cos x + \frac{1}{\cos^2 x} - 3 = \frac{2\cos^3 x - 3\cos^2 x + 1}{\cos^2 x} =$$

$$= \frac{(\cos x - 1)^2(2\cos x + 1)}{\cos^2 x} \geq 0$$

(زیرا برای $0 \leq x \leq \frac{\pi}{2}$ داریم $0 < 2\cos x + 1$). بنابراین، اگر

$0 < \alpha < \frac{\pi}{2}$ آن وقت

$$f(\alpha) > f(0) \Rightarrow 2 \sin \alpha + \operatorname{tg} \alpha - 3\alpha > 0 \Rightarrow \\ \Rightarrow 2 \sin \alpha + \operatorname{tg} \alpha > 3\alpha$$

۴۳. چهارضلعی را $ABCD$ می‌نامیم و فرض می‌کنیم:

$$\vec{AB} = \mathbf{a}, \vec{BC} = \mathbf{b}, \vec{CD} = \mathbf{c}, \vec{DA} = \mathbf{d};$$

$$|\vec{AB}| = a, |\vec{BC}| = b, |\vec{CD}| = c, |\vec{DA}| = d$$

بنا بر قاعده جمع بردارها داریم:

$$\mathbf{a} + \mathbf{b} + \mathbf{c} = -\mathbf{d}$$

$$d^2 = (\mathbf{a} + \mathbf{b} + \mathbf{c})^2 = a^2 + b^2 + c^2 + 2(\mathbf{a} \cdot \mathbf{b} + \mathbf{a} \cdot \mathbf{c} + \mathbf{b} \cdot \mathbf{c})$$

که از آنجا به سادگی به دست می‌آید:

$$3(a^2 + b^2 + c^2) = d^2 + (\mathbf{a} - \mathbf{b})^2 + (\mathbf{a} - \mathbf{c})^2 + (\mathbf{b} - \mathbf{c})^2$$

$$a^2 + b^2 + c^2 > \frac{1}{3}d^2 \text{ و } 3(a^2 + b^2 + c^2) > d^2 \text{ یعنی}$$

۴۴. ابتدا حالتی را در نظر می‌گیریم که در آن $\hat{C} = 90^\circ$ این

برابری‌ها روشن‌اند:

$$|CD| \cdot |AB| = |AC| \cdot |BC|; |AB|^2 = |AC|^2 + |BC|^2$$

اکنون، به ترتیب داریم:

$$(|CD| + |AB|)^2 = |CD|^2 + 2|CD| \cdot |AB| + |AB|^2 =$$

$$= |CD|^2 + 2|AC| \cdot |BC| + |AC|^2 + |BC|^2 =$$

$$= |CD|^2 + (|AC| + |BC|)^2 > (|AC| + |BC|)^2$$

و بنا بر این $|CD| + |AB| > |AC| + |BC|$

اکنون فرض می‌کنیم $\hat{C} > 90^\circ$ خط راست l را از نقطه C عمود بر

(BC) رسم می‌کنیم. چون زاویه C از 90° درجه بزرگتر است، خط راست

۱، پاره خط راست AB را در نقطه‌ای مثل F قطع می‌کند. بنا بر آن چه در مورد مثلث FBC داریم:

$$|CD| + |FB| < |BC| + |CF|$$

در ضمن در مثلث AFC داریم:

$$|AC| - |FC| < |AF|$$

از مجموع این دو نابرابری، به نابرابری مورد نظر می‌رسیم.

۴۵. با توجه به شرط‌های $\alpha > 0$ و $\beta > 0$ و $\alpha + \beta < \pi$ می‌توان نتیجه گرفت که شرط $\alpha < \beta$ ، به معنای $\sin \alpha < \sin \beta$ است. این حکم، برای

$0 < \alpha < \beta < \frac{\pi}{2}$ روشن است. در حالت $\beta > \frac{\pi}{2}$ ، می‌توان نوشت

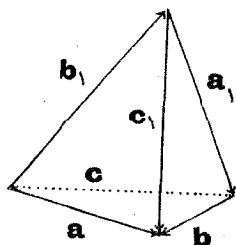
$\frac{\pi}{2} < \beta < \pi - \alpha$. در حالت $\frac{\pi}{2} \leq x \leq \pi$ ، تابع $y = \sin x$ نزولی است و

چون $\beta < \pi - \alpha$ ، پس $\sin \beta > \sin(\pi - \alpha) = \sin \alpha$. عکس این حکم هم درست است و با شرط‌های $\alpha > 0$ ، $\beta > 0$ ، $\alpha + \beta < \pi$ ، به سادگی نتیجه می‌شود $\alpha < \beta$ (مثلاً، با براهان خلف).

اکنون به اثبات حکم تمرین می‌پردازیم. بنا بر فرض، α و β مثبت‌اند و، در ضمن، $\alpha < \beta$ و $\alpha + \beta < \pi$ ، بنابراین $0 < \sin \alpha < \sin \beta$ و

$$0 < \frac{\sin \alpha}{\sin \beta} < 1 \quad \text{به این ترتیب:}$$

$$\frac{\sin a}{\sin b} \leq \frac{\sin \alpha}{\sin \beta} < 1 \iff \frac{\sin a}{\sin a} < 1 \iff a < b$$



شکل ۱۵

(در واقع، چون $0 < b < \pi$ ، داریم $0 < \sin b$).

۴۶. بردارهای a, a_1, b, b_1, c, c_1 را در نظر می‌گیریم (شکل ۱۵). بنا به قانون جمع بردارها داریم:

$$b_1 + a_1 + b + (-a) = 0$$

$$b_1 + c_1 + (-b) + c = 0$$

$$a + (-c_1) + a_1 + c = 0$$

که آنها را می‌توان به این صورت نوشت:

$$a - a_1 = b + b_1, \quad b - b_1 = c + c_1, \quad c - c_1 = -a - a_1$$

هر يك از این سه برابری را مجذور و، سپس، مجموع دو برابری حاصل

ازاولی و سومی را از برابری حاصل از دومی کم می‌کنیم، به دست می‌آید:

$$\begin{aligned} (a - a_1)^2 + (c - c_1)^2 - (b - b_1)^2 &= \\ &= (b + b_1)^2 + (a + a_1)^2 - (c - c_1)^2 \end{aligned}$$

با توجه به این که مجذور اسکار یک بردار، برابری است با مجذور طول آن، نتیجه می‌شود:

$$c^2 + c_1^2 - (b^2 + b_1^2) = 2a \cdot a_1$$

از طرف دیگر $2a \cdot a_1 = 2aa_1 \cos(\widehat{a, a_1}) < a \cdot a_1 \leq a^2 + a_1^2$ بنا بر این

$$(c^2 + c_1^2) - (b^2 + b_1^2) < a^2 + a_1^2 \Leftrightarrow a^2 + a_1^2 + b^2 + b_1^2 > c^2 + c_1^2$$

۴۷. از نابرابری $(a - b)^2 \geq 0$ به دست می‌آید $a^2 + b^2 \geq 2ab$

با استفاده از نابرابری اخیر داریم:

$$\frac{x}{\sqrt{y}} + \frac{y}{\sqrt{x}} \geq 2\sqrt{\frac{xy}{\sqrt{xy}}} = 2\sqrt[4]{xy}$$

و چون، بنا بر معادله اول دستگاه $\frac{x}{\sqrt{y}} + \frac{y}{\sqrt{x}} = xy$ بنا بر این

$$xy \geq 2\sqrt[4]{xy} \Leftrightarrow \sqrt[4]{x^2 y^2} \geq 2 \Leftrightarrow xy \geq \sqrt[4]{16} \quad (*)$$

به همین ترتیب، با استفاده از همان نابرابری $a^2 + b^2 \geq 2ab$ داریم:

$$x^\alpha + y^\alpha \geq 2\sqrt{x^\alpha y^\alpha} = 2\sqrt{(\alpha)(xy)^\alpha}$$

و چون، بنا بر معادله دوم دستگاه $\frac{\alpha-2}{2} (xy)^\alpha = x^\alpha + y^\alpha$ به دست می‌آید:

$$\lambda(xy)^{\frac{\alpha-3}{2}} \geq 2\sqrt{(xy)^\alpha} \iff xy \leq \sqrt[3]{16} \quad (**)$$

به این ترتیب، از (*) و (**) نتیجه می‌شود: $xy = \sqrt[3]{16}$ ؛ و چون علامت برابری در نابرابری $a^2 + b^2 \geq 2ab$ تنها در حالت $a = b$ پیش می‌آید، باید داشته باشیم:

$$x = y = \sqrt[3]{4}$$

آزمایش نشان می‌دهد که، این جواب، در معادله‌های دستگاه صدق می‌کند.
۴۸. با توجه به مثبت بودن a و b داریم:

$$\begin{aligned} (a+b)(a-b)^2 &= (a+b)[(a^2 - ab + b^2) - ab] = \\ &= a^3 + b^3 - ab(a+b) \geq 0 \end{aligned}$$

یعنی $a^3 + b^3 \geq ab(a+b)$ (علامت برابری برای $a = b$)

$$\frac{1}{a^3 + b^3 + abc} \leq \frac{1}{ab(a+b) + abc} = \frac{1}{ab(a+b+c)}$$

برای هر یک از دو کسر دیگر سمت چپ نابرابری هم، رابطه مشابهی به دست می‌آید. در نتیجه

$$\begin{aligned} \frac{1}{a^3 + b^3 + abc} + \frac{1}{b^3 + c^3 + abc} + \frac{1}{c^3 + a^3 + abc} &\leq \\ &\leq \frac{1}{ab(a+b+c)} + \frac{1}{bc(a+b+c)} + \frac{1}{ca(a+b+c)} = \frac{1}{abc} \end{aligned}$$

۴۹. راهنمایی. نابرابری‌های مثلثی را، ابتدا در مثلث‌های ABD ، BCD ، ABC و ACD ، سپس، در مثلث‌های ABO ، BCO ، CDO و DAO بنویسید (O ، محل برخورد قطرهای چهارضایی است).
۵۰. به ترتیب داریم:

$$a^4 + b^4 = \frac{1}{4}(a^2 + b^2)^2 + \frac{1}{4}(a^2 - b^2)^2 \geq \frac{1}{4}(a^2 + b^2)^2 =$$

$$= \frac{1}{\sqrt[2]{\frac{1}{\sqrt[2]{(a+b)^2 + \frac{1}{\sqrt[2]{(a-b)^2}}}}} \geq \frac{1}{\sqrt[2]{(a+b)^2}} > \frac{1}{\sqrt[2]{16}} = 2$$

۰۵۱ داریم:

$$(\sqrt[n]{a} + \sqrt[n]{b})^n = a + b + \dots > a + b > c = (\sqrt[n]{c})^n$$

یعنی $\sqrt[n]{a} + \sqrt[n]{b} > \sqrt[n]{c}$ به همین ترتیب ثابت می شود:

$$\sqrt[n]{b} + \sqrt[n]{c} > \sqrt[n]{a}, \quad \sqrt[n]{a} + \sqrt[n]{c} > \sqrt[n]{b}$$

بنابراین، $\sqrt[n]{a}$ ، $\sqrt[n]{b}$ و $\sqrt[n]{c}$ می توانند طول ضلع های یک مثلث باشند.

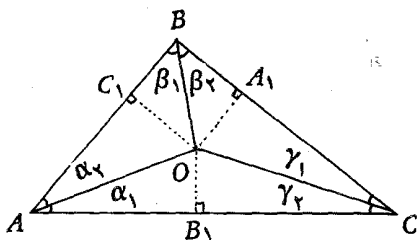
۰۵۲ این نام گذاری ها را

می پذیریم (شکل ۱۶):

$$\widehat{OAC} = \alpha_1, \quad \widehat{OAB} = \alpha_2,$$

$$\widehat{OBA} = \beta_1, \quad \widehat{OBC} = \beta_2,$$

$$\widehat{OCB} = \gamma_1, \quad \widehat{OCA} = \gamma_2,$$



شکل ۱۶

$$\alpha_1 + \alpha_2 = \alpha, \quad \beta_1 + \beta_2 = \beta, \quad \gamma_1 + \gamma_2 = \gamma$$

اگر عمود OA_1 را بر ضلع BC وارد کنیم، در دو مثلث قائم الزاویه

OCA_1 و OA_1B داریم:

$$|CA_1| = |OC| \cos \gamma_1, \quad |BA_1| = |OB| \cos \beta_2$$

که از مجموع آن ها به دست می آید $a = |BC| = |OC| \cos \gamma_1 + |OB| \cos \beta_2$

به همین ترتیب

$$b = |OC| \cos \gamma_2 + |OA| \cos \alpha_1, \quad c = |OA| \cos \alpha_2 + |OB| \cos \beta_1$$

بنابراین

$$p = \frac{1}{\sqrt[2]{(a+b+c)}} = |OA|(\cos \alpha_1 + \cos \alpha_2) +$$

$$+ |OB|(\cos \beta_1 + \cos \beta_2) + |OC|(\cos \gamma_1 + \cos \gamma_2) =$$

$$= |OA| \cos \frac{\alpha}{\gamma} \cos \frac{\alpha_1 - \alpha_2}{\gamma} + |OB| \cos \frac{\beta}{\gamma} \cos \frac{\beta_1 - \beta_2}{\gamma} +$$

$$+ |OC| \cos \frac{\gamma}{\gamma} \cos \frac{\gamma_1 - \gamma_2}{\gamma} \leq |OA| \cos \frac{\alpha}{\gamma} + |OB| \cos \frac{\beta}{\gamma} + |OC| \cos \frac{\gamma}{\gamma}$$

۵۳. تابع $y = \sin x$ را در نظر می‌گیریم و سطح بین نمودار منحنی و محور طول را در فاصله $[0, 1]$ با S نشان می‌دهیم. این فاصله را به ترتیب به ۲، ۳، ۴، ... و k بخش برابر تقسیم می‌کنیم و مستطیل‌هایی را در نظر می‌گیریم که قاعده آن‌ها در فاصله $\left[\frac{1}{k+1}, \frac{1}{k}\right]$ و ارتفاع آن‌ها برابر $\frac{1}{k+1}$ باشد باشد (مستطیل‌های به قاعده‌های $\frac{1}{4} - \frac{1}{3}$ ، $\frac{1}{3} - \frac{1}{2}$ ، ...، $\frac{1}{k} - \frac{1}{k+1}$ و ارتفاع-های $\frac{1}{4}$ ، $\frac{1}{3}$ ، $\frac{1}{2}$ ، ...، $\frac{1}{k+1}$). اگر مجموع مساحت‌های این مستطیل‌ها را S_k بنامیم، روشن است که $S_k < S$. از طرف دیگر

$$S_n = \sum_{k=1}^n \left(\frac{1}{k} - \frac{1}{k+1} \right) \sin \frac{1}{k+1} = \sum_{k=1}^n \frac{\sin \frac{1}{k+1}}{k(k+1)}$$

$$S_n < S = \int_0^1 \sin x dx = 1 - \cos 1 < \frac{1}{2}$$

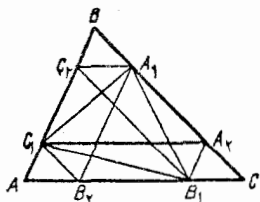
(زیرا $\cos 1 > \cos \frac{\pi}{3} = \frac{1}{2}$) و سرانجام

$$\sum_{n=1}^{\infty} \frac{\sin \frac{1}{n+1}}{n(n+1)} = \lim_{n \rightarrow \infty} S_n \leq S < \frac{1}{2}$$

۵۴. نقطه‌های C_1 ، B_1 و A_1 را، به ترتیب، روی ضلع‌های AB ، AC و BC طوری انتخاب می‌کنیم که داشته باشیم (شکل ۱۷):

$$\frac{|AC_1|}{|C_1B|} = \frac{|BA_1|}{|A_1C|} = \frac{|CB_1|}{|B_1A|} = 3$$

اگر محیط شش ضلعی $A_1A_2B_1B_2C_1C_2$ را P_1 بنامیم، روشن است که $P_1 = \frac{3}{4}P$ (از مثلث های



شکل ۱۷

متشابه استفاده کنید: مثلاً $|A_1C_2| = \frac{1}{4}|AC|$ و

$|B_1B_2| = \frac{1}{4}|AC|$ در ضمن، با توجه به

نا برابری های مثلثی $p < P_1$ ، بنا بر این $p < \frac{3}{4}P$.

برای اثبات نا برابری سمت چپ، یعنی $p > \frac{1}{4}P$ ، پاره خط های راست

A_1B_2 ، B_1C_2 و C_1A_2 را رسم می کنیم. با توجه به عکس قضیه تالس سه دست می آید:

$$(A_1B_2) \parallel (AB), (C_1A_2) \parallel (AC), (B_1C_2) \parallel (BC)$$

از آن جا: $\frac{|A_1B_2|}{|AB|} = \frac{|C_1A_2|}{|AC|} = \frac{|B_1C_2|}{|BC|} = \frac{3}{4}$ ، در ضمن با توجه

به نا برابری ها در مثلث ها

$$|A_1C_1| + |C_1B_2| > |A_1B_2|, |C_1B_1| + |B_1A_2| > |C_1A_2|,$$

$$|A_1B_1| + |A_1C_2| > |B_1C_2|$$

که از مجموع آن ها به دست می آید: $p + \frac{1}{4}P > \frac{3}{4}P$ یا $p > \frac{1}{4}P$.

۵۵. روشن است که $x > y > 0$. از معادله فرض نتیجه می شود:

$$1 = \frac{x^3 + y^3}{x - y}. \text{ اکنون، به روشنی داریم:}$$

$$x^2 + y^2 < x^2 + xy + y^2 = \frac{x^3 - y^3}{x - y} < \frac{x^3 + y^3}{x - y} < 1$$

۵۶. اگر $f(x) = a \cos x + b \cos^3 x - 1$ بگیریم، چون $f(x) > 0$

جواب ندارد، همیشه داریم $f(x) \leq 0$. بنا بر این

$$f(\pi) = -a - b - 1 \leq 0 \iff -a - b \leq 1$$

$$2f\left(\frac{\pi}{3}\right) = a - 2b - 2 \leq 0 \iff a - 2b \leq 2$$

از مجموع دونا برابری اخير به دست می آید: $-3b \leq 3$ ، یعنی $-b \leq 1$.
از طرف ديگر داریم:

$$f(2\pi) = a + b - 1 \leq 0 \iff a + b \leq 1$$

$$2f\left(\frac{2\pi}{3}\right) = -a + 2b - 2 \leq 0 \iff -a + 2b \leq 2$$

که از مجموع آن‌ها به دست می آید: $3b \leq 3$ و $b \leq 1$. به این ترتیب، با توجه به دونا برابری $-b \leq 1$ و $b \leq 1$ داریم: $|b| \leq 1$.

۵۷. روشن است که اگر $tg x_1$ مقداری مثبت باشد، $tg x_2$ و سپس $tg x_3$ و غيره هم مثبت می شوند. برای دو عدد مثبت a و b همیشه داریم $(\sqrt{a} - \sqrt{b})^2 \geq 0$ یا $\frac{a+b}{2} \geq \sqrt{ab}$ (علامت برابری، برای $a=b$).

بنابراین

$$\frac{tg x_n + 3 \cotg x_n}{2} \geq \sqrt{tg x_n \cdot 3 \cotg x_n} = \sqrt{3}$$

ولی، بنا بر معادله آخر دستگاه $tg x_1$ ، بنا بر این

$$tg x_1 \geq \sqrt{3} \iff tg^2 x_1 \geq 3 \iff tg x_1 \geq 3 \cotg x_1$$

اکنون، با توجه به معادله اول دستگاه داریم:

$$tg x_2 = \frac{1}{2} (tg x_1 + 3 \cotg x_1) \geq \frac{1}{2} (tg x_1 + tg x_1) = tg x_1$$

و اگر، به همین ترتیب، به سراغ معادله‌های ديگر دستگاه برویم، سرانجام به دست می آید:

$$tg x_1 \leq tg x_n \leq tg x_{n-1} \leq \dots \leq tg x_3 \leq tg x_2 \leq tg x_1$$

و این، تنها وقتی ممکن است که داشته باشیم:

$$\operatorname{tg} x_1 = \operatorname{tg} x_2 = \operatorname{tg} x_3 = \dots = \operatorname{tg} x_n = \sqrt{3}$$

یعنی $x_i = k_i \pi + \frac{\pi}{3}$ که، در آن $n, \dots, 2, 1, 0 = i$ و $k_i \geq 0$

به همین ترتیب، در حالت $\operatorname{tg} x_1 < 0$ نتیجه می شود: $x'_i = k'_i \pi - \frac{\pi}{3}$

که، در آن، $k'_i \leq 0$ و $n, \dots, 2, 1, 0 = i$.

۵۸. در بازه $(0, \frac{\pi}{2})$ داریم $0 < \sin \frac{x}{2} < \frac{x}{2}$ یا $\sin^2 \frac{x}{2} < \frac{x^2}{4}$ و یا

$\frac{1 - \cos x}{2} < \frac{x^2}{4}$ ، از آن جا $1 - \frac{x^2}{2} < \cos x$. به این ترتیب می توان نوشت:

$$\int_0^1 \frac{x}{\cos x} dx < \int_0^1 \frac{2x}{2-x^2} dx = -\ln(2-x) \Big|_0^1 = \ln 2$$

۵۹. می دانیم:

$$p_n = 2Rn \sin \frac{\pi}{n}, \quad P_n = 2Rn \operatorname{tg} \frac{\pi}{n}$$

به این ترتیب

$$\frac{1}{2} (p_n + P_n) = Rn \left(\sin \frac{\pi}{n} + \operatorname{tg} \frac{\pi}{n} \right) > Rn \times \frac{2\pi}{n} = 2\pi R$$

(ضمن حل تمرین ۳۰ ثابت کردیم $\langle \sin x + \operatorname{tg} x \rangle 2x$ در $\left(0 < x < \frac{\pi}{2}\right)$ ، در

ضمن، چون $n \geq 2$ ، پس $0 < \frac{\pi}{n} < \frac{\pi}{2}$).

۶۰. ماشین های حساب معمولی، نتیجه محاسبه ها را به تقریب

می دهند و، بنابراین، اگر با یک رشته عمل حسابی سروکار داشته باشیم،

نمی توانیم به نتیجه کار اطمینان کنیم، چرا که، نتیجه حاصل از اشتباه های ناشی

از تقریب، ممکن است منجر به جوابی نادرست بشود. مثلاً فرض کنید، بخواهیم

با ماشین حساب معمولی، نابرابری تمرین ۶۰، یعنی $e^6 > \pi^4 + \pi^5$ را مورد تحقیق

قراردهیم. به دست می آید:

$$\pi^4 \approx 97/4091, \pi^5 \approx 306/102, e^6 \approx 403/429,$$

$$\pi^4 + \pi^5 \approx 403/4291$$

و ما را به نتیجه نادرست $e^6 > \pi^4 + \pi^5$ می رساند. این نتیجه نادرست، ناشی از جمع شدن خطاهای محاسبه است. در ضمن، با چنین ماشین حسابی، نمی توانیم دقت محاسبه را از تعداد محدودی رقم ها، بالاتر ببریم.

اکنون محاسبه را با همین ماشین حساب که π و e را تا ۷ رقم می دهد، به طریق دیگری انجام می دهیم:

$$\pi^2 = \pi \times \pi \approx 9/869604, \pi^4 = \pi^2 \cdot \pi^2 \approx 97/409083,$$

$$\pi^5 = \pi^4 \cdot \pi \approx 306/101965, \pi^4 + \pi^5 \approx 403/42873,$$

$$e^2 = e \cdot e \approx 7/3890559, e^4 = e^2 \cdot e^2 \approx 54/598147,$$

$$e^6 = e^2 \cdot e^4 \approx 403/42876, 0 < e^6 - (\pi^4 + \pi^5) <$$

$$< 0/00004 < 10^{-4}$$

آیا به این نتیجه گیری باید قانع شد؟ آیا حداکثر مقدار n برابر ۴ است؟ نه. هنوز نمی دانیم، خطاهای ناشی از محاسبه های تقریبی، چه تأثیری بر نتیجه کار داشته اند! بنابراین، به این نتیجه، نمی توان اعتماد کرد و باید راهی مطمئن تر جست و جو کرد، ابتدا تلاش می کنیم مسأله زیر را حل کنیم:

اگر يك ماشین حساب بتواند عمل های حسابی را تنها روی عددهای دورقمی انجام دهد، چگونه می توان دو عدد n (رقمی) را ($n > 2$)، به کمک آن درهم ضرب کرد؟

برای این منظور، هر يك از دو عدد را به صورت يك چند جمله ای از توان های ۱۰۰ می نویسیم. مثلاً عدد ۱۳۵۷۶۹ را به این صورت

$$135769 = 13 \times 100^2 + 57 \times 100 + 69$$

بعد، دو عددی را که باید درهم ضرب کنیم، طبق قانون ضرب چند جمله ای ها، درهم ضرب می کنیم، ضرب ها را می توان با ماشین حسابی که در دسترس داریم

انجام داد. فرض کنید بخواهیم حاصل ضرب دو عدد ۱۷۲۱ و ۲۴۱۵ را پیدا کنیم:

$$1721 \times 2415 = (17 \times 100 + 21)(24 \times 100 + 15) = \\ = 408 \times 100^2 + (504 + 255) \times 100 + 315$$

عددهای حاصل را زیر هم می‌نویسیم و با هم جمع می‌کنیم:

$$\begin{array}{r} 40850000 \\ 50400 \\ 25500 \\ 315 \\ \hline 4156215 \end{array}$$

اکنون برای حل مسأله اصلی، عددهای تقریبی π و e را تا ۱۵ رقم بعد از ممیز در نظر می‌گیریم:

$$\pi = 3/141592653589793 \dots$$

$$e = 2/718281828459045 \dots$$

از مسأله‌ای که هم اکنون حل کردیم، استفاده می‌کنیم و در هر گام، خطای حاصل را تخمین می‌زنیم. برای سادگی کار، مقدارهای تقریبی π و e را (تا ۱۵ رقم بعد از ممیز)، π' و e' می‌نامیم.

چون $e = e' + \delta_1$ ($0 < \delta_1 < 10^{-15}$)، بنابراین

$$e^2 = (e')^2 + \delta_2$$

و به سادگی می‌توان تحقیق کرد که $0 < \delta_2 < 10^{-12}$ را به این صورت می‌نویسیم:

$$e' = 2/718 + 2/818 \times 10^{-4} + 2/845 \times 10^{-8} + \\ + 9/045 \times 10^{-12}$$

به ترتیب به دست می‌آید:

$$(e')^2 = 7/3890560980605 + \delta_3$$

($0 < \delta_3 < 1/6 \times 10^{-14}$)؛ ۱۳ رقم بعد از ممیز دقیق است؛

$$(e')^4 = 54/598150032778 + \delta_4$$

؛ $0 < \delta_4 < 3 \times 10^{-12}$ ؛ ۱۰ رقم بعد از ممیز دقیق است)؛

$$(e')^6 = 403/4287934927 + \delta_6$$

$0 < \delta_6 < 2 \times 10^{-10}$ ؛ ۹ رقم بعد از ممیز دقیق است)، بنا بر این، مقدار

e^6 تا ۹ رقم بعد از ممیز چنین است: $403/428793492$.

به همین ترتیب می توان، مقدار تقریبی $\pi^5 + \pi^4$ را، تا ۹ رقم بعد از

ممیز به دست آورد:

$$403/428775819$$

یعنی $10^{-4} < 0/00002 < e^6 - \pi^5 - \pi^4 < 0$ ، و، بنا بر این، حداکثر عدد n ، همان ۴ است.

برای مقایسه، نتیجه محاسبه با ماشین های محاسبه دقیق تر را می آوریم:

$$(e')^6 = 403/4287934927374$$

$$(\pi')^5 + (\pi')^4 = 403/4287758192835$$

۰۶۱ طول های سه بعد مکعب مستطیل را a ، b و c می نامیم و

$a + b + c = m$ می گیریم. در این صورت، حجم مکعب مستطیل $V = abc$ می شود و داریم:

$$\sqrt[3]{V} = \sqrt[3]{abc} \leq \frac{a+b+c}{3} = \frac{m}{3} \Rightarrow V \leq \frac{m^3}{27}$$

حداکثر حجم برابر $\frac{m^3}{27}$ است و وقتی به دست می آید که داشته باشیم

$a = b = c$ ، یعنی وقتی که با مکعب سروکار داشته باشیم.

۰۶۲ داریم

$$\sqrt[n+1]{ab^n} = \sqrt[n+1]{a \cdot \underbrace{bb \dots b}_n} \leq \frac{\overbrace{a + b + b + \dots + b}^{n \text{ مرتبه}}}{n+1} = \frac{a + nb}{n+1}$$

علامت برابری، برای $a = b$ پیش می آید.

این نابرابری می تواند تقریب اضافی برخی از ریشه ها را به ما بدهد.

مثلاً

$$\sqrt[3]{12} = \sqrt[3]{3 \times 2^2} \leq \frac{3 + 2 \times 2}{3} \approx 2/3$$

و $\sqrt[3]{12}$ تا سه رقم بعد از ممیز برابر $2/289$ است.

۶۳. به ترتیب داریم:

$$a_1 a_2 \dots a_n = \sqrt[n]{a_1^n a_2^n \dots a_n^n} \leq \frac{a_1^n + a_2^n + \dots + a_n^n}{n}$$

۶۴. با توجه به نابرابری های (۷) (صفحه ۶۹) داریم:

$$\sqrt{\frac{x^2 + y^2}{2}} \leq \frac{x^2 + y^2}{x^2 + y^2} = \frac{a}{x^2 + y^2}$$

باجذور کردن دو طرف این نابرابری و تبدیل های لازم به دست می آید:

$$(x^2 + y^2)^2 \leq 2a^2 \Rightarrow x^2 + y^2 \leq \sqrt{2a^2}$$

حداکثر مقدار $x^2 + y^2$ برابر $\sqrt{2a^2}$ است که به ازای $x = y = \sqrt{\frac{a}{2}}$ به دست می آید.

دست می آید.

برای پیدا کردن حداکثر $x + y$ ، از همان نابرابری های (۷) استفاده

می کنیم:

$$x + y \leq 2 \sqrt{\frac{x^2 + y^2}{2}} \leq 2 \sqrt{\frac{\sqrt{2a^2}}{2}} = \sqrt{4a}$$

حداکثر $x + y$ برابر $\sqrt{4a}$ است که به ازای $x = y = \sqrt{\frac{a}{2}}$ به دست

می آید.

۶۵. واسطه حسابی از واسطه مربعی تجاوز نمی کند:

$$\frac{x+y+z}{3} \leq \sqrt{\frac{x^2+y^2+z^2}{3}} \Rightarrow x^2+y^2+z^2 \geq \frac{(x+y+z)^2}{3} = 12$$

حداقل $x^2+y^2+z^2$ برابر ۱۲ است و برای $x=y=z=2$ به دست می آید.

۶۶. دانهائی. به ازای $\alpha > 1$ داریم $C_\alpha \geq C_1$ و به ازای $0 < \alpha < 1$ $C_\alpha < C_1$.

۶۷. می دانیم $C_1 \leq C_3$ ، یعنی

$$\frac{x+y+z}{3} \leq \left(\frac{x^3+y^3+z^3}{3}\right)^{\frac{1}{3}} = \left(\frac{81}{3}\right)^{\frac{1}{3}} = 3 \Rightarrow x+y+z \leq 9$$

۶۸. چون $0 < \alpha + 1 < 1$ ، داریم (مسأله ۱۶ را ببینید):

$$\left(1 + \frac{1}{n}\right)^{\alpha+1} < 1 + \frac{\alpha+1}{n}, \quad \left(1 - \frac{1}{n}\right)^{\alpha+1} < 1 - \frac{\alpha+1}{n}$$

که اگر، این دو نابرابری را در $n^{\alpha+1}$ ضرب کنیم، به دست می آید:

$$(n+1)^{\alpha+1} < n^{\alpha+1} + (\alpha+1)n^\alpha, \quad (n-1)^{\alpha+1} < n^{\alpha+1} - (\alpha+1)n^\alpha$$

و از آن‌ها، نابرابری‌های مطلوب نتیجه می شود.

۶۹. با توجه به مسأله ۱۶ و شرط $\alpha > 1$ داریم:

$$(1+t)^\alpha \geq 1 + \alpha t, \quad t \geq -1$$

(علامت برابری، تنها برای $t=0$). اگر $1+t=y$ بگیریم، نابرابری بالا به این صورت درمی آید:

$$y^\alpha \geq 1 + \alpha(y-1) \Rightarrow y^\alpha - \alpha y \geq 1 - \alpha \quad (y \geq 0)$$

(برابری تنها برای $y=1$). m را عددی مثبت می گیریم و دو طرف

نابرابری اخیر را در m^α ضرب می کنیم، چنین می شود:

$$(my)^\alpha - \alpha m^{\alpha-1}(my) \geq (1-\alpha)m^\alpha, \quad y \geq 0$$

اکنون اگر $my = x$ و $m = \left(\frac{a}{\alpha}\right)^{\frac{1}{\alpha-1}}$ بگیریم (یعنی $am^{\alpha-1} = a$) نتیجه می‌شود:

$$x^\alpha - ax \geq (1-\alpha)m^\alpha = (1-\alpha)\left(\frac{a}{\alpha}\right)^{\frac{\alpha}{\alpha-1}}$$

(برابری، برای $y=1$ یا $x=m$ ، یعنی $x = \left(\frac{a}{\alpha}\right)^{\frac{1}{\alpha-1}}$.)

به این ترتیب، با شرط‌های $\alpha > 1$ و $x \geq 0$ و $a > 1$ ، تابع

$$f(x) = x^\alpha - ax$$

در نقطه $x = \left(\frac{a}{\alpha}\right)^{\frac{1}{\alpha-1}}$ به حداقل مقدار خود می‌رسد و این حداقل برابر است با

$$(1-\alpha)\left(\frac{a}{\alpha}\right)^{\frac{\alpha}{\alpha-1}}$$

مثلاً در حالت خاص $\alpha = 2$ ، حداقل مقدار $x^2 - ax$ در نقطه $x = \frac{a}{2}$ به

دست می‌آید که برابر است با $-\frac{a^2}{4}$. همچنین، حداقل مقدار $x^3 - 27x$ در

نقطه $x = 3$ به دست می‌آید و برابر است با -54 .

در ضمن روشن است که اگر با تابع $\varphi(x) = ax - x^\alpha$ ، با همان

شرط‌های $\alpha > 1$ ، $a > 0$ و $x \geq 0$ ، سروکار داشته باشیم، در همان نقطه

$x = \left(\frac{a}{\alpha}\right)^{\frac{1}{\alpha-1}}$ به حداکثر مقدار خود، یعنی $(\alpha-1)\left(\frac{a}{\alpha}\right)^{\frac{\alpha}{\alpha-1}}$ می‌رسد.

۷۰. $\cos x = t$ می‌گیریم. داریم:

$$\sin x \sin 2x = 2 \sin^2 x \cos x = 2(1 - \cos^2 x) \cos x = 2(t - t^3)$$

روشن است که $1 \leq t \leq -1$. در حالت $0 \leq t \leq 1$ - مقدار

$$\sin x \sin 2x = 2t(1-t^2)$$

غیر مثبت و، بنا بر این، از مقدار مثبت $\frac{4}{9}\sqrt{3}$ کوچکتر است. در حالت $0 < t \leq 1$ ، با توجه به نتیجه مسئله قبل، تابع $t - t^3$ در نقطه

$$t = \left(\frac{1}{3}\right)^{\frac{1}{3-1}} = \frac{1}{\sqrt{3}}$$

به حداکثر مقدار خود می‌رسد که برابر است با

$$2t(1-t^2) = \frac{2}{\sqrt{3}}\left(1 - \frac{1}{3}\right) = \frac{4}{3\sqrt{3}} = \frac{4}{9}\sqrt{3}$$

یعنی در هر حال $\sin x \sin 2x \leq \frac{4}{9}\sqrt{3}$.

۷۱. راه حل شبیه راه حل مسئله ۶۹ است. چون $\alpha < 0$ ، بنا بر این

$$(1+t)^\alpha \geq 1 + \alpha t$$

(برابری تنها برای $t=0$) می‌گیریم:

$$y^\alpha \geq 1 + \alpha(y-1), \quad y \geq 0$$

(برابری، برای $y=1$). با ضرب دو طرف نابرابری در m^α ($m > 0$) به دست می‌آید:

$$(my)^\alpha - \alpha m^{\alpha-1} (my) \geq (1-\alpha)m^\alpha$$

و با فرض $x = my$ و $a = -\alpha m^{\alpha-1}$

$$x^\alpha + ax \geq (1-\alpha)m^\alpha = (1-\alpha)\left(-\frac{a}{\alpha}\right)^{\frac{\alpha}{\alpha-1}}$$

(برابری، برای $x = m = \left(-\frac{a}{\alpha}\right)^{\frac{1}{\alpha-1}}$)

مثلاً تابع $f(x) = \frac{1}{\sqrt{x}} + 27x$ ($x > 0$) در نقطه $x = \frac{1}{27}$ به حداقل مقدار خود می‌رسد و این مقدار حداقل برابر ۴ می‌شود.

۷۲. دهنمائی. با فرض $y = x^\alpha$ به تابع $a\left(\frac{1}{a}y - y\right)^{\frac{1}{\alpha}}$ می‌رسیم که،

در آن، $a > 0$ و $\frac{1}{\alpha} > 1$ و $y \geq 0$ ؛ در نتیجه، با توجه به حل مسأله ۶۹ قابل حل است.

پاسخ: حداکثر مقدار تابع برابر است با $(1-\alpha)\left(\frac{a}{\alpha}\right)^{\frac{\alpha}{\alpha-1}}$.

۷۳. $\sqrt[n]{n} = 1 + \alpha_n$ می‌گیریم که در آن $\alpha_n > 0$ و دو طرف آن را به توان n می‌رسانیم:

$$n = (1 + \alpha_n)^n = \left[(1 + \alpha_n)^{\frac{n}{2}} \right]^2$$

به شرط $n \geq 2$ ، یعنی $\frac{n}{2} \geq 1$ ، با توجه به مسأله ۱۶ داریم:

$$(1 + \alpha_n)^{\frac{n}{2}} > 1 + \frac{n}{2}\alpha_n;$$

$$n > \left(1 + \frac{n}{2}\alpha_n\right)^2 = 1 + n\alpha_n + \frac{n^2}{4}\alpha_n^2 > \frac{n^2}{4}\alpha_n^2$$

از آن جا $\alpha_n^2 < \frac{4}{n}$ و $\alpha_n < \frac{2}{\sqrt{n}}$ ، به این ترتیب

$$\sqrt[n]{n} = 1 + \alpha_n < 1 + \frac{2}{\sqrt{n}}$$

این نایربری را، به کمک بسط دو جمله‌ای، می‌توانیم قوی‌تر کنیم.

داریم:

$$\left(1 + \sqrt{\frac{2}{n}}\right)^n = 1 + n\sqrt{\frac{2}{n}} + \frac{n(n-1)}{2} \cdot \frac{2}{n} + \dots$$

$$\dots > 1 + \frac{n(n-1)}{2} \cdot \frac{2}{n} = n$$

$$\sqrt[n]{n} < 1 + \sqrt{\frac{2}{n}}$$

۰۷۴ به ترتیب داریم:

$$(\sqrt{n+1} + \sqrt{n-1})^2 = 2n + 2\sqrt{n^2-1} < 2n + 2\sqrt{n^2} = 4n$$

یعنی $\sqrt{n+1} + \sqrt{n-1} < 2\sqrt{n}$ و بنا بر این

$$\frac{1}{2\sqrt{n}} < \frac{1}{\sqrt{n+1} + \sqrt{n-1}} = \frac{\sqrt{n+1} - \sqrt{n-1}}{2}$$

$$\frac{1}{\sqrt{n}} < \sqrt{n+1} - \sqrt{n-1}$$

۰۷۵ در آغاز، این دستور مثلثاتی را به یاد می آوریم:

$$\operatorname{tg}(A+B+C) = \frac{\operatorname{tg} A + \operatorname{tg} B + \operatorname{tg} C - \operatorname{tg} A \operatorname{tg} B \operatorname{tg} C}{1 - \operatorname{tg} A \operatorname{tg} B - \operatorname{tg} B \operatorname{tg} C - \operatorname{tg} C \operatorname{tg} A} =$$

$$= \frac{\operatorname{cotg} A \operatorname{cotg} B + \operatorname{cotg} B \operatorname{cotg} C + \operatorname{cotg} C \operatorname{cotg} A - 1}{\operatorname{cotg} A \operatorname{cotg} B \operatorname{cotg} C - \operatorname{cotg} A - \operatorname{cotg} B - \operatorname{cotg} C}$$

که از آن نتیجه می شود:

$$A+B+C = k\pi \Rightarrow \begin{cases} \operatorname{tg} A + \operatorname{tg} B + \operatorname{tg} C = \operatorname{tg} A \operatorname{tg} B \operatorname{tg} C, \\ \operatorname{cotg} A \operatorname{cotg} B + \operatorname{cotg} B \operatorname{cotg} C + \operatorname{cotg} C \operatorname{cotg} A = 1 \end{cases}$$

$$A+B+C = (2k+1)\frac{\pi}{2} \Rightarrow$$

$$\Rightarrow \begin{cases} \operatorname{cotg} A + \operatorname{cotg} B + \operatorname{cotg} C = \operatorname{cotg} A \operatorname{cotg} B \operatorname{cotg} C, \\ \operatorname{tg} A \operatorname{tg} B + \operatorname{tg} B \operatorname{tg} C + \operatorname{tg} C \operatorname{tg} A = 1 \end{cases}$$

(۱) چون $\alpha + \beta + \gamma = \pi$ ، پس

$$\cotg \alpha \cotg \beta + \cotg \beta \cotg \gamma + \cotg \gamma \cotg \alpha = 1$$

$$\tg \alpha \tg \beta + \tg \beta \tg \gamma + \tg \gamma \tg \alpha =$$

$$= (\tg \alpha \tg \beta + \tg \beta \tg \gamma + \tg \gamma \tg \alpha) (\cotg \alpha \cotg \beta + \cotg \beta \cotg \gamma +$$

$$+ \cotg \gamma \cotg \alpha) = (\tg \alpha \tg \beta + \tg \beta \tg \gamma + \tg \gamma \tg \alpha) \left(\frac{1}{\tg \alpha \tg \beta} +$$

$$+ \frac{1}{\tg \alpha \tg \gamma} + \frac{1}{\tg \gamma \tg \alpha} \right) \geq 9$$

(مسأله ۱۱ را ببینید).

(۲) $y = \cotg \alpha \cotg \beta \cotg \gamma$ می‌گیریم، پس

$$y^2 = (\cotg \alpha \cotg \beta) (\cotg \beta \cotg \gamma) (\cotg \gamma \cotg \alpha)$$

مجموع این سه برانتر برابر واحد است (زیرا $\alpha + \beta + \gamma = \pi$) و می‌دانیم: اگر مجموع سه عامل مثبت، مقداری ثابت باشد، حاصل ضرب آنها وقتی به حداکثر مقدار خود می‌رسد که این عامل‌ها باهم برابر باشند:

$$\cotg \alpha \cotg \beta = \cotg \beta \cotg \gamma = \cotg \gamma \cotg \alpha \implies \alpha = \beta = \gamma = \frac{\pi}{3}$$

و به این ترتیب، حداکثر مقدار y ، به ازای $\alpha = \beta = \gamma = \frac{\pi}{3}$ به دست می‌آید:

$$y_{Max} = \left(\cotg \frac{\pi}{3} \right)^3 = \left(\frac{\sqrt{3}}{3} \right)^3 = \frac{\sqrt{3}}{9}$$

یعنی $\cotg \alpha \cotg \beta \cotg \gamma \leq \frac{\sqrt{3}}{9}$

یادداشت. در استدلال بالا، زاویه‌های α ، β و γ را حاده گرفتیم، ولی اگر یکی از زاویه‌ها منفرجه باشد، باز هم نابرابری (۲) درست است، زیرا مقدار سمت چپ آن منفی می‌شود و از هر مقدار مثبتی کوچکتر است.

۲۶. نابرابری قوی‌تری را در نظر می‌گیریم و ثابت می‌کنیم، برای n

عدد مثبت a_1, a_2, \dots, a_n همیشه داریم:

$$\frac{(a_1 + a_2)(a_2 + a_3) \dots (a_{n-1} + a_n)(a_n + a_1)}{a_1 a_2 \dots a_n} \geq 2^n$$

نا برابری‌های زیر روشن‌اند:

$$a_1 + a_2 \geq 2\sqrt{a_1 a_2}, \quad a_2 + a_3 \geq 2\sqrt{a_2 a_3}, \quad \dots$$

$$a_{n-1} + a_n \geq 2\sqrt{a_{n-1} a_n}, \quad a_n + a_1 \geq 2\sqrt{a_n a_1}$$

که از ضرب آن‌ها در یکدیگر به دست می‌آید:

$$(a_1 + a_2)(a_2 + a_3) \dots (a_{n-1} + a_n)(a_n + a_1) \geq 2^n a_1 a_2 \dots a_n$$

و در حالت خاص $n=3$ و $a_1 = x, a_2 = y, a_3 = z$ داریم:

$$(x+y)(y+z)(z+x) \geq 2^3 xyz \Rightarrow$$

$$\Rightarrow \frac{(x+y)(y+z)(z+x)}{xyz} \geq 8$$

می‌دانیم $A = a^3 + b^3 + c^3 - 3abc = 3SR + 8Sr$ در ضمن

می‌دانیم

$$R = \frac{abc}{3S}, \quad r = \frac{2S}{a+b+c}$$

در این صورت به ترتیب داریم:

$$A = a^3 + b^3 + c^3 - 3abc + \frac{16S^2}{a+b+c} =$$

$$= a^3 + b^3 + c^3 - 3abc + (a+b-c)(c+a-b)(b+c-a) =$$

$$= a^2b + a^2c + b^2a + b^2c + c^2a + c^2b + 3abc - 9abc =$$

$$= (a+b+c)(ab+bc+ca) - 9abc =$$

$$= abc \left[(a+b+c) \left(\frac{1}{a} + \frac{1}{b} + \frac{1}{c} \right) - 9 \right] \geq 0$$

مسأله ۹۹ را ببینید). بنا بر این $a^3 + b^3 + c^3 \geq 3S(2R - r)$ علامت برابری، برای $a = b = c$ ، یعنی وقتی که مثلث مفروض، متساوی الاضلاع باشد.

۷۸. اگر همهٔ عددهای a_1, a_2, \dots, a_n هم علامت باشند، روشن است که، قدرمطلق مجموع آنها، با مجموع قدرمطلق‌های آنها برابر می‌شود، و لسی اگر در بین عددهای a_i ، بعضی مثبت و بعضی منفی باشند، قدرمطلق مجموع عددهای مثبت را A و قدرمطلق مجموع عددهای منفی را B می‌گیریم. روشن است که مقدار سمت چپ برابر $||A| - |B||$ و مقدار سمت راست برابر $|A| + |B|$ می‌شود، یعنی سمت چپ نابرابری از سمت راست آن کوچکتر است.

۷۹. در تمرین ۷۵ دیدیم، برای زاویه‌های هر مثلث داریم:

$$\cotg A \cotg B \cotg C \leq \frac{\sqrt{3}}{9}$$

چون A و B و C ، زاویه‌هایی حاده‌اند، همهٔ تابع‌های مثلثاتی آنها مثبت‌اند و به دست می‌آید:

$$\tg A \tg B \tg C \geq \frac{9}{\sqrt{3}} = 3\sqrt{3} = (\sqrt{3})^3$$

اکنون، با توجه به رابطهٔ بین واسطه‌های حسابی و هندسی و استفاده از مسألهٔ ۹۶ داریم:

$$\begin{aligned} \tg^n A + \tg^n B + \tg^n C &\geq 3\sqrt[n]{(\tg A \tg B \tg C)^n} \geq 3(\sqrt{3})^n > \\ &> 3\left(1 + \frac{1}{2}\right)^n \geq 3 + \frac{3n}{2} \end{aligned}$$

۸۰. با توجه به شرط مساله، کسرهای مثبت‌اند، بنا بر این

$$\frac{1}{\sin\left(\frac{\pi}{3} + \alpha\right)} + \frac{1}{\sin\left(\frac{\pi}{3} - \alpha\right)} \geq 2\sqrt{\frac{1}{\sin\left(\frac{\pi}{3} + \alpha\right)\sin\left(\frac{\pi}{3} - \alpha\right)}} =$$

$$= 2\sqrt{\frac{2}{\cos 2\alpha - \cos 120^\circ}} = 2\sqrt{\frac{4}{2\cos 2\alpha + 1}} \geq \frac{2 \times 2}{\sqrt{3}} = \frac{4\sqrt{3}}{3}$$

۰۸۱. با توجه به نامبرابری‌های $\sin \frac{\hat{A}}{2} \sin \frac{\hat{B}}{2} \sin \frac{\hat{C}}{2} \leq \frac{1}{8}$ و

$\cos \frac{\hat{A}}{2} \cos \frac{\hat{B}}{2} \cos \frac{\hat{C}}{2} \leq \frac{3\sqrt{3}}{8}$ ، که در هر مثلث برقرارند، داریم:

$$ab + bc + ca = 2S \left(\frac{1}{\sin C} + \frac{1}{\sin A} + \frac{1}{\sin B} \right) \geq$$

$$\geq 6S \sqrt{\frac{1}{\sin A \sin B \sin C}} =$$

$$= \frac{3S}{\sqrt{\left(\sin \frac{A}{2} \sin \frac{B}{2} \sin \frac{C}{2} \right) \left(\cos \frac{A}{2} \cos \frac{B}{2} \cos \frac{C}{2} \right)}} \geq$$

$$\geq \frac{3S}{\sqrt{\frac{1}{8} \times \frac{3\sqrt{3}}{8}}} = \frac{3S}{\frac{1}{2} \times \frac{\sqrt{3}}{2}} = 4S\sqrt{3}$$

۰۸۲. بردار \mathbf{u} را با مختصات $(1, \sqrt{x-1})$ و بردار \mathbf{v} را با مختصات

$(1, \sqrt{y-1})$ در نظر می‌گیریم:

$$\mathbf{u} = (\sqrt{x-1}, 1), \quad \mathbf{v} = (1, \sqrt{y-1})$$

بنابراین $|\mathbf{u}| = \sqrt{x}$ و $|\mathbf{v}| = \sqrt{y}$ می‌دانیم اگر دو بردار دارای مختصات (x_1, y_1) و (x_2, y_2) باشند، حاصل ضرب عددی (اسکالر) آنها برابر $x_1 x_2 + y_1 y_2$ می‌شود [کتاب محاسبه برداری از رشته کتاب‌های کوچک ریاضی، شماره ۱۵، صفحه ۳۹ را ببینید]، یعنی

$$\mathbf{u} \cdot \mathbf{v} = \sqrt{x-1} + \sqrt{y-1}$$

و چون $\mathbf{u} \cdot \mathbf{v} \leq |\mathbf{u}| |\mathbf{v}|$ ، بنابراین

$$\sqrt{x-1} + \sqrt{y-1} \leq \sqrt{xy} \quad (*)$$

اکنون با استفاده از این نابرابری به دست می‌آید:

$$\sqrt{a-1} + \sqrt{b-1} + \sqrt{c-1} \leq \sqrt{ab} + \sqrt{c-1} \leq \sqrt{(ab+1)c}$$

یادداشت. درستی نابرابری (*) را به طور مستقیم هم می‌توان ثابت کرد. برای سادگی بیشتر، نابرابری زیر را، که هم‌ارز نابرابری (*) است، ثابت می‌کنیم:

$$\sqrt{t} + \sqrt{z} \leq \sqrt{(t+1)(z+1)}, \quad t \geq 0, \quad z \geq 0 \quad (**)$$

باجذور کردن دو طرف نابرابری (***)، به سادگی، به نابرابری روشن زیر

$$(\sqrt{zt} - 1)^2 \geq 0 \quad \text{می‌رسیم:}$$

و روشن است که علامت برابری برای $zt = 1$ است.

۸۳. با استفاده از قضیه ویت دربارهٔ رابطهٔ بین ریشه‌ها و ضریب‌های چندجمله‌ای و با توجه به نابرابری بین واسطهٔ حسابی و واسطهٔ هندسی چند عدد مثبت، داریم:

$$10 = x_1 + x_2 + x_3 + x_4 + x_5 \geq 5 \sqrt{x_1 x_2 x_3 x_4 x_5} = 5 \sqrt{32} = 10$$

چون واسطهٔ حسابی با واسطهٔ هندسی برابر شده است، باید داشته باشیم:

$$x_1 = x_2 = x_3 = x_4 = x_5 = 2$$

یعنی چندجمله‌ای باید به صورت $(x-2)^5$ باشد، که از آنجا به دست می‌آید:

$$a = 20, \quad b = -80, \quad c = 80$$

۸۴. با توجه به دستورهای $2S = ah_a = bh_b = ch_c$ و با استفاده از نابرابری کوشی داریم:

$$\frac{1}{3} \left(\frac{1}{h_a} + \frac{1}{h_b} + \frac{1}{h_c} \right) = \frac{1}{3} \cdot \frac{a+b+c}{2S} \geq \sqrt[3]{\frac{abc}{8S^3}} = \sqrt[3]{\frac{R}{2S^2}}$$

(از برابری $abc = 4RS$ استفاده کردیم).

۸۵. مسأله منجر به حل معادلهٔ زیر، در مجموعهٔ عددهای درست

$$0 < x < 10, 0 < y < 10, 0 < z < 10 \text{ می‌شود:}$$

$$100x + 10y + z = xyz(x + y + z) \Rightarrow$$

$$9(11x + y) = (x + y + z)(xyz - 1)$$

در این معادله باید: یا هر یک از عددهای $x + y + z$ و $xyz - 1$ بر ۳ و یا یکی از آن‌ها بر ۹ بخش پذیر باشد. در حالت اول، به سادگی معلوم می‌شود که باید هر سه رقم x و y و z ، در تقسیم بر ۳ به باقی ماندهٔ واحد برسند، ولی در این صورت $11x + y$ هم بر ۳ بخش پذیر و برابری ناممکن می‌شود. بنابراین، باید یکی از دو عدد $x + y + z$ یا $xyz - 1$ بر ۹ بخش پذیر باشد، اگر $x + y + z > 17$ ، آن وقت $xyz \geq 72$ (چرا؟) و

$$xyz(x + y + z) > 1000$$

یعنی \overline{xyz} نمی‌تواند عددی سه رقمی باشد. بنابراین، اگر $x + y + z$ بر ۹ بخش پذیر باشد، باید داشته باشیم $x + y + z = 9$

$$\sqrt[3]{xyz} \leq \frac{x + y + z}{3} = 3 \Rightarrow xyz \leq 27$$

وقتی $x + y + z = 9$ ، آن وقت $xyz = 11x + y$ و، بنابراین، x تنها می‌تواند برابر ۱ یا ۲ باشد، زیرا در غیر این صورت به دست می‌آید $xyz > 72$. در حالت $x = 2$ ، به این دستگاه می‌رسیم:

$$y + z = 7, 2yz = y + 23$$

که جواب‌های درست ندارد. $x = 1$ را آزمایش می‌کنیم. به این دستگاه می‌رسیم:

$$y + z = 7, 11 + y = yz - 1$$

این دستگاه جواب دارد و سرانجام به دو عدد ۱۳۵ و ۱۴۴ می‌رسیم که با شرط مسأله سازگارند.

اکنون باید به حالتی بپردازیم که $xyz - 1$ بر ۹ بخش پذیر باشد.

اگر $xyz - 1 = 9$ ، آن وقت با توجه به معادله اصلی، به برابری $10x = z$ می‌رسیم که ممکن نیست.

$xyz - 1$ برابر ۱۸، ۳۶، ۴۵، ۵۴، ۷۲، ۸۱ یا ۹۰ هم نمی‌تواند باشد، زیرا در هر یک از این موردها، عدد xyz برابر عددی می‌شود که عامل اولی بزرگتر از ۱۰ دارد.

برای $xyz - 1 = 27$ به دستگاه زیر می‌رسیم:

$$8x = 2y + 3z, \quad xyz = 28$$

که برای مسأله ما، جواب مناسبی ندارد.

به همین ترتیب در حالت $xyz - 1 = 63$ هم، جوابی به دست نمی‌آید.

اگر $xyz - 1 = 9k$ ($k > 10$)، آن وقت:

$$11x + y < k(x + y + z)$$

به این ترتیب، تنها جواب‌های مسأله، عددهای ۱۳۵ و ۱۴۴ است.

۰۸۶ اگر $x = \sqrt[n]{n + \sqrt[n]{n}}$ و $y = \sqrt[n]{n - \sqrt[n]{n}}$ بگیریم نابرابری

مورد نظر، به صورت $\frac{x+y}{2} \leq \sqrt[n]{\frac{x^n + y^n}{2}}$ درمی‌آید که درستی آن

روشن است، زیرا برای دو عدد y, x داریم $C_1 \leq C_n$.

نابرابری $\frac{x+y}{2} \leq \sqrt[n]{\frac{x^n + y^n}{2}}$ را به طور مستقیم هم می‌توان

ثابت کرد. باید ثابت کنیم، برای $x > 0$ و $y > 0$ ، همیشه داریم

$$\left(\frac{x+y}{2}\right)^n \leq \left(\frac{x^n + y^n}{2}\right) \quad (*)$$

این نابرابری، به ازای $n = 1$ ، به برابری تبدیل می‌شود و درستی آن بر $n = 2$ به سادگی به دست می‌آید: از روش استقرای ریاضی استفاده می‌کنیم و ثابت می‌کنیم، به فرض درستی $(*)$ ، داریم:

$$\left(\frac{x+y}{2}\right)^{n+1} \leq \frac{x^{n+1} + y^{n+1}}{2} \quad (**)$$

اگر دو طرف نابرابری (*) را در $\frac{x+y}{2}$ ضرب کنیم، به دست می آید:

$$\left(\frac{x+y}{2}\right)^{n+1} \leq \frac{x^n + y^n}{2} \cdot \frac{x+y}{2}$$

و بنا بر این، کافی است ثابت کنیم: $\frac{x^n + y^n}{2} \cdot \frac{x+y}{2} \leq \frac{x^{n+1} + y^{n+1}}{2}$

و درستی این نابرابری روشن است، زیرا به نابرابری واضح $(x^n - y^n)(x - y) \geq 0$ تبدیل می شود.

۰۸۷ چون $\sin^2 x \leq 1$ و $\cos^2 x \leq 1$ و $k \geq 1$ ، بنا بر این

$$(\sin x)^{2k} + (\cos x)^{2k} \leq \sin^2 x + \cos^2 x = 1$$

برای اثبات نابرابری سمت چپ، فرض می کنیم $a = \sin^2 x$ و

$b = \cos^2 x$ و از نابرابری $\frac{a^k + b^k}{2} \geq \left(\frac{a+b}{2}\right)^k$ استفاده می کنیم (مسأله قبل را ببینید)؛ به دست می آید:

$$(\sin x)^{2k} + (\cos x)^{2k} \geq \frac{1}{2^{k-1}}$$

۰۸۸ فرض می کنیم، در ظرف های اول و دوم، به ترتیب m کیلوگرم و

n کیلوگرم نمک و مقدار آب بخار شده در این ظرف ها، به ترتیب، x کیلوگرم و y کیلوگرم باشد. فرض مسأله می گوید:

$$\frac{m}{5-x} : \frac{m}{5} = \frac{5}{5-x} = p, \quad \frac{n}{20-y} : \frac{n}{20} = \frac{20}{20-y} = q$$

که از آنها به دست می آید: $x = 5 - \frac{5}{p}$ و $y = 20 - \frac{20}{q}$. بنا بر این مقدار

آب بخار شده در دو ظرف برابر است با

$$x+y = 25 - \left(\frac{5}{p} + \frac{20}{q}\right) \leq 25 - 2\sqrt{\frac{5}{p} \cdot \frac{20}{q}} =$$

$$= 25 - 2\sqrt{\frac{100}{pq}} = 25 - \frac{20}{3} = 18\frac{1}{3}$$

به این ترتیب، حداکثر آبی که می‌تواند بخار شده باشد، برابر

$18\frac{1}{3}$ کیلوگرم است و این، به شرطی است که داشته باشیم $\frac{5}{p} = \frac{20}{q}$ که، با

توجه به $pq = 9$ ، به دست می‌آید: $p = \frac{3}{4}$ و $q = 6$.

$$\cdot y = 20 - \frac{20}{q} = \frac{50}{3} \text{ و } x = 5 - \frac{5}{p} = \frac{5}{3}$$

حداکثر مقدار آبی که می‌تواند بخار شود برابر $18\frac{1}{3}$ کیلوگرم است که

باید $\frac{2}{3}$ کیلوگرم آن از ظرف اول و $16\frac{2}{3}$ کیلوگرم بقیه از ظرف دوم بخار

شده باشد.

(۱۰۸۹) به ترتیب داریم:

$$C_{\alpha}(a, b) = \left(\frac{a^{\alpha} + b^{\alpha}}{2} \right)^{\frac{1}{\alpha}}$$

$$C_{-\alpha}(a, b) = \left(\frac{a^{-\alpha} + b^{-\alpha}}{2} \right)^{-\frac{1}{\alpha}} = \left(\frac{2}{\frac{1}{a^{\alpha}} + \frac{1}{b^{\alpha}}} \right)^{\frac{1}{\alpha}} = ab \left(\frac{2}{a^{\alpha} + b^{\alpha}} \right)^{\frac{1}{\alpha}}$$

از آنجا

$$C_{\alpha}(a, b) \cdot C_{-\alpha}(a, b) = ab = (\sqrt{ab})^2 = C^2(a, b)$$

مثلاً، اگر واسطه حسابی بین دو عدد a و b را با $A(a, b)$ ، واسطه

هندسی را با $G(a, b)$ و واسطه توافقی بین آنها را با $H(a, b)$ نشان دهیم،

از برابری بالا به ازای $\alpha = 1$ به دست می‌آید:

$$A(a, b) \cdot H(a, b) = G^2(a, b)$$

(آزمایش کنید: به ازای $\alpha = \frac{1}{4}$ ، چه رابطه‌ای به دست می‌آید؟).

$$C_{-a} = \frac{1}{C_a\left(\frac{1}{a}, \frac{1}{b}\right)} \quad (۲) \text{ راهنمایی. تحقیق کنید}$$

به این ترتیب، نسبت واسطه حسابی دو عدد بر واسطه حسابی عکس آن دو عدد برابر است با حاصل ضرب دو عدد. همین گزاره رامی توان برای واسطه مربعی یا واسطه توافقی هم به کار برد.

۱۰۹۰) با توجه به مسأله ۱۶ داریم

$$x^n = [1 + (x-1)]^n \geq 1 + n(x-1) = nx - n + 1$$

(۲) الف) به ترتیب داریم:

$$\begin{aligned} k(k-1)(A_k - A_{k-1}) &= (k-1)(a_1 + a_2 + \dots + a_k) - k(a_1 + \\ &+ a_2 + \dots + a_{k-1}) = (k-1)a_k - (a_1 + a_2 + \dots + a_{k-1}) = \\ &= (a_k - a_1) + (a_k - a_2) + \dots + (a_k - a_{k-1}) \geq 0 \end{aligned}$$

یعنی $A_{k-1} \leq A_k$

ب) داریم:

$$\begin{aligned} n(a_n - A_n) &= na_n - (a_1 + a_2 + \dots + a_n) = (a_n - a_1) + \\ &+ (a_n - a_2) + \dots + (a_n - a_{n-1}) \geq 0 \Rightarrow A_n \leq a_n \end{aligned}$$

ج) با توجه به آن چه در بخش (۱) و بخش (۲)، الف) همین مسأله ثابت

کردیم، داریم:

$$\begin{aligned} \frac{A_k^k}{A_{k-1}^{k-1}} &= A_{k-1} \left(\frac{A_k}{A_{k-1}} \right)^k \geq A_{k-1} \left(k \cdot \frac{A_k}{A_{k-1}} - k + 1 \right) = \\ &= kA_k - (k-1)A_{k-1} = a_k \Rightarrow a_k \leq \frac{A_k^k}{A_{k-1}^{k-1}} \end{aligned}$$

(۳) الف) به ترتیب داریم:

$$\left(\frac{G_k}{G_{k-1}} \right)^{k(k-1)} = \frac{(a_1 a_2 \dots a_k)^{k-1}}{(a_1 a_2 \dots a_{k-1})^k} = \frac{a_k^{k-1}}{a_1 a_2 \dots a_{k-1}} =$$

$$= \frac{a_k}{a_1} \cdot \frac{a_k}{a_2} \dots \frac{a_k}{a_{k-1}} \geq 1 \implies G_{k-1} \leq G_k$$

(ب) داریم:

$$\left(\frac{a_n}{G_n}\right)^n = \frac{a_n^n}{a_1 a_2 \dots a_n} = \frac{a_n}{a_1} \cdot \frac{a_n}{a_2} \dots \frac{a_n}{a_{n-1}} \geq 1$$

از آن جا $G_n \leq a_n$

(ج) با توجه به آن چه هم اکنون ثابت کردیم، یعنی $\frac{G_k}{G_{k-1}} \geq 1$ [بخش

(۳، الف) از همین مسأله]، و با توجه به نابرابری بخش (۱) همین مسأله، داریم:

$$a_k = \frac{a_1 a_2 \dots a_k}{a_1 a_2 \dots a_{k-1}} = \frac{G_k^k}{G_{k-1}^{k-1}} = G_{k-1} \left(\frac{G_k}{G_{k-1}}\right)^k \geq \\ \geq G_{k-1} \left(k \cdot \frac{G_k}{G_{k-1}} - k + 1\right) = kG_k - (k-1)G_{k-1}$$

یعنی $kG_k - (k-1)G_{k-1} \leq a_k$

یادداشت. این نابرابری را، با روش دیگری هم می توان ثابت کرد.

داریم:

$$G_{k-1}^{k-1} = a_1 a_2 \dots a_{k-1} \implies G_k^k = G_{k-1}^{k-1} \cdot a_k$$

یعنی

$$G_k = \sqrt[k]{G_{k-1} \cdot G_{k-1} \dots G_{k-1} \cdot a_k} \leq \frac{(k-1)G_{k-1} + a_k}{k}$$

از آن جا $kG_k - (k-1)G_{k-1} \leq a_k$

(۴) چون $\frac{1}{r_1} + \frac{1}{r_2} + \dots + \frac{1}{r_n} = 1$ بنا بر این می توان فرض کرد:

$$\frac{1}{r_1} = \frac{m_1}{m_1 + m_2 + \dots + m_n}, \quad \frac{1}{r_2} = \frac{m_2}{m_1 + m_2 + \dots + m_n}, \dots$$

$$\dots, \quad \frac{1}{r_n} = \frac{m_n}{m_1 + m_2 + \dots + m_n}$$

که در آن‌ها، m_1, m_2, \dots, m_n ، عددهایی طبیعی‌اند. اکنون، با توجه به نابربری $A_n \geq G_n$ به ترتیب داریم:

$$\frac{a_1^{r_1}}{r_1} + \frac{a_2^{r_2}}{r_2} + \dots + \frac{a_n^{r_n}}{r_n} = \frac{m_1 a_1^{r_1} + m_2 a_2^{r_2} + \dots + m_n a_n^{r_n}}{m_1 + m_2 + \dots + m_n} =$$

$$= \frac{1}{m_1 + m_2 + \dots + m_n} \left(\underbrace{a_1^{r_1} + a_1^{r_1} + \dots + a_1^{r_1}}_{m_1 \text{ مرتبه}} + \right.$$

$$\left. + \underbrace{a_2^{r_2} + a_2^{r_2} + \dots + a_2^{r_2}}_{m_2 \text{ مرتبه}} + \dots + \underbrace{a_n^{r_n} + a_n^{r_n} + \dots + a_n^{r_n}}_{m_n \text{ مرتبه}} \right) \geq$$

$$\geq (a_1^{m_1 r_1} \cdot a_2^{m_2 r_2} \dots a_n^{m_n r_n})^{\frac{1}{m_1 + \dots + m_n}} = a_1 a_2 \dots a_n$$

در تبدیل آخر، از این نابربری‌ها استفاده کردیم:

$$m_1 + m_2 + \dots + m_n = m_1 r_1 = m_2 r_2 = \dots = m_n r_n$$

این نابربری را، می‌توان به صورتی کوتاه، این‌طور نشان داد:

$$\sum_{i=1}^n \frac{a_i^{r_i}}{r_i} \geq \prod_{i=1}^n a_i \left(a_i \geq 0, r_i > 1, \sum_{i=1}^n \frac{1}{r_i} = 1 \right)$$

علامت نابربری، برای $a_1^{r_1} = a_2^{r_2} = \dots = a_n^{r_n}$ ، پیش می‌آید.

یادآوری می‌کنیم که، این نابربری، می‌تواند به عنوان مبنائی برای

اثبات بسیاری از نابربری‌های مهم (مثل نابربری‌های هولدر، کوشی و هینکووسکی) مورد استفاده قرار گیرد.

۹۹. طول و عرض مستطیل کف استخر را x و y و عمق استخر را z

می‌گیریم. اگر مجموع مساحت دیواره‌ها و کف استخر را S بنامیم، داریم.

$$S = xy + 2xz + 2yz \geq 3\sqrt{(xy)(2xz)(2yz)} = 3\sqrt{4x^2y^2z^2} =$$

$$= 3\sqrt{4(xyz)^2} = 3\sqrt{4}V^{\frac{2}{3}}$$

حداقل مقدار S برابر است با $3\sqrt{4}V^{\frac{2}{3}}$ و وقتی برابر این مقدار است که داشته

باشیم:

$$xy = 2xz = 2yz \Rightarrow x = y = 2z = \sqrt{2V}$$

یعنی استخر باید در کف خود مربع شکل باشد و، در ضمن، عمقی برابر نصف ضلع کف داشته باشد، تا هزینه رنگ کردن آن، به حداقل برسد.

۰۹۲ می‌دانیم واسطهٔ مربعی دو عدد، از واسطهٔ حسابی آن‌ها کوچکتر

نیست، یعنی

$$\sqrt{\frac{x^2 + y^2}{2}} \geq \frac{x + y}{2} \Rightarrow x^2 + y^2 \geq \frac{(x + y)^2}{2}$$

اگر به دو طرف این نابرابری، مقدار z^2 را اضافه کنیم و سپس از نابرابری بین واسطه‌های حسابی و هندسی دو عدد استفاده کنیم، به دست می‌آید:

$$\begin{aligned} x^2 + y^2 + z^2 &\geq \frac{(x + y)^2}{2} + z^2 \geq 2\sqrt{\frac{(x + y)^2 z^2}{2}} = \\ &= \sqrt{2}(x + y)z \end{aligned} \quad (*)$$

اکنون، اگر طول و عرض و ارتفاع مکعب مستطیل را، به ترتیب، x و

y و z و مساحت سطح جانبی آن را S بنامیم، خواهیم داشت:

$$S = 2(x + y)z \text{ و } d^2 = x^2 + y^2 + z^2$$

و با توجه به نابرابری $(*)$ ، یعنی $\sqrt{2}(x + y)z \leq x^2 + y^2 + z^2$ ، به دست می‌آید:

$$\frac{\sqrt{2}}{2}S \leq d^2 \Rightarrow S \leq \sqrt{2}d^2$$

علامت برابری وقتی به دست می‌آید که داشته باشیم:

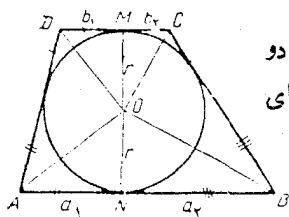
$$y = x \text{ و } \frac{(x + y)^2}{2} = z^2 \Rightarrow x = y \text{ و } z = x\sqrt{2}$$

یعنی وقتی که قاعدهٔ مکعب مستطیل و مقطع قطری آن، مربع باشند.

۰۹۳ نقطه‌های M و N ، نقطه‌های تماس دو قاعدهٔ دوزنقهٔ $ABCD$ با

دایره، قاعده‌ها را به پاره‌خط‌های راستی به طول‌های a_1, a_2 و b_1, b_2 تقسیم

می‌کنند (شکل ۱۸)، به نحوی که $a_1 + a_2 = a$ و $b_1 + b_2 = b$.



شکل ۱۸

دو مثلث AON و ODM و همچنین، دو مثلث BON و COM باهم متشابه‌اند (زاویه‌های DOA و BOC قائمه‌اند)، بنابراین

$$\frac{r}{a_1} = \frac{b_1}{r} \quad \text{و} \quad \frac{r}{a_2} = \frac{b_2}{r}$$

یعنی $r = \sqrt{a_1 b_1} = \sqrt{a_2 b_2}$ و $2r = \sqrt{a_1 b_1} + \sqrt{a_2 b_2}$ و با توجه به قضیهٔ ۳ فصل سوم (نابرابری (۳)):

$$2r = \sqrt{a_1 b_1} + \sqrt{a_2 b_2} \leq \sqrt{(a_1 + a_2)(b_1 + b_2)} = \sqrt{ab}$$

در ضمن، علامت برابری، تنها وقتی برقرار است که $\frac{a_1}{b_1} = \frac{a_2}{b_2}$ ، یعنی وقتی که دوزنقهٔ مفروض، متساوی‌الساقین باشد.

۹۴. ابتدا به یاد می‌آوریم که با توجه به نابرابری (۲) از فصل سوم (قضیهٔ ۲)، برای عددهای مثبت $a_1, a_2, a_3, b_1, b_2, b_3$ ، همیشه داریم:

$$\begin{aligned} & \sqrt{a_1^2 + b_1^2} + \sqrt{a_2^2 + b_2^2} + \sqrt{a_3^2 + b_3^2} \geq \\ & \geq \sqrt{(a_1 + a_2 + a_3)^2 + (b_1 + b_2 + b_3)^2} \end{aligned} \quad (*)$$

اکنون به حل مسأله می‌پردازیم.

فاصله‌های جهت دار از نقطهٔ H تا خط‌های راست AC ، AB و BC را، به ترتیب، x ، y و z می‌نامیم (اگر نقطه‌های A و H در یک طرف خط راست BC باشند $z > 0$ و در غیر این صورت $z < 0$). طول ضلع‌های مثلث ABC ، نصف محیط و مساحت آن را، به ترتیب، a ، b ، c ، p و S می‌نامیم. در نتیجه، نقطهٔ H در هر وضعی باشد (نسبت به مثلث ABC)، داریم:

$$2S = ax + by + cz \quad (**)$$

سطح جانبی چهار وجهی را S_1 و $|DH| = h$ می‌گیریم، با توجه به -

نا برابری (*) و برابری (**): داریم:

$$\begin{aligned} 2S_1 &= a\sqrt{h^2+x^2}+b\sqrt{h^2+y^2}+c\sqrt{h^2+z^2} = \\ &= \sqrt{a^2h^2+a^2x^2}+\sqrt{b^2h^2+b^2y^2}+\sqrt{c^2h^2+c^2z^2} \geq \\ &\geq \sqrt{(ah+bh+ch)^2+(ax+by+cz)^2} = \sqrt{4p^2h^2+4S^2} \end{aligned}$$

از آن جا $S_1 \geq \sqrt{p^2h^2+S^2}$.

علامت برابری وقتی به دست می آید که داشته باشیم $x=y=z$ ، یعنی وقتی که پای ارتفاع DH بر مرکز دایرهٔ محاطی مثلث ABC منطبق باشد.

۹۵. نقطهٔ برخورد خط راست AB را با خط راست d ، با M نشان می دهیم. طول پاره خط های راست $|MA|$ و $|MB|$ ، مقادارهایی ثابت اند:

$$|MA|=a \text{ و } |MB|=b.$$

فرض می کنیم دایره ای که از دو نقطهٔ A و B می گذرد، خط راست d را در نقطه های C و D قطع کند. می خواهیم طول وتر CD ، حداقل مقدار ممکن باشد. داریم:

$$\begin{aligned} |CD| &= |MC|+|MD| \geq 2\sqrt{|MC| \cdot |MD|} = \\ &= 2\sqrt{|MA| \cdot |MB|} \geq 2\sqrt{ab} \end{aligned}$$

حداقل طول وتر CD برابر $2\sqrt{ab}$ می شود و وقتی به این حداقل می رسد که داشته باشیم:

$$|MC|=|MD|=\sqrt{ab}$$

برای رسم دایره، کافی است از نقطهٔ M (محل برخورد خط راست AB با d) روی خط راست d به اندازهٔ \sqrt{ba} جدا کنیم، تا نقطهٔ C به دست آید؛ دایره ای که از سه نقطهٔ A ، B و C می گذارد، دایرهٔ مطلوب است.

۹۶. مرکز بیضی را منطبق بر مبدا مختصات، قطر بزرگتر آن را منطبق بر محور $x'x$ می گیریم. در این صورت، معادلهٔ بیضی چنین می شود:

$$\frac{x^2}{a^2} + \frac{y^2}{b^2} = 1 \quad (*)$$

که در آن، a و b ، نیم قطرهای بزرگتر و کوچکتر بیضی اند وقتی که یک مستطیل در بیضی محاط باشد، محورهای موازی با محورهای بیضی خواهد داشت؛ بنابراین اگر مختصات رأسی از مستطیل که در ربع اول دستگاه محورهای مختصات قرار دارد (x, y) باشد، S ، یعنی مساحت مستطیل برابر $4xy$ می شود: $S = 4xy$.

اکنون، می توان نوشت:

$$1 = \frac{x^2}{a^2} + \frac{y^2}{b^2} \geq 2\sqrt{\frac{x^2}{a^2} \cdot \frac{y^2}{b^2}} = \frac{2xy}{ab} = \frac{S}{2ab}$$

از آن جا $S \leq 2ab$. حداکثر مساحت مستطیل محاط در بیضی با قطرهای $2a$

و $2b$ ، برابر $2ab$ و وقتی به دست می آید که داشته باشیم $\frac{x}{a} = \frac{y}{b}$ که، با

توجه به معادله بیضی، یعنی $\frac{x^2}{a^2} + \frac{y^2}{b^2} = 1$ ، به دست می آید: $x = \frac{a}{\sqrt{2}}$ ،

$$y = \frac{b}{\sqrt{2}}$$

۹۷. محیط مستطیل مفروض را $2p$ و طول یک ضلع آن را x می گیریم

(ضلع دوم: $p-x$). اگر مساحت شکل حاصل را S بنامیم، داریم:

$$S = x(p-x) + \frac{\pi}{4}x^2 + \frac{\pi}{4}(p-x)^2$$

که از آن جا به دست می آید:

$$x^2 - px + \frac{p^2\pi - 4S}{2(\pi - 2)} = 0 \quad (*)$$

شرط وجود ریشه های حقیقی، برای این معادله چنین است

$$p^2 - \frac{2(p^2\pi - 4S)}{\pi - 2} \geq 0 \implies S \geq \frac{1}{8}p^2(\pi + 2)$$

حداقل مقدار S ، برابر $\frac{1}{8}p^2(\pi + 2)$ است وقتی به این مقدار می رسد که

معادله (*)، دارای ریشه مضاعف باشد، یعنی $x = \frac{P}{q}$. برای این که مساحت شکل حاصل به حداقل خود برسد، باید مستطیل مفروض به شکل مربع باشد.

۹۸. D را یکی از نقطه‌های واقع بر پاره خط راست BC می‌گیریم. روشن است که: ۱) در مثلث با دوزاویه حاده B و C ، حداقل طول AD وقتی است که D ، بر نقطه H ، پای ارتفاع AH منطبق باشد؛ و حداکثر طول AD وقتی است که، به شرط $|AB| > |AC|$ ، نقطه D بر نقطه B قرار گیرد؛ ۲) اگر زاویه C منفرجه یا قائمه باشد، حداقل طول AD در حالت انطباق D بر C و حداکثر آن در حالت انطباق D بر B پیش می‌آید:

اکنون، اگر D را واقع بر ضلع BC فرض کنیم و BB' و CC' را بر خط راست AD عمود کنیم (B' و C' روی خط راست AD)، روشن است که

$$S_{ABC} = \frac{1}{2}|AD| \cdot |BB'| + \frac{1}{2}|AD| \cdot |CC'|$$

یعنی $|BB'| + |CC'| = \frac{2S_{ABC}}{|AD|}$. بنابراین، مجموع فاصله‌های از B و C تا خط راست AD وقتی به حداقل خود می‌رسد که $|AD|$ حداکثر باشد، و وقتی به حداکثر خود می‌رسد که $|AD|$ حداقل باشد که، با توجه به آن چه درباره حداقل و حداکثر طول $[AD]$ گفتیم، می‌توان جواب مسأله را در همه حالت‌ها پیدا کرد.

۹۹. فرض می‌کنیم $|AB| = x$ و $|AC| = y$. در این صورت، در مثلث ABC داریم:

$$\begin{aligned} |BC|^2 &= x^2 + y^2 - 2xy \cos \alpha = (x - y)^2 + 2xy(1 - \cos \alpha) \geq \\ &\geq 2xy \sin^2 \frac{\alpha}{2} = \frac{1}{2}xy \sin \alpha \times 2 \operatorname{tg} \frac{\alpha}{2} = 2Stg \frac{\alpha}{2} \end{aligned}$$

S و α مقادارهایی ثابت اند، بنابراین حداقل $|BC|$ وقتی به دست می‌آید که

$$|BC| = 2\sqrt{Stg \frac{\alpha}{2}} \quad x = y \quad \text{و، در این صورت}$$

۱۰۰. ثابت می‌کنیم، هر يك از عددهای x_i را می‌توان به ۱ یا -۱ تبدیل کرد، بدون این‌که، مجموع همه حاصل ضرب‌های دو به‌دوی آن‌ها، بزرگ شود.

a_1 را وقتی به ۱ - تبدیل می‌کنیم که مجموع بقیه $1 - n$ عدد غیر منفی باشد و وقتی به ۱ + تبدیل می‌کنیم که مجموع بقیه غیر مثبت باشد. در این صورت، حاصل $a_1(a_2 + a_3 + \dots + a_n)$ و، در نتیجه، مجموع همه حاصل ضرب‌های دو به‌دو، بزرگتر نمی‌شود. همین عمل را در باره a_2, a_3, \dots, a_n هم تکرار می‌کنیم. به این ترتیب، مثل این است که با عددهایی برابر ۱ یا -۱ سر و کار داریم و می‌خواهیم حداقل مجموع حاصل ضرب‌های دو به‌دوی آن‌ها را پیدا کنیم.

اکنون عددهای b_1, b_2, \dots, b_n را در نظر می‌گیریم، به نحوی که هر يك از آن‌ها را بتوان برابر ۱ یا -۱ گرفت. اگر مجموع همه حاصل ضرب‌های دو به‌دوی آن‌ها را s بنامیم، داریم:

$$s = \frac{1}{2} [(b_1 + b_2 + \dots + b_n)^2 - (b_1^2 + b_2^2 + \dots + b_n^2)]$$

روشن است که

$$(b_1 + b_2 + \dots + b_n)^2 \geq 0, \quad -(b_1^2 + b_2^2 + \dots + b_n^2) \geq -n$$

یعنی مجموع s نمی‌تواند از $-\frac{n}{2}$ کمتر باشد.

ولی در حالت فرد بودن n ، عدد $-\frac{n}{2}$ عددی درست نیست؛ در این

حالت باید $s \geq -\frac{n-1}{2}$ در نظر گرفت.

پاسخ. در حالت زوج بودن n ، باید نیمی از عددها را منفی و نیم دیگر

را مثبت گرفت که، در این صورت $s = -\frac{n}{2}$ حداقل مقدار ممکن است. در

حالت فرد بودن n ، باید $\frac{n+1}{2}$ عددها را مثبت و $\frac{n-1}{2}$ آن‌ها را منفی

گرفت که، در این صورت، $s = -\frac{n-1}{2}$ حداقل مقدار ممکن است.

۰۱۰۱. با استفاده از نابرابری یین سن و باتوجه به مقعر بودن تابع

$$y = \frac{1}{\sin x} \quad (\text{وقتی } x \text{ بین صفر و } ۱۸۰ \text{ درجه باشد) داریم:}$$

$$\frac{1}{\sin \alpha} + \frac{1}{\sin \beta} + \frac{1}{\sin \gamma} \geq 3 \times \frac{1}{\sin \frac{\alpha + \beta + \gamma}{3}} = \frac{3}{\sin 60^\circ} = 2\sqrt{3}$$

حداقل مقدار $\frac{1}{\sin \alpha} + \frac{1}{\sin \beta} + \frac{1}{\sin \gamma}$ (با α, β و γ زاویه‌های یک مثلث)، برابر است با $2\sqrt{3}$.

۰۱۰۲. ضمن حل تمرین ۷۵ گفتیم، به شرط $x + y + z = \frac{\pi}{2}$ ، داریم:

$$\operatorname{tg} x \operatorname{tg} y + \operatorname{tg} y \operatorname{tg} z + \operatorname{tg} z \operatorname{tg} x = 1$$

α, β و γ زاویه‌های یک مثلث اند، یعنی $\frac{\alpha}{2} + \frac{\beta}{2} + \frac{\gamma}{2} = \frac{\pi}{2}$ ، بنابراین

$$\operatorname{tg} \frac{\alpha}{2} \operatorname{tg} \frac{\beta}{2} + \operatorname{tg} \frac{\beta}{2} \operatorname{tg} \frac{\gamma}{2} + \operatorname{tg} \frac{\gamma}{2} \operatorname{tg} \frac{\alpha}{2} = 1$$

حاصل ضرب $\operatorname{tg} \frac{\alpha}{2} \operatorname{tg} \frac{\beta}{2} \operatorname{tg} \frac{\gamma}{2}$ را p می‌نامیم. داریم:

$$p^2 = \left(\operatorname{tg} \frac{\alpha}{2} \operatorname{tg} \frac{\beta}{2} \right) \left(\operatorname{tg} \frac{\beta}{2} \operatorname{tg} \frac{\gamma}{2} \right) \left(\operatorname{tg} \frac{\gamma}{2} \operatorname{tg} \frac{\alpha}{2} \right)$$

مجموع این سه پرانتز، مقداری است ثابت، بنابراین، حاصل ضرب آن‌ها (روشن است که هر پرانتز، مقداری است مثبت)، وقتی به حداکثر خود می‌رسد که داشته باشیم:

$$\operatorname{tg} \frac{\alpha}{2} \operatorname{tg} \frac{\beta}{2} + \operatorname{tg} \frac{\beta}{2} \operatorname{tg} \frac{\gamma}{2} = \operatorname{tg} \frac{\gamma}{2} \operatorname{tg} \frac{\alpha}{2} \implies \alpha = \beta = \gamma$$

که در این صورت، مقدار $tg \frac{\alpha}{2} tg \frac{\beta}{2} tg \frac{\gamma}{2}$ برابر $(\frac{\sqrt{3}}{3})^3$ ، یعنی $\frac{\sqrt{3}}{9}$ می شود.

$$tg \frac{\alpha}{2} tg \frac{\beta}{2} tg \frac{\gamma}{2} \leq \frac{\sqrt{3}}{9}$$

و مقدار $\frac{\sqrt{3}}{9}$ ، برای مثلث متساوی الاضلاع.

۰۱۰۳. با توجه به نابرابری بین واسطه‌های حسابی و هندسی داریم:

$$\sin \alpha \sin \beta \leq \left(\frac{\sin \alpha + \sin \beta}{2} \right)^2 = \sin^2 \frac{\alpha + \beta}{2} \cos^2 \frac{\alpha - \beta}{2} \leq \sin^2 \frac{\alpha + \beta}{2}$$

که علامت برابری، برای $\alpha = \beta$ پیش می آید. در ضمن، می توان تنها برای حالتی صحبت کرد که داشته باشیم $\alpha + \beta < 180^\circ$ ؛ زیرا برای $\alpha + \beta \geq 180^\circ$ ، مقدار $\sin(\alpha + \beta)$ ، منفی یا صفر می شود و نمی توان مقدار حداکثر را در آنجا جست و جو کرد، داریم:

$$\sin \alpha \sin \beta \sin(\alpha + \beta) \leq \sin^2 \frac{\alpha + \beta}{2} \sin(\alpha + \beta)$$

اگر فرض کنیم $\frac{\alpha + \beta}{2} = x$ ، باید حداکثر مقدار $\sin^2 x \sin 2x$ را، با شرط

$0^\circ < x < 90^\circ$ ، پیدا کنیم. می نویسیم:

$$(\sin^2 x \sin 2x)^2 = (2 \sin^2 x \cos x)^2 = 4 \sin^4 x \cos^2 x =$$

$$= \frac{4}{3} (\sin^2 x)(\sin^2 x)(\sin^2 x)(3 - 3 \sin^2 x)$$

با چهار عامل مثبت سروکار داریم که مجموعی ثابت دارند، بنا بر این حاصل-ضرب آنها، وقتی به حداکثر مقدار خود می رسد که داشته باشیم:

$$\sin^2 x = 3 - 3 \sin^2 x \implies x = 60^\circ$$

حداکثر مقدار $\sin^2 x \sin 2x$ (که همان حداکثر مقدار $\sin \alpha \sin \beta \sin(\alpha + \beta)$

است)، به ازای $x = 60^\circ$ به دست می آید، به این ترتیب، با شرط

$0^\circ < \alpha$ و $\beta < 180^\circ$ داریم:

$$\sin \alpha \sin \beta \sin(\alpha + \beta) \leq \frac{3\sqrt{3}}{8}$$

که به ازای $\alpha = \beta = 60^\circ$ به دست می آید.

۱۰۴. اگر AB را قاعده مثلث ABC بگیریم، برای این که مساحت مثلث ABC به حداکثر مقدار خود برسد، با توجه به ثابت بودن طول AB باید طول ارتفاع وارد از C بر AB ، بزرگترین مقدار ممکن باشد و این، صورتی است که نقطه C ، وسط کمان بزرگتر AB قرار گیرد. برای محیط مثلث ABC ، طول ضلع های روبرو به رأس های A ، C و B به ترتیب a ، b و c و زاویه های این رأس ها را α ، β و γ می گیریم.

داریم

$$2p = 2R(\sin \alpha + \sin \beta + \sin \gamma)$$

(p نصف محیط و R شعاع دایره محیطی مثلث است.) R و γ

مقدارهایی ثابت اند، بنابراین، حداکثر محیط همراه با حداکثر $\alpha + \sin \beta$ است و می دانیم:

$$\sin \alpha + \sin \beta \leq 2 \sin \frac{\alpha + \beta}{2}$$

که علامت برابری، برای $\alpha = \beta$ است. حداکثر محیط هم، وقتی به دست می آید که نقطه C ، وسط کمان بزرگتر AB باشد.

۱۰۵. حالت خاص قضیه ۲ (فصل سوم)، برای دو عدد مثبت a_1 و

حاکمی است که:

$$\sqrt{a_1^2 + b_1^2} + \sqrt{a_2^2 + b_2^2} \geq \sqrt{(a_1 + a_2)^2 + (b_1 + b_2)^2}$$

(مسئله ۶ فصل اول را هم ببینید)؛ علامت برابری، برای $\frac{a_1}{b_1} = \frac{a_2}{b_2}$

با توجه به این نابرابری داریم:

$$y = \sqrt{x^2 + (V a)^2} + \sqrt{(c - x)^2 + (V b)^2} \geq$$

$$\geq \sqrt{(x+c-x)^2 + (\sqrt{a} + \sqrt{b})^2} = \sqrt{c^2 + (\sqrt{a} + \sqrt{b})^2}$$

حداکثر مقدار y ، برابر $\sqrt{c^2 + (\sqrt{a} + \sqrt{b})^2}$ است و وقتی به این مقدار می‌رسد که داشته باشیم:

$$\frac{x}{\sqrt{a}} = \frac{c-x}{\sqrt{b}} \Rightarrow x = \frac{c}{\sqrt{a} + \sqrt{b}}$$

۱۰۶. برای پیدا کردن حداقل y_1 ، از همان نابرابری (*) تمرین قبل استفاده می‌کنیم:

$$y_1 = \sqrt{(x-m)^2 + (n^2 - m^2)} + \sqrt{(p-x)^2 + (q^2 - p^2)} \geq \\ \geq \sqrt{(p-m)^2 + (\sqrt{n^2 - m^2} + \sqrt{q^2 - p^2})^2}$$

و این مقدار حداقل، وقتی به دست می‌آید که داشته باشیم:

$$\frac{x-m}{p-x} = \frac{\sqrt{n^2 - m^2}}{\sqrt{q^2 - p^2}} \Rightarrow x = \frac{p\sqrt{n^2 - m^2} + m\sqrt{q^2 - p^2}}{\sqrt{n^2 - m^2} + \sqrt{q^2 - p^2}}$$

برای پیدا کردن حداکثر y_2 ، از این نابرابری استفاده می‌کنیم (کسره برای مقادیر مثبت a_1, a_2, b_1, b_2 همیشه برقرار است (چرا؟):

$$\sqrt{a_1^2 + b_1^2} - \sqrt{a_2^2 + b_2^2} \leq \sqrt{(a_1 - a_2)^2 + (b_1 - b_2)^2}$$

در این صورت داریم:

$$y_2 = \sqrt{(x+m)^2 + (n^2 - m^2)} - \sqrt{(x-p)^2 + (q^2 - p^2)} \leq \\ \leq \sqrt{(m+p)^2 + (\sqrt{n^2 - m^2} - \sqrt{q^2 - p^2})^2}$$

و این مقدار حداکثر وقتی به دست می‌آید که داشته باشیم:

$$\frac{x+m}{x-p} = \frac{\sqrt{n^2 - m^2}}{\sqrt{q^2 - p^2}} \Rightarrow x = \frac{m\sqrt{q^2 - p^2} + p\sqrt{n^2 - m^2}}{\sqrt{n^2 - m^2} - \sqrt{q^2 - p^2}}$$

در هر دو تمرین مربوط به y_1 و y_2 می‌توان به جای شرط مثبت بودن

m, n, p, q ، تنها شرط $m < n$ و $p < q$ ، $|m| < |n|$ و $|p| < |q|$ را در نظر گرفت.

۰۱۰۷ کافی است از نابرابری بین واسطه‌های حسابی و هندسی، برای
 ۱۰۰ عدد a, a, \dots, a ، استفاده کنیم. علامت برابری، برای $a=1$.
 ۰۱۰۸ از نابرابری بین واسطه‌های حسابی و هندسی، (۱) درباره n عدد
 $2, 4, \dots, 2n$ و (۲) درباره n عدد $1, 3, \dots, 2n-1$ استفاده کنید.

۰۱۰۹. تابع $f(x) = \sqrt[n]{x} - \sqrt[n]{a} - \sqrt[n]{x-a}$ ، برای
 $x > a > 0$ نزولی است (چرا؟)؛ در ضمن $f(a) = 0$ ، بنابراین $f(x) < 0$.
 ۰۱۱۰. فرض می‌کنیم $f(x) = (1+x)^\alpha + (1-x)^\alpha - 2$ و
 $0 \leq x < 1$ می‌گیریم. داریم:

$$\begin{aligned} f'(x) &= \alpha(1+x)^{\alpha-1} + \alpha(1-x)^{\alpha-1} = \\ &= \frac{\alpha}{(1+x)^{1-\alpha}} + \frac{\alpha}{(1-x)^{1-\alpha}} \geq 0 \end{aligned}$$

بنابراین $f(x)$ تابعی صعودی است و چون $f(0) = 0$ ، بنابراین $f(x) \geq 0$.
 از طرف دیگر، $f(x)$ تابعی است زوج، پس، برای $-1 < x \leq 0$ داریم
 $f(-x) = f(x) \geq 0$.

۰۱۱۱. به سادگی تحقیق می‌شود که نابرابری، برای $n=2$ برقرار
 است. فرض می‌کنیم، نابرابری برای $n=k$ برقرار باشد، یعنی

$$\left(\frac{a+b}{2}\right)^k < \frac{a^k + b^k}{2}$$

در این صورت

$$\begin{aligned} \left(\frac{a+b}{2}\right)^{k+1} &= \left(\frac{a+b}{2}\right)^k \cdot \frac{a+b}{2} < \frac{a^k + b^k}{2} \cdot \frac{a+b}{2} = \\ &= \frac{a^{k+1} + b^{k+1} + ab^k + a^k b}{2} \quad (*) \end{aligned}$$

از طرف دیگر به سادگی ثابت می‌شود $ab^k + a^k b < a^{k+1} + b^{k+1}$
 زیرا اگر همه جمله‌ها را به سمت چپ علامت نابرابری منتقل کنیم، با توجه
 به شرط $a > b$ ، به نابرابری روشن $(a^k - b^k)(b - a) < 0$ می‌رسیم. به
 این ترتیب، با توجه به (*) داریم:

$$\left(\frac{a+b}{2}\right)^{k+1} < \frac{a^{k+1} + b^{k+1} + a^{k+1} + b^{k+1}}{4} = \frac{a^{k+1} + b^{k+1}}{2}$$

درستی نابرابری، با روش استقرای ریاضی ثابت شد.

۱۱۲. تابع $f(x) = \ln(1+x) - x$ ($x > 0$)، تابعی نزولی است

(چرا؟) و در ضمن $f(0) = 0$ ، بنابراین، برای $x > 0$ داریم $f(x) < 0$.

۱۱۳. اگر از دو طرف نابرابری، درمبنای e ، لگاریتم بگیریم، به این

نابرابری می‌رسیم:

$$2x < \ln(1+x) - \ln(1-x)$$

تابع $f(x) = 2x - \ln(1+x) + \ln(1-x)$ را در نظر می‌گیریم.
داریم:

$$f'(x) = 2 - \frac{1}{1+x} - \frac{1}{1-x} = -\frac{2x^2}{1-x^2} < 0$$

تابع $f(x)$ نزولی است و در ضمن $f(0) = 0$. بنابراین، برای $0 < x < 1$ داریم:

$$f(x) < 0 \Rightarrow 2x < \ln \frac{1+x}{1-x} \Rightarrow e^{2x} < \frac{1+x}{1-x}$$

$$f(x) = 1 + \frac{x}{2} - \frac{x^2}{8} - \sqrt{1+x}. \quad 114$$

$$f'(x) = \frac{1}{2} - \frac{1}{4}x + \frac{1}{2\sqrt{1+x}} = \frac{(2-x)\sqrt{1+x} - 2}{4\sqrt{1+x}}$$

صورت این کسر، برای $x > 0$ همیشه منفی است، زیرا به ازای $x \geq 2$ صورت کسر منفی می‌شود و برای $x < 2$ می‌توان ثابت کرد $(2-x)\sqrt{1+x} < 2$. در واقع، در حالت $x < 2$ می‌توان دو طرف را مجذور کرد که، بعد از ساده کردن، به نابرابری $x - 3 < 0$ می‌رسد که درست است. چون $f'(x) < 0$ ، پس $f(x)$ برای $x > 0$ نزولی است و در ضمن

$f(0) = 0$ ، پس برای $x > 0$ داریم $f(x) < 0$ ، یعنی

$$1 + \frac{x}{2} - \frac{x^2}{8} < \sqrt{1+x}$$

نا برابری سمت راست هم، با همین روش و با سادگی بیشتری، ثابت می‌شود. مثلاً اگر $x = 0.02$ بگیریم، با توجه به این نا برابری به دست می‌آید:

$$1.00995 < \sqrt{1.02} < 1.01$$

۰۱۱۵. در واقع، باید برای $x > 0$ ثابت کنیم $e^x > 1 + x$. تابع

$$f(x) = e^x - x - 1, \quad (f'(x) = e^x - 1)$$

صعودی است و در ضمن $f(0) = 0$ ، پس $f(x) > 0$.

۰۱۱۶. دانهمایی. تابع $f(x) = \operatorname{tg} x - x - \frac{x^3}{3}$ برای $0 < x < \frac{\pi}{4}$

صعودی است.

۰۱۱۷. نا برابری سمت چپ را، ضمن حل مثال مربوط به کاربرد انتگرال

ثابت کردیم. برای اثبات نا برابری سمت راست، از نا برابری

$\cos x < 1 - \frac{x^2}{2!} + \frac{x^4}{4!}$ ، که در همان مثال ثابت کردیم، استفاده می‌کنیم:

$$\int_0^x \cos t dt \leq \int_0^x \left(1 - \frac{t^2}{2!} + \frac{t^4}{4!}\right) dt$$

که از آن جا به دست می‌آید: $\sin x \leq x - \frac{x^3}{3!} + \frac{x^5}{5!}$. علامت برابری برای

$x = 0$ است و بنا بر این، برای $x > 0$:

$$\sin x < x - \frac{x^3}{3!} + \frac{x^5}{5!}$$

۰۱۱۸. دشوار نیست.

۰۱۱۹. در مثال ۲ از § ۱۵ فصل چهارم ثابت کردیم. برای $x \geq 0$:

$$\operatorname{arctg} x \geq x - \frac{x^3}{3}$$

در ضمن می دانیم $x \leq \sin x$ ($x \geq 0$). بنا بر این

$$\int_0^1 \frac{\arctg x}{\sin x} dx > \int_0^1 \frac{x - \frac{x^3}{3}}{x} dx = \int_0^1 \left(1 - \frac{x^2}{3}\right) dx = \frac{1}{3}$$

۱۲۰. جمله اول این رشته را x_n می نامیم:

$$x_n = 1 + \frac{1}{2^\alpha} + \frac{1}{3^\alpha} + \dots + \frac{1}{n^\alpha}$$

و ثابت می کنیم، برای x_n ، هر مقدار دلخواه n ، همیشه از مقدار ثابتی کوچکتر است، در این صورت، از آن جا که x_n ، با بزرگ شدن n ، بزرگ می شود، به معنای آن است که x_n ، با میل x به سمت بی نهایت، به سمت حدی میل می کند. فرض می کنیم:

$$z_{2n} = 1 - \frac{1}{2^\alpha} + \frac{1}{3^\alpha} - \frac{1}{4^\alpha} + \dots + \frac{1}{(2n-1)^\alpha} - \frac{1}{(2n)^\alpha}$$

روشن است که $z_{2n} < 1$ زیرا

$$z_{2n} = 1 - \left(\frac{1}{2^\alpha} - \frac{1}{3^\alpha}\right) - \left(\frac{1}{4^\alpha} - \frac{1}{5^\alpha}\right) - \dots$$

$$\dots - \left(\frac{1}{(2n-2)^\alpha} - \frac{1}{(2n-1)^\alpha}\right) - \frac{1}{(2n)^\alpha}$$

(عدد داخل هر پرانتز، مثبت است). z_{2n} را می توان این طور نوشت:

$$z_{2n} = \left(1 + \frac{1}{2^\alpha} + \frac{1}{3^\alpha} + \dots + \frac{1}{(2n)^\alpha}\right) - 2\left(\frac{1}{2^\alpha} + \frac{1}{4^\alpha} + \dots$$

$$\dots + \frac{1}{(2n)^\alpha}\right) = \left(1 + \frac{1}{2^\alpha} + \frac{1}{3^\alpha} + \dots + \frac{1}{(2n)^\alpha}\right) - \frac{2}{2^\alpha} \times$$

$$\times \left(1 + \frac{1}{2^\alpha} + \frac{1}{3^\alpha} + \dots + \frac{1}{n^\alpha}\right)$$

به این ترتیب $z_{2n} = x_{2n} - \frac{2}{2^\alpha} x_n$ چون $x_{2n} > x_n$ و $z_{2n} < 1$ داریم:

$$1 > z_{2n} > x_n - \frac{3}{4^\alpha} x_n = \frac{4^\alpha - 3}{4^\alpha} x_n \Rightarrow x_n < \frac{4^\alpha}{4^\alpha - 3}$$

یعنی x_n ، به ازای $\alpha > 1$ ، مقداری است محدود و از $\frac{4}{4^\alpha - 3}$ تجاوز نمی‌کند. مثلاً، برای $\alpha = 2$ ، داریم: $\frac{4}{4^\alpha - 3} = 2$ ، یعنی

$$\lim_{n \rightarrow \infty} \left(1 + \frac{1}{2^2} + \frac{1}{3^2} + \dots + \frac{1}{n^2} \right) \leq 2$$

ثابت می‌کنند، حد x_n ، برای $\alpha = 2$ ، برابر است با $\frac{\pi^2}{6}$.

۰۱۲۹. تابع $f(x) = \ln(1+x) - \frac{x^2}{x+2}$ در بازه $(0, +\infty)$

در نظر می‌گیریم. روشن که، برای مقدارهای واقع در درون این بازه، داریم:

$$f'(x) = \frac{x^2}{(x+1)(x+2)} > 0$$

و بنابراین، تابع f ، در بازه $(0, \infty)$ صعودی است. f تابعی است پیوسته، در نتیجه، حداقل مقدار خود را در انتهای چپ این بازه به دست می‌آورد، یعنی به ازای $x = 0$. به زبان دیگر، برای هر مقدار $x \geq 0$ ، نابرابری $f(x) \geq f(0) = 0$ برقرار است.

یادداشت. در برنامه‌کنونی دبیرستانی، در بازه تابع‌های لگاریتمی و ویژگی‌های آن‌ها بحث نشده است. در این مسأله، به مشتق تابع $y = \ln(1+x)$ احتیاج داشتیم. مشتق این تابع، $y' = \frac{1}{1+x}$ و، به طور کلی، مشتق تابع

$y = \ln u$ به صورت $y' = \frac{u'}{u}$ است که ما بدون اثبات، از آن استفاده کردیم.

همچنین، در برنامه دبیرستانی، دانش‌آموزان با بررسی دقیق تابع‌ها در یک بازه بسته، یعنی نقش تابع‌های پیوسته (حتی تابع‌هایی که از یک طرف، پیوستگی دارند) آشنا نمی‌شوند. بدون مراجعه به ویژگی‌های تابع‌های پیوسته

حتی نمی توان از این استدلال ساده استفاده کرد که: یک تابع پیوسته و یکسوا (یعنی تابعی که تنها صعودی یا تنها نزولی است) در یک بازه باز، در دو انتهای بازه به اکثره هم‌های خود می‌رسد. ولی توجه دقیق به این ویژگی‌های دقیق منطقی و فرورفتن در ریزه‌کاری‌های استدلالی، به خصوص در دوره دبیرستانی از نظر آموزشی مناسب نیست. در این موردها کافی است، رفتار تابع را به صورت عینی و با مراجعه به نمودار آن در نظر بگیریم و از بررسی صوری رفتار تابع صرف نظر کنیم. در غیر این صورت، دانش آموز، در بحث‌های فرمولی و صوری منطقی گم می‌شود و خلاقیت خود را از دست می‌دهد. برای دانش آموز دبیرستانی، تصور شهودی در بازه مفهوم پیوستگی کافی است و بر اساس آن می‌تواند کار خود را ادامه دهد. لزومی ندارد که دانش آموز، برای درک مفهوم دقیق پیوستگی، به سراغ «ریاضیات عالی» برود؛ عمل و نیازهای شخصی، همراه با اندکی معرفت شهودی، همه آن چه را که لازم است، در اختیار او می‌گذارد.

از این گذشته، در بررسی این مسأله، و بسیاری از مسأله‌های مشابه آن، می‌توان این دشواری را به نحوی برطرف کرد و به استدلال کامل و دقیق رسید. برای این منظور، باید تابع f را در بازه بازی در نظر گرفت که شامل 0 باشد، مثلاً در بازه $(-\infty + 1)$. در این صورت، نقطه 0 ، یک نقطه درونی این بازه می‌شود، و چون تابع f ، در این بازه گسترده ترهم صعودی است، بنا بر این نابرابری $f(x) > f(0)$ ، به طور مستقیم، از صعودی بودن تابع در این بازه باز، نتیجه می‌شود. با وجود این، از آن جا که در بعضی موردها، نمی‌توانیم دامنه یا حوزه تعریف تابع را گسترش دهیم، باید دقت را در همان حد شهودی و عینی آن، پذیرفت.

۱۲۲. تابع $f(x) = e^x - 1 - x - \frac{x^2}{2}$ را در نظر می‌گیریم. در این

صورت

$$f'(x) = e^x - 1 - x; f''(x) = e^x - 1$$

از آن جا که در بازه $(0 + \infty)$ داریم $f''(x) = e^x - 1 > 0$ ، بنا بر این تابع $f'(x)$ در این بازه صعودی است و، در نتیجه، با تکیه بر پیوستگی تابع

$f'(x)$ در این بازه، باید داشته باشیم: $f'(x) > f'(0) = 0$ ؛ ولی در این صورت، در بازه $(0, \infty)$ ، تابع $f(x)$ صعودی است، به نحوی که $f(x) > f(0) = 0$.

یادداشت. در این مسأله هم، از قانونی استفاده کرده ایم که در برنامه دیرستانی نیامده است: مشتق تابع $y = e^x$ عبارت است از $y' = e^x$. تابع $f(x) = e^{x+a}$ (عددی ثابت است)، تنها تابعی است که مشتق آن با خودش برابر می شود. به طور کلی، برای تابع $f(x) = e^u$ (تابعی از x است) داریم $f'(x) = u' \cdot e^u$.

در ضمن در این مسأله، از مشتق دوم هم استفاده کردیم. گاهی ممکن است برای اثبات درستی نابرابری، به مشتق های مرتبه بالاتر هم نیاز داشته باشیم، مثلاً برای اثبات درستی نابرابری های

$$e^x \geq 1 + x + \frac{x^2}{2} + \frac{x^3}{6} + \frac{x^4}{24} + \frac{x^5}{120};$$

$$x - \frac{x^3}{6} \leq \sin x \leq x - \frac{x^3}{6} + \frac{x^5}{120} \quad (x \geq 0);$$

$$1 - \frac{x^2}{2} \leq \cos x \leq 1 - \frac{x^2}{2} + \frac{x^4}{24}$$

در مسأله ۱۲۲، اگر نابرابری را ساده تر می گرفتیم و می خواستیم درستی نابرابری $e^x > 1 + x$ را برای $x \geq 0$ ثابت کنیم، تنها به مشتق اول نیاز داشتیم.

جالب است که از نابرابری $e^x > 1 + x$ می توان برای اثبات نابرابری بین واسطه های حسابی و هندسی استفاده کرد.

این نابرابری را با تبدیل x به $x - 1$ ، به صورت $e^{x-1} \geq x$ می نویسیم و ثابت می کنیم، برای هر $x \in \mathbf{R}$ برقرار است. اگر فرض کنیم $f(x) = e^{x-1} - x$ ، آن وقت به دست می آید: $f'(x) = e^{x-1} - 1$ که برای $x < 1$ منفی و برای $x > 1$ مثبت است، یعنی $f(x)$ ، در نقطه $x = 1$ به می نیم خود می رسد و برای هر مقدار $x \in \mathbf{R}$ داریم $f(x) \geq f(1) = 0$.

اکنون n عدد مثبت x_1, x_2, \dots, x_n را در نظر می‌گیریم و فرض می‌کنیم:

$$\frac{x_1 + x_2 + \dots + x_n}{n} = A$$

اگر در نابرابری $e^{x-1} \geq x$ ، به جای x ، به ترتیب، عددهای مثبت $\frac{x_1}{A}$ ، $\frac{x_2}{A}$ ،

\dots ، $\frac{x_n}{A}$ قرار دهیم، به این نابرابری‌ها می‌رسیم:

$$e^{\frac{x_1}{A}-1} \geq \frac{x_1}{A}$$

$$e^{\frac{x_2}{A}-1} \geq \frac{x_2}{A}$$

.....

$$e^{\frac{x_n}{A}-1} \geq \frac{x_n}{A}$$

که از ضرب آن‌ها در یکدیگر، نتیجه می‌شود:

$$e^{\frac{x_1+x_2+\dots+x_n}{A}-n} \geq \frac{x_1 \cdot x_2 \cdot \dots \cdot x_n}{A^n}$$

ولی $\frac{x_1+x_2+\dots+x_n}{A} = n$ ، و بنابراین، نابرابری اخیر به صورت

زیر درمی‌آید:

$$\frac{x_1 x_2 \dots x_n}{A^n} \leq 1 \Rightarrow \sqrt[n]{x_1 x_2 \dots x_n} \leq \frac{x_1 + x_2 + \dots + x_n}{n}$$

۱۲۳. تابع $f(x) = 2x + 3 - \ln(x^2 + 9)$ دامنه آن

$$D(f) = (-\sqrt{9}, +\infty)$$

را در نظر می‌گیریم. از آن جا که

$$f'(x) = 2 - \frac{3x^2}{x^3+9} = \frac{2x^3 - 3x^2 + 18}{x^3+9}$$

واز آن جا که x^3+9 در بازه $(-\sqrt[3]{9}, +\infty)$ مثبت است، به شرطی $f'(x)$ مثبت است که $2x^3 - 3x^2 + 18$ مثبت باشد. اگر فرض کنیم:

$$g(x) = 2x^3 - 3x^2 + 18 \quad (x \in D(f))$$

به دست می آید $g'(x) = 6x^2 - 6x$ که به ازای $x > 1$ مثبت است؛ پس تابع $f'(x)$ برای $x > 1$ صعودی و چون $f'(1) = 1/7$ ، بنابراین به ازای $x > 1$ داریم $f'(x) > 1/7$ یعنی $f(x)$ برای $x > 1$ صعودی است و چون

$$f(1) = 5 - \ln 10 > 0$$

در نتیجه، به ازای $x > 1$ داریم $f(x) > 0$ و

$$2x + 3 > \ln(x^3 + 9)$$

به این ترتیب، نابرابری $2n + 3 < \ln(n^3 + 9)$ ، برای $n \geq 1$ برقرار نیست. در بازه $(-\sqrt[3]{9}, 1)$ تنها سه عدد درست باقی می ماند: 0 ، -1 و -2 . با آزمایش معلوم می شود که تنها $n = -1$ و $n = -2$ در نابرابری مفروض صادق می کند.

۱۲۴. $f(x) = 3x - \operatorname{tg} x$ را در بازه $(0, \frac{\pi}{4})$ در نظر می گیریم. داریم:

$$f'(x) = 3 - \frac{1}{\cos^2 x}, \quad f'(x) = 0 \Rightarrow x = \arccos \frac{1}{\sqrt{3}}$$

(جواب $f'(x) = 0$ را تنها در بازه مورد نظر به دست آوردیم). داریم:

$$0 < x < \arccos \frac{1}{\sqrt{3}} \Rightarrow f'(x) > 0$$

$$\arccos \frac{1}{\sqrt{3}} < x < \frac{\pi}{4} \Rightarrow f'(x) < 0$$

یعنی $f(x)$ در نقطه $x = \arccos \frac{1}{\sqrt{3}}$ به ماکزیمم خود می رسد. ثابت می کنیم،

این حداکثر مقدار تابع، از $\frac{7}{4} = 1.75$ کمتر است. $\alpha = \arccos \frac{1}{\sqrt{3}}$

می‌گیریم، یعنی $\cos \alpha = \frac{1}{\sqrt{3}}$ پس $\sin \alpha = \frac{\sqrt{2}}{\sqrt{3}}$ و $\operatorname{tg} \alpha = \sqrt{2}$ ؛ در ضمن $\sqrt{2} > 1.41$ از طرف دیگر

$$\alpha = \arccos \frac{1}{\sqrt{3}} < \arccos \frac{1}{2} = \frac{\pi}{3} < 1.05$$

به نحوی که

$$f(\alpha) = 3\alpha - \operatorname{tg} \alpha < 3/15 - 1/41 < 1/75$$

به این ترتیب، نامعادله مفروض، در بازه $\left[0, \frac{\pi}{2}\right]$ جواب ندارد.

(۱۰۱۲۵) تابع $f(x) = \sqrt[3]{1+x} + \sqrt[3]{1-x}$ را در بازه $(-1, 1)$ در نظر می‌گیریم. داریم:

$$f'(x) = \frac{1}{3\sqrt[3]{(1+x)^2}} - \frac{1}{3\sqrt[3]{(1-x)^2}}$$

$f'(x)$ به ازای $x=0$ برابر صفر، به ازای $x < 0$ مثبت و به ازای $x > 0$ منفی است. بنابراین، تابع $f(x)$ در بازه $(-1, 1)$ ، در نقطه $x=0$ بیشترین مقدار را دارد و داریم:

$$f\left(\frac{\sqrt{3}}{3}\right) = \sqrt[3]{1 + \frac{\sqrt{3}}{3}} + \sqrt[3]{1 - \frac{\sqrt{3}}{3}} < f(0) = 2$$

که اگر، دو طرف آن را در $\sqrt{3}$ ضرب کنیم، به دست می‌آید:

$$\sqrt{3} + \sqrt{3} + \sqrt{3} - \sqrt{3} < 2\sqrt{3}$$

(۲) تابع $f(x) = \log_x(x+1)$ را در بازه $(1, +\infty)$ در نظر می‌گیریم.

داریم:

$$f(x) = \frac{\ln(x+1)}{\ln x};$$

$$f'(x) = \frac{\frac{\ln x}{x+1} - \frac{\ln(x+1)}{x}}{\ln^2 x} = \frac{x \ln x - (x+1) \ln(x+1)}{x(x+1) \ln^2 x}$$

برای $x > 1$ داریم: $0 < x < x+1$ ، یعنی $0 < \ln x < \ln(x+1)$ ، از این جا

$$x \ln x < (x+1) \ln(x+1)$$

یعنی، برای $x > 1$ ، نابرابری $f'(x) < 0$ برقرار و $f(x)$ نزولی است، به این ترتیب، $f(4) > f(5)$ و $\log_{\frac{1}{5}} 4 > \log_{\frac{1}{5}} 5$ یادداشت. ضمن حل این مسأله، ثابت کردیم

$$x \ln x < (x+1) \ln(x+1)$$

این اثبات را می توانستیم به کمک مشتق تابع $g(x) = x \ln x$ بدهیم. در واقع

$$g'(x) = \ln x + \frac{1}{x} \cdot x = \ln x + 1 > 0 \quad (x > 1)$$

بنابراین تابع $g(x)$ ، برای $x > 1$ ، صعودی است، یعنی $g(x) > g(x+1)$ و

$$x \ln x < (x+1) \ln(x+1)$$

خود نابرابری $\log_{\frac{1}{5}} 4 > \log_{\frac{1}{5}} 5$ را هم، می توانستیم، به صورتی زیباتر و بدون استفاده از مشتق ثابت کنیم. با توجه به نابرابری بین واسطه های حسابی و هندسی داریم:

$$\sqrt{\log_{\frac{1}{5}} 4 \cdot \log_{\frac{1}{5}} 6} < \frac{\log_{\frac{1}{5}} 4 + \log_{\frac{1}{5}} 6}{2} = \frac{\log_{\frac{1}{5}} 24}{2} < 1 ;$$

از آن جا

$$\log_{\frac{1}{5}} 4 \cdot \log_{\frac{1}{5}} 6 < 1 \implies \log_{\frac{1}{5}} 6 < \frac{1}{\log_{\frac{1}{5}} 4} = \log_{\frac{1}{4}} 5$$

(۳) تابع های $f(x) = x^{\frac{1}{x}}$ و $g(x) = \ln f(x) = \frac{\ln x}{x}$ را در نظر

می‌گیریم. روشن است که تابع g در هر مجموعه‌ای صعودی (یا نزولی) باشد، تابع f هم در همان مجموعه صعودی (یا نزولی) است و برعکس. داریم:

$$g'(x) = \frac{1 - \ln x}{x^2}$$

که به ازای $x > e$ منفی است. پس تابع g ، و در نتیجه تابع f ، برای $x > e$ نزولی است، یعنی

$$\begin{aligned} f(1000) > f(1001) &\Rightarrow 1000^{\frac{1}{1000}} > 1001^{\frac{1}{1001}} \Rightarrow \\ &\Rightarrow 1000^{1001} > 1001^{1000} \end{aligned}$$

(۴) تابع $f(x) = x + \cos x$ را در نظر می‌گیریم. مشتق آن $f'(x) = 1 - \sin x$ غیر منفی و، بنا بر این، تابع f غیر نزولی است. در واقع، نمودار تابع $f(x)$ در نقطه‌هایی که ریشه معادله $\sin x = 1$ ، یعنی در نقطه‌های $x = 2k\pi + \frac{\pi}{2}$ ، از نقطه‌های عطف خود می‌گذرد (نقطه‌هایی که مماس در آن‌ها بر نمودار، موازی با محور طول است) و، در نتیجه، برای $x \in \mathbf{R}$ صعودی است؛ یعنی

$$f(1370) < f(1371) \Rightarrow 1370 + \cos 1370 < 1371 + \cos 1371$$

که از آن‌جا به دست می‌آید: $\cos 1370 < 1 + \cos 1371$.

یادداشت. نابرابری $\cos 1370 < 1 + \cos 1371$ را، با روش

ساده‌تری هم می‌توانستیم ثابت کنیم. می‌دانیم، برای $0 < x < \frac{\pi}{4}$ داریم

$$\sin x < x \quad \text{مثلاً} \quad \sin \frac{1}{4} < \frac{1}{4}. \quad \text{اکنون، با استفاده از همین نابرابری، می‌توان نوشت:}$$

$$\begin{aligned} |\cos 1370 - \cos 1371| &= \left| 2 \sin \frac{1}{4} \sin \frac{2741}{4} \right| = \\ &= 2 \left| \sin \frac{1}{4} \right| \cdot \left| \sin \frac{2741}{4} \right| < 1 \end{aligned}$$

(۵) تابع $f(x) = \frac{\operatorname{tg} x}{x}$ را در بازه $(0, \frac{\pi}{4})$ در نظر می‌گیریم. داریم:

$$f'(x) = \frac{x}{\cos^2 x} - \operatorname{tg} x = \frac{x - \sin x \cos x}{\cos^2 x} = \frac{2x - \sin 2x}{2 \cos^2 x} > 0$$

زیرا برای $x \in \left(0, \frac{\pi}{2}\right)$ داریم $2x > \sin 2x$. بنابراین $f(x)$ در بازه $\left(0, \frac{\pi}{4}\right)$ صعودی است و می‌توان نوشت:

$$\frac{\operatorname{tg} \frac{5\pi}{180}}{\frac{5\pi}{180}} < \frac{\operatorname{tg} \frac{6\pi}{180}}{\frac{6\pi}{180}} \Rightarrow 6 \operatorname{tg} 5^\circ < 5 \operatorname{tg} 6^\circ ;$$

$$\frac{\operatorname{tg} \frac{9\pi}{180}}{\frac{9\pi}{180}} < \frac{\operatorname{tg} \frac{10\pi}{180}}{\frac{10\pi}{180}} \Rightarrow 10 \operatorname{tg} 9^\circ < 9 \operatorname{tg} 10^\circ$$

و از ضرب این دو نابرابری در یکدیگر، به دست می‌آید:

$$60 \operatorname{tg} 5^\circ \operatorname{tg} 9^\circ < 45 \operatorname{tg} 6^\circ \operatorname{tg} 10^\circ \Rightarrow 4 \operatorname{tg} 5^\circ \operatorname{tg} 9^\circ < 3 \operatorname{tg} 6^\circ \operatorname{tg} 10^\circ$$

(۶) تابع $f(x) = \sin^3(x + \alpha) - \sin^3 x$ را در بازه $(0, \alpha)$ و با

فرض $\alpha = \frac{\pi}{180}$ در نظر می‌گیریم. در این صورت داریم:

$$f'(x) = 3 \sin^2(x + \alpha) \cos(x + \alpha) - 3 \sin^2 x \cos x$$

اکنون تابع $g(x) = \sin^2 x \cos x$ را در بازه $(0, \alpha)$ در نظر می‌گیریم:

$$g'(x) = 2 \sin x \cos^2 x - \sin^3 x = \sin x (2 - 3 \sin^2 x)$$

چون $\alpha < \frac{\pi}{4}$ ، پس در بازه مورد نظر

$$2 - 3 \sin^2 x > 2 - 3 \times \frac{1}{4} > 0$$

به نحوی که $g'(x) > 0$ ، و بنابراین، $g(x)$ تابعی صعودی است. ولی

در این صورت، در بازه $(0, \alpha)$ داریم:

$$f'(x) = 3[g(x+\alpha) - g(x)] > 0$$

در نتیجه تابع $f(x)$ در بازه $(0, 2\alpha)$ صعودی است و $f(3\alpha) > f(2\alpha)$ یعنی

$$\sin^3 4^\circ - \sin^3 3^\circ > \sin^3 2^\circ - \sin^3 1^\circ \Rightarrow$$

$$\Rightarrow \sin^3 3^\circ + \sin^3 2^\circ < \sin^3 4^\circ + \sin^3 1^\circ$$

یادداشت. در واقع، می توان این نابرابری را، با بررسی تابع

$f(x) = \sin^3 x$ در بازه $(0, 5\alpha)$ به دست آورده، در آن $\alpha = \frac{\pi}{180}$ داریم:

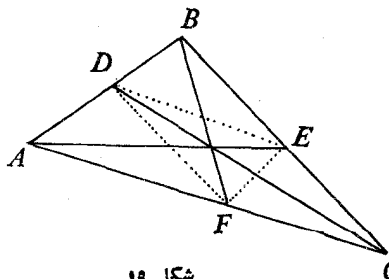
$$f'(x) = 3\sin^2 x \cos x; \quad f''(x) = 3\sin x (2 - 3\sin^2 x)$$

هم $f'(x)$ و هم $f''(x)$ در بازه $(0, 5\alpha)$ مثبت اند. از مثبت بودن $f''(x)$ نتیجه می گیریم که تابع صعودی $f(x)$ [$f'(x) > 0$] صعودی است، چون $f(x)$ در بازه $(0, 5\alpha)$ ، تقریبی به سمت ی‌های مثبت دارد، یعنی نقطه وسط و تری که دو نقطه به طول های α و 4α را بهم وصل کرده است، در بالای نقطه وسط و تری قرار دارد که دو انتهای آن به طول های 2α و 3α هستند، یعنی

$$\frac{f(\alpha) + f(4\alpha)}{2} > \frac{f(2\alpha) + f(3\alpha)}{2} \Rightarrow$$

$$\Rightarrow f(\alpha) + f(4\alpha) > f(2\alpha) + f(3\alpha)$$

و از آن جا



شکل ۱۹

$$\sin^3 1^\circ + \sin^3 4^\circ > \sin^3 2^\circ + \sin^3 3^\circ$$

(۷) نقطه های D, E, F را، به ترتیب، وسط ضلع های AB, BC, CA می گیریم (شکل ۱۹)، نابرابری های زیر، روشن اند:

$$|AE| < |AF| + |FE| = \frac{1}{2}|AC| + \frac{1}{2}|AB|$$

$$|BF| < |BD| + |DF| = \frac{1}{4}|AB| + \frac{1}{4}|BC|$$

$$|CD| < |CE| + |ED| = \frac{1}{4}|BC| + \frac{1}{4}|AC|$$

از مجموع این سه نابرابری، به دست می آید:

$$|AE| + |BF| + |CD| < |AB| + |AC| + |BC|$$

پاسخ. محیط يك مثلث، از مجموع طول های میانه های آن بزرگتر است.

۸) با توجه به نابرابری بین واسطه های حسابی و هندسی (برای ۷ عدد

مثبت) داریم:

$$\sin^4 \alpha \cos^4 \alpha = 2^2 \cdot 5^5 \left(\frac{\sin^2 \alpha}{2} \right)^2 \left(\frac{\cos^2 \alpha}{5} \right)^5 =$$

$$= 12500 \left(\frac{\sin^2 \alpha}{2} \right) \cdot \left(\frac{\sin^2 \alpha}{2} \right) \times \left(\frac{\cos^2 \alpha}{5} \right) \left(\frac{\cos^2 \alpha}{5} \right) \left(\frac{\cos^2 \alpha}{5} \right) \times$$

$$\times \left(\frac{\cos^2 \alpha}{5} \right) \left(\frac{\cos^2 \alpha}{5} \right) \leq 12500 \left(\frac{2 \frac{\sin^2 \alpha}{2} + 5 \frac{\cos^2 \alpha}{5}}{7} \right)^7 = \frac{12500}{7^7}$$

بنابراین

$$7^7 \sin^4 \cos^4 \alpha \leq 7^7 \cdot \frac{12500}{7^7} = 12500$$

علامت برابری، برای وقتی است که داشته باشیم:

$$\frac{\sin^2 \alpha}{2} = \frac{\cos^2 \alpha}{5} \Rightarrow \alpha = \arctg \sqrt{\frac{2}{5}}$$

(۹ و ۱۰) حل مسأله ۳۳، ۳ را ببینید.

پاسخ. $2321 > 2123$; $555552 > 553555$.

(۱۱) تابع $f(x) = x - \pi \ln x$ را در بازه $(0, +\infty)$ در نظر

می گیریم. داریم:

$$f'(x) = 1 - \frac{\pi}{x} = \frac{x - \pi}{x}$$

$f'(x)$ در نقطه $x = \pi$ تغییر علامت می‌دهد و از منفی به مثبت می‌رود، بنا بر این، در $x = \pi$ به حداقل مقدار خود می‌رسد، یعنی $f(e) > f(\pi)$ یا

$$e - \pi > \pi - \pi \ln \pi \Rightarrow e + \pi \ln \pi > 2\pi \Rightarrow \\ \Rightarrow \ln e^e + \ln \pi^\pi > \ln e^{2\pi} \Rightarrow e^e \cdot \pi^\pi > e^{2\pi}$$

(۱۲) روشن است که برای حقیقی بودن رادیکال‌ها، باید داشته باشیم:

$$x \geq 1$$

ثابت می‌کنیم: $x > \sqrt{x-1} + \sqrt{x(\sqrt{x-1})}$ و برای این منظور ثابت می‌کنیم:

$$\frac{x}{4} \geq \sqrt{x-1}, \quad \frac{x}{4} \geq \sqrt{x(\sqrt{x-1})}$$

در ضمن، روشن می‌کنیم، این دو نسا برابری، به طور هم‌زمان، به برابری تبدیل نمی‌شوند.

نابرابری اول به $(x-2)^2 \geq 0$ و نابرابری دوم به $(\sqrt{x}-2)^2 \geq 0$ تبدیل می‌شوند که درستی آن‌ها واضح است. در ضمن، اولی به ازای $x=2$ و دومی به ازای $x=4$ به برابری تبدیل می‌شوند. حکم مورد نظر ثابت شد:

$$x > \sqrt{x-1} + \sqrt{x(\sqrt{x-1})}$$

(۱۳) با توجه به شرط $0 < x < \frac{\pi}{4}$ داریم: $x < \operatorname{tg} x$ و

$$0 < 1 - \operatorname{tg}^2 \frac{x}{4} < 1$$

$$\frac{\operatorname{tg} x}{x} - \frac{x}{\sin x} = \frac{1}{x \sin x} \left(\frac{2 \operatorname{tg} \frac{x}{4}}{1 - \operatorname{tg}^2 \frac{x}{4}} \cdot \frac{2 \operatorname{tg} \frac{x}{4}}{1 + \operatorname{tg}^2 \frac{x}{4}} - x^2 \right) >$$

$$> \frac{1}{x \sin x} \left(\frac{2x}{2} \cdot \frac{2x}{2} - x^2 \right) = 0$$

$$\cdot \frac{\operatorname{tg} x}{x} > \frac{x}{\sin x} \quad \text{به این ترتیب:}$$

(۱۴) α را زاویه‌ای مثبت و حاده و $\operatorname{tg} \alpha = \frac{1}{5}$ می‌گیریم. در این صورت

$$\operatorname{tg} 2\alpha = \frac{2 \operatorname{tg} \alpha}{1 - \operatorname{tg}^2 \alpha} = \frac{5}{12}, \quad \operatorname{tg} 4\alpha = \frac{120}{119} > 1$$

یعنی $\operatorname{tg} 4\alpha > \operatorname{tg} 45^\circ$ و $4\alpha > 45^\circ$ یا $\alpha > 11^\circ$ پس

$$\operatorname{tg} 11^\circ < \operatorname{tg} \alpha = \frac{1}{5}$$

(۱۵) آرک تانژانت تابعی فرد است، بنا بر این

$$\int_{-2}^2 \operatorname{arctg} x dx = 0;$$

$$\int_2^3 \operatorname{arctg} x dx = \int_{-2}^3 \operatorname{arctg} x dx > 0;$$

$$\int_{-3}^{-2} \operatorname{arctg} x dx = \int_{-3}^2 \operatorname{arctg} x dx < 0$$

$$\cdot \int_{-2}^3 \operatorname{arctg} x dx > \int_{-3}^2 \operatorname{arctg} x dx \quad \text{در نتیجه:}$$

۰۱۲۶ روشن است که

$$\sin x + \cos x = \sin x + \sin\left(\frac{\pi}{2} - x\right) = \sqrt{2} \cos\left(x - \frac{\pi}{4}\right) \leq \sqrt{2}$$

بنابراین، برای $0 \leq x \leq \frac{\pi}{2}$ داریم:

$$1 \leq \sin x + \cos x \leq \sqrt{2}$$

که، با توجه به قضیه‌ای که در بند ۳ از فصل چهارم آوردیم، می‌توان از جمله‌های

این نابرابری‌ها، درفاصلهٔ $0 \leq x \leq \frac{\pi}{4}$ تا x انتگرال گرفت:

$$\int_0^x dt \leq \int_0^x (\sin t + \cos t) dt \leq \int_0^x \sqrt{2} dt$$

که از آنجا به دست می‌آید: $x \leq \sin x - \cos x + 1 \leq \sqrt{2}x$ و اگر $\sin x$ را از همه جمله‌های این نابرابری‌ها کم کنیم:

$$x - \sin x \leq 1 - \cos x \leq x\sqrt{2} - \sin x$$

۱۲۷. در نابرابری روشن $\alpha = \frac{\pi}{4} - x$ ، $(0 < \alpha < \frac{\pi}{4}) \operatorname{tg} \alpha > \alpha$ می‌گیریم، به دست می‌آید:

$$\operatorname{cotg} x > \frac{\pi}{4} - x \quad (*)$$

این نابرابری برای $0 < x < \frac{\pi}{4}$ و به‌طور بدیهی برای $\frac{\pi}{6} < x < \frac{\pi}{4}$ درست است. اگر از دو طرف نابرابری $(*)$ ، درفاصلهٔ $\frac{\pi}{6}$ تا x $(\frac{\pi}{6} < x < \frac{\pi}{4})$ انتگرال بگیریم:

$$\int_{\frac{\pi}{6}}^x \operatorname{cotg} t dt > \int_{\frac{\pi}{6}}^x \left(\frac{\pi}{4} - t \right) dt$$

به دست می‌آید:

$$\ln \sin t \Big|_{\frac{\pi}{6}}^x > \left(\frac{\pi}{4} t - \frac{1}{2} t^2 \right) \Big|_{\frac{\pi}{6}}^x;$$

$$\ln \sin x - \ln \frac{1}{2} > \left(\frac{\pi}{4} x - \frac{1}{2} x^2 \right) - \left(\frac{\pi}{4} \cdot \frac{\pi}{6} - \frac{1}{2} \left(\frac{\pi}{6} \right)^2 \right)$$

که بعد از تبدیل‌های ساده، به‌همان نابرابری مورد نظر مسأله می‌رسیم.
۱۲۸. ببینیم، آیا نابرابری دوگانه‌ای که از راه مشتق جمله‌های نابرابری

دوگانه مورد نظر به دست می آید، درست است یا نه (به ازای $x \geq 0$):

$$1 - x + x^2 - \dots + x^{2n} - x^{2n+1} \leq \frac{1}{1+x} \leq \\ \leq 1 - x + x^2 - \dots + x^{2n}$$

عبارت های سمت چپ و سمت راست این نابرابری دوگانه، به تصاعد هندسی اند و قابل جمع کردن:

$$\frac{1 - x^{2n+2}}{1+x} \leq \frac{1}{1+x} \leq \frac{1 + x^{2n+1}}{1+x} \quad (x \geq 0)$$

که درستی آن روشن است. اکنون اگر از همه جمله های این دو نابرابری، در فاصله از 0 تا x ($x > 0$) انتگرال بگیریم، به همان نابرابری مورد نظر می رسیم.

۰۱۲۹. دهنمائی. از دو طرف نابرابری روشن $x > \operatorname{tg} x$ ، در فاصله از

$$0 \text{ تا } x \text{ انتگرال بگیرد } \left(0 < x < \frac{\pi}{4} \right).$$

۰۱۳۰. دهنمائی. ابتدا درستی نابرابری متناظر نابرابری مفروضه را،

با مشتق گرفتن از دو طرف آن، ثابت کنید. یاد آوری می کنیم که، نابرابری

اخیر، با توجه به نابرابری روشن $\sin \alpha < \alpha$ ($0 < \alpha < \frac{\pi}{4}$) ثابت می شود.

۰۱۳۱. از مشتق این نابرابری به دست می آید: $\sin x + \operatorname{tg} x \geq 2x$ که

درست است ($0 \leq x \leq \frac{\pi}{4}$). در واقع، اگر یکبار دیگر از این نابرابری مشتق

بگیریم، نتیجه می شود:

$$\cos x + \frac{1}{\cos^2 x} \geq 2$$

چون در بازه $0 \leq x < \frac{\pi}{4}$ داریم $0 < \cos x \leq 1$ ، با توجه به نابرابری بین

واسطه های حسابی و هندسی

$$\cos x + \frac{1}{\cos^2 x} \geq 2 \sqrt{\cos x \cdot \frac{1}{\cos^2 x}} = 2 \sqrt{\frac{1}{\cos x}} \geq 2$$

$$0 < (\sqrt{N} - a)^2 = N\sqrt{N} - 3aN + 3a^2\sqrt{N} - a^3$$

بنابراین $\sqrt{N} > \frac{a(a^2 + 3N)}{3a^2 + N}$ یعنی $\sqrt{N}(3a^2 + N) > a^3 + 3aN$

به همین ترتیب

$$0 > [\sqrt{N} - (a+1)]^2 = N\sqrt{N} - 3(a+1)N + 3(a+1)^2\sqrt{N} - (a+1)^3;$$

$$\sqrt{N}[3(a+1)^2 + N] < [(a+1)^3 + 3(a+1)N];$$

$$\sqrt{N} < \frac{(a+1)[(a+1)^2 + 3N]}{3(a+1)^2 + N}$$

۰۱۳۳. از نابرابری $(\sqrt{N} - a)^2 > 0$ به دست می آید:

$$\sqrt{N^3} + a^2 > 2a\sqrt{N} \quad (*)$$

در ضمن از نابرابری $\sqrt{N} > a$ نتیجه می شود: $\sqrt{N^3} - a^2 > 0$. دو طرف نابرابری (*) را در مقدار مثبت $\sqrt{N^3} - a^2$ ضرب می کنیم:

$$\sqrt{N^3} - a^2 > 2a\sqrt{N}(\sqrt{N^3} - a^2)$$

که از آن جا به دست می آید:

$$\sqrt{N}(N + 2a^3) > a(a^2 + 2N) \Rightarrow \sqrt{N} > \frac{a(a^2 + 2N)}{2a^3 + N}$$

به همین ترتیب از نابرابری $0 > [\sqrt{N} - (a+1)]^2$ داریم:

$$\sqrt{N^3} + (a+1)^2 > 2(a+1)\sqrt{N}$$

که اگر دو طرف آن را در مقدار منفی $\sqrt{N^3} - (a+1)^2$ ضرب کنیم، بعد از عمل های ساده نتیجه می شود:

$$\sqrt{N} < \frac{(a+1)[(a+1)^2 + 2N]}{2(a+1)^2 + N}$$

۱۳۴. چند جمله‌ای $f(x)$ سمت چپ معادله بر $(x-1)(x-2)$ یعنی
 بر $x^2 - 3x + 2$ بخش پذیر است. بنا بر این

$$f(x) = (x^2 - 3x + 2)(a_{n-2}x^{n-2} + a_{n-1}x^{n-1} + \dots \\ \dots + a_{r-1}x^{r-1} + a_r x^r + a_{r+1}x^{r+1} + a_0)$$

از برهان خلف استفاده می‌کنیم و فرض می‌کنیم، همه ضرایب A_i از -2 بزرگتر باشند، یعنی داشته باشیم: $A_i \geq -1$. در این صورت

$$A_0 = 2a_0 > -1; \quad A_1 = 2a_1 - 3a_0 \geq -1;$$

$$A_k = 2a_k - 3a_{k-1} + a_{k-2} \geq -1 \quad (2 \leq k \leq n-2);$$

$$A_{n-1} = -3a_{n-2} + a_{n-3} \geq -1; \quad A_n = a_{n-2} \geq -1$$

از نابرابری اول نتیجه می‌شود: $a_0 \geq -\frac{1}{2}$ یا $a_0 \geq 0$ (زیرا ضرایبها،
 عددهایی درست اند). از نابرابری دوم به دست می‌آید:

$$a_1 \geq a_0 + \frac{1}{2}(a_0 - 1) \quad \text{اگر } a_0 = 0 \text{ آن وقت } a_1 \geq -\frac{1}{2} \text{، یعنی}$$

$a_1 \geq a_0 = 0$ ، و اگر $a_0 > 0$ یعنی $a_0 \geq 1$ ، آن وقت $a_1 \geq a_0$. به این ترتیب
 در هر دو حالت داریم: $a_1 \geq a_0 \geq 0$. فرض کنید، به همین ترتیب، به دست
 آورده باشیم:

$$a_{k-1} \geq a_{k-2} \geq \dots \geq a_1 \geq a_0 \geq 0$$

در این صورت، از $A_k \geq -1$ نتیجه می‌شود: $3a_k \geq 3a_{k-1} - a_{k-2} - 1$ ، یا

$$a_k \geq a_{k-1} + \frac{1}{3}(a_{k-1} - a_{k-2}) - \frac{1}{3}$$

از آن جا، با توجه به این که $a_{k-1} - a_{k-2} \geq 0$ به دست می‌آید:

$$a_k \geq a_{k-1} - \frac{1}{3} \implies a_k \geq a_{k-1}$$

(زیرا a_n عددی درست است). بنا بر این

$$a_{n-2} \geq a_{n-3} \geq a_{n-4} \geq \dots \geq a_2 \geq a_1 \geq a_0 \geq 0$$

از نابرابری مربوط به A_{n-1} ، یعنی $-3a_{n-2} + a_{n-3} \geq -1$ داریم:

$$2a_{n-2} \leq 1 - (a_{n-2} - a_{n-2})$$

یا $a_{n-2} \leq \frac{1}{2}$ ، یعنی $a_{n-2} \leq 0$. با توجه‌های به نابرابری مربوط به A_n ،

یعنی $a_{n-2} \geq -1$ نتیجه می‌شود: $a_{n-2} = 0$. ولی در این صورت، همه a_i ها و همه A_i ها برابر صفر و چند جمله‌ای مفروض $f(x)$ متحد با صفر می‌شود.

به این ترتیب، اگر چند جمله‌ای $f(x)$ متحد با صفر نباشد، دست کم یکی از ضرایب‌های آن، از -2 تجاوز نمی‌کند.

۰۱۳۵. تابع $f(x) = \ln(x+1) - \frac{2x}{x+2}$ را در نظر می‌گیریم $(0 < x < +\infty)$ داریم:

$$f'(x) = \frac{1}{x+1} - \frac{2(x+2) - 2x}{(x+2)^2} = \frac{x^2}{(x+1)(x+2)^2} > 0$$

بنابراین، f تابعی صعودی است و برای هر $x > 0$ ، نابرابری $f(x) > f(0) = 0$ برقرار است. به این ترتیب، یکی از نابرابری‌ها ثابت شد. نابرابری دوم هم، به همین ترتیب ثابت می‌شود.

۰۱۳۶. اگر عدد مورد نظر را a بگیریم، بنا بر شرط مسأله، باید داشته باشیم: $a = p^m q^n$ که، در آن، p و q عددهایی اول‌اند. مقسوم‌علیه‌های طبیعی این عدد عبارتند از همه حاصل ضرب دو به‌دوی عددهای

$$1, p, p^2, \dots, p^m \text{ و } 1, q, q^2, \dots, q^n$$

و در نتیجه، بنا بر شرط دیگر مسأله، باید داشته باشیم:

$$(1 + p + p^2 + \dots + p^m)(1 + q + q^2 + \dots + q^n) = 2q^m q^n \quad (1)$$

توجه می‌کنیم که یا عامل اول سمت چپ برابری (۱) از $\sqrt{2} p^m$ یا عامل دوم از $\sqrt{2} q^n$ کوچکتر نیست، زیرا در غیر این صورت سمت چپ برابری از $2 p^m q^n$ کوچکتر می‌شود. برای مشخص بودن وضع، فرض می‌کنیم:

$$1 + p + p^2 + \dots + p^m \geq \sqrt{2} p^m$$

با توجه به این که، در سمت چپ این نابرابری مجموع $(m+1)$ جمله از یک تصاعد هندسی قرار دارد، داریم:

$$\frac{p^{m+1}-1}{p-1} \geq \sqrt{2} p^m \Rightarrow (\sqrt{2}-1)p^{m+1} \leq \sqrt{2} p^m - 1 < \sqrt{2} p^m$$

از آن جا: $p < \frac{\sqrt{2}}{\sqrt{2}-1} = 2 + \sqrt{2}$ ، یعنی $p \in \{2, 3\}$.

ابتدا $p=3$ را در نظر می‌گیریم. برای (۱)، به این صورت درمی‌آید:

$$(3^{m+1}-1)(1+q+\dots+q^n) = 4 \cdot 3^m q^n$$

چون $1+q+\dots+q^n$ بر $1+q$ و q و $3^{m+1}-1$ بر ۳ بخش پذیر نیستند،

از این برابری نتیجه می‌شود که باید یکی از سه دستگاه زیر برقرار باشد:

$$\begin{cases} 3^{m+1}-1 = 4q^n \\ 1+q+\dots+q^n = 3^m \end{cases}; \begin{cases} 3^{m+1}-1 = 2q^n \\ 1+q+\dots+q^n = 2 \times 3^m \end{cases};$$

$$\begin{cases} 3^{m+1}-1 = q^n \\ 1+q+\dots+q^n = 4 \times 3^m \end{cases}$$

به دستگاه اول می‌پردازیم. از معادله اول آن داریم: $3^m = \frac{4q^n+1}{3}$

که بعد از قراردادن در معادله دوم، به دست می‌آید:

$$\frac{q^{n+1}-1}{q-1} = \frac{4q^n+1}{3} \Rightarrow q^{n+1} = 4q^n - q - 2 < 4q^n$$

یعنی $q < 4$ و یا $q=2$ یا $q=3$ ولی $q \neq p$ پس $q=2$.

اگر دستگاه دوم یا دستگاه سوم را هم مورد بررسی قرار دهیم، به همان

جواب $q=2$ ، می‌رسیم. بنابراین، اگر $p=3$ ، آن وقت $q=2$. به این

ترتیب، یکی از مقسوم علیه‌های عدد مجهول، باید برابر ۲ باشد.

$p=2$ را در نظر می‌گیریم. در این صورت، برابری (۱) چنین می‌شود:

$$(1+2+2^2+\dots+2^m)(1+q+\dots+q^n) = 2^{m+1} q^n \quad (2)$$

چون عامل اول سمت چپ، عددی فرد است، و عامل دوم بر q بخش پذیر

نیست، بنابراین باید داشته باشیم:

$$\begin{cases} 1+2+\dots+2^m = q^n \\ 1+q+\dots+q^n = 2^{m+1} \end{cases}$$

از معادله اول این دستگاه، به دست می آید: $q^n = 1 + 2^m$ ، که اگر در معادله دوم قرار دهیم:

$$1 + q + \dots + q^n = 1 + q^n$$

که تنها به ازای $n=1$ برقرار است.

به این ترتیب، عدد مجهول باید به صورت $2^m q$ باشد که، در آن $q = 2^{m+1} - 1$ عددی اول است. آزمایش هم نشان می دهد که، چنین عددی با همه شرط های مسئله می سازد. یکی از این عددها $6 = 2(2^2 - 1)$ و یکی دیگر $28 = 2^2(2^3 - 1)$ و جواب سوم برابر $2^4(2^5 - 1)$ ، یعنی ۴۹۶ است. به همین ترتیب، می توان جواب های دیگری به دست آورد.

۱۳۷. سمت چپ نابرابری را P می نامیم. روشن است که

$$P = P_1 \times P_2$$

$$P_1 = \frac{(2+1)(3+1) \dots (n+1)}{(2-1)(3-1) \dots (n-1)} = \frac{3 \times 4 \times \dots \times (n+1)}{1 \times 2 \times \dots \times (n-1)} = \frac{n(n+1)}{2};$$

$$P_2 = \frac{2^2 - 2 + 1}{2^2 + 2 + 1} \cdot \frac{3^2 - 3 + 1}{3^2 + 3 + 1} \dots \frac{n^2 - n + 1}{n^2 + n + 1} = \frac{3 \cdot 7 \cdot 13 \cdot 21 \cdot 31 \dots (n^2 - 3n + 1)(n^2 - n + 1)}{7 \cdot 13 \cdot 21 \cdot 31 \dots (n^2 - n + 1)(n^2 + n + 1)} = \frac{3}{n^2 + n + 1}$$

به این ترتیب داریم:

$$P = P_1 \cdot P_2 = \frac{3}{2} \cdot \frac{n^2 + n}{n^2 + n + 1} < \frac{3}{2}$$

۱۳۸. قدرنسبت تصاعد را d و دوبرابر بخش وسط این نابرابری

دوگانه را $2S$ می نامیم. داریم:

$$2S = \frac{1}{a_1 a_2} + \frac{1}{a_1 a_2} + \frac{1}{a_2 a_3} + \frac{1}{a_2 a_3} + \dots + \frac{1}{a_{2n-1} a_{2n}} + \frac{1}{a_{2n-1} a_{2n}} < \frac{1}{a_0 a_1} + \frac{1}{a_1 a_2} + \frac{1}{a_2 a_3} + \frac{1}{a_3 a_4} + \dots$$

$$\begin{aligned}
& \dots + \frac{1}{a_{2n-1}a_{2n-1}} + \frac{1}{a_{2n-1}a_{2n}} = \frac{1}{d} \left(\frac{a_1 - a_0}{a_0 a_1} + \frac{a_2 - a_1}{a_1 a_2} + \dots \right. \\
& \dots + \left. \frac{a_{2n-1} - a_{2n-2}}{a_{2n-2} a_{2n-1}} + \frac{a_{2n} - a_{2n-1}}{a_{2n-1} a_{2n}} \right) = \frac{1}{d} \left(\frac{1}{a_0} - \frac{1}{a_1} + \right. \\
& \left. + \frac{1}{a_1} - \frac{1}{a_2} + \dots + \frac{1}{a_{2n-2}} - \frac{1}{a_{2n-1}} + \frac{1}{a_{2n-1}} - \frac{1}{a_{2n}} \right) = \\
& = \frac{1}{d} \left(\frac{1}{a_0} - \frac{1}{a_{2n}} \right) = \frac{2n}{a_0 a_{2n}} \Rightarrow s < \frac{n}{a_0 a_{2n}}
\end{aligned}$$

نا برابری سمت راست ثابت شد. نا برابری سمت چپ هم، به همین ترتیب ثابت می شود.

۱۳۹. اگر شعاع کره مفروض را R بگیریم و فرض کنیم، زاویه بین مولد و صفحه قاعده مخروطی که بر کره محیط شده است، برابر φ باشد، شعاع

قاعده مخروط برابر $R \cotg \frac{\varphi}{2}$ و ارتفاع مخروط، برابر $R \tg \varphi \cotg \frac{\varphi}{2}$ می شود.

بنابراین، حجم چنین مخروطی، برابر است با

$$V_1 = \frac{1}{3} \pi R^2 \tg \varphi \cotg^2 \frac{\varphi}{2}$$

و چون حجم کره برابر است با $V_2 = \frac{4}{3} \pi R^3$ ، در نتیجه، برای نسبت حجم

مخروط محیطی به حجم کره، خواهیم داشت:

$$\frac{V_1}{V_2} = \frac{1}{4} \cotg^2 \frac{\varphi}{2} \tg \varphi$$

برای این که، مخروط محیطی دارای حداقل حجم باشد، بایسد

$\cotg^2 \frac{\varphi}{2} \tg \varphi$ به کمترین مقدار ممکن خود برسد داریم:

$$\cotg^2 \frac{\varphi}{2} \tg \varphi = \frac{\cotg^2 \frac{\varphi}{2} \cdot 2 \tg \frac{\varphi}{2}}{1 - \tg^2 \frac{\varphi}{2}} = \frac{2}{\left(1 - \tg^2 \frac{\varphi}{2}\right) \tg^2 \frac{\varphi}{2}}$$

باید حاصل ضرب دو عامل مثبت $\left(1 - \operatorname{tg}^2 \frac{\varphi}{2}\right)$ و $\operatorname{tg}^2 \frac{\varphi}{2}$ ، که مجموع ثابتی

دارند، حداکثر مقدار ممکن باشد، یعنی داشته باشیم: $\operatorname{tg}^2 \frac{\varphi}{2} = 1 - \operatorname{tg}^2 \frac{\varphi}{2}$ یا

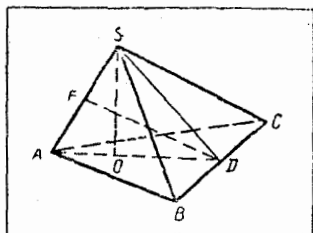
$\operatorname{tg}^2 \frac{\varphi}{2} = \frac{1}{2}$ که در این صورت

$$\frac{V_1}{V_2} = \frac{1}{2} \cot^2 \frac{\varphi}{2} \operatorname{tg}^2 \frac{\varphi}{2} = \frac{2}{2 \times \frac{1}{2} \times \frac{1}{2}} = 2 \Rightarrow V_1 = 2V_2$$

کمترین حجم برای مخروط محیط بر کره مفروض، برابر است با دو

برابر حجم کره، و وقتی به دست می آید که داشته باشیم: $\operatorname{tg}^2 \frac{\varphi}{2} = \frac{1}{2}$ یا

$$\varphi = \arccos \frac{1}{3}$$



شکل ۲۵

۰۱۴۰ [SO] را ارتفاع هرم و

[AD] را عمود بر [BC] می گیریم

(شکل ۲۵).

در این صورت

$$O \in [AD] \text{ و } |BD| \cdot |AD| = 1$$

اگر فرض کنیم: $|BC| = |AS| = 2x$ ،

آن وقت $|BD| = x$ و $|AD| = |SD| = \frac{1}{x}$

معادله $|AD| \cdot |SO| = |AS| \cdot |DF|$ را تشکیل می دهیم که، در آن

[DF] بر [AS] عمود است. از این معادله نتیجه می شود:

$$|SO| = 2x^2 \sqrt{\frac{1}{x^2} - x^2} = 2x \sqrt{1 - x^4}$$

عبارت $x \sqrt{1 - x^4}$ ، هم زمان با عبارت $f(x) = x^2(1 - x^4)$ به حداکثر مقدار

خود می‌رسد. ولسی تابع $f(x) = (x^4)^{\frac{1}{2}}(1-x^4)$ ، با توجه به ثابت بودن مجموع x^4 و $1-x^4$ ، وقتی به بیشترین مقدار خود می‌رسد که داشته باشیم:

$$\frac{x^4}{\frac{1}{2}} = 1 - x^4 \Rightarrow x^2 = \frac{1}{\sqrt{3}}$$

[می‌توانستیم از مشتق تابع $f(x)$ استفاده کنیم. $f'(x) = 2x - 6x^3$ به ازای

$x=0$ و $x^2 = \frac{1}{\sqrt{3}}$ ، برابر صفر می‌شود.] به این ترتیب، ارتفاع هرم، و هم‌زمان

با آن، حجم هرم، به ازای $x^2 = \frac{1}{\sqrt{3}}$ ، به حداکثر مقدار خود می‌رسد. از طرف

دیگر، داریم:

$$\widehat{tg ABC} = \frac{1}{x} = \sqrt{3} \Rightarrow \widehat{ABC} = 60^\circ$$

یعنی، مثلث ABC ، متساوی‌الاضلاع است.

$$V = \frac{\sqrt{3} \operatorname{tg} \alpha}{(4 + \operatorname{tg}^2 \alpha)^{\frac{3}{2}}} \quad \text{۰۱۴۱ حجم چنین هرمی برابر است با}$$

در واقع، اگر طول ضلع قاعده هرم را برابر $2x$ بگیریم و طول ارتفاع

SO را یکبار از رابطه فیثاغورت در مثلث SDO ($[SD] \perp [AC]$) و یکبار

در همان مثلث، بر حسب $\operatorname{tg} \alpha$ به دست آوریم، طول ضلع مثلث قاعده، برابر

$$\frac{2\sqrt{3}}{\sqrt{4 + \operatorname{tg}^2 \alpha}}$$

می‌شود. بنابراین، مساحت قاعده هرم، برابر $\frac{3\sqrt{3}}{4 + \operatorname{tg}^2 \alpha}$ و

ارتفاع هرم، برابر $\frac{\operatorname{tg} \alpha}{\sqrt{4 + \operatorname{tg}^2 \alpha}}$ و، در نتیجه، حجم آن، برابر

$$\frac{\sqrt{3} \operatorname{tg} \alpha}{\sqrt{(4 + \operatorname{tg}^2 \alpha)^3}} \quad \text{است.}$$

به سادگی روشن می‌شود که، به ازای $\alpha \rightarrow 0$ و $\alpha \rightarrow \frac{\pi}{4}$ ، مقدار حجم

به سمت صفر میل می‌کند، فرض می‌کنیم:

$$\operatorname{tg}^2 \alpha = x \quad \text{و} \quad f(x) = \frac{x}{(4+x)^{\frac{3}{2}}}$$

از آن جا $f'(x) = \frac{4-2x}{(4+x)^2}$ که به ازای $x=2$ برابر صفر می شود، یعنی برای این که هرم مفروض، دارای حجمی حداکثر باشد، باید داشته باشیم:

$$\operatorname{tg}^2 \alpha = 2 \Rightarrow \operatorname{tg} \alpha = \sqrt{2} \Rightarrow \alpha = \operatorname{arc} \operatorname{tg} \sqrt{2}$$

۱۴۲. طبق فرض، $[SD]$ ارتفاع هرم

است (شکل ۲۱) و همه وجه های جانبی،

مثلث هایی قائم الزویه اند (چرا؟). چون

$$\text{و } |SB| = \sqrt{2}$$

$$|AB| = |DC| < |SC| = 1$$

پس

$$\cos \alpha = |AB| : |SB| < 1 : \sqrt{2}$$

و $\frac{\pi}{4} < \alpha < \frac{\pi}{2}$ حجم هرم چنین می شود:

$$V = \frac{\sqrt{2}}{3} \cos \alpha \sqrt{1 - 2 \cos^2 \alpha}$$

حجم هرم، هم زمان با $2 \cos^2 \alpha (1 - 2 \cos^2 \alpha)$ به حداکثر مقدار خود می رسد و چون مجموع دو مقدار مثبت $2 \cos^2 \alpha$ و $1 - 2 \cos^2 \alpha$ ، ثابت است، حداکثر حاصل ضرب آنها، وقتی است که با هم برابر باشند:

$$2 \cos^2 \alpha = 1 - 2 \cos^2 \alpha \Rightarrow 4 \cos^2 \alpha = 1 \Rightarrow \alpha = \frac{\pi}{3}$$

که به ازای آن داریم: $V = \frac{1}{6}$.

یادداشت. مسأله را می توانستیم، بدون محاسبه حجم هرم حل کنیم.

درواقع

$$V = \frac{1}{3} |BC| \cdot |DC| \cdot |SD| = \frac{1}{3} |DC| \cdot |SD|$$

حاصل ضرب $|DC| \cdot |SD|$ ، عبارت است از دو برابر مساحت مثلث

SDC و چون وتر این مثلث، برابر واحد است، مساحت آن به ازای

$|SD| = |DC| = \frac{1}{\sqrt{2}}$ به حداکثر خود می‌رسد. در این حالت

$$\cos \alpha = |AB| : |SB| = 1 : 2 \text{ و } \alpha = \frac{\pi}{3}$$

۰۱۴۳. حجم هرم به سادگی به دست می‌آید (خودتان پیدا کنید):

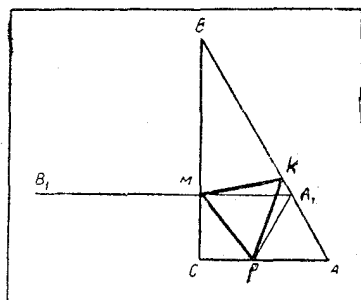
$$V = \frac{4}{3} \sin^2 \alpha \cos^5 \alpha = \frac{4}{3} (\sin^2 \alpha) (\cos^2)^{\frac{5}{2}}$$

چون مجموع دو مقدار مثبت $\sin^2 \alpha$ و $\cos^2 \alpha$ ، برابر واحد و ثابت است، پس حاصل ضرب توان‌هایی از آن‌ها، وقتی به حداکثر خود می‌رسد که، این دو مقدار، با توان‌هایشان متناسب باشند:

$$\frac{\sin^2 \alpha}{1} = \frac{\cos^2 \alpha}{\frac{5}{2}} \Rightarrow \cos^2 \alpha = \frac{5}{7} \Rightarrow \alpha = \arccos \sqrt{\frac{5}{7}}$$

۰۱۴۴. فرض کنید، مثلث

متساوی‌الاضلاع PMK را، آن‌طور که در شکل ۲۲ می‌بینید، در مثلث ABC محاط کرده باشیم $|AC| = 1$ و $|CP| = x$ می‌گیریم. نقطه M را می‌توان از نقطه K ، ضمن دوران به اندازه 60° درجه دور نقطه P به دست آورد. چون روی ضلع BC و K روی ضلع AB است،



شکل ۲۲

بنابراین M را می‌توان، به عنوان نقطه برخورد پاره‌خط‌های راست BC و B_1A_1 به دست آورد که، در آن، عبارت است از نتیجه دوران $[BA]$ دور P و به اندازه 60° درجه. چون $\hat{A} = 60^\circ$ ، پس $A_1 \in [AB]$ ؛ مثلث PAA_1 متساوی‌الاضلاع است و $(A_1B_1) \parallel (AC)$. بنابراین $|MC| = \frac{(1-x)\sqrt{3}}{2}$

و طول ضلع مثلث محاطی، چنین می شود:

$$|PM| = \sqrt{x^2 + (1-x)^2 \cdot \frac{3}{4}}$$

تابع $f(x) = x^2 + \frac{3}{4}(1-x)^2 = \frac{1}{4}(7x^2 - 6x + 3)$ ، به ازای $x = \frac{3}{7}$ ، به حداقل مقدار خود می رسد، به این ترتیب اگر $|CP| : |PA| = 3 : 4$ ، آن وقت، مثلث PMN ، مثلث مورد نظر است.

۱۴۵. با توجه به فرض و همچنین نابرابری بین واسطه های حسابی و

هندسی دو عدد مثبت داریم:

$$\log_{\frac{1}{2}}(ab) = \log_{\frac{1}{2}} a + \log_{\frac{1}{2}} b \geq 2 \sqrt{\log_{\frac{1}{2}} a \cdot \log_{\frac{1}{2}} b} = 2$$

بنابراین $ab \leq \frac{1}{4}$ ؛ در ضمن، علامت برابری برای $a = b = \frac{1}{2}$ پیش می آید:

ab حداقل مقدار ندارد، زیرا شرط مسأله برای $a = \frac{1}{2^n}$ و

$b = \frac{1}{2^n}$ برقرار است که، در این صورت $ab = 2^{-n} \cdot \frac{1}{2^n}$ ، برای $n \rightarrow \infty$ ، به

سمت صفر میل می کند، یعنی می تواند هر عدد مثبت به دلخواه کوچکی باشد.

۱۴۶. اگر برابری های فرض را به صورت دستگاه زیر بنویسیم:

$$\begin{cases} y + z = 2 - x \\ y \cdot z = 1 - x(2 - x) \end{cases}$$

معلوم می شود که y و z ، ریشه های معادله درجه دوم زیر هستند:

$$t^2 - (2-x)t + 1 - x(2-x) = 0$$

این معادله، باید ریشه های حقیقی داشته باشد و بنا بر این

$$(2-x)^2 - 4 + 4x(2-x) \geq 0$$

که از آن جا به دست می آید: $0 \leq x \leq \frac{\pi}{3}$ ؛ در نتیجه، با توجه به تقارن، y و z

هم، در همین شرط صدق می کنند.

۱۴۷. به ترتیب داریم:

$$\begin{aligned} y^2 &= \left(\frac{a - b \sin \alpha}{\cos \alpha} \right)^2 = \frac{a^2}{\cos^2 \alpha} + b^2 \operatorname{tg}^2 \alpha - \frac{2ab \sin \alpha}{\cos^2 \alpha} = \\ &= \left(\frac{b - a \sin \alpha}{\cos \alpha} \right)^2 + (a^2 - b^2)(1 + \operatorname{tg}^2 \alpha) - (a^2 - b^2) \operatorname{tg}^2 \alpha = \\ &= \left(\frac{b - a \sin \alpha}{\cos \alpha} \right)^2 + a^2 - b^2 \geq a^2 - b^2 \end{aligned}$$

یعنی $y \geq \sqrt{a^2 - b^2}$ ؛ y وقتی به حداقل خود، یعنی $\sqrt{a^2 - b^2}$ می رسد

که داشته باشیم: $b - a \sin \alpha = 0$ ، یعنی به ازای $\sin \alpha = \frac{b}{a}$.

یادداشت. برای حل بسیاری از مسأله‌های مربوط به حداکثر و حداقل،

می توان از روش ضریب‌های نامعین و به طریق زیر استفاده کرد: مجذور تابع

مورد مطالعه را، به یاری ضریب کمکی، به صورت مجموع جبری دو تابع

می نویسیم، به نحوی که یکی از آن‌ها مجذور کامل و دومی تابعی ساده‌تر از تابع

مفروض باشد (که در حالت خاص، تابع دوم ممکن است برابر مقدار ثابت

شود). مقدار ضریب را طوری انتخاب می کنیم که هر دو تابع، به ازای یک

مقدار متغیر به اکستریم خود برسند. مثلاً، برای حل مسأله ۱۴۷، می توانستیم

بنویسیم:

$$\begin{aligned} \left(\frac{a - b \sin \alpha}{\cos \alpha} \right)^2 &= \left(\frac{\frac{a}{\lambda} - \lambda b \sin \alpha}{\cos \alpha} \right)^2 + \\ &+ \frac{1}{\cos^2 \alpha} \left[a^2 - \frac{a^2}{\lambda^2} + b^2(1 - \lambda^2) \sin^2 \alpha \right] \end{aligned}$$

که در آن، جمله دوم را می توان این طور نوشت:

$$\left(\frac{a^2}{b^2 \lambda^2} - \sin^2 \alpha \right) \frac{(\lambda^2 - 1) b^2}{\cos^2 \alpha}$$

$\lambda = \frac{a}{b}$ می‌گیریم، به نحوی که داشته باشیم:

$$\frac{a^2}{b^2 \lambda^2} - \sin^2 \alpha = 1 - \sin^2 \alpha = \cos^2 \alpha$$

در این صورت خواهیم داشت:

$$\left(\frac{a - b \sin \alpha}{\cos \alpha} \right)^2 = \left(\frac{b - a \sin \alpha}{\cos \alpha} \right)^2 + a^2 - b^2 \geq a^2 - b^2$$

علامت برابری، برای $b - a \sin \alpha = 0$ ، یعنی $\sin \alpha = \frac{b}{a}$ به دست می‌آید.

۱۴۸. ابتدا یادآوری می‌کنیم که، برای a و b مثبت و $0 < \alpha < \frac{\pi}{2}$ ،

حداکثر مقدار تابع $y = a \sin \alpha + b \cos \alpha$ برابر است با $\sqrt{a^2 + b^2}$ زیرا با

فرض $tg \varphi = \frac{a}{b}$ به ترتیب داریم:

$$a \sin \alpha + b \cos \alpha = b (tg \varphi \sin \alpha + \cos \alpha) = \frac{b}{\cos \varphi} \cos(\alpha - \varphi) =$$

$$= \sqrt{a^2 + b^2} \cos(\alpha - \varphi) \leq \sqrt{a^2 + b^2}$$

(با فرض $tg \varphi = \frac{a}{b}$ ، به دست می‌آید: $\cos \alpha = \frac{\sqrt{a^2 + b^2}}{b}$)، علامت برابری

برای $\alpha = \varphi$.

اکنون، باروشی که در یادداشت مسأله قبلی از آن صحبت کردیم، به حل

مسأله خود می‌پردازیم. داریم:

$$y^2 = - \left(a \lambda \sqrt{\sin \alpha} - \frac{b}{\lambda} \sqrt{\cos \alpha} \right)^2 + a^2 (1 + \lambda^2) \sin \alpha +$$

$$+\frac{b^2}{\lambda^2}(1+\lambda^2)\cos\alpha$$

حداکثر تابع اول برابر صفر است، یعنی وقتی که

$$a\lambda\sqrt{\sin\alpha} - \frac{b}{\lambda}\sqrt{\cos\alpha} = 0 \Rightarrow \operatorname{tg}\alpha = \frac{b^2}{a^2\lambda^4}$$

و تابع دوم، با توجه به مقداری که برای حداکثر $a\sin\alpha + b\cos\alpha$ به دست آوردیم، وقتی به حداکثر مقدار خود می‌رسد که داشته باشیم:

$$\cdot \operatorname{tg}\alpha = \frac{a^2\lambda^2}{b^2}$$

λ را طوری پیدا می‌کنیم که، حداکثر دو تابع، به ازای یک مقدار α به دست آید. برای این منظور، باید داشته باشیم:

$$\frac{b^2}{a^2\lambda^4} = \frac{a^2\lambda^2}{b^2} \Rightarrow \lambda = \sqrt[3]{\frac{b^2}{a^2}} \text{ و } \operatorname{tg}\alpha = \sqrt[3]{\frac{a^2}{b^2}}$$

و به این ترتیب، سرانجام خواهیم داشت:

$$a\sqrt{\sin\alpha} + b\sqrt{\cos\alpha} \leq \left(a^{\frac{4}{3}} + b^{\frac{4}{3}}\right)^{\frac{3}{4}}$$

یادداشت. روشن است که ما کریم عبارت $a\sqrt{\sin\alpha} + b\sqrt{\cos\alpha}$ را به کمک مشتق هم می‌توان به دست آورد:

$$f(\alpha) = a\sqrt{\sin\alpha} + b\sqrt{\cos\alpha},$$

$$f'(\alpha) = \frac{a\sqrt{\cos^3\alpha} - b\sqrt{\sin^3\alpha}}{2\sqrt{\sin\alpha\cos\alpha}}$$

$$\cdot \operatorname{tg}\alpha = \sqrt[3]{\frac{a^2}{b^2}} \text{ و } f'(\alpha) = 0 \text{ عبارت است از}$$

۱۴۹. روشن است که نقطه (x, y) که در آن $x > 2$ یا $y > 2$ ، در

معادله مفروض صدق نمی‌کند و، بنابراین، نقطه‌هایی در این معادله صدق

می‌کنند که، برای آن‌ها، داشته باشیم:

$$1 \leq x \leq 2, \quad 1 \leq y \leq 2$$

به این ترتیب $f(x, y) = \frac{y}{x} \geq \frac{1}{2}$. علاوه بر این، نقطه (۲، ۱) با شرط‌های

مسئله سازگار است، یعنی حداقل مقدار $\frac{y}{x}$ برابر $\frac{1}{2}$ است.

۰۱۵۰. با توجه به شرط $x^4 + y^4 = 1$ داریم $|x| \leq 1$ و $|y| \leq 1$ و بنا بر این

$$x^9 \leq x^4 \quad \text{و} \quad y^9 \leq y^4$$

در نتیجه $x^9 + y^9 \leq 1$. در ضمن، علامت برابری وقتی برقرار است که داشته باشیم:

$$x^9 = x^4 \quad \text{و} \quad y^9 = y^4$$

وروشن است که این شرط، برای $x = 1, y = 0$ یا $x = 0, y = 1$ برقرار است.

۰۱۵۱. با توجه به نابرابری بین واسطه‌های حسابی و هندسی می‌توان

نوشت:

$$\begin{aligned} y = \frac{ax^m}{n} + m \frac{b}{mx^n} &\geq (m+n) \sqrt[m+n]{\left(\frac{ax^m}{n}\right)^n \left(\frac{b}{mx^n}\right)^m} = \\ &= (m+n) \sqrt[m+n]{\frac{a^n b^m}{m^m n^n}} \end{aligned} \quad (1)$$

علامت برابری وقتی پیش می‌آید که داشته باشیم: $\frac{ax^m}{n} = \frac{b}{mx^n}$ ، یعنی برای

$$x = \sqrt[m+n]{\frac{nb}{ma}}$$

راست (۱) است.

۰۱۵۲. از نابرابری روشن $(a_i - b_i)^2 \geq 0$ به دست می‌آید:

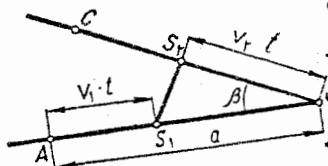
$$a_i^2 - 2a_i b_i + b_i^2 \geq 0 \Rightarrow \frac{a_i^2}{b_i^2} \geq 2a_i - b_i$$

از آنجا $(i = 1, 2, \dots, n)$

$$\sum_{i=1}^n \frac{a_i^2}{b_i^2} \geq 2 \sum_{i=1}^n a_i - \sum_{i=1}^n b_i = 2 \times 1 - 1 = 1$$

۱۵۳. تابع مورد بررسی عبارت است

از طول پاره خط راست $S_1 S_2$ که در آن S_1 و S_2 به ترتیب موضع متحرکها، بعد از گذشت زمان t روی مسیرهای مربوط به خود می باشند. در مثلث $S_1 S_2 B$ داریم:



شکل ۲۳

$$|S_1 S_2|^2 = |S_1 B|^2 + |S_2 B|^2 - 2|S_1 B| \cdot |S_2 B| \cdot \cos \beta \quad (0 < \beta < \frac{\pi}{2})$$

با توجه به برابری های $|AS_1| = v_1 t$ و $|S_2 B| = v_2 t$ خواهیم داشت:

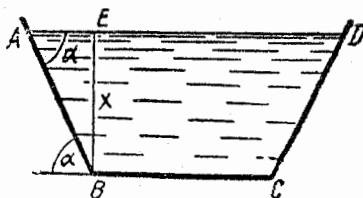
$$f(t) = |S_1 S_2|^2 = (a - v_1 t)^2 + (v_2 t)^2 - 2(a - v_1 t)(v_2 t) \cdot \cos \beta$$

$f(t)$ نسبت به t از درجه دوم با ضریب درجه دوم

$$v_1^2 + v_2^2 + 2v_1 v_2 \cos \beta$$

است که مقداری مثبت است $(v_2 > 0, v_1 > 0, \cos \beta > 0)$. بنابراین $f(t)$ دارای حداقلی است که به ازای جواب مشتق آن به دست می آید:

$$f'(t) = 0 \Rightarrow t = \frac{a(v_2 \cos \beta + v_1)}{v_1^2 + v_2^2 + 2v_1 v_2 \cos \beta}$$



شکل ۲۴

۱۵۴. باید بخشی را که زیر

آب است، یعنی خط شکسته $|AB| + |BC| + |CD|$ را به عنوان تابع مورد بررسی در نظر بگیریم. عمق کانال را x می نامیم. روشن است که

$$|AB| = \frac{x}{\sin \alpha} \text{ و به سادگی به دست می آید:}$$

$$|BC| = \frac{S}{x} - \frac{x}{\operatorname{tg} \alpha}$$

به این ترتیب، تابعی که باید مورد بررسی قرار گیرد، به دست می آید:

$$f(x) = \frac{2x}{\sin \alpha} + \frac{S}{x} - \frac{x}{\operatorname{tg} \alpha},$$

$$f'(x) = \frac{2}{\sin \alpha} - \frac{1}{\operatorname{tg} \alpha} - \frac{S}{x^2}$$

بنابراین، برای $f'(x) = 0$ به دست می آید: $x = \sqrt{\frac{S \cdot \sin \alpha}{2 - \cos \alpha}}$ و $f(x)$

در همین نقطه، به حداقل خود می رسد (چرا؟)

۱۵۵. چون $\frac{1 + \sin^2 x}{\sin^2 x} > 0$ و $\frac{1 + \cos^2 x}{\cos^2 x} > 0$ ، با توجه به نابرابری

روشن

$$\frac{1}{2}(a^n + b^n) \geq \left(\frac{a+b}{2}\right)^n, \quad (a > 0, b > 0)$$

می توان به ترتیب نوشت:

$$f(x) = \left(\frac{1 + \sin^2 x}{\sin^2 x}\right)^n + \left(\frac{1 + \cos^2 x}{\cos^2 x}\right)^n \geq$$

$$\geq \frac{2 \left(\frac{1 + \sin^2 x}{\sin^2 x} + \frac{1 + \cos^2 x}{\cos^2 x}\right)^n}{2^n} = \frac{1}{2^{n-1}} \left(2 + \frac{1}{\sin^2 x} + \frac{1}{\cos^2 x}\right)^n =$$

$$= 2^{1-n} \left(2 + \frac{4}{\sin^2 2x}\right)^n \geq 2^{1-n} (2 + 4)^n = 2^{1-n} \cdot 6^n = 2 \times 3^n$$

کمترین مقدار $f(x)$ برابر است با 2×3^n که به ازای

$$x = k\pi \pm \frac{\pi}{4}$$

۱۵۶. ابتدا ثابت می کنیم:

$$\frac{a_1 + a_2 + \dots + a_k}{k} < \frac{a_1 + a_2 + \dots + a_k + a_{k+1}}{k+1} \quad (1)$$

اگر جمله‌های شامل a_1, a_2, \dots, a_k را از سمت راست به سمت چپ ببریم،
نا برابری (۱) چنین می‌شود:

$$(a_1 + a_2 + \dots + a_k) \left(\frac{1}{k} - \frac{1}{k+1} \right) < \frac{a_{k+1}}{k+1}$$

یا $\frac{a_1 + a_2 + \dots + a_k}{k} < a_{k+1} = \frac{ka_{k+1}}{k}$ که درستی آن روشن است.
بنابراین، واسطه حسابی

$$S_k = \frac{a_1 + a_2 + \dots + a_k}{k}$$

از k جمله اول دنباله صعودی (a_n) ، تسامعی است صعودی نسبت به k .
بنابراین، برای $k < n$ داریم: $S_k < S_n$. و این، همان نابرابری سمت چپ
مورد نظر است.

برای اثبات نابرابری دوم، دنباله صعودی

$$-a_1, -a_2, \dots, -a_n$$

را در نظر می‌گیریم. بنا بر آن چه ثابت کردیم، باید داشته باشیم:

$$\frac{(-a_n) + (-a_{n-1}) + \dots + (-a_{k+1})}{n-k} <$$

$$< \frac{(-a_n) + (-a_{n-1}) + \dots + (-a_1)}{n}$$

که از آن جا، درستی نابرابری دوم نتیجه می‌شود.

۱۵۷. چون عبارات x و y و z متقارن اند، بدون
این که به کلی بودن مسأله لطمه‌ای وارد شود، می‌توان فرض کرد: $x \leq y \leq z$.
در این صورت، نابرابری مورد نظر (که باید ثابت شود) به این صورت در
می‌آید:

$$z-x \leq \sqrt[3]{x^2+y^2+z^2-xy-xz-yz}$$

که بعد از مجذور کردن دو طرف و تبدیل عبارت سمت راست، به این صورت در می آید:

$$9(z-x)^2 \leq 8[(x-y)^2 + (y-z)^2 + (z-x)^2]$$

$$(z-x)^2 \leq \frac{8}{9}[(x-y)^2 + (y-z)^2] \quad (*) \quad \text{و یا}$$

روشن است که برای هر دو عدد حقیقی m و n داریم:

$$2(m^2+n^2) \geq (m+n)^2$$

اگر فرض کنیم: $m = x-y$ و $n = y-z$ ، به دست می آید:

$$(z-x)^2 \leq \frac{2}{9}[(x-y)^2 + (y-z)^2]$$

که از آن جا، ناسابری مطلوب نتیجه می شود. علامت برابری $x=y=z$ است.

$$0 < \sin \frac{\alpha}{2} \text{ و } \sin \alpha = 2 \sin \frac{\alpha}{2} \cos \frac{\alpha}{2} - \cos \alpha = 2 \sin^2 \frac{\alpha}{2} \quad \text{چون } 0.158$$

با ساده کردن دو طرف ناسابری به $2 \sin \frac{\alpha}{2}$ ، به دست می آید:

$$\frac{2}{\alpha} \sin \frac{\alpha}{2} < 1 + \left(\cos \frac{\alpha}{2} - \frac{\sqrt{2}}{2} \right)$$

$$\text{چون } \frac{2}{\alpha} \sin \frac{\alpha}{2} = \frac{\sin \frac{\alpha}{2}}{\frac{\alpha}{2}} < 1 \text{ و } \cos \frac{\alpha}{2} > \cos \frac{\pi}{4} = \frac{\sqrt{2}}{2} \text{، ناسابری اخیر درست}$$

است.

0.159 اگر عدد 1 را به دو طرف ناسابری مفروض اضافه کنیم، به این

صورت در می آید:

$$\frac{2}{\sin^2 \alpha + \sin^2 \beta} \leq \frac{1}{2} \left(\frac{1}{\sin^2 \alpha} + \frac{1}{\sin^2 \beta} \right)$$

$$(\sin^2 \alpha + \sin^2 \beta)^2 \geq 4 \sin^2 \alpha \sin^2 \beta \implies (\sin^2 \alpha - \sin^2 \beta)^2 \geq 0$$

۰۱۶۰ به ترتیب داریم:

$$\begin{aligned} y &= (x-2)(x-5)(x-1)(x-6) + 9 = \\ &= (x^2 - 7x + 10)(x^2 - 7x + 6) + 9 = (x^2 - 7x)^2 \\ &+ 16(x^2 - 7x) + 69 = (x^2 - 7x + 8)^2 + 5 \geq 5 \end{aligned}$$

حداقل مقدار y برابر است با ۵ که به ازای $x = \frac{1}{2}(7 \pm \sqrt{7})$ به دست می‌آید.

۰۱۶۱ با توجه به فرض $x \neq \frac{\pi}{6}$ و $x \neq 0$ داریم:

$$y = \frac{3 \operatorname{tg} x - \operatorname{tg}^3 x}{(1 - 3 \operatorname{tg}^2 x) \operatorname{tg}^3 x} = \frac{3 - \operatorname{tg}^2 x}{(1 - 3 \operatorname{tg}^2 x) \operatorname{tg}^2 x} \quad \left(x \neq \frac{\pi}{6}\right)$$

که با فرض $\operatorname{tg}^2 x = z$ ، به این معادله می‌رسیم:

$$3yz^2 - (y+1)z + 3 = 0$$

این معادله، وقتی ریشه‌های حقیقی دارد که داشته باشیم:

$$(y+1)^2 - 36y \geq 0 \implies y \geq 17 + 12\sqrt{2} \quad \text{یا} \quad y \leq 17 - 12\sqrt{2}$$

بنابراین $y_{\max} = 17 - 12\sqrt{2}$ که به ازای $z = 3 + 2\sqrt{2}$ یا $x = \frac{3\pi}{8}$ به

دست می‌آید؛ و $y_{\min} = 17 + 12\sqrt{2}$ (به ازای $z = 3 - 2\sqrt{2}$) یا

$$x = \frac{\pi}{8}$$

یادداشت. توجه کنید، در این مسأله، با نقطه‌های ماکزیمم و می‌نیمم در روی نمودار تابع، یعنی با ماکزیمم و می‌نیمم نسبی تابع سروکار داشتیم، نه با حداکثر و حداقل مقدار آن. روشن است، اگر $x \rightarrow \frac{\pi}{6}^-$ ، آن وقت $y \rightarrow +\infty$

و اگر $x \rightarrow \frac{\pi^+}{6}$ ، آن وقت $y \rightarrow -\infty$ ؛ در واقع، نمودار تابع، در بازه

$(0, \frac{\pi}{2})$ دارای خط راست مجانب $\frac{\pi}{6}$ است.

۱۰۱۶۲) فرض می‌کنیم: $\cos \alpha \cos \beta \cos \gamma = z$. داریم:

$$z = \frac{1}{4} [\cos(\alpha + \beta) + \cos(\alpha - \beta)] \cos \gamma =$$

$$= \frac{1}{4} [-\cos^2 \gamma + \cos(\alpha - \beta) \cos \gamma]$$

از آنجا

$$\cos^2 \gamma - \cos(\alpha - \beta) \cos \gamma + 2z = 0$$

این معادله، باید نسبت به مجهول $\cos \gamma$ ، ریشه‌های حقیقی داشته باشد، یعنی

$$\cos^2(\alpha - \beta) - 4z \geq 0 \implies z \leq \frac{1}{4} \cos^2(\alpha - \beta) \leq \frac{1}{4}$$

(۲) با استفاده از تسا برابری بین واسطه‌های حسابی و هندسی و، سپس،

نا برابری همین مسأله در بخش (۱) داریم:

$$\frac{1}{\cos \alpha} + \frac{1}{\cos \beta} + \frac{1}{\cos \gamma} \geq 3 \sqrt[3]{\frac{1}{\cos \alpha \cos \beta \cos \gamma}} \geq \frac{3}{\sqrt[3]{\frac{1}{4}}} = 6$$

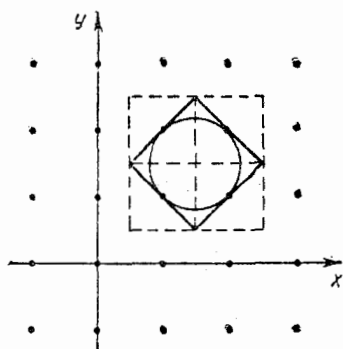
(۳) به ترتیب داریم:

$$\operatorname{tg}^2 \alpha + \operatorname{tg}^2 \beta + \operatorname{tg}^2 \gamma = \frac{1 - \cos^2 \alpha}{\cos^2 \alpha} + \frac{1 - \cos^2 \beta}{\cos^2 \beta} + \frac{1 - \cos^2 \gamma}{\cos^2 \gamma} =$$

$$= \frac{1}{\cos^2 \alpha} + \frac{1}{\cos^2 \beta} + \frac{1}{\cos^2 \gamma} - 3 \geq \frac{3}{\sqrt{\cos^2 \alpha \cos^2 \beta \cos^2 \gamma}} - 3 \geq$$

$$\geq \frac{3}{\sqrt{\left(\frac{1}{4}\right)^2}} - 3 = 9$$

(ازنا برابری $\frac{1}{8} \cos \alpha \cos \beta \cos \gamma \leq$ استفاده کردیم).



شکل ۲۵

۰۱۶۳. در صورت مسأله، در این باره سکوت شده است که، آیا نقطه‌های با مختصات درست می‌توانند روی محیط مربع قرار گیرند یا نه! اگر این نقطه‌ها نتوانند روی محیط مربع باشند، آن وقت نمی‌توان مربعی با مساحت حداکثر پیدا کرد: اگر مربعی را در نظر بگیریم که در درون آن و روی محیط آن، نقطه‌ای از نقطه‌های نشان‌دار، واقع

نباشد، همیشه می‌توان مربع دیگری در نظر گرفت که، ولو به مقداری اندک، از آن بزرگتر و، در نتیجه، مساحتی بیشتر داشته باشد.

بنابر این به حالتی می‌پردازیم که، مربع معقول بتواند، نقطه‌های با مختصات درست را، روی محیط خود داشته باشد. قبل از حل، یادآوری می‌کنیم، مربعی که در شکل ۲۵ نشان داده شده است، مساحتی برابر ۲ دارد و دایره محاطی این مربع، به شعاع $\frac{d}{4}$ است (d ، طول ضلع مربع). به این

ترتیب، حداکثر مساحت مربع، از ۲ کمتر نیست.

از طرف دیگر، اگر مربعی با مساحت بیشتر از ۲ وجود داشته باشد، به معنای آن است که باید دایره‌ای پیدا شود که در درون خود شامل نقطه‌های نشان‌دار نباشد و فاصله مرکز آن از همه نقطه‌های نشان‌دار، بزرگتر از $\frac{d}{4}$ باشد، که ممکن نیست.

$$۰.۱۶۴ (۱) \text{ به ازای } n=۵ \text{ داریم: } ۵^۲ = ۲۵ > ۳۲ = ۲۵.$$

اکنون فرض می‌کنیم، برای $n = k + ۴$ ($k \in \mathbf{N}$) داشته باشیم:

$$۲^{k+۴} > (k+۴)^۲ = k^۲ + ۸k + ۱۶$$

در این صورت داریم:

$$2^{k+5} = 2^{k+4} \cdot 2 > (k^2 + 8k + 16) \cdot 2 = 2k^2 + 16k + 32 > \\ > k^2 + 10k + 25 = (k+5)^2$$

$2^{10} = 1024 > 1000 = 10^3$: به ازای $n = 10$ داریم:
فرض می‌کنیم، به ازای $n = k + 9$ ($k \in \mathbf{N}$) داشته باشیم:

$$2^{k+9} > (k+9)^3 = k^3 + 27k^2 + 243k + 729$$

در این صورت داریم:

$$2^{k+10} = 2^{k+9} \cdot 2 > (k^3 + 27k^2 + 243k + 729) \cdot 2 = \\ = 2k^3 + 54k^2 + 486k + 1458 > k^3 + 30k^2 + 300k + \\ + 1000 = (k+10)^3$$

(3) به ازای $n = 2$ به دست می‌آید:

$$\frac{1}{\sqrt{1}} + \frac{1}{\sqrt{2}} = \frac{\sqrt{2}+1}{\sqrt{2}} > \frac{1+1}{\sqrt{2}} = \sqrt{2}$$

اکنون فرض می‌کنیم، به ازای $n = k + 1$ ($k \in \mathbf{N}$) داشته باشیم:

$$\frac{1}{\sqrt{1}} + \frac{1}{\sqrt{2}} + \dots + \frac{1}{\sqrt{k+1}} > \sqrt{k+1}$$

در این صورت خواهیم داشت:

$$\frac{1}{\sqrt{1}} + \frac{1}{\sqrt{2}} + \dots + \frac{1}{\sqrt{k+1}} + \frac{1}{\sqrt{k+2}} > \sqrt{k+1} + \frac{1}{\sqrt{k+2}} = \\ = \frac{\sqrt{k+1} \cdot \sqrt{k+2} + 1}{\sqrt{k+2}} > \frac{\sqrt{k+1} \cdot \sqrt{k+1} + 1}{\sqrt{k+2}} = \\ = \frac{k+2}{\sqrt{k+2}} = \sqrt{k+2}$$

۱۶۵. حالت اول: $0^\circ < \alpha \leq 180^\circ$

$ABCD$ را مستطیل محاط در قطاع می گیریم
(شکل ۲۶). زاویه بین OK - نیمساز زاویه
مرکزی قطاع - و شعاع OC را β می نامیم:

$$0^\circ < \beta < \frac{1}{4}\alpha \leq 90^\circ$$

اگر مساحت مستطیل $ABCD$ را S

بنامیم، داریم:

$$S = |BC| \cdot |CD| = 2|EC| \cdot |EF| = 2R \sin \beta \cdot |EF| = \\ = 2R \sin \beta (|OE| - |OF|) = 2R \sin \beta (R \cos \beta - |OF|)$$

ولی در مثلث OFD داریم:

$$|OF| = |FD| \cdot \cotg \frac{\alpha}{4} = |EC| \cdot \cotg \frac{\alpha}{4} = R \sin \beta \cdot \cotg \frac{\alpha}{4}$$

بنابر این، برای مساحت مستطیل $ABCD$ به دست می آید:

$$S = 2R \left(\sin \beta \cdot R \cdot \cos \beta - R \sin^2 \beta \cotg \frac{\alpha}{4} \right) = \\ = R^2 \left(\sin 2\beta - 2 \sin^2 \beta \cotg \frac{\alpha}{4} \right)$$

S را به عنوان تابعی از β در نظر می گیریم و نقطه های بحرانی آن را

جست و جو می کنیم:

$$S'(\beta) = R^2 \left(2 \cos 2\beta - 2 \sin 2\beta \cotg \frac{\alpha}{4} \right)$$

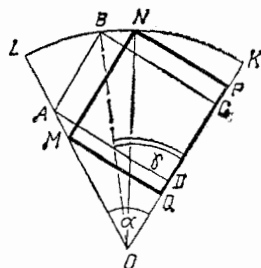
اگر $S'(\beta) = 0$ ، آن وقت $\cotg 2\beta = \cotg \frac{\alpha}{4}$ ، یعنی $\beta = \frac{\alpha}{4}$ به سادگی

می توان روشن کرد که $S(\beta)$ در این نقطه، به حداکثر مقدار خود می رسد:

$$S_1 = \max_{\left[0^\circ, \frac{\alpha}{4}\right]} S(\beta) = S\left(\frac{\alpha}{4}\right) = R^2 \tg \frac{\alpha}{4} \quad (1)$$

به این ترتیب، بیشترین مساحت را مستطیلی دارد که دور آن بر کمان

قطاع، به نحوی واقع باشد که همراه با زاویه مرکزی قطاع، کمان را به ۴



شکل ۲۷

بخش برابر تقسیم کرده باشند (مستطیل

$MNPQ$ را روی شکل ۲۶ ببینید). این

نتیجه به ما امکان می‌دهد که مستطیل مورد

نظر را، به کمک خط کش و پرگار رسم کنیم.

حالت دوم: $0^\circ < \alpha \leq 90^\circ$.

مستطیل محاط در قطاع می‌گیریم

(شکل ۲۷). زاویه بین شعاع‌های OB و

OK را γ می‌نامیم ($0^\circ < \gamma \leq 90^\circ$). در این صورت، برای مساحت مستطیل

داریم:

$$S = S(\gamma) = |BC| \cdot |AB| = R \sin \gamma \cdot |AB|$$

ولی $\widehat{BAO} = 180^\circ - \alpha$ ؛ بنا بر این در مثلث ABO

$$\frac{|AB|}{\sin(\alpha - \gamma)} = \frac{R}{\sin(180^\circ - \alpha)} \Rightarrow |AB| = \frac{R \sin(\alpha - \gamma)}{\sin \alpha}$$

$$S(\gamma) = \frac{R^2 \sin \gamma \sin(\alpha - \gamma)}{\sin \alpha}$$

به این ترتیب:

ابتدا نقطه‌های بحرانی $S(\gamma)$ را در بازه $[0^\circ; \alpha]$ پیدا می‌کنیم:

$$\begin{aligned} S'(\gamma) &= \frac{R^2}{\sin \alpha} [\cos \gamma \sin(\alpha - \gamma) - \sin \gamma \cos(\alpha - \gamma)] = \\ &= \frac{R^2}{\sin \alpha} \sin(\alpha - 2\gamma) \end{aligned}$$

که به ازای $\sin(\alpha - 2\gamma) = 0$ برابر صفر می‌شود؛ یعنی $\gamma = \frac{\alpha}{2}$. به سادگی

ثابت می‌شود که مقدار $S(\gamma)$ به ازای $\gamma = \frac{\alpha}{2}$ ، حداکثر مقدار ممکن است:

$$S_{\gamma} = \max S(\gamma) = S\left(\frac{\alpha}{\gamma}\right) = \frac{1}{\gamma} R^2 \operatorname{tg} \frac{\alpha}{\gamma} \quad (2)$$

[0°, α]

نتیجه این حالت هم جالب است: از مستطیل‌های محاط در قطاع (به-طریقی که بررسی کردیم)، حداکثر مساحت متعلق به مستطیلی است که رأسی در وسط کمان قطاع داشته باشد (مستطیل $MNPQ$ را در شکل ۲۷ ببینید). در این حالت هم، می‌توان مستطیل مورد نظر را، به کمک خط‌کش و پرگار رسم کرد.

هنوز مطلبی مانده است که باید روشن کنیم: درحالتی که زاویه مرکزی قطاع در بازه $[0^\circ, 90^\circ]$ است، کدامیک از دو حالت مستطیل محاطی، حداکثر مساحت را می‌دهد؟ باید مقادیرهای S_1 و S_2 را در برابری (۱) و (۲) با هم مقایسه کنیم.

$$\frac{S_1}{S_2} = \frac{R^2 \operatorname{tg} \frac{\alpha}{\gamma}}{\frac{1}{\gamma} R^2 \operatorname{tg} \frac{\alpha}{\gamma}} = \operatorname{tg} \frac{\alpha}{\gamma} : \frac{\operatorname{tg} \frac{\alpha}{\gamma}}{1 - \operatorname{tg}^2 \frac{\alpha}{\gamma}} = 1 - \operatorname{tg}^2 \frac{\alpha}{\gamma} < 1$$

یعنی $S_1 < S_2$. به این ترتیب، سرانجام می‌توان این‌طور نتیجه‌گیری کرد: اگر برای زاویه مرکزی قطاع داشته باشیم: $0 < \alpha \leq 90^\circ$ ، آن وقت حداکثر مساحت برای مستطیلی است که یک ضلع آن دوی شعاع دایره و یک رأس آن در وسط کمان قطاع باشد؛ در حالت $90^\circ < \alpha \leq 180^\circ$ ، حداکثر مساحت، متعلق به مستطیلی است که ضلع آن موازی با وتر قطاع باشد و رأس‌های آن، دو نیمه کمان قطاع را نصف کرده باشند.

۱۶۶. c را کوچکترین ضلع می‌گیریم (می‌توانستیم، به جای c ، یکی از دو ضلع دیگر، یعنی a یا b را کوچکترین ضلع بگیریم؛ روش کار تفاوتی نداشت). فرض می‌کنیم:

$$a - c = \alpha, \quad b - c = \beta \quad (\alpha \geq 0, \beta \geq 0)$$

مقدار عبارت سمت چپ نسا برابری فرض را A می‌نامیم، در این صورت می‌توانیم عبارت A را، بر حسب c و α و β بنویسیم و، سپس، نسبت به c

منظم کنیم:

$$A = (c + \alpha)^2(c + \beta)(\alpha - \beta) + (c + \beta)^2c\beta + c^2(c + \alpha)(-\alpha) = \\ = (\alpha^2 + \beta^2 - \alpha\beta)c^2 + (\alpha^3 + \beta^3 + \alpha^2\beta - 2\alpha\beta^2)c + \alpha^2\beta(\alpha - \beta)$$

این عبارت در حالت $\alpha \geq \beta$ غیر منفی است، زیرا

$$\alpha^2 + \beta^2 - \alpha\beta = (\alpha - \beta)^2 + \alpha\beta,$$

$$\alpha^3 + \beta^3 + \alpha^2\beta - 2\alpha\beta^2 = \alpha^2 + \beta(\alpha - \beta)^2$$

وروشن است وقتی برابر صفر می شود که داشته باشیم:

$$\alpha^2 + \beta^2 - \alpha\beta = 0, \alpha^3 + \beta^3 + \alpha^2\beta - 2\alpha\beta^2 = 0, \alpha^2\beta(\alpha - \beta) = 0$$

که تنها در حالت $\alpha = \beta = 0$ ، یعنی $a = b = c$ (مثلث متساوی الاضلاع) ممکن است.

اکنون فرض می کنیم $\alpha < \beta$. از نابرابری $b < a + c$ ، بلافاصله نتیجه

می شود:

$$\beta < c + \alpha \Rightarrow \alpha - \beta > -c \text{ و } c > \beta - \alpha$$

باتوجه به دو نابرابری اخیر، مقدار A را، به این صورت می نویسیم:

$$A = (\alpha - \beta)^2c^2 + \alpha\beta c.c + (\alpha^3 + \beta^3 + \alpha^2\beta - 2\alpha\beta^2)c + \\ + \alpha^2\beta(\alpha - \beta) \geq (\alpha - \beta)^2c^2 + \alpha\beta(\beta - \alpha)c + (\alpha^3 + \beta^3 + \alpha^2\beta - \\ - 2\alpha\beta^2)c - \alpha^2\beta c = (\alpha - \beta)^2c^2 + (\alpha^3 + \beta^3 - \alpha^2\beta - \alpha\beta^2)c = \\ = (\alpha - \beta)^2c^2 + (\beta^2 - \alpha^2)(\beta - \alpha) > 0$$

۱۶۷. اگر طول ضلع های چهارضلعی را a, b, c و d بگیریم، وقتی که چهارضلعی، درعین حال، محیطی و محاطی باشد، برای مساحت آن داریم: $S = \sqrt{abcd}$ (چرا؟). بنابراین، باتوجه به نابرابری بین واسطه های حسابی و هندسی، می توان نوشت:

$$\frac{p}{2} = \frac{a+b+c+d}{4} \geq \sqrt[4]{abcd} = \sqrt{S} \Rightarrow p^2 \geq 4S$$

یادداشت: می توان ثابت کرد که، نابرابری $p^2 \geq 4S$ ، در بازه هر چهار ضلعی دلخواه درست است (چگونه؟).

۱۶۸. ابتدا يك اتحاد و يك نابرابری را درمثلث ثابت می کنیم:

$$tg \frac{\alpha}{\gamma} (\sin \beta + \sin \gamma) = \cos \beta + \cos \gamma \quad (1)$$

$$2 \sin \frac{\alpha}{\gamma} \sin \frac{\beta}{\gamma} \leq \frac{1}{\gamma} \left(tg \frac{\alpha}{\gamma} \sin \beta + tg \frac{\beta}{\gamma} \sin \alpha \right) \quad (2)$$

برای اثبات اتحاد (۱)، به ترتیب داریم:

$$\begin{aligned} tg \frac{\alpha}{\gamma} (\sin \beta + \sin \gamma) &= 2 \cotg \frac{\beta + \gamma}{\gamma} \sin \frac{\beta + \gamma}{\gamma} \cos \frac{\beta - \gamma}{\gamma} = \\ &= 2 \cos \frac{\beta + \gamma}{\gamma} \cos \frac{\beta - \gamma}{\gamma} = \cos \beta + \cos \gamma \end{aligned}$$

و برای اثبات نابرابری (۲)

$$2 \sin \frac{\alpha}{\gamma} \sin \frac{\beta}{\gamma} = \sqrt{tg \frac{\alpha}{\gamma} \sin \beta \cdot tg \frac{\beta}{\gamma} \sin \alpha} \leq \frac{1}{\gamma} \left(tg \frac{\alpha}{\gamma} \sin \beta + tg \frac{\beta}{\gamma} \sin \alpha \right)$$

اکنون، با استفاده از اتحاد (۱) و نابرابری (۲)، و رابطه های مشابه

آنها درمثلث، داریم:

$$\left(\sin \frac{\alpha}{\gamma} + \sin \frac{\beta}{\gamma} + \sin \frac{\gamma}{\gamma} \right)^2 = \sin^2 \frac{\alpha}{\gamma} + \sin^2 \frac{\beta}{\gamma} + \sin^2 \frac{\gamma}{\gamma} +$$

$$+ 2 \sin \frac{\alpha}{\gamma} \sin \frac{\beta}{\gamma} + 2 \sin \frac{\beta}{\gamma} \sin \frac{\gamma}{\gamma} + 2 \sin \frac{\gamma}{\gamma} \sin \frac{\alpha}{\gamma} \leq \sin^2 \frac{\alpha}{\gamma} + \sin^2 \frac{\beta}{\gamma} + \sin^2 \frac{\gamma}{\gamma} +$$

$$+ \frac{1}{\gamma} \left(tg \frac{\alpha}{\gamma} \sin \beta + tg \frac{\beta}{\gamma} \sin \alpha + tg \frac{\beta}{\gamma} \sin \gamma + tg \frac{\gamma}{\gamma} \sin \beta + tg \frac{\gamma}{\gamma} \sin \alpha +$$

$$+ tg \frac{\alpha}{\gamma} \sin \gamma \right) = \sin^2 \frac{\alpha}{\gamma} + \sin^2 \frac{\beta}{\gamma} + \sin^2 \frac{\gamma}{\gamma} + \frac{1}{\gamma} tg \frac{\alpha}{\gamma} (\sin \beta + \sin \gamma) +$$

$$\begin{aligned}
 & + \frac{1}{\sqrt{2}} \operatorname{tg} \frac{\beta}{\sqrt{2}} (\sin \alpha + \sin \gamma) + \frac{1}{\sqrt{2}} \operatorname{tg} \frac{\gamma}{\sqrt{2}} (\sin \alpha + \sin \beta) = \sin^2 \frac{\alpha}{\sqrt{2}} + \\
 & + \sin^2 \frac{\beta}{\sqrt{2}} + \sin^2 \frac{\gamma}{\sqrt{2}} + \cos \alpha + \cos \beta + \cos \gamma = \\
 & = \cos^2 \frac{\alpha}{\sqrt{2}} + \cos^2 \frac{\beta}{\sqrt{2}} + \cos^2 \frac{\gamma}{\sqrt{2}}
 \end{aligned}$$

۱۶۹. با توجه به نابرابری بین واسطه‌های حسابی و هندسی داریم:

$$\sqrt{2} \sin x + \sqrt{2} \operatorname{tg} x \geq 2\sqrt{\sqrt{2} \sin x + \operatorname{tg} x}$$

و بنا بر این، نابرابری مفروض را، در بازه $\left(0, \frac{\pi}{\sqrt{2}}\right)$ ، می‌توان این طور نوشت:

$$\sqrt{2}\sqrt{\sqrt{2} \sin x + \operatorname{tg} x} \geq \sqrt{2}^{x+1} \Rightarrow f(x) = \sin x + \operatorname{tg} x - \sqrt{2}^x \geq 0$$

برای $f(x)$ مشتق داریم:

$$f'(x) = \cos x + \frac{1}{\cos^2 x} - \sqrt{2} > \cos x + \frac{1}{\cos x} - \sqrt{2} > 0$$

زیرا اولاً $\frac{1}{\cos^2 x} > \frac{1}{\cos x}$ و ثانیاً برای مقدار مثبت $\cos x \neq 1$

داریم: $\cos x + \frac{1}{\cos x} > \sqrt{2}$. به این ترتیب $f(x)$ ، در بازه $\left(0, \frac{\pi}{\sqrt{2}}\right)$ صعودی

است و چون $f(0) = 0$ ، پس برای هر $0 < x < \frac{\pi}{\sqrt{2}}$ باید داشته باشیم

$f(x) > 0$. علامت برابری، تنها برای $x = 0$ است و اگر $x \neq 0$ ، نابرابری به صورت اکید خود برقرار است.

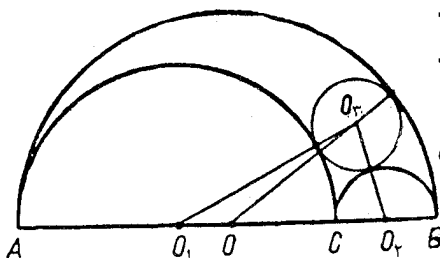
۱۷۰. برای $b > a > 0$ و $k > 0$ داریم: $\frac{b}{a} > \frac{b+k}{a+k}$ (پیش قضیه

رادر حل تمرین ۲، صفحه ۱۴۱ ببینید). بنا بر این، با توجه به ویژگی‌های لگاریتم، می‌توان نوشت:

$$\log_a \frac{b}{a} > \log_a \frac{b+k}{a+k} > \log_{a+k} \frac{b+k}{a+k}$$

که از آن نتیجه می شود:

$$\log_a b - 1 > \log_{a+k}(b+k) - 1 \Rightarrow \log_a b > \log_{a+k}(b+k)$$



شکل ۲۸

O_1, O_2, O_3 و O_4 را، به -

ترتیب، مرکز نیم دایره های -

قطرهای $|AB|$ ، $|AC|$ و $|CB|$

می گیریم (شکل ۲۸). دایره مماس

بر این سه نیم دایره را رسم و مرکز

آن را O_3 می نامیم.

درهندسه مسطحه، قضیه ای

داریم، به نام قضیه ستووارت* که بنا بر آن: اگر D را روی ضلع BC از مثلث

ABC (در هر نقطه دلخواه آن) بگیریم، آن وقت برابری زیر برقرار است:

$$|AD|^2 \cdot |BC| = |AB|^2 \cdot |CD| + |AC|^2 \cdot |BD| - |BC| \cdot |BD| \cdot |CD|$$

اکنون، اگر قضیه ستووارت را در مثلث $O_1 O_2 O_3$ در نظر بگیریم، داریم:

$$|O_3 O_1|^2 \cdot |O_1 O_2| = |O_1 O_3|^2 \cdot |O_1 O_2| + |O_2 O_3|^2 \cdot |O_1 O_2| - |O_1 O_2| \cdot |O_1 O_2| \cdot |O_1 O_2|$$

از طرف دیگر، روشن است که x و y ، به ترتیب، شعاع دایره های به

مرکزهای O_1 و O_2 :

$$|O_3 O_1| = x + y - R, |O_1 O_2| = x + y, |O_1 O_3| = x + R, |O_2 O_3| = y + R$$

(* ستووارت (*M. Stuart*)، ریاضی دان انگلیسی سده ۱۸، برای نخستین-

بار، این قضیه را در کتاب خود «برخی قضیه های عمومی» (سال ۱۷۳۶، ادین بورو)

ثبت کرد. از این قضیه، می توان برای محاسبه طول میانه یا نیمساز در مثلث،

استفاده کرد.

بنابراین، رابطه ستووارت، به این صورت درمی آید:

$$(x+y-R)^2(x+y) = (x+R)^2 \cdot x + (y+R)^2 \cdot y - xy(x+y)$$

از آن جا $R = \frac{xy(x+y)}{x^2+xy+y^2}$ چون $x^2+y^2 \geq 2xy$ بنابراین

$$R \leq \frac{xy(x+y)}{3xy} = \frac{x+y}{3} = \frac{1}{6} |AB|$$

۱۷۲. يك مثلث نمی تواند دو زاویه منفرجه داشته باشد، بنابراین،

$\hat{A} < 90^\circ$ ، $\hat{B} < 90^\circ$ در ضمن $tg \hat{A}$ و $tg \hat{B}$ هر دو مثبت اند و

$$tg \hat{A} tg \hat{B} = \frac{\sin \hat{A} \sin \hat{B}}{\cos \hat{A} \cos \hat{B}} < 1 \implies \cos(\hat{B} + \hat{A}) < 0$$

یعنی $\cos \hat{C} > 0$ و $\hat{C} < 90^\circ$. با همین روش می توان عکس قضیه را هم ثابت کرد.

۱۷۳. از نابرابری بین واسطه های حسابی و هندسی، دو بار استفاده

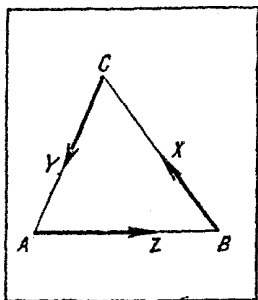
می کنیم؛ در ضمن، توجه داشته باشید که: $n\sqrt[n]{n} = \sqrt[n^{n+1}]{} = \sqrt[n^{n+2}]{} = \dots = \sqrt[n^{2n-1}]{} = \sqrt[n^{n+1}]{} \dots \sqrt[n^{2n-1}]{} = \sqrt[n^{n+1} \cdot n^{n+2} \cdot \dots \cdot n^{2n-1}]{} \geq$

$$\begin{aligned} & \sqrt[n]{n} + \sqrt[n+1]{n} + \dots + \sqrt[2n-1]{n} = \\ & = \frac{\sqrt[n]{n^{n+1}} + \sqrt[n+1]{n^{n+2}} + \dots + \sqrt[2n-1]{n^{2n-1}}}{n} \geq \\ & \geq \left(\sqrt[n]{n^{n+1}} \cdot \sqrt[n+1]{n^{n+2}} \dots \sqrt[2n-1]{n^{2n-1}} \right)^{\frac{1}{n}} = \left(n^{\frac{n+1}{n} + \frac{n+2}{n+1} + \dots + \frac{2n-1}{2n-1}} \right)^{\frac{1}{n}} \geq \\ & \geq \left(n^{\frac{n+1}{n} \cdot \frac{n+2}{n+1} \dots \frac{2n-1}{2n-1}} \right)^{\frac{1}{n}} = (n^2)^{\frac{1}{n}} = (n^2)^{\frac{1}{2}} \end{aligned}$$

۱۷۴. چون $\frac{x}{y} \geq \frac{1}{y} \geq \frac{1}{z}$ و $\frac{z}{t} \geq \frac{z}{100}$ ، بنابراین

$$\frac{x}{y} + \frac{z}{t} \geq \frac{1}{z} + \frac{z}{100} \geq 2\sqrt{\frac{1}{z} \cdot \frac{z}{100}} = \frac{1}{5}$$

حداقل مقدار $\frac{x}{y} + \frac{z}{t}$ برابر است با $\frac{1}{5}$ که به ازای $x=1$ ، $y=z=10$ و $t=100$ به دست می آید.



شکل ۲۹

۱۷۵. مثلثی با زاویه‌های α ، β و γ می‌سازیم که طول ضلع‌های آن، به ترتیب، از x ، y و z بزرگتر باشند (شکل ۲۹). پاره خط‌های راست BX ، CY و AZ را با طول‌هایی، به ترتیب، برابر x ، y و z ، روی AB و CA ، BC جدا می‌کنیم. داریم:

$$(\vec{BX} + \vec{CY} + \vec{AZ})^2 \geq 0 \quad (1)$$

در ضمن روشن است که

$$\widehat{(\vec{BX}, \vec{CY})} = 180^\circ - \gamma \Rightarrow \cos(180^\circ - \gamma) = -\cos\gamma$$

و در رابطه‌ی مشابه آن، اکنون، اگر پرانتز سمت سمت چپ را درنا برابری (۱) بازکنیم، به دست می‌آید:

$$x^2 + y^2 + z^2 - 2yz\cos\alpha - 2zx\cos\beta - 2xy\cos\gamma \geq 0$$

با توجه به (۱)، علامت نا برابری وقتی به برابری تبدیل می‌شود که داشته باشیم:

$$\vec{BX} + \vec{CY} + \vec{AZ} = \vec{0}$$

یعنی، وقتی به برابری می‌رسیم که، مثلث انتخابی ABC ، ضلع‌هایی به طول برابر x ، y و z و زاویه‌هایی برابر α ، β و γ داشته باشد.

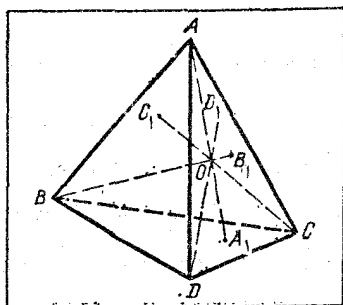
۱۷۶. روشن است که (شکل ۳۰)

$$V_{ABCD} = V_{OABC} + V_{OB CD} + V_{OCDA} + V_{ODAB}$$

در ضمن می‌دانیم، حجم دو هرم با قاعده‌های هم‌ارز، به نسبت ارتفاع‌های دو هرم است. بنابراین

$$\frac{|OA_1|}{|AA_1|} + \frac{|OB_1|}{|BB_1|} + \frac{|OC_1|}{|CC_1|} + \frac{|OD_1|}{|DD_1|} = 1$$

که به ترتیب، می‌توان آن را این‌طور نوشت:



شکل ۳۰

$$\frac{|AA_1| - R}{|AA_1|} + \frac{|BB_1| - R}{|BB_1|} + \frac{|CC_1| - R}{|CC_1|} + \frac{|DD_1| - R}{|DD_1|} = 1;$$

$$\frac{1}{|AA_1|} + \frac{1}{|BB_1|} + \frac{1}{|CC_1|} + \frac{1}{|DD_1|} = \frac{4}{R}$$

از طرف دیگر، این نابرابری واضح است (مسأله ۱۱ را در داخل متن فصل دوم ببینید):

$$(|AA_1| + |BB_1| + |CC_1| + |DD_1|) \times \left(\frac{1}{|AA_1|} + \frac{1}{|BB_1|} + \frac{1}{|CC_1|} + \frac{1}{|DD_1|} \right) \geq 4^2$$

$$\cdot |AA_1| + |BB_1| + |CC_1| + |DD_1| \geq \frac{16}{3} R$$

۱۷۷. به ترتیب داریم:

$$|a_1 + 2a_2 + \dots + na_n| = |f'(0)| = \lim_{x \rightarrow 0} \left| \frac{f(x) - f(0)}{x - 0} \right| =$$

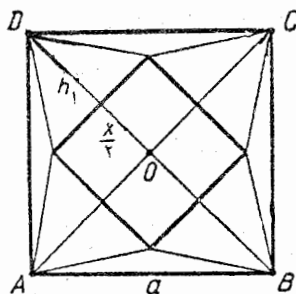
$$= \lim_{x \rightarrow 0} \left| \frac{f(x)}{x} \right| = \lim_{x \rightarrow 0} \left| \frac{f(x)}{\sin x} \right| \cdot \left| \frac{\sin x}{x} \right| = \lim_{x \rightarrow 0} \left| \frac{f(x)}{\sin x} \right| \leq 1$$

۱۸۷. اگر از نابرابری بین واسطه‌های حسابی و هندسی استفاده کنیم،

بلافاصله به دست می‌آید:

$$\frac{a_1}{b_1} + \frac{a_2}{b_2} + \dots + \frac{a_n}{b_n} \geq n \sqrt[n]{\frac{a_1}{b_1} \cdot \frac{a_2}{b_2} \dots \frac{a_n}{b_n}} = n$$

۰۱۲۹. طول ضلع قاعده هرم را x و طول ارتفاع آن را h می‌گیریم (شکل ۳۱).
در این صورت



شکل ۳۱

$$h = \sqrt{\left(\frac{a\sqrt{2}}{2} - \frac{x}{2}\right)^2 - \left(\frac{x}{2}\right)^2} = \sqrt{\frac{a}{\sqrt{2}}\left(\frac{a}{\sqrt{2}} - x\right)}$$

و برای حجم هرم خواهیم داشت:

$$V = \frac{1}{3} x^2 h = \frac{1}{3} x^2 \sqrt{\frac{a}{\sqrt{2}}\left(\frac{a}{\sqrt{2}} - x\right)} = \frac{16}{3} \sqrt{\frac{a}{\sqrt{2}}\left(\frac{x}{4}\right)^4\left(\frac{a}{\sqrt{2}} - x\right)}$$

این حجم وقتی حداکثر می‌شود که تابع $f(x) = \left(\frac{x}{4}\right)^4\left(\frac{a}{\sqrt{2}} - x\right)$ به

ماکزیم خود برسد. روشن است که

$$f(x) = \frac{x}{4} \cdot \frac{x}{4} \cdot \frac{x}{4} \cdot \frac{x}{4} \left(\frac{a}{\sqrt{2}} - x\right)$$

مجموع پنج عامل ضرب مقدار ثابتی است، بنابراین حاصل ضرب آن‌ها، وقتی

به حداکثر خود می‌رسد که این عامل‌ها باهم برابر باشند: $\frac{x}{4} = \frac{a}{\sqrt{2}} - x$ یا

$x = \frac{2a\sqrt{2}}{5}$. به این ترتیب، حجم هرم، وقتی حداکثر مقدار ممکن است که

طول ضلع قاعده آن، برابر $\frac{2}{5}$ طول قطر مربع باشد و در این صورت، حجم هرم

برابر $\frac{8a^3}{75\sqrt{10}}$ می‌شود.

۰۱۸۰ داریم:

$$a^2 + b^2 + c^2 + d^2 + e^2 - (ab + ac + ad + ae) = \left(\frac{a}{2} - b\right)^2 + \left(\frac{a}{2} - c\right)^2 + \left(\frac{a}{2} - d\right)^2 + \left(\frac{a}{2} - e\right)^2 \geq 0$$

علامت برابری، برای $\frac{a}{y} = b = c = d = e$

۰۱۸۱ به ترتیب داریم:

$$\begin{aligned} f(x, y, z, t) &= 1 + \left(\frac{ax^2 + by^2}{ax + by} - 1 \right) + \frac{az^2 + bt^2}{az + bt} = \\ &= 1 + \frac{-axz - byt}{ax + by} + \frac{az^2 + bt^2}{az + bt} = 1 + \frac{ab(z-t)(zy - xt)}{(ax + by)(az + bt)} = \\ &= 1 + \frac{ab(z-t)[z(1-t) - t(1-z)]}{(ax + by)(az + bt)} = 1 + \\ &\quad + \frac{ab(z-t)^2}{(ax + by)(az + bt)} \end{aligned}$$

عبارت اخیر نشان می‌دهد که، حداقل مقدار $f(x, y, z, t)$ برابر است با ۱، که به ازای $z = t$ به دست می‌آید.

از شرط‌های مسأله نتیجه می‌شود که $0 \leq x, y, z, t \leq 1$ و از آن‌جا

$$ax^2 \leq ax, \quad by^2 \leq by, \quad az^2 \leq az, \quad bt^2 \leq bt$$

یعنی $ax^2 + by^2 \leq ax + by$ و $az^2 + bt^2 \leq az + bt$. در نتیجه

$$f(x, y, z, t) \leq 2$$

برابری، به ازای $x = t = 0$ و $y = z = 1$ به دست می‌آید.

پاسخ. $1 \leq f(x, y, z, t) \leq 2$.

۰۱۸۲ $y = -x$ می‌گیریم، به این معادله می‌رسیم:

$$y^{37} - y^8 - 1 = 0 \quad (1)$$

اگر $y \leq 1$ ، آن وقت $f(y) = y^{37} - y^8 - 1 < 0$ ، یعنی $f(y) = 0$ ،

برای $y \leq 1$ ریشه‌ای ندارد. $y > 1$ می‌گیریم. داریم:

$$f(y) + 1 = y^{37} - y^8 = y^8(y^{29} - 1)$$

که برابر است با حاصل ضرب دو تابع صعودی مثبت، در بازه $y > 1$ ؛ یعنی تابع $f(y)$ تابعی یکنوا (یا صعودی و یا نزولی) است و معادله (۱) نمی‌تواند

بیش از یک ریشه داشته باشد. از طرف دیگر، معادله مفروض درجه‌ای فرد دارد و می‌دانیم، هر معادله از درجه فرد، دست کم یک ریشه حقیقی دارد. ۰۱۸۳ برای این که عدد $4ab + 22a + 47b$ بر $a^2 + 7b^2 + 811$ بخش پذیر باشد، باید داشته باشیم:

$$4ab + 22a + 47b \geq a^2 + 7b^2 + 811$$

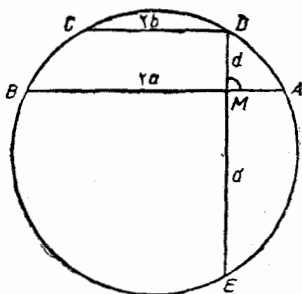
$$a^2 - 2(2b + 11)a + 7b^2 - 47b + 811 \geq 0 \quad (1)$$

و برای این که، سه جمله‌ای درجه دوم سمت چپ نا برابری، ریشه‌های حقیقی داشته باشد:

$$-3b^2 + 91b - 690 \geq 0 \Rightarrow 15 \leq b \leq 15 \frac{1}{3}$$

چون b عددی طبیعی است، پس $b = 15$ ، از آن جا $a = 41$. به ازای این مقادیر a و b ، نا برابری (۱) به برابری تبدیل می‌شود و در نتیجه:

$$4ab + 22a + 47b = a^2 + 7b^2 + 811$$



شکل ۳۲

۰۱۸۴ راه حل اول.

$|AD| > |CD|$ می‌گیریم و فرض می‌کنیم و تر DE در نقطه M بر وتر AB عمود باشد (شکل ۳۲). طبق فرض $|AB| = 2a$ ، $|CD| = 2b$ و $|DM| = d$ ؛ بنابراین

$$|AM| = \frac{1}{2} (|AB| - |CD|) =$$

$$= a - b ; |BM| = a + b$$

چون $|EM| = d'$ پس با فرض $|AM| \cdot |MB| = |DM| \cdot |EM|$

$$d \cdot d' = a^2 - b^2$$

اگر وترهای AB و CD در یک طرف مرکز دایره باشند، باید داشته

$$d < d' \text{ و } d^2 < a^2 - b^2 \quad (a > b) \quad \text{باشیم:}$$

واگر وترهای AB و CD در دو طرف مختلف مرکز دایره باشند:

$$d > d' \text{ و } d^2 > a^2 - b^2 \quad (a > b)$$

عکس قضیه هم درست است: به ازای $a > b$ ، از برابری $d \cdot d' = a^2 - b^2$ و نابرابری $d^2 < a^2 - b^2$ نتیجه می شود $d < d'$ ؛ و از همان برابری و نابرابری $d^2 > a^2 - b^2$ به دست می آید: $d > d'$.

داده حل دوم. مبدا مختصات

را در مرکز دایره و محور طول

را موازی با وترهای AB و CD

در نظر می گیریم (شکل ۳۳).

فرض می کنیم: $B(a, y_1)$ و

$C(b, y_2)$. طبق فرض

$|y_2 - y_1| = d$ ؛ به جز آن،

نقطه های B و C به دایره مفروض

تعلق دارند:

$$a^2 + y_1^2 = b^2 + y_2^2 = R^2$$

و از آنجا

$$a^2 - b^2 = y_2^2 - y_1^2, \quad |a^2 - b^2| = |y_2 - y_1| \cdot |y_2 + y_1|$$

$$|y_2 + y_1| = \frac{|a^2 - b^2|}{d} \quad \text{یعنی}$$

برای این که مرکز دایره، در داخل ذوزنقه $ABCD$ باشد، لازم و کافی

است که y_1 و y_2 ، علامت های متفاوتی داشته باشند. در این حالت

$$|y_2 + y_1| < |y_2 - y_1| = d$$

$$\cdot |a^2 - b^2| < d^2 \quad \text{یعنی}$$

در حالتی که مرکز دایره در بیرون ذوزنقه $ABCD$ قرار گیرد، y_1 و y_2

هم علامت اند و

$$|y_2 + y_1| > |y_2 - y_1|$$

یعنی $|a^x - b^x| > d^x$

۰۱۸۵ با توجه به نابرابری بین واسطه‌های حسابی و هندسی (برای

$a+b$ عدد مثبت) داریم:

$$\begin{aligned} 2\sqrt[a+b]{a^x b^x} &= 2\sqrt[a+b]{\underbrace{a^x a^x \dots a^x}_{b \text{ مرتبه}} \cdot \underbrace{b^x b^x \dots b^x}_{a \text{ مرتبه}}} \leq \\ &\leq 2 \times \frac{\overbrace{a^x + a^x + \dots + a^x}^{b \text{ مرتبه}} + \overbrace{b^x + b^x + \dots + b^x}^{a \text{ مرتبه}}}{a+b} = \\ &= \frac{2(a^x b + ab^x)}{a+b} = 2ab \leq a^x + b^x \end{aligned}$$

یادداشت. شرط طبیعی بودن دو عدد a و b لازم نیست؛ کافی است دو عدد a و b مثبت باشند.

برای دو عدد مثبت a و b ، همیشه داریم $\left(\frac{a}{b}\right)^{a-b} > 1$. در واقع، اگر

$a > b$ ، آن وقت $\frac{a}{b} > 1$ و $a - b > 0$ ؛ و اگر $a < b$ ، آن وقت $\frac{a}{b} < 1$ و

$a - b < 0$ ؛ و در هر دو حالت $\left(\frac{a}{b}\right)^{a-b} > 1$. سپس داریم:

$$\begin{aligned} a^x + b^x &\geq 2ab = 2\sqrt[a+b]{a^{a+b} \cdot b^{a+b}} = 2\sqrt[a+b]{a^x b^x \left(\frac{a}{b}\right)^{a-b}} \leq \\ &\leq 2\sqrt[a+b]{a^x b^x} \end{aligned}$$

۰۱۸۶ اگر M را مرکز دایره محاطی مثلث ABC بگیریم، می‌دانیم

$$\vec{aM} + \vec{bM} + \vec{cM} = \vec{0}$$

گزاره عکس هم درست است. بنابراین، برای هر نقطه M از فضا، به شرطی

که بر M_0 منطبق نباشد

$$\vec{a}MA + \vec{b}MB + \vec{c}MC = \mathbf{s} \neq \mathbf{0}$$

در نتیجه $\mathbf{s}^2 = (\vec{a}MA + \vec{b}MB + \vec{c}MC)^2 \geq 0$ که بعد از باز کردن پرانتز

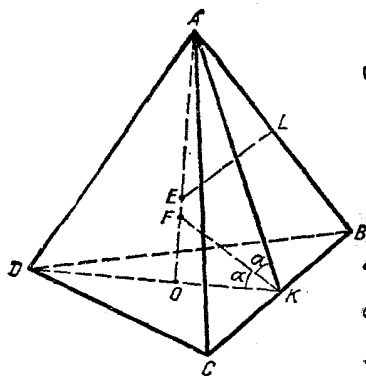
$$a^2a^2 + b^2b^2 + c^2c^2 + ab(a^2 + b^2 - c^2) + bc(b^2 + c^2 - a^2) + ca(c^2 + a^2 - b^2) \geq 0;$$

$$a^2(a^2 + ab + ac) + b^2(b^2 + ba + bc) + c^2(c^2 + ca + cb) \geq \\ \geq abc \cdot 2p$$

که اگر دو طرف را به $2p = a + b + c$ ساده کنیم، نتیجه می شود:

$$aa^2 + bb^2 + cc^2 \geq abc$$

علامت برابری، تنها وقتی پیش می آید که، نقطه M ، بر مرکز دایره محاطی مثلث ABC منطبق باشد.



شکل ۳۴

۱۸۷. E را مرکز کره محیطی

و F را مرکز کره محاطی می گیریم (شکل ۳۴). در این صورت

$$|AE| = R, \quad |OF| = r$$

زاویه دوجهی بین قاعده و وجه جانبی هرم را 2α می نامیم و از نقطه E ، عمود EL را بر یال AB رسم می کنیم. دو مثلث AOB و ALE متشابه اند و

$$|AL| = \frac{1}{2} |AB| \quad \text{و}$$

$$|AE| : |AL| = |AB| : |AO|, \quad 2|AE| \cdot |AO| = |AB|^2,$$

$$2|AE| \cdot |AO| = |AO|^2 + |BO|^2 \quad (1)$$

ولی $[KF]$ نیمساز زاویه AKO است، بنا بر این

$$|AO| = |KO| \operatorname{tg} 2\alpha = |OF| \operatorname{cotg} \alpha \operatorname{tg} 2\alpha = r \operatorname{cotg} \alpha \operatorname{tg} 2\alpha \quad (2)$$

چون $|BO| = 2|KO|$ ، پس

$$|BO| = 2|KO| = 2|OF| \operatorname{cotg} \alpha = 2r \operatorname{cotg} \alpha \quad (3)$$

(2) و (3) را در (1) قرار می‌دهیم، به دست می‌آید:

$$2R \operatorname{cotg} \alpha \operatorname{tg} 2\alpha = r^2 \operatorname{cotg}^2 \alpha \operatorname{tg}^2 2\alpha + 2r^2 \operatorname{cotg}^2 \alpha$$

که بعد از تبدیل‌های ساده خواهیم داشت:

$$\frac{r}{R+r} = \operatorname{tg}^2 \alpha (1 - \operatorname{tg}^2 \alpha) = \frac{1}{4} - \left(\operatorname{tg} \alpha - \frac{1}{4} \right)^2 \leq \frac{1}{4}$$

یعنی $R \geq 3r$ یا $2r \leq R+r$

۱۸۸. فرض می‌کنیم: $1 + \frac{1}{2} + \frac{1}{3} + \dots + \frac{1}{n} = S_n$. اگر دو طرف

نابرابری مورد نظر را در $n+1$ ضرب کنیم، می‌توانیم آن را به این صورت بنویسیم:

$$S_{2n} - \frac{1}{2} S_n > \frac{n+1}{2n} S_n \Rightarrow S_{2n} - S_n > \frac{1}{2n} S_n$$

از آن جا: $\frac{1}{n+1} + \frac{1}{n+2} + \dots + \frac{1}{2n} > \frac{1}{2n} + \frac{1}{2n} + \dots + \frac{1}{2n}$ و

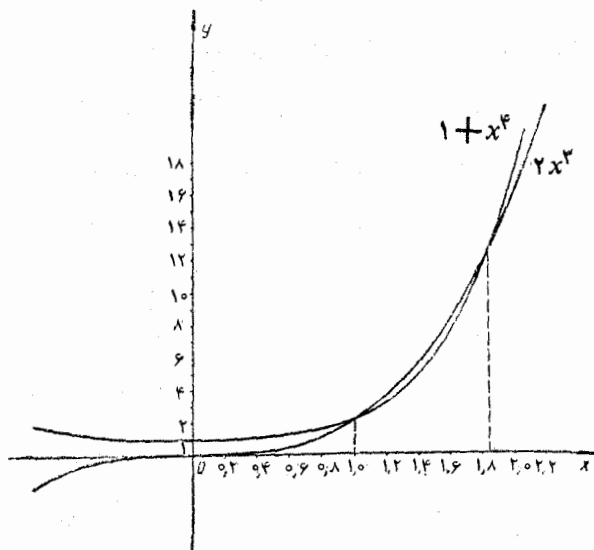
این نابرابری درست است، زیرا هر جمله سمت چپ، از جمله نظیر خود در سمت راست بزرگتر است.

۱۸۹. برای $ab \leq 0$ ، نابرابری برقرار است، زیرا اگر $ab < 0$ ، آن

وقت سمت چپ نابرابری مثبت و سمت راست آن منفی می‌شود؛ درحالتی که تنها یکی از دو مقدار a یا b صفر باشد، باز هم نابرابری برقرار است و در حالت $a = b = 0$ ، نابرابری به برابری تبدیل می‌شود.

اکنون فرض می‌کنیم $ab > 0$. دو طرف نابرابری را بر a^4 (که مقداری

مثبت است) تقسیم می‌کنیم و $\frac{b}{a}$ را x می‌نامیم. چون a و b هم علامت‌اند، پس



شکل ۳۵

$x > 0$. به این ترتیب، به نا برابری $1 + x^4 \geq 2x^3$ می‌رسیم. نمودار تابع‌های $y = 1 + x^4$ و $y = 2x^3$ را رسم می‌کنیم (شکل ۳۵؛ در این شکل، برای روشن‌تر بودن نقطه‌های برخورد دو منحنی، واحد محور طول را ۱۰ برابر واحد محور عرض گرفته‌ایم). علامت برابری در دو حالت پیش می‌آید: به ازای $x_1 = 1$ و به ازای x_2 که مقداری است بین $1/8$ و $1/9$. مقدار تقریبی x_2 را می‌توان محاسبه کرد: $x_2 \approx 1/84$ (اگر دقیق‌تر محاسبه کنیم، به دست می‌آید: $1/8392237 \approx x_2$ که، به ازای آن، مقدار $1 + x^4$ و هم مقدار $2x^3$ ، به تقریب برابر $12/4445$ می‌شوند). روی شکل روشن است که، برای $x < 1$ و $x > x_2$ داریم $1 + x^4 > 2x^3$ و برای $1 < x < x_2$ داریم $1 + x^4 < 2x^3$.

پاسخ. نا برابری $a^4 + b^4 \geq 2ab^3$ وقتی برقرار است که: a و b علامت‌های مختلف داشته باشند؛ (۲) یکی از آن‌ها برابر صفر و دیگری دلخواه

باشد؛ ۳) $\frac{b}{a} \leq 1$ ، یعنی $0 < b \leq a$ یا $0 < b < a \leq 1$ یا $\frac{b}{a} \geq k$ که در آن

یعنی $b \leq ka < 0$ یا $b \geq ka > 0$ ، $k \approx 1/84$

۰۱۹۰. قرار می‌گذاریم: $\log_{n!} n = x$ ، $\log_{n!} (n-1) = y$

$\log_{n!} (n-2)! = z$ در این صورت

$$x + y + z = \log_{n!} n(n-1)(n-2)! = \log_{n!} n! = 1 \quad (*)$$

اکنون بردارهای $\mathbf{a}(x, y, z)$ و $\mathbf{e}(1, 1, 1)$ را در نظر می‌گیریم. بنا بر

۰۱۹۱: $\mathbf{a} \cdot \mathbf{e} = 1$ چون $|\mathbf{a}|^2 \cdot |\mathbf{e}|^2 = (\mathbf{a} \cdot \mathbf{e})^2$ پس

$$1 \leq 3(x^2 + y^2 + z^2)$$

ولی بردارهای \mathbf{a} و \mathbf{e} هم راستا نیستند، بنا بر این $\frac{1}{3} > x^2 + y^2 + z^2$

۰۱۹۱* ضمن محاسبه، همه کمان‌ها را بر حسب درجه در نظر گرفته‌ایم،

ولی علامت درجه را برای سهولت کار نگذاشته‌ایم. از نابرابری روشن

$$\frac{27}{64} \operatorname{tg} \frac{1}{64} < 3 \operatorname{tg} \frac{27}{64}$$

$$\frac{\sin \frac{1}{64}}{\cos \frac{1}{64}} < \frac{3 \sin \frac{27}{64}}{\cos \frac{27}{64}} \Rightarrow \sin \frac{1}{64} \cos \frac{27}{64} < 3 \sin \frac{27}{64} \cos \frac{1}{64}$$

دوطرف نابرابری را در $2 \sin \frac{1}{64}$ ضرب و، سپس طرف بزرگتر را به تفاضل

دوکسینوس تبدیل می‌کنیم:

$$2 \cos \frac{27}{64} - 3 \cos \frac{31}{64} > 2 \sin^2 \frac{1}{64} \cos \frac{27}{64}$$

*) همه محاسبه‌های این مسأله را، همکار محترم آقای محمد رضا هاشمی

موسوی انجام داده‌اند.

$$3 \cos \frac{31}{64} < 3 \cos \frac{27}{64} - 4 \sin^2 \frac{1}{64} \cos \frac{27}{64}$$

دوباره دوطرف را در $\sin \frac{1}{64}$ ضرب می‌کنیم:

$$3 \sin \frac{1}{64} \cos \frac{31}{64} < \cos \frac{27}{64} \left(3 \sin \frac{1}{64} - 4 \sin^3 \frac{1}{64} \right) = \cos \frac{27}{64} \sin \frac{3}{64}$$

که با تبدیل دوطرف به مجموع، به دست می‌آید:

$$3 \sin \frac{1}{4} - 3 \sin \frac{15}{32} < \sin \frac{15}{32} - \sin \frac{12}{32}$$

که از آن، نابرابری اول ابوالوفا نتیجه می‌شود:

$$\sin \left(\frac{1}{2} \right)^\circ < \frac{4}{3} \sin \left(\frac{15}{32} \right)^\circ - \frac{1}{3} \sin \left(\frac{12}{32} \right)^\circ$$

اکنون به نابرابری دوم ابوالوفا می‌پردازیم. این نابرابری واضح است:

$$\cos \frac{1}{64} \sin \frac{32}{64} + \sin \frac{2}{64} \sin \frac{33}{64} > 0$$

که با تبدیل به مجموع، به این صورت درمی‌آید:

$$\cos \frac{31}{64} > \frac{1}{2} \left[\cos \frac{33}{64} + \cos \frac{35}{64} \right]$$

و یا

$$\cos \frac{31}{64} > \cos \frac{1}{64} \cos \frac{34}{64}$$

دوطرف را در $2 \sin \frac{1}{64}$ ضرب، و سپس، به مجموع تبدیل می‌کنیم:

$$2 \sin \frac{32}{64} - 2 \sin \frac{30}{64} > \sin \frac{36}{64} - \sin \frac{32}{64}$$

و از آنجا نابرابری مورد نظر به دست می‌آید:

$$\sin \left(\frac{1}{2} \right)^\circ > \frac{2}{3} \sin \left(\frac{15}{32} \right)^\circ - \frac{1}{3} \sin \left(\frac{18}{32} \right)^\circ$$

یادداشت. به کمک نابرابری‌های ابوالوفا، برای $\sin 30'$ به دست می‌آید:

$$0/008724 < \sin 30' < 0/008728$$

یعنی مقدار $\sin 30'$ تا پنج رقم بعد از ممیز برابر است با $0/00872$

۱۹۲. فرض می‌کنیم $f(x) = \sqrt{x-2} + \sqrt{8-2x}$ که در بازه

[۲، ۴] معین است. داریم:

$$f'(x) = \frac{1}{2\sqrt{x-2}} - \frac{1}{\sqrt{8-2x}} = \frac{\sqrt{8-2x} - 2\sqrt{x-2}}{2\sqrt{(x-2)(8-2x)}}$$

که به ازای $x = \frac{8}{3}$ برابر صفر، به ازای $x < \frac{8}{3}$ مثبت و به ازای $x > \frac{8}{3}$ منفی

است؛ یعنی تابع f در نقطه $x = \frac{8}{3}$ در بازه (۲، ۴) به ماکزیمم خود می‌رسد. چون

$$f(2) = 2, f(4) = \sqrt{2}, f\left(\frac{8}{3}\right) = \sqrt{6}$$

بنابراین، حداکثر مقدار f در نقطه $x = \frac{8}{3}$ و حداقل آن در نقطه $x = 4$ به دست

می‌آید. تابع f پیوسته است، در نتیجه، برد آن عبارت است از بازه $[\sqrt{2}, \sqrt{6}]$. به این ترتیب، معادله مفروض، وقتی جواب دارد که داشته

$$\sqrt{2} \leq a \leq \sqrt{6}$$

یادداشت. در حل این مسأله، از قضیه‌ای استفاده کرده‌ایم که یکی از مهم‌ترین

قضیه‌ها، درباره تابع‌های پیوسته است. این قضیه (قضیه بولتسانو - کوشی)

می‌گوید: اگر تابع f در بازه $[a, b]$ پیوسته باشد و داشته باشیم $f(a) = A$

و $f(b) = B$ و $A < C < B$ ، آن وقت عدد $c \in (a, b)$ وجود دارد، به نحوی

که برای آن داشته باشیم: $f(c) = C$. ولی اثبات دقیق این قضیه، از برنامه

دیفرانسیال تجاوز می‌کند. با وجود این، می‌توان درستی آن را به کمک نمودار، به

سادگی درک کرد و، به همین مناسبت، هیچ اشکالی در استفاده از آن وجود ندارد.

۱۹۳. دامنه تابع f عبارت است از بازه $\left[\frac{2}{3}, +\infty\right)$. در بازه

داریم: $\left(\frac{2}{3}, +\infty\right)$

$$f'(x) = \frac{3}{2\sqrt{3x-2}} - \frac{1}{\sqrt{2x-1}} = \frac{3\sqrt{2x-1} - 2\sqrt{3x-2}}{2\sqrt{(3x-2)(2x-1)}}$$

و روشن است که برای $x > \frac{2}{3}$ داریم $f'(x) > 0$. تابع f در بازه

$\left(\frac{2}{3}, +\infty\right)$ صعودی است و، بنابراین، معادله $f(x) = 4$ نمی تواند بیش

از يك جواب داشته باشد.

از طرف دیگر، اگر عدد «بزرگی» مثل $x = 200$ را در نظر بگیریم،

داریم:

$$f(200) = \sqrt{598} - \sqrt{399} > 24 - 19 > 4$$

f ، تابعی است پیوسته و چون $f(1) = 0$ ، بنابراین همه مقادیرهای بین

$f(1) = 0$ و $f(200) > 4$ ، و جمله $f(x) = 4$ را قبول می کند. به این

ترتیب، معادله مفروض، درست يك جواب دارد.

$$f(x) = |6x - 5| \cdot 0.194$$

$$g(x) = 4 \sin \frac{\pi}{3} x$$

می گیریم. با رسم نمودارهای f و g ، بلافاصله

متوجه می شویم که، معادله مفروض، جوابی در بازه

$\left[0, \frac{5}{6}\right]$ و جوابی بزرگتر از $\frac{5}{6}$ دارد (شکل ۳۶).

صورت مسأله، به ما تلقین می کند که باید این جواب-

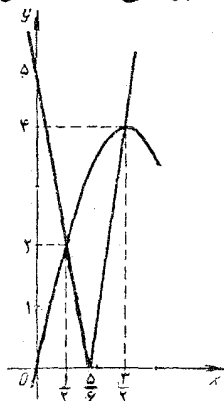
ها، «عددهای خوبی» باشند، زیرا در غیر این صورت،

نخواهیم توانست آن ها را، با دقت پیدا کنیم. آزمایش مستقیم نشان می دهد که

$x_1 = \frac{1}{4}$ و $x_2 = \frac{3}{4}$ و تنها این می ماند که ثابت کنیم، معادله مفروض، جواب

دیگری ندارد. به این نکته توجه می کنیم که، معادله مفروض، تنها وقتی می تواند

جواب داشته باشد که داشته باشیم:



شکل ۳۶

$$|6x - 5| \leq 4 \Rightarrow \frac{1}{6} \leq x \leq \frac{3}{2}$$

بازه $\left[\frac{1}{6}, \frac{3}{2}\right]$ را به دو بازه $\left[\frac{1}{6}, \frac{5}{6}\right]$ و $\left(\frac{5}{6}, \frac{3}{2}\right]$ تقسیم می‌کنیم.

در بازه $\left[\frac{1}{6}, \frac{5}{6}\right]$ ، تابع f نزولی و تابع g صعودی است (چرا؟)،

به نحوی که معادله $f(x) = g(x)$ نمی‌تواند بیش از یک جواب در این بازه داشته باشد. در بازه $\left(\frac{5}{6}, \frac{3}{2}\right]$ ، هر دو تابع صعودی اند. بنابراین، اثبات


منجر به این می‌شود که توجه کنیم، در این بازه، تابع g کندتر از تابع f ترقی می‌کند. به زبان دقیق‌تر $g'(x) < f'(x)$ و، در نتیجه، $f(x) - g(x)$ تابعی

صعودی است. برای $x \in \left(\frac{5}{6}, \frac{3}{2}\right]$ داریم:

$$f'(x) - g'(x) = 6 - \frac{4\pi}{3} \cos \frac{\pi}{3} x \geq 6 - \frac{4\pi}{3} > 0$$

بنابراین، $f - g$ تابعی صعودی است. بنابراین، حداکثر مقدار خود را در انتهای سمت راست بازه مورد نظر پیدا می‌کند:

$$h_{max} = h\left(\frac{3}{2}\right) = 0$$



شکل ۳۷

به نحوی که در بازه $\left(\frac{5}{6}, \frac{3}{2}\right)$ ،

داریم $h(x) < 0$ ، یعنی $f(x) < g(x)$ و معادله اصلی، جوابی در این بازه ندارد.

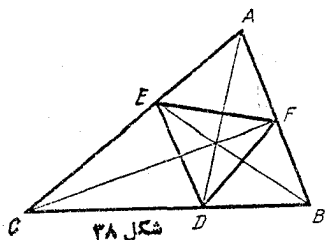
۰۹۵ نمودار تابع

$y = \sqrt{2x - 1}$ را رسم و توجه می‌کنیم که معادله مفروض وقتی جواب ندارد که خط راست $y = x + a$ ، همه جا در بالای نمودار f باشد، یعنی وقتی که این خط راست در بالای خط مماس بر نمودار (باضریب زاویه برابر (۱) قرار گیرد. بنابراین، مسأله به این جا منجر می‌شود که مماسی باضریب زاویه

واحد بر منحنی نمودار رسم کنیم. معادله این مماس $y = x$ و مختصات نقطه تماس، $A(1,1)$ می شود؛ این خط راست متناظر است با مقدار $a = 0$.

به این ترتیب، نامعادله مفروض، برای $a \leq 0$ جواب دارد.

۱۹۶۰. با توجه به شکل ۳۸ داریم:



$$S_{DEF} = S_{ABC} - S_{AFE} - S_{BDF} - S_{CED} \quad (1)$$

از طرف دیگر: $S_{AFE} = \frac{|AE| \cdot |AF| \cdot \sin \hat{A}}{2}$. فرض می کنیم $|BC| = a$

با توجه به ویژگی نیمساز داخلی مثلث: $|AB| = c$, $|AC| = b$

$$|AE| = \frac{bc}{a+c}, \quad |AF| = \frac{bc}{a+b}$$

بنابراین

$$S_{AFE} = \frac{b^2 c^2 \sin \hat{A}}{2(a+b)(a+c)} = \frac{bc S_{ABC}}{(a+b)(a+c)} \quad (2)$$

به همین ترتیب

$$S_{BDF} = \frac{ac S_{ABC}}{(b+c)(a+b)}, \quad S_{CED} = \frac{ab S_{ABC}}{(a+c)(b+c)} \quad (3)$$

به این ترتیب، با توجه به (۱) و (۲) و (۳) به دست می آید:

$$S_{DEF} = \frac{2abc S_{ABC}}{(a+b)(b+c)(a+c)}$$

از طرف دیگر، با توجه به نابرابری بین واسطه‌های حسابی و هندسی

داریم:

$$(a+b)(a+c)(b+c) \geq 2\sqrt{ab} \cdot 2\sqrt{ac} \cdot 2\sqrt{bc} = 8abc$$

بنابراین $S_{DEF} \leq \frac{S_{ABC}}{4}$. علامت برابری، وقتی پیش می آید که داشته باشیم:

$a = b = c$ ، یعنی برای مثلث متساوی الاضلاع.

(پایان)